

جزوه

آمادگی امتحان نهایی زیست‌شناسی دوازدهم

مای درسی

◀ دربردارنده سوالات دوره‌های گذشته زیست‌شناسی در امتحانات

نهایی و پاسخ آن‌ها در کتاب درسی

◀ به انضمام سوالات تالیفی از قسمت‌هایی که طرح سوال تاکنون

از آنها صورت نگرفته است همراه با پاسخ آن‌ها در کتاب درسی



فصل ۱

مولکول‌های اطلاعاتی



جاخالی تألیفی

یکی از پرسش‌هایی که یافتن جوابی برای آن بیش از پنجاه سال طول کشید، این بود که ژن چیست و از چه ساخته شده است؟


پاسخ این سؤال، به ظاهر شاید ساده باشد ولی برای رسیدن به آن، پژوهش‌ها و آزمایش‌های زیادی انجام شد که در حال حاضر هم ادامه دارد.

در این فصل مطالب در قالب زنجیره‌ای از آزمایش‌ها توضیح داده می‌شود که نتایج آنها آگاهی ما را از ژن و مولکول‌های مرتبط به آن یعنی دنا (DNA)، رنا (RNA) و پروتئین بیشتر می‌کند. آشنا شدن با ساختار این مولکول‌ها مقدمه‌ای است برای فهم بهتر فصل‌های دیگر این کتاب. همچنین، در کنار این مباحث با سازوکار مولکولی و چگونگی ذخیره و انتقال اطلاعات وراثتی آشنا می‌شویم.



طرح سؤالات عددی و محاسباتی از مباحث این فصل در همهٔ آزمون‌ها از جمله کنکور سراسری ممنوع است.

به منظور آمادگی کامل برای امتحان نهایی زیست شناسی دوازدهم و تکمیل این جزوه، کلاس آمادگی امتحان نهایی دکتر خیراندیش و دکتر فرهمندیا در گروه آموزشی ماز را مورخ شنبه و یکشنبه ۱۳ و ۱۴ خردادماه از ساعت ۱۲:۰۰ لغایت ۱۵:۰۰ مشاهده نمایید.



دانشمندی سوئیسی به نام میشر^۱ در سال ۱۸۶۹ نوکلئیک اسیدها را کشف کرد. او ترکیبات سفیدرنگی را از هسته گویچه‌های سفید انسان و اسپرم ماهی استخراج کرد که نسبت نیتروژن و فسفات در این ترکیبات با نسبت آن در ترکیبات حاصل از بخش‌های دیگر یاخته متفاوت بود. همین باعث شد که میشر این ترکیب زیستی را به عنوان ترکیب جدیدی معرفی کند. او این ماده را نوکلئیک اسید (اسید هسته‌ای) نامید؛ چون از هسته (Nucleus) استخراج شده بود و خاصیت اسیدی ضعیفی هم داشت.

۱- Friedrich Miescher

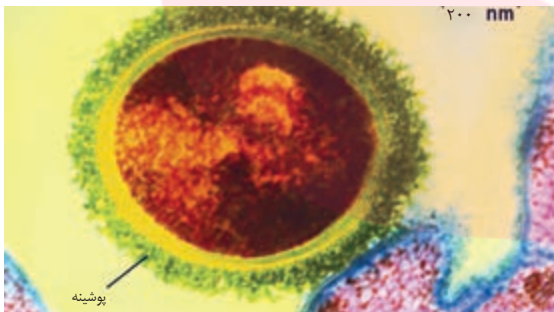
گفتار ۱ نوکلئیک اسیدها

جاخالی تألیفی

هریک از یاخته‌های بدن ما ویژگی‌هایی مانند شکل و اندازه دارند. این ویژگی‌ها تحت فرمان هسته هستند. دستورالعمل‌های هسته در حین تقسیم از یاخته‌ای به یاخته دیگر و در حین تولید مثل از نسلی به نسل دیگر منتقل می‌شود. اطلاعات و دستورالعمل فعالیت‌های یاخته در چه قسمتی از هسته ذخیره می‌شود؟ قبلاً آموختیم که فام‌تن‌ها در هسته قرار دارند و در ساختار آنها دنا و پروتئین مشارکت می‌کنند. کدام یک از این دو ماده، ذخیره‌کننده اطلاعات وراثتی است؟ پاسخ این سؤال مشخص شده است. این ماده دنا است که به عنوان ماده ذخیره‌کننده اطلاعات وراثتی عمل می‌کند. اما دانشمندان چگونه به این پاسخ رسیده‌اند؟

اطلاعات اولیه در مورد ماده وراثتی از فعالیت‌ها و آزمایش‌های باکتری‌شناسی انگلیسی به نام گریفیت^۱ به دست آمد. او سعی داشت واکسنی برای آنفلوآنزا تولید کند. در آن زمان تصور می‌شد عامل این بیماری، نوعی باکتری به نام استرپتوکوکوس نومونیا^۲ است. گریفیت با دو نوع از این باکتری، آزمایش‌هایی را روی موش‌ها انجام داد. نوع بیماری زای آن که پوشینه‌دار (کپسول‌دار) است در موش‌ها سبب سینه‌پهلو می‌شود ولی نوع بدون پوشینه آن موش‌ها را بیمار نمی‌کند (شکل ۱).

الف) گریفیت عامل بیماری آنفلوآنزا را نوعی باکتری به نام استرپتوکوکوس نومونیا می‌دانست. (ص) (شهریور ۹۹)



شکل ۱- باکتری پوشینه‌دار

آزمایش‌ها و نتایج کار گریفیت را در شکل ۲ ملاحظه می‌کنید.



شکل ۲- آزمایشات گریفیت و نتایج آن

شکل روبرو یکی از آزمایش‌های گریفیت را نشان می‌دهد. نتیجه این آزمایش چیست؟ (خرداد ۹۹)

۱- *Streptococcus pneumoniae*

الف) در آزمایش‌های گریفیت، ماهیت ماده وراثتی و چگونگی انتقال آن مشخص نشد. (ص) (شهریور ۱۴۰۰)
 الف) از نتایج آزمایش‌های گریفیت مشخص شده که ماده وراثتی می‌تواند از یاخته‌ای به یاخته دیگر منتقل شود. (ص) (شهریور ۹۸)
 الف) گریفیت با انجام چه آزمایشی نتیجه گرفت که وجود پوشینه در باکتری‌ها به تنهایی عامل مرگ موش‌ها نیست؟ (دی ۹۸)

بیشتر بدانید

گریفیت در سال ۱۹۲۸ نشان داد که خصوصیات یک باکتری به باکتری دیگر قابل انتقال است.



گریفیت مشاهده کرد تزریق باکتری‌های پوشینه‌دار به موش باعث بروز علائم بیماری و مرگ در آنها می‌شود؛ در حالی که تزریق باکتری‌های بدون پوشینه به موش‌های مشابه، باعث بروز علائم بیماری نمی‌شود. او در آزمایش دیگری باکتری‌های پوشینه‌دار کشته شده با گرما را به موش‌ها تزریق و مشاهده کرد که موش‌ها سالم ماندند. گریفیت نتیجه گرفت وجود پوشینه به تنهایی عامل مرگ موش‌ها نیست. سپس مخلوطی از باکتری‌های پوشینه‌دار کشته شده با گرما و زنده بدون پوشینه را به موش‌ها تزریق کرد؛ برخلاف انتظار، موش‌ها مُردند! او در بررسی خون و شش‌های موش‌های مرده، تعداد زیادی باکتری‌های پوشینه‌دار زنده مشاهده کرد. مسلماً باکتری‌های مرده، زنده نشده‌اند بلکه تعدادی از باکتری‌های بدون پوشینه به نحوی تغییر کرده و پوشینه‌دار شده‌اند.

از نتایج این آزمایش‌ها مشخص شد که ماده وراثتی می‌تواند به یاخته دیگری منتقل شود ولی ماهیت این ماده و چگونگی انتقال آن مشخص نشد.

الف) از نتایج آزمایش‌های گریفیت ماهیت ماده وراثتی و چگونگی انتقال آن به یاخته دیگری مشخص شد. (غ) (خرداد ۱۴۰۱)
 نتیجه هر یک از آزمایش‌های زیر را بنویسید.

عامل اصلی انتقال صفات وراثتی، مولکول دنا است


الف) گریفیت مخلوطی از باکتری پوشینه‌دار کشته شده با گرما و باکتری فاقد پوشینه زنده را به موش‌ها تزریق کرد. (دی ۹۹)
 عامل مؤثر در انتقال این صفت تا حدود ۱۶ سال بعد از گریفیت همچنان ناشناخته ماند. تا اینکه نتایج کارهای دانشمندی به نام ایوری^۱ و همکارانش عامل مؤثر در آن را مشخص کرد. آنها ابتدا از عصاره استخراج شده از باکتری‌های کشته شده پوشینه‌دار استفاده کردند، آن را تمام، تمام، تمام، همه، همه، همه، همه (الف) ایوری با اضافه کردن آنزیم تخریب‌کننده پروتئین به عصاره باکتری‌های پوشینه‌دار و انتقال این مخلوط به محیط تخریب کردند. به نظر شما چگونه این کار انجام شد؟ کشت حاوی باکتری بدون پوشینه چه مشاهده کرد؟ (شهریور ۹۹)

آنها سپس باقی مانده محلول را به محیط کشت باکتری فاقد پوشینه اضافه کردند و دیدند که انتقال صفت صورت می‌گیرد؛ پس می‌توان نتیجه گرفت که پروتئین‌ها ماده وراثتی نیستند.

نتیجه هر یک از آزمایش‌های زیر را بنویسید.
 ب) ایوری آنزیم تخریب‌کننده پروتئین را به عصاره باکتری پوشینه‌دار کشته شده اضافه کرد و سپس محلول را به محیط کشت حاوی باکتری فاقد پوشینه منتقل کرد. (دی ۹۹)

بیشتر بدانید

ایوری و همکارانش برای اولین بار در سال ۱۹۴۴ نشان دادند که دنا، ماده ژنتیک است.



در آزمایش دیگری عصاره استخراج شده از باکتری‌های کشته شده پوشینه‌دار را در یک گریزا (سانتریفیوژ^۲) با سرعت بالا قرار دادند و مواد آن را به صورت لایه لایه جدا کردند. با اضافه کردن هر یک از لایه‌ها به صورت جداگانه به محیط کشت باکتری فاقد پوشینه مشاهده کردند که انتقال صفت فقط با لایه‌ای که در آن دنا وجود دارد انجام می‌شود. تألیفی: آزمایش دوم ایوری را شرح دهید.

نتایج این آزمایش‌ها، ایوری و همکارانش را به این نتیجه رساند که عامل اصلی و مؤثر در انتقال صفات، دنا است. به عبارت ساده‌تر، دنا همان ماده وراثتی است. با این حال نتایج به دست آمده مورد قبول عده‌ای قرار نگرفت؛ چون در آن زمان بسیاری از دانشمندان بر این باور بودند که پروتئین‌ها ماده وراثتی هستند.

در آزمایش‌های دیگری عصاره باکتری‌های پوشینه‌دار را استخراج و آن را به چهار قسمت تقسیم کردند. به هر قسمت، آنزیم تخریب‌کننده یک گروه از مواد آلی (کربوهیدرات‌ها، پروتئین‌ها، لیپیدها، نوکلئیک اسیدها) را اضافه کردند. سپس هر کدام را به محیط کشت حاوی باکتری بدون پوشینه منتقل و اجازه دادند تا فرصتی برای انتقال صفت و رشد و تکثیر داشته باشند. مشاهده شد که در همه ظروف انتقال صورت می‌گیرد به جز ظرفی که حاوی آنزیم تخریب‌کننده دنا است.

تألیفی: آزمایش سوم ایوری را شرح دهید؟

۱- Oswald Avery
 ۲- Centrifuge

تألیفی: چه نتیجه‌ای از آزمایش دوم ایوری به دست آمد؟

الف) قند موجود در ساختار دنا (DNA) سنگین تر است یا قند موجود در رنا (RNA)؟

قند مولکول دنا (DNA) و رنا (RNA) را با یکدیگر مقایسه کنید. (دو مورد) (خرداد ۱۴۰۰)

الف) دئوکسی ریبوز یک اکسیژن (کمتر - بیشتر) از ریبوز دارد. (خرداد ۹۹)

ساختار نوکلئیک اسیدها

نوکلئیک اسیدها که شامل **دئوکسی ریبونوکلئیک اسید** (دنا) و **ریبونوکلئیک اسید** (رنا) هستند، همگی بسپارهایی (پلیمرهایی) از واحدهای تکرار شونده به نام **نوکلئوتید** هستند. با توجه به شکل ۳ هر نوکلئوتید شامل سه بخش است: یک قند پنج کربنه، یک باز آلی نیتروژن دار و یک تاسه گروه فسفات.

قند پنج کربنه در دنا، دئوکسی ریبوز و در رنا، **ریبوز** است. **دئوکسی ریبوز یک**

اکسیژن کمتر از ریبوز دارد. باز آلی نیتروژن دار می تواند پورین باشد که ساختار

دو حلقه ای دارد؛ شامل آدنین (A) و گوانین (G) یا می تواند پیریمیدین باشد که

ساختار تک حلقه ای دارد؛ شامل تیمین (T) سیتوزین (C) و یوراسیل (U). در

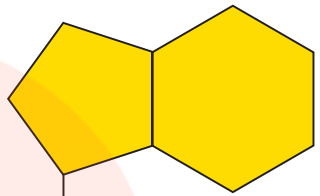
دنا باز یوراسیل شرکت ندارد و به جای آن تیمین وجود دارد و در رنا به جای تیمین،

باز یوراسیل وجود دارد.

گروه فسفات

P

باز آلی نیتروژن دار



O

قند پنج کربنه

الف) بازهای آلی نیتروژن دار که ساختار دو حلقه ای دارند را (پورین - پیریمیدین) می نامند. (شهریور ۱۴۰۰)

الف) باز آلی نیتروژن دار می تواند باشد که ساختار دو حلقه ای دارد؛ شامل آدنین (A) و گوانین (G) (شهریور ۹۸)

شکل ۳- اجزای یک نوکلئوتید

برای تشکیل یک نوکلئوتید، باز آلی نیتروژن دار و گروه یا گروه های فسفات با پیوند اشتراکی

(کووالانسی) به دو سمت قند متصل می شوند (شکل ۳).

نوکلئوتیدها از نظر نوع قند، نوع باز آلی و تعداد گروه های فسفات با یکدیگر تفاوت دارند.

نوکلئوتیدها با نوعی پیوند اشتراکی به نام **فسفودی استر** به هم متصل می شوند و **رشته**

پلی نوکلئوتیدی را می سازند. در تشکیل پیوند فسفودی استر، فسفات یک نوکلئوتید به گروه هیدروکسیل

(OH) از قند مربوط به نوکلئوتید دیگر متصل می شود (شکل ۵). رشته های پلی نوکلئوتیدی با به تنهایی

نوکلئیک اسید را می سازند، مثل رنا، یا به صورت دوتایی مقابل هم قرار می گیرند و نوکلئیک اسیدهایی

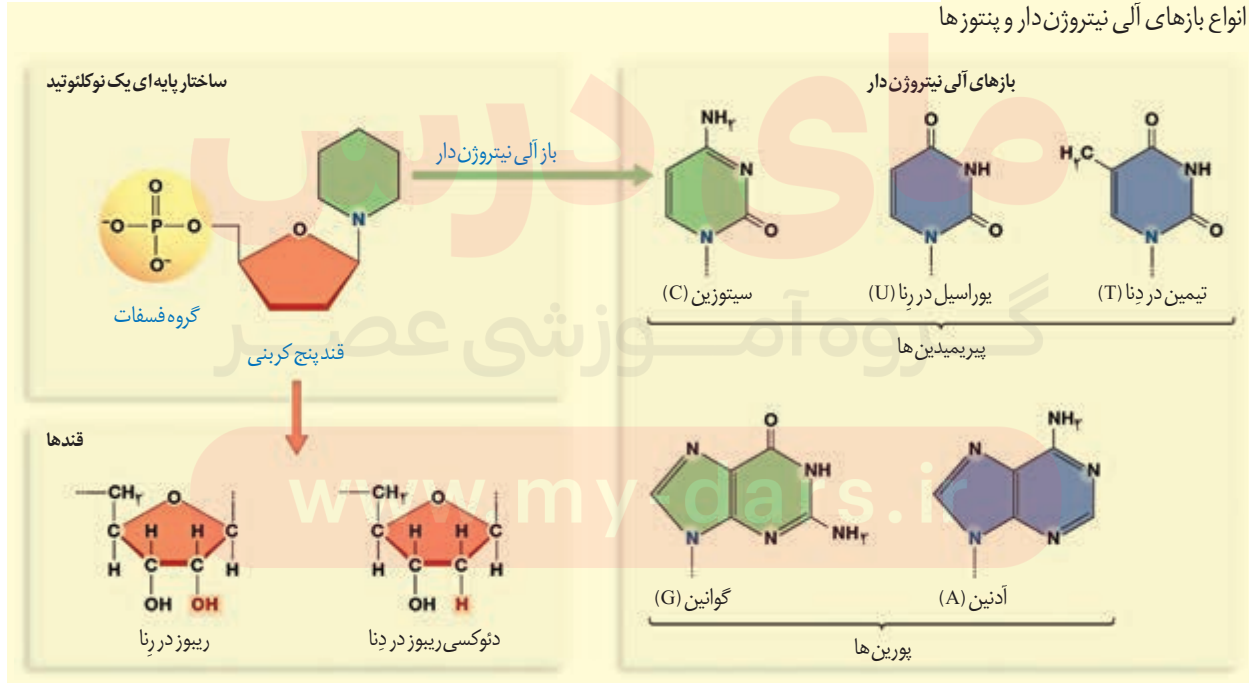
مثل دنا را می سازند.

ب) در تشکیل پیوند فسفودی استر، فسفات یک نوکلئوتید به گروه هیدروکسیل (OH) از قند مربوط به نوکلئوتید دیگر متصل می شود. (ص) (خرداد ۱۴۰۱)

الف) نوکلئوتیدها با نوعی پیوند اشتراکی به نام به هم متصل می شوند و رشته پلی نوکلئوتیدی را می سازند. (شهریور ۹۹)

بیشتر بدانید

انواع بازهای آلی نیتروژن دار و پنتوزها



جاخالی تالیفی

بنابراین مولکول‌های دنا از دو رشته پلی نوکلئوتید و مولکول‌های رنا از یک رشته پلی نوکلئوتید تشکیل

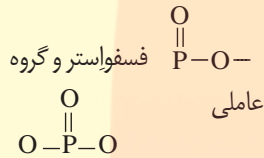
می‌شوند (شکل ۴).

بیشتر بدانید

فسفودی‌استر

در درس شیمی با استرها آشنا شدید

که دارای گروه عاملی $\text{C}=\text{O}-\text{O}$ هستند این گروه عاملی در ساختار برخی مواد سازنده بدن موجودات زنده از جمله نوکلئیک اسیدها وجود دارد. با این توصیف گروه عاملی



فسفودی‌استر نامیده می‌شوند که در زیست‌شناسی آن را پیوند فسفودی‌استر می‌خوانند.



الف) دو انتهای رشته‌های پلی‌نوکلئوتیدی نیز می‌توانند با پیوند به هم متصل شوند و نوکلئوتیک اسید حلقوی را ایجاد کنند. (دی ۱۴۰۰)

الف) دو انتهای رشته‌های پلی‌نوکلئوتیدی می‌توانند با پیوند فسفودی‌استر به هم

متصل شوند و نوکلئیک اسید حلقوی - خطی - را ایجاد کنند. (دی ۹۸)

شکل ۴- دنا ی دورشته‌ای و رنا ی تک رشته‌ای

دو انتهای رشته‌های پلی نوکلئوتید نیز می‌توانند با پیوند فسفودی‌استر به هم متصل شوند و

نوکلئیک اسید حلقوی را ایجاد کنند؛ برای مثال دنا در باکتری‌ها به صورت حلقوی است.

در نوکلئیک اسیدهای خطی گروه فسفات در یک انتها و گروه هیدروکسیل در انتهای دیگر آزاد

است؛ بنابراین هر رشته دنا و رنا ی خطی همیشه دو سر متفاوت دارد (شکل ۵).

الف) در نوکلئیک اسیدهای خطی گروه فسفات در یک انتها و گروه هیدروکسیل در انتهای دیگر آزاد است. (ص خرداد ۹۹)

تلاش برای کشف ساختار مولکولی دنا

در ابتدا تصور می‌شد که چهار نوع نوکلئوتید موجود در دنا به نسبت مساوی در سراسر مولکول توزیع

شده‌اند. بر این اساس دانشمندان انتظار داشتند که مقدار ۴ نوع باز آلی در تمامی مولکول‌های دنا از هر

جاندار که به دست آمده باشد با یکدیگر برابر باشد.

اما مشاهدات و تحقیقات چارگاف^۱ روی دناهای جانداران نشان داد که مقدار آدنین در دنا با مقدار

تیمین برابر است و مقدار گوانین در آن با مقدار سیتوزین برابری می‌کند. تحقیقات بعدی دانشمندان دلیل

این برابری نوکلئوتیدها را مشخص کرد.


تالیفی: چارگاف دلیل برابری بازهای تعداد نوکلئوتیدهای تیمین و آدنین را مشخص کرد (ص/غ).

تالیفی: نتیجه حاصل از مشاهدات و تحقیقات چارگاف را شرح دهید؟

۱- Erwin Chargaff

بیشتر بدانید

چارگاف در سال ۱۹۵۰ نشان داد که در دِنای جانداران گوناگون $A=T$ و $G=C$ است.



بیشتر بدانید

برخی از نتایج آزمایش های چارگاف (درصد)

گونه	A	T	G	C	$\frac{A+G}{T+C}$	$\frac{A+T}{G+C}$
انسان	۳۱/۰	۳۱/۵	۱۹/۱	۱۸/۴	۱/۰۰	۱/۶۶
مگس سرکه	۲۷/۳	۲۷/۶	۲۲/۵	۲۲/۶	۰/۹۹	۱/۲۲

نتیجه هر یک از آزمایش های زیر را بنویسید.

ج) بررسی تصاویر تهیه شده از مولکول های دنا با استفاده از پرتو ایکس توسط ویلکینز و فرانکلین (دو مورد) (دی ۹۹) ویلکینز و فرانکلین با استفاده از پرتو ایکس از مولکول های دنا تصاویری تهیه کردند.

دو نتیجه حاصل از بررسی این تصاویر را بنویسید. (خرداد ۹۸)

استفاده از پرتو ایکس برای تهیه تصویر از دنا

ویلکینز^۱ و فرانکلین^۲ با استفاده از پرتو ایکس از مولکول های دنا تصاویری تهیه کردند (شکل ۶). با بررسی این تصاویر در مورد ساختار دنا نتایجی را به دست آوردند از جمله اینکه دنا حالت مارپیچی و بیش از یک رشته دارد. البته با استفاده از این روش ابعاد مولکول ها را نیز تشخیص دادند.



فرانکلین



ویلکینز

شکل ۶- تصویر تهیه شده با پرتو ایکس از مولکول دنا توسط ویلکینز و فرانکلین

مدل مولکولی دنا

واتسون^۳ و کریک^۴ با استفاده از نتایج آزمایش های چارگاف و داده های حاصل از تصاویر تهیه شده با پرتو ایکس و با استفاده از یافته های خود، مدل مولکولی نردبان مارپیچ را ساختند که باعث شد در سال ۱۹۶۲ جایزه نوبل را دریافت کنند. نتایج حاصل از این تحقیقات با پژوهش های امروزی مورد تأیید قرار گرفته اند.



شکل ۷- واتسون و کریک و مدل پیشنهادی آنها برای دنا

الف) مکمل بودن بازهای آلی نتایج آزمایش های چارگاف را تأیید می کند. (ص) (خرداد ۹۸)

- ۱- Maurice Wilkins
- ۲- Rosalind Franklin
- ۳- James Watson
- ۴- Francis Crick

الف) در مدل نردبان مارپیچ DNA پله‌ها از چه مولکولی ساخته شده‌اند؟ (شهریور ۱۴۰۰)
 الف) در مدل پیشنهادی واتسون و کریک، پله‌های این نردبان را (قند و فسفات - بازهای آلی) تشکیل می‌دهند. (شهریور ۹۹)

نکات کلیدی مدل واتسون و کریک

هر مولکول دنا در حقیقت از دو رشته پلی‌نوکلئوتیدی ساخته شده است که به دور محوری فرضی پیچیده شده و ساختار مارپیچ دو رشته‌ای را ایجاد می‌کند. این مارپیچ اغلب با یک نردبان مارپیچ خورده مقایسه می‌شود. ستون‌های این نردبان را قند و فسفات و پله‌ها را بازهای آلی تشکیل می‌دهند. بین قند یک نوکلئوتید و قند نوکلئوتید مجاور پیوند فسفودی‌استر، و بین بازهای روبه‌روی هم پیوند هیدروژنی

برقرار است (شکل ۸). الف) در دو رشته دنا، بین C و G و A و T پیوند هیدروژنی (بیشتری - کمتری) تشکیل می‌شود. (دی ۹۹)

پیوندهای هیدروژنی بین بازها، دو رشته دنا را در مقابل هم نگه می‌دارد. این پیوندها بین جفت بازها به صورت اختصاصی تشکیل می‌شوند. آدنین (A) با تیمین (T) روبه‌روی هم قرار می‌گیرند و گوانین (G) با سیتوزین (C) جفت می‌شوند. به این جفت بازها بازهای مکمل می‌گویند. بین C و G نسبت به A و T

پیوند هیدروژنی بیشتری تشکیل می‌شود. با توجه به مدل پیشنهادی واتسون و کریک برای دنا، یک نتیجه جفت شدن بازهای مکمل را بنویسید. (خرداد ۹۹)

قرارگیری جفت بازها به این شکل باعث می‌شود که قطر مولکول دنا در سراسر آن یکسان باشد؛

زیرا یک باز تک حلقه‌ای در مقابل یک باز دو حلقه‌ای قرار می‌گیرد و باعث پایداری مولکول دنا می‌شود.

نتیجه دیگر جفت شدن بازهای مکمل این است که اگرچه دو رشته یک مولکول دنا یکسان نیستند،

ولی شناسایی ترتیب نوکلئوتیدهای هر کدام می‌تواند ترتیب نوکلئوتیدهای رشته دیگر را هم مشخص

کند؛ مثلاً اگر ترتیب نوکلئوتیدها در یک رشته ATGC باشد ترتیب نوکلئوتیدها در رشته مکمل آن باید

TACG باشد.

اگرچه هر پیوند هیدروژنی به تنهایی انرژی پیوند کمی دارد، ولی وجود هزاران یا میلیون‌ها نوکلئوتید

و برقراری پیوند هیدروژنی بین آنها به مولکول دنا حالت پایدارتری می‌دهد. در عین حال، دو رشته دنا در

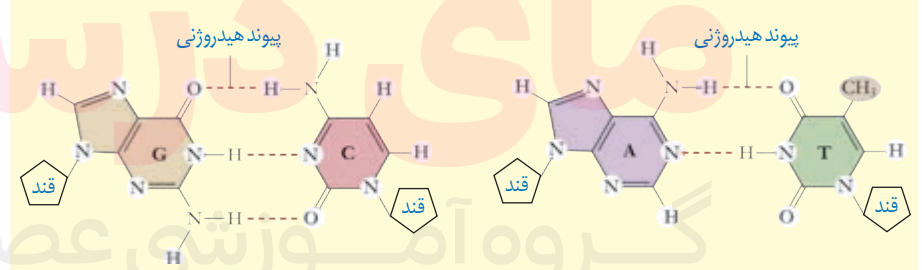
موقع نیاز هم می‌توانند در بعضی نقاط از هم جدا شوند، بدون اینکه پایداری آنها به هم بخورد.

الف) چرا قطر مولکول دنا در سراسر آن یکسان است؟ (خرداد ۱۴۰۰) چرا قطر مولکول دنا در سراسر آن یکسان است؟ (شهریور ۹۸)

به چه دلیل قطر مولکول دنا (DNA) در سراسر آن یکسان است؟ (دی ۱۴۰۰)

بیشتر بدانید

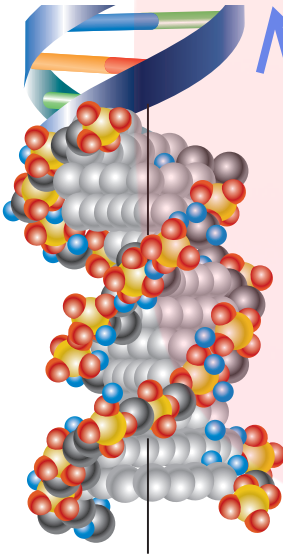

بازهای مکمل و پیوندهای هیدروژنی بین آنها



ب) برقراری چه پیوندی بین نوکلئوتیدهای دنا باعث می‌شود دو رشته دنا در موقع نیاز در بعضی نقاط از هم جدا

شوند، بدون اینکه پایداری آنها به هم بخورد؟

www.my-dars.ir



شکل ۸- مدل مارپیچ دورشته‌ای دنا

سال ۱۸۶۹م: میشر در عصارهٔ باخته‌ها به وجود اسیدهای هسته‌ای (نوکلئیک اسیدها) پی‌برد.

سال ۱۹۲۸م: گریفیت نشان داد که خصوصیات یک باکتری به باکتری دیگر قابل انتقال است.

سال ۱۹۴۴م: ایوری و همکارانش برای اولین بار نشان دادند که دنا، مادهٔ ژنتیک است.

سال ۱۹۵۰م: چارگاف نشان داد که در دنا جانداران گوناگون تعداد T مساوی تعداد A و تعداد C مساوی تعداد G است.

سال ۱۹۵۲م: فرانکلین و ویلیکینز نشان دادند که دنا ساختار مارپیچی و چندرشته‌ای دارد.

سال ۱۹۵۳م: واتسون و کریک مدل مارپیچ دورشته‌ای را برای دنا ارائه کردند.

رنا و انواع آن

تألیفی: مولکول رنا از روی بخشی از یکی از رشته‌های دنا ساخته می‌شود (ص/غ).

گفتیم که نوع دیگری از نوکلئیک اسیدها، رنا است. مولکول رنا تک‌رشته‌ای است و از روی بخشی از یکی از رشته‌های دنا ساخته می‌شود. رناها نقش‌های متعددی دارند که به بعضی از آنها اشاره می‌کنیم:

رنا پی‌یک (mRNA^۱): اطلاعات را از دنا به رناتن‌ها می‌رساند. رناتن با استفاده از اطلاعات رنا پی‌یک، پروتئین‌سازی می‌کند که در فصل بعد با آن آشنا خواهید شد.

رنا ناقل (tRNA^۲): آمینواسیدها را برای استفاده در پروتئین‌سازی به سمت رناتن‌ها می‌برد.

رنا رناتنی (rRNA^۳): در ساختار رناتن‌ها علاوه بر پروتئین، رنا رناتنی نیز شرکت دارد.

علاوه بر این نقش‌ها، رناها نقش آنزیمی و دخالت در تنظیم بیان ژن نیز دارند.

ژن چیست؟

در طی این گفتار با ساختار دنا آشنا شدید. طبق آزمایش‌های ایوری و همکارانش، اطلاعات وراثتی در دنا قرار دارد و از نسلی به نسل دیگر منتقل می‌شوند. این اطلاعات در واحدهایی به نام ژن سازماندهی شده‌اند. ژن بخشی از مولکول دنا است که بیان آن می‌تواند به تولید رنا یا پلی‌پپتید بینجامد. اینکه رنا چگونه در تور العمل‌های دنا را اجرا می‌کند، در فصل‌های آینده با آن آشنا خواهید شد.

الف) ژن بخشی از مولکول دنا است که بیان آن می‌تواند به تولید یا بینجامد. (دی ۹۹)

دخالت نوکلئوتیدها در واکنش‌های سوخت‌وسازی^۴

نوکلئوتیدها علاوه بر شرکت در ساختار دنا و رنا نقش‌های اساسی دیگری نیز در یاخته برعهده دارند. برای مثال نوکلئوتید آدنین‌دار ATP (آدنوزین تری فسفات) به عنوان منبع رایج انرژی در یاخته است و یاخته در فعالیت‌های مختلف از آن استفاده می‌کند.

همچنین نوکلئوتیدها در ساختار مولکول‌هایی وارد می‌شوند که در فرایندهای فتوسنتز و تنفس یاخته‌ای نقش حامل الکترون را برعهده دارند. با این مولکول‌ها در فصل‌های آینده آشنا خواهید شد.

جاخالی تألیفی

۱_ messenger RNA

۲_ transfer RNA

۳_ ribosomal RNA

۴_ Metabolism

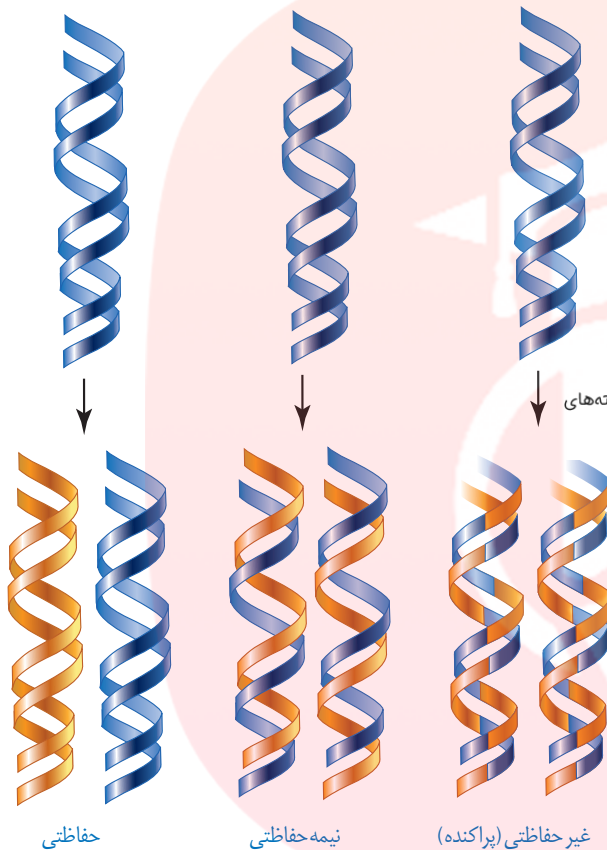
الف) دستورالعمل‌های هسته در حین تقسیم از نسلی به نسل دیگر منتقل می‌شود. (غ) (دی ۱۴۰۰)

با توجه به اینکه دنا به عنوان ماده وراثتی، حاوی اطلاعات یاخته است، این پرسش مطرح می‌شود که هنگام تقسیم یاخته، این اطلاعات چگونه بدون کم و کاست به دو یاخته حاصل از تقسیم می‌رسند؟

این کار با همانندسازی دنا انجام می‌شود. به ساخته شدن مولکول دنا جدید از روی دنا قدیمی همانندسازی می‌گویند.

با توجه به مدل واتسون و کریک و وجود رابطه مکملی بین بازها تا حد زیادی همانندسازی دنا قابل توضیح است؛ گرچه طرح‌های مختلفی برای همانندسازی دنا پیشنهاد شده بود (شکل ۹).

در کدام طرح همانندسازی، هر دو رشته دنا قبلی (اولیه) به صورت دست نخورده باقی می‌ماند و وارد یکی از یاخته‌های حاصل از تقسیم می‌شوند؟ (خرداد ۱۴۰۰)



حفاظتی

نیمه حفاظتی

غیر حفاظتی (پراکنده)

شکل ۹- طرح‌های مختلف برای همانندسازی

۱- همانندسازی حفاظتی: در این طرح هر دو رشته دنا قبلی (اولیه) به صورت دست نخورده باقی مانده، وارد یکی از یاخته‌های حاصل از تقسیم می‌شوند، دو رشته دنا جدید هم وارد یاخته دیگر می‌شوند. چون دنا اولیه به صورت دست نخورده در یکی از یاخته‌ها حفظ شده است به آن همانندسازی حفاظتی می‌گویند.

تألیفی: همانندسازی نیمه حفاظتی را توضیح دهید؟

۲- همانندسازی نیمه حفاظتی: در این طرح در هر یاخته یکی از دو رشته دنا مربوط به دنا اولیه است و رشته دیگر با نوکلئوتیدهای جدید ساخته شده است. چون در هر یاخته حاصل، فقط یکی از دو رشته دنا قبلی وجود دارد، به آن نیمه حفاظتی می‌گویند.

۳- همانندسازی غیر حفاظتی (پراکنده): در این طرح هر کدام از دناهای حاصل، قطعاتی از

رشته‌های قبلی و رشته‌های جدید را به صورت پراکنده در خود دارند. تألیفی: همانندسازی غیرحفاظتی (پراکنده) را توضیح دهید؟

کدام طرح مورد تأیید قرار گرفته است؟

مزلسون^۲ و استال^۳ با به کارگیری روش علمی پاسخ این پرسش را به دست آوردند. آنها فرضیه‌های متعدد ارائه شده را در نظر گرفتند و با توجه به امکانات، آزمایشی را طراحی کردند تا بتوانند به پاسخ قانع کننده‌ای برسند. برای شروع کار، آنها باید بتوانند رشته‌های دنا نوساز را از رشته‌های قدیمی تشخیص دهند. آنها با این هدف دنا را با استفاده از نوکلئوتیدهایی که ایزوتوپ سنگین نیتروژن (^{۱۵}N) دارند، نشانه گذاری کردند. الف) مزلسون و استال برای نشانه گذاری دنا از چه نوکلئوتیدهایی استفاده کردند؟ (خرداد ۱۴۰۱)

الف) برای تشخیص رشته‌های دنا نوساز از رشته‌های قدیمی، نوکلئوتیدها را با چه ایزوتوپ نشانه گذاری کردند؟ (شهریور ۹۹)

- ۱- Replication
- ۲- Meselson
- ۳- Stahl

الف) در آزمایش مزلسون و استال، ^{15}N در ساختار (باز آلی - قند) که در ساخت دناهای باکتری شرکت می‌کنند، وارد شدند.

دناهایی که با ^{15}N ساخته می‌شوند نسبت به دناهای معمولی که در نوکلئوتیدهای خود ^{14}N دارد چگالی بیشتری دارند. بنابراین، به وسیله گریزانته با سرعت بسیار بالا می‌توان آنها را از هم جدا کرد.

آنها ابتدا باکتری‌ها را در محیط دارای ^{15}N کشت دادند. در ساختار بازهای آلی نیتروژن دار که در ساخت دناهای باکتری شرکت می‌کنند، وارد شدند. پس از چندین مرحله رشد و تکثیر در این محیط، باکتری‌هایی تولید شدند که دناهای سنگین تری نسبت به باکتری‌های اولیه داشتند.

پس این باکتری‌ها را به محیط کشت دارای ^{14}N منتقل کردند. با توجه به اینکه تقسیم باکتری‌ها حدود ۲۰ دقیقه طول می‌کشد در فواصل ۲۰ دقیقه‌ای باکتری‌ها را از محیط کشت جدا و بررسی کردند.

برای سنجش چگالی دناها در هر فاصله زمانی، دناهای باکتری را استخراج و در شیبی از محلول سزیم کلرید با غلظت‌های متفاوت و در سرعتی بسیار بالا گریز دادند؛ در نتیجه مواد بر اساس چگالی در بخش‌های متفاوتی از محلول در لوله قرار گرفتند. مراحل آزمایش مزلسون و استال و نتایج آن را در شکل ۱۰ می‌بینید.

همان‌طور که مشاهده می‌کنید نتایج این آزمایش نشان داد که همانندسازی دنا، نیمه حفاظتی است.

ب) با توجه به نتایج آزمایش‌های مزلسون و استال کدام طرح همانندسازی دنا مورد تأیید قرار گرفت؟ (دی ۹۸)

ب) با توجه به نتایج آزمایش‌های آن‌ها، کدام طرح همانندسازی دنا مورد تأیید قرار گرفت؟ (شهریور ۹۹) نری E.coli در محیط ^{15}N رشد کرده و تکثیر شده است.

ب) کدام طرح همانندسازی DNA، مورد تأیید قرار گرفت؟ (شهریور ۱۴۰۰)



شکل ۱۰- آزمایش‌های مزلسون و استال و نتایج به دست آمده:

الف) دناهای باکتری‌های اولیه پس از گریز دادن، یک نوار در انتهای لوله تشکیل دادند چون هر دو رشته دناهای آنها ^{15}N و چگالی سنگینی داشت. ب) دناهای باکتری‌های حاصل از دور اول همانندسازی در محیط کشت حاوی ^{14}N (بعد از ۲۰ دقیقه) پس از گریز دادن، نوازی در میانه لوله تشکیل دادند. پس دناهای آنها چگالی متوسط داشت.

پ) دناهای باکتری‌های حاصل از دور دوم همانندسازی (بعد از ۴۰ دقیقه) پس از گریز دادن دو نوار، یکی در میانه و دیگری در بالای لوله تشکیل دادند. پس نیمی از آنها چگالی متوسط و نیمی چگالی سبک داشتند. چرا؟

بیشتر بدانید

گریزانۀ هم چگال

برای جدا کردن ذره‌هایی با چگالی متفاوت و تعیین چگالی آنها از روشی به نام گریزانۀ هم چگال استفاده می‌شود. در این روش محلولی از نمک یک فلز سنگین مثل سزیم کلرید را در لوله آزمایش قرار می‌دهند. غلظت این ماده و چگالی آن به طور یکنواخت از پایین به بالای لوله کم می‌شود و به اصطلاح شیب پیوسته‌ای از غلظت‌های مختلف نمک در آن وجود دارد.

با ورود مولکول‌های مد نظر در این محلول و حرکت آنها حین سانتریفیوژ، براساس چگالی خود در نقطه‌ای متوقف می‌شوند. چون ذره‌ها با چگالی یکسان در یک منطقه تجمع می‌یابند، نوارهایی را تشکیل می‌دهند که به آسانی قابل تشخیص‌اند. با مشخص شدن چگالی محلول در هر نقطه از لوله، می‌توان چگالی ذره‌های مورد آزمایش را معلوم کرد.

با مشخص شدن اینکه همانندسازی به صورت نیمه حفاظتی انجام می‌شود، سؤال دیگری مطرح شد: دو رشته دنا چگونه از یکدیگر باز می‌شوند؟ آیا هر دو رشته کاملاً از یکدیگر جدا می‌شوند و سپس همانندسازی انجام می‌شود یا جدا شدن دو رشته تدریجی و همراه با آن همانندسازی انجام می‌شود؟ تحقیقات نشان داده است در محلی که قرار است همانندسازی انجام شود دو رشته از هم باز می‌شوند. بقیه قسمت‌ها بسته هستند و به تدریج باز می‌شوند.

عوامل و مراحل همانندسازی

تألیفی: مهم‌ترین عوامل مؤثر در همانندسازی را نام ببرید؟

در همانندسازی عوامل متعددی مؤثرند که مهم‌ترین آنها به شرح زیر است:

۱- مولکول دنا به عنوان الگو

۲- واحدهای سازنده دنا که بتوانند در کنار هم نسخه مکمل الگو را بسازند. این واحدها نوکلئوتیدهای

آزاد داخل یاخته و سه فسفات هستند که در لحظه اتصال به رشته پلی نوکلئوتید در حال ساخت، دو فسفات خود را از دست می‌دهند.

۳- آنزیم‌های لازم برای همانندسازی که ضمن بازکردن دو رشته نوکلئوتیدها را به صورت مکمل

روبه روی هم قرار می‌دهد و با پیوند فسفودی استر به هم وصل می‌کند.

(ب) باز شدن پیچ و تاب DNA و جدا شدن هیستون‌ها از آن توسط آنزیم هلیکاز صورت می‌گیرد. (غ) (دی ۱۴۰۰)

مراحل همانندسازی: قبل از همانندسازی دنا باید پیچ و تاب فامینه، باز و پروتئین‌های همراه آن یعنی

هیستون‌ها از آن جدا شوند تا همانندسازی بتواند انجام شود. این کارها با کمک آنزیم‌هایی انجام می‌شود.

سپس آنزیم **هلیکاز** مارپیچ دنا و دو رشته آن را از هم باز می‌کند (شکل ۱۱).

(الف) در هر دوراهی همانندسازی، یک هلیکاز و یک دنابسپاراز (DNA پلی‌مراز) دیده می‌شود. (غ) (دی ۹۹)

(الف) در محل هر دو راهی همانندسازی چند آنزیم دنابسپاراز (DNA پلی‌مراز) فعالیت دارد؟ (شهریور ۹۹)



شکل ۱۱- همانندسازی دنا

(الف) برای باز شدن دو رشته دنا آنزیم هلیکاز چه پیوندهایی را از هم باز می‌کند؟ (شهریور ۹۸) (ب) در محل هر دو راهی همانندسازی آنزیم هلیکاز چه پیوندهایی را می‌شکند؟ (شهریور ۹۹)

به نظر شما برای باز شدن دو رشته دنا آنزیم هلیکاز چه پیوندهایی را از هم باز می‌کند؟

انواع دیگری از آنزیم‌ها با همدیگر فعالیت می‌کنند تا یک رشته دنا در مقابل رشته الگو ساخته شود.

یکی از مهم‌ترین آنها که نوکلئوتیدهای مکمل را با نوکلئوتیدهای رشته الگو جفت می‌کند **دنا بسپاراز**^۲

(DNA پلی‌مراز) است. با توجه به اینکه در محل همانندسازی، همانندسازی در دو جهت انجام می‌شود؛

به آن **همانندسازی دو جهتی** نیز می‌گویند.

دو آنزیم مهم که برای همانندسازی دنا لازم هستند را نام ببرید. (دی ۹۸)

۱- Helicase

۲- DNA Polymerase

ج) در همانندسازی DNA اضافه شدن یک نوکلئوتید به انتهای رشته در حال تشکیل به چه چیزی بستگی دارد؟ (شهریور ۱۴۰۰)

دوراهی همانندسازی: در شکل ۱۱ می بینید در محلی که دو رشته دنا از هم جدا می شوند دو ساختار Y مانند به وجود می آید که به هریک از آنها دوراهی همانندسازی می گویند. در فاصله بین این دو ساختار، پیوندهای هیدروژنی بین دو رشته از هم گسیخته و دو رشته از یکدیگر باز شده اند. همچنین پیوندهای فسفودی استر جدیدی در حال تشکیل هستند. دنا بسپاراز نوکلئوتیدها را به انتهای رشته در حال تشکیل اضافه می کند. اضافه شدن یک نوکلئوتید به نوع بازی بستگی دارد که در نوکلئوتید رشته الگو قرار دارد. هر نوکلئوتید باید با نوکلئوتید روی رشته الگو مکمل باشد. هنگام اضافه شدن هر نوکلئوتید سه فسفات به انتهای رشته پلی نوکلئوتید دو تا از فسفات های آن از مولکول جدا می شوند و نوکلئوتید به صورت تک فسفات به رشته متصل می شود (شکل ۱۲).

ب) در هنگام اضافه شدن هر نوکلئوتید به انتهای رشته پلی نوکلئوتید در حال تشکیل، چه تغییراتی در تعداد گروه فسفات ایجاد می شود؟ (خرداد ۱۴۰۱)



شکل ۱۲ - همانندسازی دنا

فعالیت های آنزیم دنا بسپاراز

همانندسازی دنا با دقت زیادی انجام می شود؛ این دقت تا حدود زیادی مربوط به رابطه مکملی بین نوکلئوتیدها است. اگرچه آنزیم دنا بسپاراز، نوکلئوتیدها را براساس رابطه مکملی مقابل هم قرار می دهد ولی گاهی در این مورد اشتباهی هم صورت می گیرد؛ بنابراین آنزیم دنا بسپاراز پس از برقراری هر پیوند فسفودی استر، برمی گردد و رابطه مکملی نوکلئوتید را بررسی می کند که رابطه آن درست است یا اشتباه؟ اگر اشتباه باشد آن را برداشته و نوکلئوتید درست را به جای آن قرار می دهد. برای حذف نوکلئوتید نادرست باید بتواند پیوند فسفودی استر را بشکند و نوکلئوتید نادرست را از دنا جدا کند. توانایی بریدن دنا را فعالیت

نوکلئازی گویند که در آن پیوند فسفودی استر می شکند. بنابراین آنزیم دنا بسپاراز، هم فعالیت بسپارازی (پلیمرازی) دارد که در آن پیوند فسفودی استر را تشکیل می دهد و هم فعالیت نوکلئازی که در آن پیوند فسفودی استر را برای رفع اشتباه می شکند. **فعالیت نوکلئازی دنا بسپاراز** را که باعث رفع اشتباه ها در همانندسازی می شود، **ویرایش** می گویند. (الف) آنزیم (هلیکاز - دنا بسپاراز یا DNA پلی مرز) فعالیت نوکلئازی دارد. (خرداد ۹۸)

جاخالی تألیفی

الف) در همانندسازی دنا، شکستن پیوند فسفودی استر توسط آنزیم انجام می شود. (خرداد ۹۹)

ب) کدام فعالیت آنزیم دنا بسپاراز (DNA پلی مرز) سبب ویرایش می شود؟ (شهریور ۹۸)
 ب) به فعالیت نوکلئازی دنا بسپاراز، که باعث رفع اشتباه ها در همانندسازی می شود، چه می گویند؟ (شهریور ۹۹)

همانند سازی در پروکاریوت ها و یوکاریوت ها

در پروکاریوت ها که شامل همه باکتری ها می شوند، مولکول های وراثتی در غشا محصور نشده

جاخالی تألیفی

و فام تن اصلی دارای یک مولکول دِنای حلقوی است که در سیتوپلاسم قرار دارد و به غشای یاخته متصل است. پروکاریوت‌ها علاوه بر دِنای اصلی ممکن است مولکول‌هایی از دِنایی دیگر به نام **دیسک**

(پلازمید) داشته باشند. اطلاعات این مولکول‌ها می‌تواند ویژگی‌های دیگری را به باکتری بدهد مانند


افزایش مقاومت باکتری در برابر **پادزیست (آنتی بیوتیک) ها**.

اغلب پروکاریوت‌ها فقط یک جایگاه آغاز همانندسازی در دِنای خود دارند. در این جایگاه دو رشته

دِنای هم باز می‌شوند. همانند یوکاریوت‌ها، همانندسازی دو جهتی در باکتری‌ها نیز وجود دارد؛ یعنی از

یک نقطه همانندسازی شروع و در دو جهت ادامه می‌یابد تا به همدیگر رسیده و همانندسازی پایان یابد

(شکل ۱۳).
تألیفی: باکتری‌ها برخلاف یوکاریوت‌ها، دارای همانندسازی تک‌جهتی هستند (ص/غ).



شکل ۱۳- همانندسازی دو جهتی دِنای پروکاریوت‌ها با یک نقطه آغاز

الف) در یوکاریوت‌ها، دِنای سیتوپلاسمی در چه قسمت‌هایی از یاخته دیده می‌شود؟ (خرداد ۹۹)

در یوکاریوت‌ها که بقیه موجودات زنده یعنی آغازیان، قارچ‌ها، گیاهان و جانوران را شامل می‌شوند دِنای هم باز در صورت خطی است و مجموعه‌ای از پروتئین‌ها که مهم‌ترین آنها هیستون‌ها هستند همراه آن قرار دارند. بیشتر دِنای درون هسته قرار دارد که به آن **دِنای هسته‌ای** می‌گویند. در یوکاریوت‌ها علاوه بر هسته در سیتوپلاسم نیز مقداری دِنای وجود دارد که به آن **دِنای سیتوپلاسمی** می‌گویند. این

نوع از دِنای که حالت حلقوی دارد در راکیزه (میتوکندری) و دیسه (پلاست) دیده می‌شود. الف) دِنای [DNA] در راکیزه [میتوکندری] به حالت (حلقوی - خطی) است. (خرداد ۱۴۰۰)

د) دِنای سیتوپلاسمی جانوران در کدام قسمت یاخته وجود دارد؟ (شهریور ۱۴۰۰)

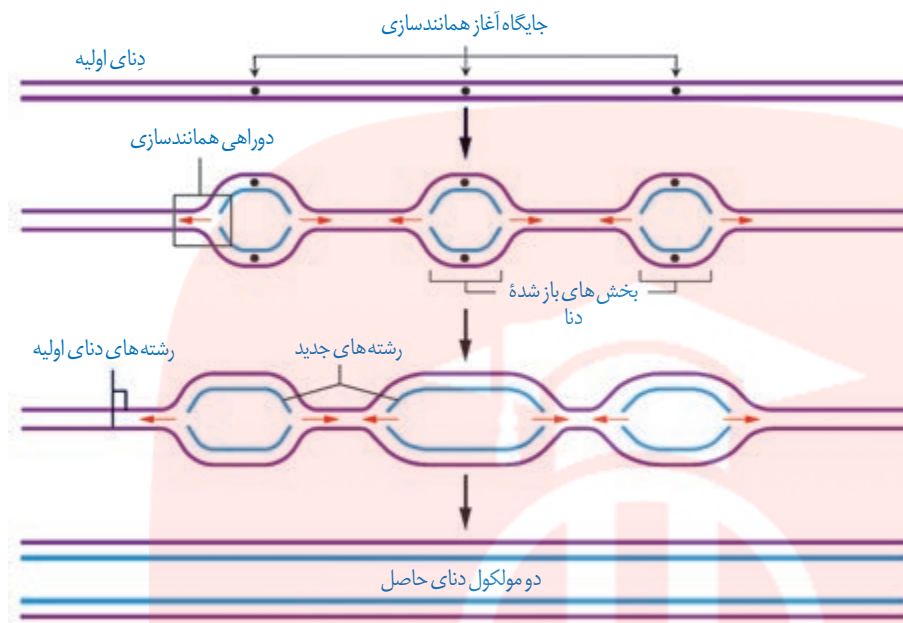
همانندسازی در یوکاریوت‌ها بسیار پیچیده‌تر از پروکاریوت‌ها است. علت این مسئله وجود مقدار زیاد دِنای و قرار داشتن در چندین فام تن است که هر کدام از آنها چندین برابر دِنای باکتری هستند. بنابراین اگر فقط یک جایگاه آغاز همانندسازی در هر فام تن داشته باشند مدت زمان زیادی برای همانندسازی لازم است. به همین علت در یوکاریوت‌ها، آغاز همانندسازی در چندین نقطه در هر فام تن انجام می‌شود (شکل ۱۴).

تعداد جایگاه‌های آغاز همانندسازی در یوکاریوت‌ها حتی می‌تواند بسته به مراحل رشد و نمو تنظیم شود؛ مثلاً در دوران جنینی در مراحل مورولا و بلاستولا (مرحله تشکیل بلاستوسیست) سرعت تقسیم زیاد و تعداد جایگاه‌های آغاز همانندسازی هم زیاد است ولی پس از تشکیل اندام‌ها، سرعت تقسیم و

تعداد جایگاه‌های آغاز کم می‌شوند. الف) تعداد جایگاه‌های آغاز همانندسازی در مرحله مورولا (مشابه - برخلاف) مرحله بلاستولا (زیاد - کم) است. (دی ۱۴۰۰)

ج) به چه علت در یوکاریوت‌ها، آغاز همانندسازی در چندین نقطه در هر فام تن [کروموزوم] انجام می‌شود؟ (خرداد ۱۴۰۱)

الف) چرا در یوکاریوت‌ها، آغاز همانندسازی در چندین نقطه در هر فام تن [کروموزوم] انجام می‌شود؟ (خرداد ۹۹)



شکل ۱۴- همانندسازی در یوکاریوت‌ها

درباره همانندسازی دنا (DNA) به پرسش‌های زیر پاسخ دهید.

الف) با توجه به شکل زیر، در مجموع چند دوراهی همانندسازی دیده می‌شود؟



ب) مهمترین پروتئین‌های همراه با دناى خطى در فام تن (کروموزوم) قارچ‌ها، چه نام دارند؟

مای دارس

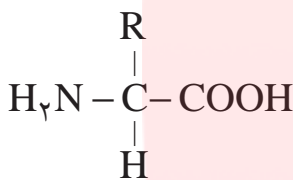
گروه آموزشی عصر

www.my-dars.ir

علاوه بر دنا و رنا که در یاخته ذخیره و انتقال اطلاعات را بر عهده دارند مولکول‌های دیگری نیز هستند که به انجام فرایندهای مختلف یاخته‌ای کمک می‌کنند. از جمله این مولکول‌ها پروتئین‌ها هستند که نقش بسیار مهمی در فرایندهای یاخته‌ای دارند.

ساختار آمینواسیدها الف) نام گروه اسیدی موجود در ساختار آمینواسیدها چیست؟

پروتئین‌ها بسپارهایی از آمینواسیدها هستند. نوع، ترتیب و تعداد آمینواسیدها در پروتئین، ساختار و عمل آنها را مشخص می‌کند. آمینواسیدها همان‌طور که از نامشان برمی‌آید یک **گروه آمین (-NH₂)** و یک **گروه اسیدی کربوکسیل (-COOH)** دارند. همان‌طور که در شکل ۱۵ می‌بینید گروه آمین و کربوکسیل به همراه یک هیدروژن و گروه R همگی به یک کربن مرکزی متصل‌اند و چهار ظرفیت آن را پر می‌کنند. گروه R در آمینواسیدهای مختلف متفاوت است و ویژگی‌های منحصر به فرد هر آمینواسید به آن بستگی دارد.

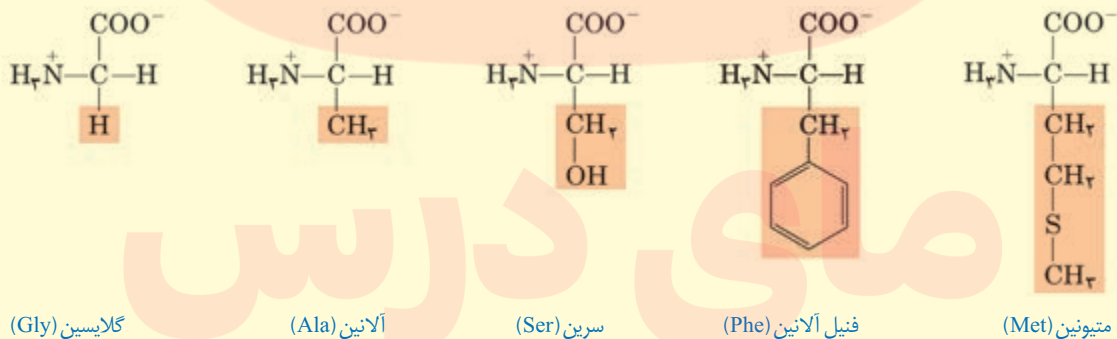


شکل ۱۵- ساختار عمومی یک آمینواسید

هر آمینواسید می‌تواند در شکل دهی پروتئین مؤثر باشد و تأثیر آن به ماهیت شیمیایی گروه R بستگی دارد. الف) ویژگی‌های منحصر به فرد هر آمینواسید به آن بستگی دارد. (شهریور ۱۴۰۰)

بیشتر بدانید

نمونه‌هایی از آمینواسیدها را در زیر می‌بینید که به دلیل تفاوت در R ویژگی‌های متفاوت دارند.



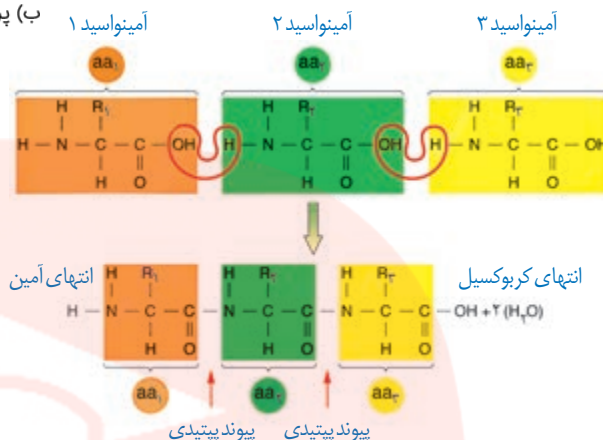
پیوند پپتیدی آمینواسیدها را به یکدیگر متصل می‌کند

آمینواسیدهای مختلف با حضور آنزیم، واکنش **سنتز آبدهی** را انجام می‌دهند. در این نوع واکنش با خروج یک مولکول آب، یک آمینواسید با آمینواسید دیگر پیوند اشتراکی ایجاد می‌کند. این پیوند اشتراکی بین آمینواسیدها را **پیوند پپتیدی** می‌گویند. شکل ۱۶ الگوی ساده‌ای از چگونگی تشکیل این پیوند را نشان می‌دهد. الف) به پیوند اشتراکی بین آمینواسیدها چه می‌گویند؟ (شهریور ۹۸)

(ب) پروتئین‌ها از یک یا چند زنجیره بلند و (بدون شاخه - شاخه‌دار) از پلی‌پپتیدها ساخته شده‌اند. (دی ۱۴۰۰)

(ب) پروتئین‌ها از یک یا چند زنجیره بلند و انشعاب‌دار از پلی‌پپتیدها ساخته شده‌اند. (غ) (خرداد ۹۹)

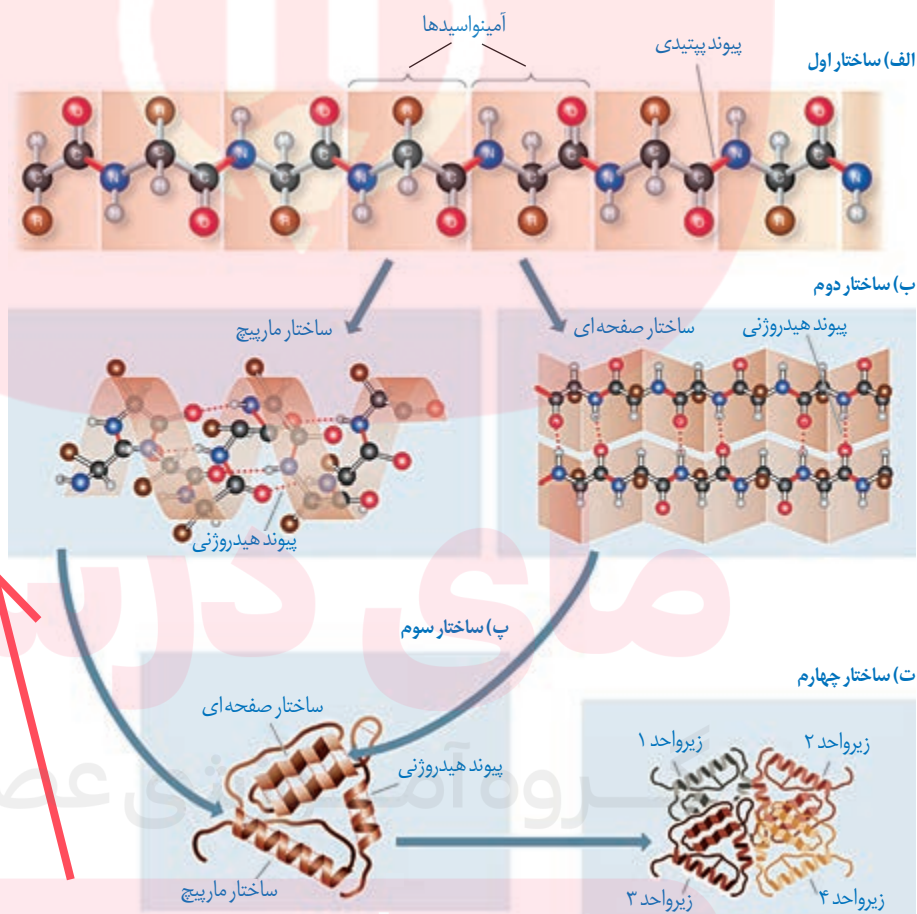
وقتی تعدادی آمینواسید با پیوند پپتیدی به هم وصل شوند، زنجیره‌ای از آمینواسیدها به نام **پلی‌پپتید** تشکیل می‌شود. پروتئین‌ها از یک یا چند زنجیره بلند و بدون شاخه از پلی‌پپتیدها ساخته شده‌اند. هر نوع پروتئین، ترتیب خاصی از آمینواسیدها را دارد که با استفاده از روش‌های شیمیایی، آمینواسیدها را جدا و آنها را شناسایی می‌کنند. اگرچه آمینواسیدها در طبیعت انواع گوناگونی دارند اما فقط ۲۰ نوع از آنها در ساختار پروتئین‌ها به کار می‌روند.



شکل ۱۶- تشکیل پیوند پپتیدی

سطوح مختلف ساختاری در پروتئین‌ها

شکل فضایی پروتئین، نوع عمل آن را مشخص می‌کند. یکی از راه‌های پی‌بردن به شکل پروتئین استفاده از پرتوهای ایکس است. با استفاده از تصاویر حاصل از آن و روش‌های دیگر، محققین به ساختار سه‌بعدی پروتئین‌ها پی‌می‌برند که در آن حتی جایگاه هر اتم را می‌توانند مشخص کنند. **اولین پروتئینی که ساختار آن شناسایی شد میوگلوبین بود.** آیا به یاد می‌آورید میوگلوبین در بدن چه نقشی دارد؟ این پروتئین از یک رشته پلی‌پپتید تشکیل شده است. ساختار پروتئین‌ها در چهار سطح بررسی می‌شود که هر ساختار مبنای تشکیل ساختار بالاتر است. (شکل ۱۷).



(الف) اولین پروتئینی که ساختار آن شناسایی شد، بود. (دی ۹۸)

شکل ۱۷- ساختار پروتئین‌ها در چهار ساختار بررسی می‌شود.

جاخالی تألیفی

ساختار اول پروتئین - توالی آمینواسیدها: نوع، تعداد، ترتیب و تکرار آمینواسیدها، ساختار اول

پروتئین‌ها را تعیین می‌کنند. ساختار اول با ایجاد پیوندهای پپتیدی بین آمینواسیدها شکل می‌گیرد و خطی است. این پیوند در واقع نوعی پیوند اشتراکی است. تغییر آمینواسید در هر جایگاه موجب تغییر در ساختار اول پروتئین می‌شود و ممکن است فعالیت آن را تغییر دهد. با در نظر گرفتن ۲۰ نوع آمینواسید و اینکه محدودیتی در توالی آمینواسیدها در ساختار اول پروتئین‌ها وجود ندارد پروتئین‌های حاصل می‌توانند بسیار متنوع باشند. با توجه به اهمیت توالی آمینواسیدها در ساختار اول، همه سطوح دیگر ساختاری در پروتئین‌ها به این ساختار بستگی دارند (شکل ۱۷-الف).

جاخالی تألیفی

ساختار دوم - الگوهایی از پیوندهای هیدروژنی: بین بخش‌هایی از زنجیره پلی‌پپتیدی

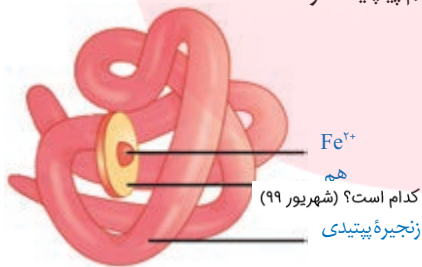
می‌تواند پیوندهای هیدروژنی برقرار شود. این پیوندها منشأ تشکیل ساختار دوم در پروتئین‌ها هستند که به چند صورت دیده می‌شوند. دو نمونه معروف آنها ساختار مارپیچ و ساختار صفحه‌ای است (شکل ۱۷-ب).

تألیفی: دو نمونه معروف از ساختار دوم را ذکر کنید؟

الف) تشکیل کدام ساختار پروتئین‌ها، در اثر برهم‌کنش‌های آب‌گریز است؟ (دی ۹۸)

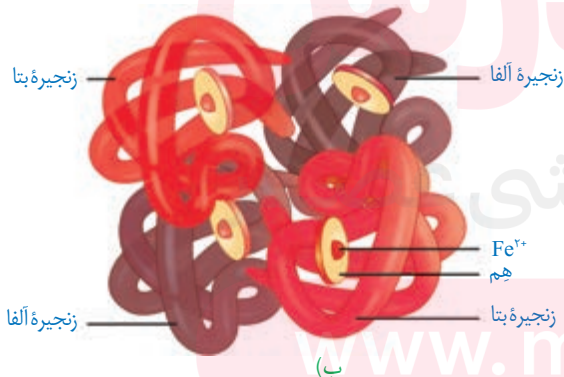
ساختار سوم - تاخورده و متصل به هم: در ساختار سوم، تاخوردگی بیشتر صفحات و مارپیچ‌ها

رخ می‌دهد و پروتئین‌ها به شکل‌های متفاوتی در می‌آیند. تشکیل این ساختار در اثر برهم‌کنش‌های آب‌گریز است؛ به این صورت که گروه‌های R آمینواسیدهایی که آب‌گریزند، به یکدیگر نزدیک می‌شوند تا در معرض آب نباشند. سپس با تشکیل پیوندهای دیگری مانند هیدروژنی، اشتراکی و یونی ساختار سوم پروتئین تثبیت می‌شود. مجموعه این نیروها قسمت‌های مختلف پروتئین را به صورت به هم پیچیده در کنار هم نگه می‌دارند (شکل ۱۷-پ). بنابراین با وجود این نیروها پروتئین‌های دارای ساختار سوم، ثبات نسبی دارند. ایجاد تغییر در پروتئین، حتی تغییر یک آمینواسید هم می‌تواند ساختار و عملکرد آن را به شدت تغییر دهد. میوگلوبین



الف)

ب) در چه صورت ساختار چهارم شکل می‌گیرد؟ (شهریور ۹۸)



ب)

شکل ۱۸

الف) میوگلوبین با ساختار سوم

ب) هموگلوبین با ساختار چهارم

نمونه‌ای از پروتئین‌ها با ساختار سوم است (شکل ۱۸-الف). الف) ساختار نهایی پروتئین در میوگلوبین کدام است؟ (شهریور ۹۹)

ب) نمونه‌ای از پروتئین‌ها با ساختار نهایی چهارم، میوگلوبین است. (غ) (خرداد ۹۸)

ساختار چهارم - آرایش زیرواحد‌ها: بعضی پروتئین‌ها ساختار چهارم

دارند، این ساختار هنگامی شکل می‌گیرد که دو یا چند زنجیره پلی‌پپتید در کنار یکدیگر پروتئین را تشکیل دهند. در این ساختار هریک از زنجیره‌ها نقشی کلیدی در شکل‌گیری پروتئین دارند. نحوه آرایش این زیرواحد‌ها در کنار هم ساختار چهارم پروتئین‌ها نامیده می‌شود (شکل ۱۷-ت).

هموگلوبین از چهار زنجیره پلی‌پپتیدی تشکیل شده است. دو زنجیره از نوع آلفا و دو زنجیره از نوع بتا است. هر نوع زنجیره، ترتیب خاصی از آمینواسیدها را در ساختار اول دارند. در ساختار دوم به شکل مارپیچ در می‌آیند. در ساختار سوم هریک از زنجیره‌ها به صورت یک زیرواحد، تاخورده و شکل خاصی پیدا می‌کند. در نهایت در ساختار چهارم، این چهار زیرواحد در کنار هم قرار گرفته و هموگلوبین را شکل می‌دهند (شکل ۱۸-ب).

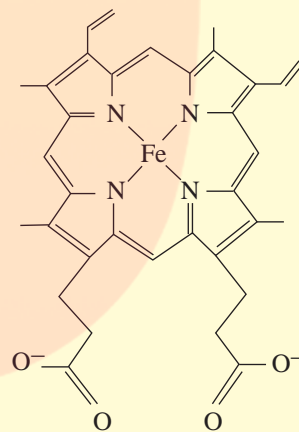
ب) زنجیره‌های سازنده هموگلوبین، در ساختار دوم به چه شکل در می‌آیند؟ (شهریور ۹۹)

الف) زنجیره‌های سازنده هموگلوبین، در ساختار دوم به شکل در می‌آیند.

(ج) آنزیم‌هایی مثل پمپ سدیم - پتاسیم، فعالیت خود را در انجام می‌دهند. (دی ۱۴۰۰)

بیشتر بدانید

هم (Heme) ترکیبی آهن دار و غیر پروتئینی است و در ساختار پروتئین‌هایی مانند هموگلوبین و میوگلوبین وجود دارد. هم انواع متفاوتی دارد، فرمول شیمیایی رایج ترین آن $C_{33}H_{32}N_4O_6Fe$ است. هر زنجیره هموگلوبین، یک گروه هم دارد که با داشتن اتم آهن می‌تواند به یک مولکول اکسیژن متصل شود؛ بنابراین مولکول هموگلوبین ظرفیت حمل چهار اکسیژن را دارد.



نقش پروتئین‌ها

پروتئین‌ها متنوع‌ترین گروه مولکول‌های زیستی از نظر ساختار شیمیایی و عملکردی هستند. پروتئین‌ها در فرایندها و فعالیت‌های متفاوتی شرکت دارند از جمله **فعالیت آنزیمی** که در آن به صورت کاتالیزورهای زیستی عمل می‌کنند و سرعت واکنش شیمیایی خاصی را زیاد می‌کنند.

بعضی دیگر از پروتئین‌ها به صورت گیرنده‌هایی در سطح یاخته‌ها قرار دارند؛ مثلاً گیرنده‌های آنتی ژنی در سطح لنفوسیت‌ها نمونه‌ای از این پروتئین‌ها هستند.

برخی پروتئین‌ها مثل هموگلوبین گازهای تنفسی را در خون منتقل می‌کنند.

پمپ سدیم - پتاسیم نیز که با آن آشنا هستید، پروتئینی است که در غشا وجود دارد. این پمپ یون‌های سدیم و پتاسیم را در عرض غشا جابه‌جا می‌کند و فعالیت آنزیمی هم دارد. آیا محل‌های فعالیت و نقش آنزیمی این پمپ را به یاد دارید؟

کلاژن پروتئینی است که باعث استحکام بافت پیوندی می‌شود. زردپی و رباط مقدار فراوانی از پروتئین کلاژن دارند (الف) هورمون‌ها، پیام‌های بین یاخته‌ای را در بدن جانوران ردوبدل می‌کند. (ص) (خرداد ۱۴۰۰)

انقباض ماهیچه‌ها نیز ناشی از حرکت لغزشی دو نوع پروتئین روی یکدیگر یعنی اکتین و میوزین است. از دیگر پروتئین‌ها می‌توان به هورمون‌ها اشاره کرد. بیشتر هورمون‌ها از جمله اکسی‌توسین و انسولین که پیام‌های بین یاخته‌ای را در بدن جانوران ردوبدل می‌کنند تا تنظیم‌های مختلف در بدن انجام شود، پروتئینی هستند. همچنین پروتئین‌هایی مثل مهارکننده‌ها که بعداً با آنها آشنا خواهید شد، نقش‌های تنظیمی متعددی را در فعال و غیرفعال کردن ژن‌ها بر عهده دارند.

آنزیم‌ها

واکنش‌های شیمیایی در صورتی سرعت مناسب می‌گیرند که انرژی اولیه کافی برای انجام آن وجود داشته باشد. این انرژی را انرژی فعال سازی گویند. انجام واکنش‌ها در بدن موجود زنده نیز که با عنوان کلی سوخت‌وساز مطرح می‌شوند همین طور هستند. این واکنش‌ها با حضور آنزیم انجام می‌شوند. آنزیم امکان برخورد مناسب مولکول‌ها را افزایش و **انرژی فعال سازی واکنش را کاهش می‌دهد.** همچنین با این کار سرعت واکنش‌هایی را که در بدن موجود زنده انجام شدنی هستند زیاد می‌کند. بدون آنزیم ممکن است در دمای بدن سوخت‌وساز یاخته‌ها بسیار کند انجام شود و انرژی لازم برای حیات تأمین نشود. آنزیم‌های ترش‌حی دستگاه گوارش مثل آمیلاز بزاق و لیپاز در خارج یاخته عمل می‌کنند ولی آنزیم‌های

(ب) چرا آنزیم، انرژی فعال سازی واکنش را کاهش می‌دهد؟ (دی ۹۸)
 (ج) آنزیم‌ها چه تأثیری بر انرژی فعال سازی واکنش دارند؟ (شهریور ۹۹)
 آنزیم‌ها چه تأثیری بر انرژی فعال سازی واکنش‌ها دارند؟ (شهریور ۱۴۰۰)

مؤثر در تنفس یاخته‌ای، فتوسنتز و همانندسازی درون یاخته فعالیت می‌کنند. البته گروهی از آنزیم‌ها مثل پمپ سدیم-پتاسیم فعالیت خود را در غشا انجام می‌دهند.

ساختار آنزیم‌ها

ج) بخش اختصاصی در آنزیم که پیش‌ماده در آن قرار می‌گیرد، چه نام دارد؟ (شهریور ۹۸)
 ب) نام بخش اختصاصی آنزیم که پیش‌ماده در آن قرار می‌گیرد، چیست؟ (خرداد ۹۹)

بیشتر آنزیم‌ها پروتئینی هستند. آنزیم‌ها در ساختار خود بخشی به نام جایگاه فعال^۱ دارند. جایگاه فعال بخشی اختصاصی در آنزیم است که پیش‌ماده^۲ در آن قرار می‌گیرد. ترکیباتی که آنزیم روی آنها عمل می‌کند، پیش‌ماده و ترکیباتی که حاصل فعالیت آنزیم هستند، فراورده^۳ یا محصول خوانده می‌شوند (شکل ۱۹).

الف) بعضی آنزیم‌ها برای فعالیت به یون‌های فلزی مانند آهن، مس و یا مواد آلی مثل

ویتامین‌ها نیاز دارند که به این مواد می‌گویند. (خرداد ۹۸)

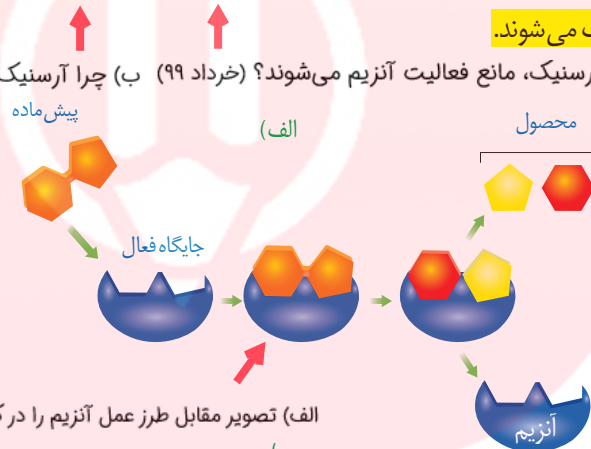
بعضی آنزیم‌ها برای فعالیت به یون‌های فلزی مانند آهن، مس و یا مواد آلی مثل ویتامین‌ها نیاز دارند.

به مواد آلی که به آنزیم کمک می‌کنند کوآنزیم^۴ می‌گویند. وجود بعضی از مواد سمی در محیط مثل

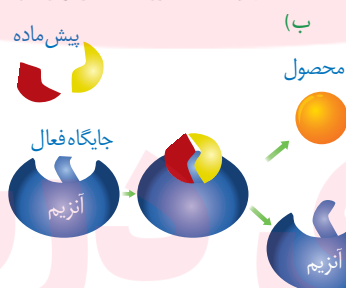
سیانید و آرسنیک می‌تواند با قرار گرفتن در جایگاه فعال آنزیم، مانع فعالیت آن شود. بعضی از این مواد به

همین طریق باعث مرگ می‌شوند.

ب) چرا مواد سمی مانند سیانید یا آرسنیک، مانع فعالیت آنزیم می‌شوند؟ (خرداد ۹۹) ب) چرا آرسنیک مانع فعالیت آنزیم می‌شود؟ (خرداد ۱۴۰۰)



الف) تصویر مقابل طرز عمل آنزیم را در کدام نوع از واکنش‌های سوخت‌وسازی نشان می‌دهد؟ (خرداد ۱۴۰۱)



شکل ۱۹- طرز عمل آنزیم در واکنش‌های سوخت‌وسازی الف) تجزیه، ب) ترکیب

ب) شکل آنزیم در جایگاه فعال با شکل پیش‌ماده یا بخشی از آن (مشابه - مکمل) یکدیگرند. (دی ۹۸)

- ۱- Active site
- ۲- Substrate
- ۳- Product
- ۴- Coenzyme

www.my-dars.ir

عملکرد اختصاصی آنزیم‌ها

هر آنزیم روی یک یا چند پیش‌ماده خاص مؤثر است. بنابراین گفته می‌شود که آنزیم‌ها عمل اختصاصی دارند. شکل آنزیم در جایگاه فعال با شکل پیش‌ماده یا بخشی از آن مطابقت دارد و به اصطلاح مکمل یکدیگرند.

اگرچه آنزیم‌ها عملی اختصاصی دارند ولی برخی از آنها بیش از یک نوع واکنش را سرعت می‌بخشند. آیا می‌توانید مثالی از این نوع آنزیم‌ها بیاورید؟ (الف) چرا یاخته‌ها به مقدار کم به آنزیم نیاز دارند؟ (دی ۹۹)

آنزیم‌ها در همه واکنش‌های شیمیایی بدن جانداران که شرکت می‌کنند؛ سرعت واکنش را زیاد می‌کنند اما در پایان واکنش‌ها دست نخورده باقی می‌مانند تا بدن بتواند بارها از آنها استفاده کند. به همین دلیل یاخته‌ها به مقدار کم به آنزیم‌ها نیاز دارند. البته به مرور مقداری از آنها از بین می‌روند و یاخته مجبور به تولید آنزیم‌های جدید می‌شود.

عوامل مؤثر بر فعالیت آنزیم‌ها

عوامل متعددی از جمله pH، دما، غلظت آنزیم و پیش‌ماده بر سرعت فعالیت آنزیم‌ها تأثیر می‌گذارند. **pH محیط:** pH بیشتر مایعات بدن بین ۶ و ۸ است؛ مثلاً pH خون حدود ۷/۴ است. البته pH بعضی بخش‌ها خارج از این محدوده هستند. یکی از این موارد، pH ترشحات معده است که حدود ۲ می‌باشد. هر آنزیم در یک pH ویژه بهترین فعالیت را دارد که به آن pH بهینه می‌گویند؛ مثلاً pH بهینه پپسین حدود ۲ است در حالی که آنزیم‌هایی که از لوزالمعده به روده کوچک وارد می‌شوند pH بهینه حدود ۸ دارند. تغییر pH محیط با تأثیر بر پیوندهای شیمیایی مولکول پروتئین می‌تواند باعث تغییر شکل آنزیم شود و در نتیجه امکان اتصال آن به پیش‌ماده از بین برود، در نتیجه میزان فعالیت آن تغییر می‌کند.

دما: آنزیم‌های بدن انسان در دمای ۳۷ درجه سانتی‌گراد بهترین فعالیت را دارند. این آنزیم‌ها در دمای بالاتر ممکن است شکل غیرطبیعی یا برگشت‌ناپذیر پیدا کنند و غیرفعال شوند. آنزیم‌هایی که در دمای پایین غیرفعال می‌شوند با برگشت دما به حالت طبیعی، می‌توانند به حالت فعال برگردند.

غلظت آنزیم و پیش‌ماده: مقدار بسیار کمی از آنزیم کافی است تا مقدار زیادی از پیش‌ماده را در واحد زمان به فراورده تبدیل کند. اگر مقدار آنزیم زیادتر شود تولید فراورده در واحد زمان افزایش می‌یابد. افزایش غلظت پیش‌ماده در محیطی که آنزیم وجود دارد نیز می‌تواند تا حدی باعث افزایش سرعت شود ولی این افزایش تا زمانی ادامه می‌یابد که تمامی جایگاه‌های فعال آنزیم‌ها با پیش‌ماده اشغال شوند. در این حالت سرعت انجام واکنش ثابت می‌شود.

(ج) افزایش غلظت پیش‌ماده در محیطی که آنزیم وجود دارد، تا چه زمانی می‌تواند باعث افزایش سرعت واکنش شود؟ (شهریور ۹۹)

بیشتر بدانید

باکتری‌های مقاوم به گرما

بعضی باکتری‌ها در چشمه‌های آب گرم زندگی می‌کنند. آنزیم‌های این باکتری‌ها در دمای حدود ۸۰ درجه سانتی‌گراد بیشترین فعالیت را دارند. دمای آنها هم درصد زیادی باز G و C دارد تا با سه پیوند هیدروژنی استحکام و ثبات بیشتری داشته باشد.

فعالیت ۲

الف) گفته می‌شود تب بالا خطرناک است، بین این مسئله و فعالیت آنزیم‌ها چه ارتباطی می‌بینید؟
ب) با توجه به تأثیر متفاوت دمای کم و زیاد روی آنزیم‌ها، از این ویژگی آنزیم‌ها در آزمایشگاه‌ها چگونه می‌توان استفاده کرد؟
ب) با توجه به تأثیر متفاوت دمای کم و زیاد روی آنزیم‌ها، از این ویژگی آنزیم‌ها در آزمایشگاه‌ها چگونه می‌توان استفاده کرد؟



فصل ۲

جریان اطلاعات در یاخته



تصویر بالا دو گویچه قرمز را نشان می‌دهد. گویچه سمت راست مربوط به شخصی است که دچار نوعی بیماری ارثی به نام **کم‌خونی داسی شکل** است. علت این بیماری نوعی تغییر ژنی است که باعث می‌شود پروتئین هموگلوبین حاصل از آن دچار تغییر شود که نتیجه آن تغییر شکل گویچه قرمز از حالت گرد به داسی شکل است. این تغییر ژنی، بسیار جزئی است و در آن تنها یک جفت از صدها جفت نوکلئوتید دنا در افراد بیمار تغییر یافته است. همچنین این بیماری به نوعی، رابطه بین ژن و پروتئین را نشان می‌دهد. به نظر شما اطلاعات ژن‌ها چگونه در این یاخته‌ها مورد استفاده قرار می‌گیرد؟ آیا این اطلاعات در سایر یاخته‌ها نیز وجود دارد؟ چرا بعضی ژن‌ها مانند ژن سازنده هموگلوبین فقط در گویچه‌های قرمز بروز می‌کنند و مثلاً در یاخته‌های بافت پوششی پوست بروز نمی‌کنند؟ این موارد نمونه پرسش‌هایی هستند که در این فصل به آنها پاسخ داده می‌شود.



طرح سؤالات عددی و محاسباتی از مباحث این فصل در همه آزمون‌ها از جمله کنکور سراسری ممنوع است.

به منظور آمادگی کامل برای امتحان نهایی زیست شناسی دوازدهم و تکمیل این جزوه، کلاس آمادگی امتحان نهایی دکتر خیراندیش و دکتر فرهنگ‌دیا در گروه آموزشی ماز را مورخ شنبه و یکشنبه ۱۳ و ۱۴ خردادماه از ساعت ۱۲:۰۰ لغایت ۱۵:۰۰ مشاهده نمایید.

در فصل گذشته دیدید که واحد سازنده مولکول دنا، نوکلئوتید است ولی پلی پپتیدها از آمینواسید تشکیل شده اند. چون دستورالعمل ساخت پلی پپتیدها در مولکول دنا قرار دارد، پس باید بین نوکلئوتیدهای ژن و آمینواسیدهای پلی پپتید، ارتباطی وجود داشته باشد.

دنا چگونه نوع آمینواسیدهای پلی پپتید را تعیین می کند؟

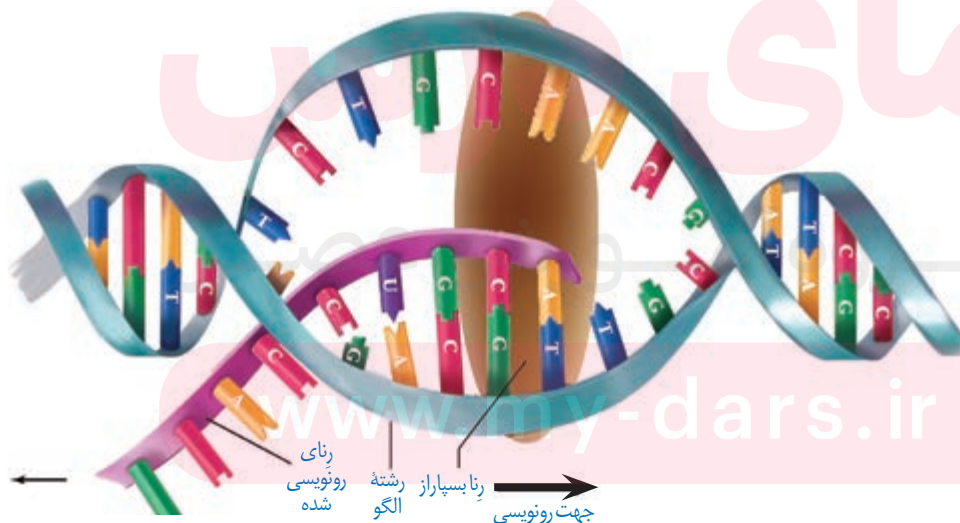
آموختید که در مولکول دنا، ۴ نوع نوکلئوتید وجود دارد که فقط در نوع بازهای آلی تفاوت دارند. درحالی که پلی پپتیدها از ۲۰ نوع آمینواسید تشکیل شده اند. پس از پژوهش هایی مشخص شد که هر توالی ۳ تایی از نوکلئوتیدهای دنا، بیانگر نوعی آمینواسید است. با ۴ نوع نوکلئوتید به کار رفته در دنا، ۶۴ توالی ۳ نوکلئوتیدی مختلف ایجاد می شود که می توانند رمز ساخت پلی پپتیدهایی با ۲۰ نوع آمینواسید را داشته باشند؛ به هر یک از این توالی های سه نوکلئوتیدی در دنا رمز می گویند.

جاخالی تألیفی

نقش مولکول رنا به عنوان میانجی

می دانید که پلی پپتیدها بر اساس اطلاعات دنا و توسط رناتن ها در سیتوپلاسم ساخته می شوند. در یاخته های دارای هسته، چون رناتن ها درون هسته حضور ندارند، فرایند ساخت پلی پپتید در آن انجام نمی شود. با توجه به اینکه اطلاعات دنا برای ساخت پلی پپتید ضروری است و دنا هم از هسته خارج نمی شود، این سؤال پیش می آید که دستورات ساخت پلی پپتید چگونه به بیرون هسته منتقل می شود؟ پاسخ در مولکول رنا است. همان طور که دیدید انواعی از رنا در یاخته وجود دارند که در پروتئین سازی نقش دارند. این رناها از روی مولکول دنا ساخته می شوند. به ساخته شدن مولکول رنا از روی بخشی از یک رشته دنا، رونویسی گفته می شود (شکل ۱).

جاخالی تألیفی



شکل ۱- طرح ساده ای از فرایند رونویسی

نوع رنا (rRNA)	آنزیمی که وظیفه ساخت این مولکول را دارد.
rRNA یا رنای رناتنی	رنابسیپاراز ۱
الف:	رنابسیپاراز ۲
ب:	رنابسیپاراز ۳

اساس رونویسی شبیه همانندسازی است. در این فرایند نیز با توجه به نوکلئوتیدهای رشته دنا، نوکلئوتیدهای مکمل در زنجیره رنا قرار می‌گیرد و به هم متصل می‌شوند. برخلاف همانندسازی که در هر

چرخه یاخته‌ای یک بار انجام می‌شود، رونویسی یک ژن می‌تواند در هر چرخه بارها انجام شود و چندین

رشته رنا ساخته شود. آیا می‌توانید تفاوت‌های دیگری برای این دو فرایند بیان کنید؟ (ج) یک تفاوت همانندسازی و رونویسی را بنویسید. (خرداد ۹۹)

آنزیم‌های ویژه‌ای رونویسی را تسهیل می‌کنند

در یاخته انواعی از رنا ساخته می‌شود. عمل رونویسی از دنا به کمک آنزیم‌ها انجام می‌شود. این آنزیم‌ها را، تحت عنوان کلی **رنابسیپاراز** نام‌گذاری می‌کنند.

در پروکاریوت‌ها یک نوع رنابسیپاراز وظیفه ساخت انواع رنا را بر عهده دارد. در یوکاریوت‌ها، انواعی از رنابسیپاراز، ساخت رناهای مختلف را انجام می‌دهند؛ مثلاً رنای بیک توسط رنابسیپاراز ۲، رنای ناقل توسط رنابسیپاراز ۳ و رنای رناتنی توسط رنابسیپاراز ۱ ساخته می‌شود.

الف) در یوکاریوت‌ها رنای رناتنی (rRNA) توسط کدام رنابسیپاراز ساخته می‌شود؟ (خرداد ۹۸)

مراحل رونویسی

رونویسی فرایندی پیوسته است ولی برای سادگی موضوع، آن را به سه مرحله آغاز، **طویل شدن** و **پایان** تقسیم می‌کنند. در این مراحل، آنزیم رنابسیپاراز، عمل رونویسی را از بخشی از یک رشته دنا انجام می‌دهد. (ب) در کدام مرحله، رنابسیپاراز راه‌انداز را شناسایی می‌کند؟ (خرداد ۹۸)

مرحله آغاز: در این مرحله، رنابسیپاراز به مولکول دنا متصل می‌شود و دو رشته آن را از هم باز می‌کند. به نظر **برای باز شدن دو رشته کدام پیوندها در این ناحیه شکسته می‌شوند؟** برای اینکه رونویسی ژن از محل صحیح خود شروع شود توالی‌های نوکلئوتیدی ویژه‌ای در دنا وجود دارد که رنابسیپاراز آن را شناسایی می‌کند. به این توالی‌ها، **راه‌انداز** گفته می‌شود. راه‌انداز موجب می‌شود رنابسیپاراز اولین

نوکلئوتید مناسب را به طور دقیق پیدا و رونویسی را از آنجا آغاز کند. در این حالت بخش کوچکی از مولکول دنا باز و زنجیره کوتاهی از رنا ساخته می‌شود (شکل ۲- الف). نحوه عمل رنابسیپاراز به این صورت است که آنزیم با توجه به نوع نوکلئوتید رشته الگوی دنا، نوکلئوتید مکمل را در برابر آن قرار می‌دهد و سپس این نوکلئوتید را به نوکلئوتید قبلی رشته رنا متصل می‌کند. در رونویسی، نوکلئوتید یوراسیل دار رنا به عنوان مکمل در برابر نوکلئوتید آدنین دار دنا قرار می‌گیرد. **چرا برای رونویسی از ژن به راه‌انداز نیاز است؟** (شهریور ۹۸)

مرحله طویل شدن: در این مرحله رنابسیپاراز ساخت رنا را ادامه می‌دهد که در نتیجه آن، رنا طویل می‌شود. همچنان که مولکول رنابسیپاراز به پیش می‌رود، دو رشته دنا در جلوی آن باز و در چندین نوکلئوتید عقب‌تر، رنا از دنا جدا می‌شود و دو رشته دنا مجدداً به هم می‌پیوندند (شکل ۲- ب).

مرحله پایان: در دنا توالی‌های ویژه‌ای وجود دارد که موجب پایان رونویسی توسط آنزیم رنابسیپاراز

الف) توالی‌های نوکلئوتیدی ویژه در دنا که رنابسیپاراز آن را جهت آغاز رونویسی ژن از محل صحیح خود، شناسایی می‌کند، چه نام دارند؟ (دی ۱۴۰۰)

www.my-dars.ir

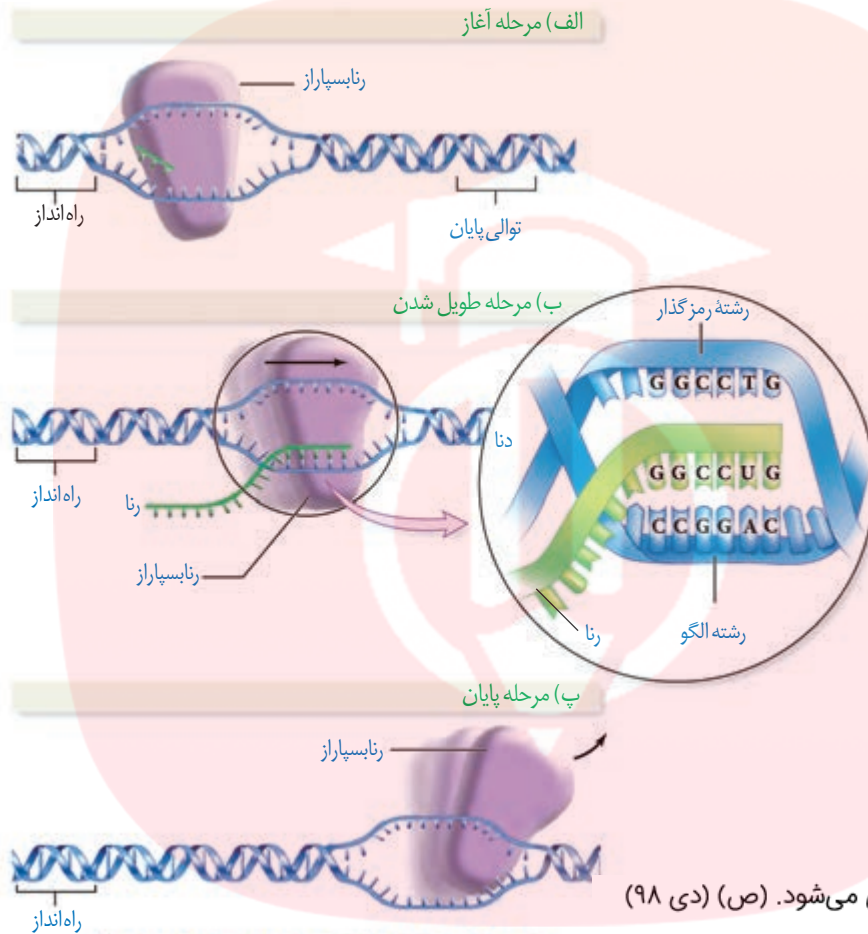
۱- Initiation

۲- Promoter

۳- Elongation

۴- Termination

می شوند. در این محل ها، آنزیم از مولکول دنا و رنای تازه ساخت جدا و دو رشته دنا به هم متصل می شوند (شکل ۲- پ).



(الف) فقط یکی از دو رشته هر ژن رونویسی می شود. (ص) (دی ۹۸)

شکل ۲- مراحل مختلف رونویسی

(ب) به چه دلیل به رشته دنا می گوییم که در محل رونویسی ژن، رشته رمزگذار گفته می شود؟ (دی ۱۴۰۰)
 (ج) چرا در فرایند رونویسی به رشته کامل الگو در مولکول دنا، رشته رمزگذار گفته می شود؟ (خرداد ۱۴۰۰)

فقط یکی از دو رشته دنا در هر ژن رونویسی می شود

همان طور که گفته شد، ژن بخشی از مولکول دنا می باشد که دو رشته ای است ولی رونویسی از روی هر دو رشته یک ژن انجام نمی شود. به نظر شما اگر از روی دو رشته یک ژن رونویسی انجام می شد، محصولات این دو رشته مکمل نسبت به هم چگونه می شدند؟ مسلماً رنا و پلی پپتید ساخته شده از روی دو رشته مکمل دنا بسیار متفاوت می شدند. بنابراین برای هر ژن خاص، یکی از دو رشته رونویسی می شود. به بخشی از رشته دنا که مکمل رشته رنا می باشد گفته می شود **رشته الگو** می گویند (شکل ۲- الف). به رشته مکمل همین بخش در مولکول دنا، **رشته رمزگذار** گفته می شود، زیرا توالی نوکلئوتیدی آن شبیه رشته رنای است که از روی رشته الگوی آن ساخته می شود. به نظر شما رشته رنا با رشته رمزگذار چه تفاوت هایی می تواند داشته باشد؟ پاسخ در نوکلئوتیدهای مورد استفاده است؛ مثلاً به جای نوکلئوتید تیمین دار در دنا، نوکلئوتید یوراسیل دار در رنا قرار دارد.

(ج) در رونویسی، نوکلئوتید تیمین دار رنا به عنوان مکمل در برابر نوکلئوتید آدنین دار دنا قرار می گیرد. (غ) (خرداد ۹۹)

رشته رنایی که از روی رشته الگوی دنا ساخته شده است با رشته رمزگذار چه تفاوتی می تواند داشته باشد؟ (خرداد ۱۴۰۱)

(الف) رشته رنا (RNA) با رشته رمزگذار چه تفاوت هایی دارد؟ (شهریور ۱۴۰۰)

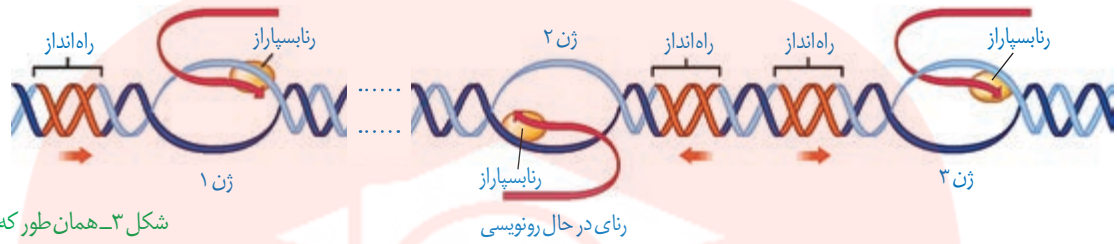
در شکل مقابل طرحی ساده از رناتن‌هایی که چند رنای در حال رونویسی را ترجمه می‌کنند، نشان داده شده است. (خرداد ۱۴۰۱)

(الف) کدام جهت، جهت رونویسی را به درستی نشان می‌دهد؟ (الف یا ب)

(ب) کدام آنزیم با شماره (۱) مشخص شده است؟

رشته مورد رونویسی یک ژن ممکن است با رشته مورد رونویسی ژن‌های دیگر یکسان یا متفاوت باشد

(ب) رشته مورد رونویسی یک ژن ممکن است با رشته مورد رونویسی ژن‌های دیگر یکسان یا متفاوت باشد. (شکل ۳).



شکل ۳- همان‌طور که در شکل مشاهده می‌شود، فقط یکی از دو رشته هر ژن رونویسی می‌شود.

رنای ساخته شده دچار تغییر می‌شوند

در چند دهه گذشته، پژوهشگران دریافته‌اند که در یاخته‌های یوکاریوتی، رنای ساخته شده در رونویسی با رنایی که در سیتوپلاسم وجود دارد تفاوت‌هایی دارد. بعدها مشخص شد که این مولکول‌ها برای انجام کارهای خود دستخوش تغییراتی می‌شوند.

(ب) در یاخته‌های یوکاریوتی، رنای ساخته شده در رونویسی برای انجام کارهای خود، دستخوش تغییراتی می‌شوند. (ص) (شهریور ۹۹)

تغییرات رنای پیک

رنای پیک ممکن است دستخوش تغییراتی در حین رونویسی و یا پس از آن شود. یکی از این تغییرات

حذف بخش‌هایی از مولکول رنای پیک است. در بعضی ژن‌ها، توالی‌های معینی از رنای ساخته شده، جدا و حذف می‌شود و سایر بخش‌ها به هم متصل می‌شوند و یک رنای پیک یکپارچه می‌سازند. به این فرایند **پیرایش^۱** گفته می‌شود (شکل ۴).



شکل ۴- پیرایش در بخشی از رنای یک ژن

این فرایند هنگامی آشکار شد که دانشمندان یک رنای پیک درون سیتوپلاسم را با رشته الگوی ژن آن در دنا مجاورت دادند. آنها دریافتند که بخش‌هایی از دنا الگو با رنای رونویسی شده، دو رشته مکمل را تشکیل می‌دهند ولی بخش‌هایی نیز فاقد مکمل باقی می‌مانند. این بخش‌ها به صورت حلقه‌هایی بیرون از مولکول دو رشته‌ای قرار می‌گیرند. به این نواحی که در مولکول دنا وجود دارد ولی رونوشت آن در رنای پیک سیتوپلاسمی حذف شده **میان (ایترون)^۲** می‌گویند. به سایر بخش‌های مولکول

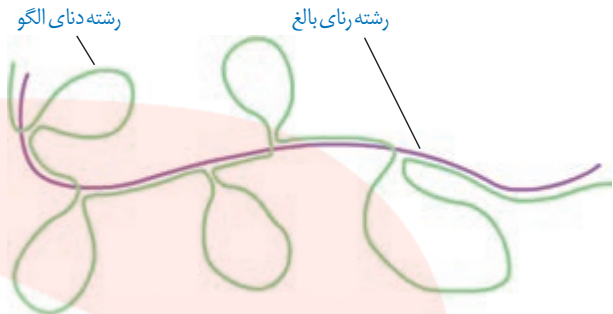
(ج) به بخش‌هایی از مولکول دنا که رونوشت آن‌ها در رنای پیک سیتوپلاسمی حذف شده، (میان - بیانه) می‌گویند. (دی ۹۸)

^۲- Intron

(ب) رنای رونویسی شده از رشته الگو، در ابتدا دارای رونوشت‌های میانه دنا است. به این رنا، گفته می‌شود. (خرداد ۹۹)

دنا، که رونوشت آنها حذف نمی‌شوند **بیانه (اگزون)**^۱ گفته می‌شود. در واقع رنای رونویسی شده از رشته الگو، در ابتدا دارای رونوشت‌های میانه دنا است. به این رنا، **رنای نابالغ یا اولیه**^۲ گفته می‌شود. با حذف این رونوشت‌ها از رنای اولیه و پیوستن بخش‌های باقی‌مانده به هم، **رنای بالغ**^۳ ساخته می‌شود.

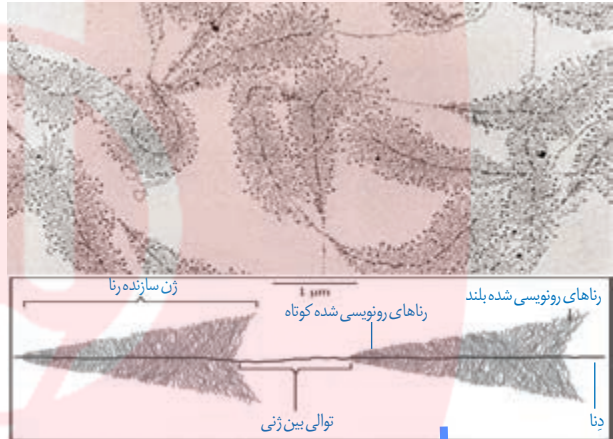
الف) رنای (RNA) بالغ را تعریف کنید. (خرداد ۹۸)



شکل ۵- طرح ساده‌ای از رشته الگوی مولکول دنا و رنای بالغ حاصل از آن. به نظر شما حلقه‌های سبز میانه هستند یا بیانه؟

شدت و میزان رونویسی

به طور کلی میزان رونویسی یک ژن به مقدار نیاز یاخته به فرآورده‌های آن بستگی دارد. بعضی ژن‌ها، مانند ژن‌های سازنده رنای رنانتی در یاخته‌های تازه تقسیم شده بسیار فعال‌اند؛ زیرا باید تعداد زیادی از این نوع رنا را بسازند. در این نوع ژن‌ها، هم‌زمان تعداد زیادی رنابسپاراز از ژن رونویسی می‌کنند. به این دلیل که در هر زمان، رنابسپارازها در مراحل مختلفی از رونویسی هستند، در زیر میکروسکوپ الکترونی، اندازه رناهای ساخته شده متفاوت دیده می‌شود. در این تصاویر رناها از اندازه کوتاه به بلند دیده می‌شود (شکل ۶). با توجه به شکل آیا می‌توانید جهت رونویسی هر ژن را مشخص کنید؟




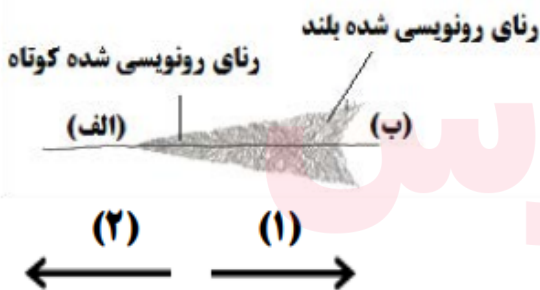
(ب) ژن‌های سازنده (رنای رنانتی - رنای ناقل) در یاخته‌های تازه تقسیم شده بسیار فعال‌اند. (خرداد ۹۹)

شکل ۶- ساخته شدن هم‌زمان چندین رنا از روی ژن

شکل زیر ساخته شدن هم‌زمان چندین رنا از روی یک ژن را نشان می‌دهد.

الف) کدام شماره «۱ یا ۲» جهت رونویسی از این ژن را نشان می‌دهد؟

ب) محل راه‌انداز این ژن، کدام مورد است؟ «الف یا ب»



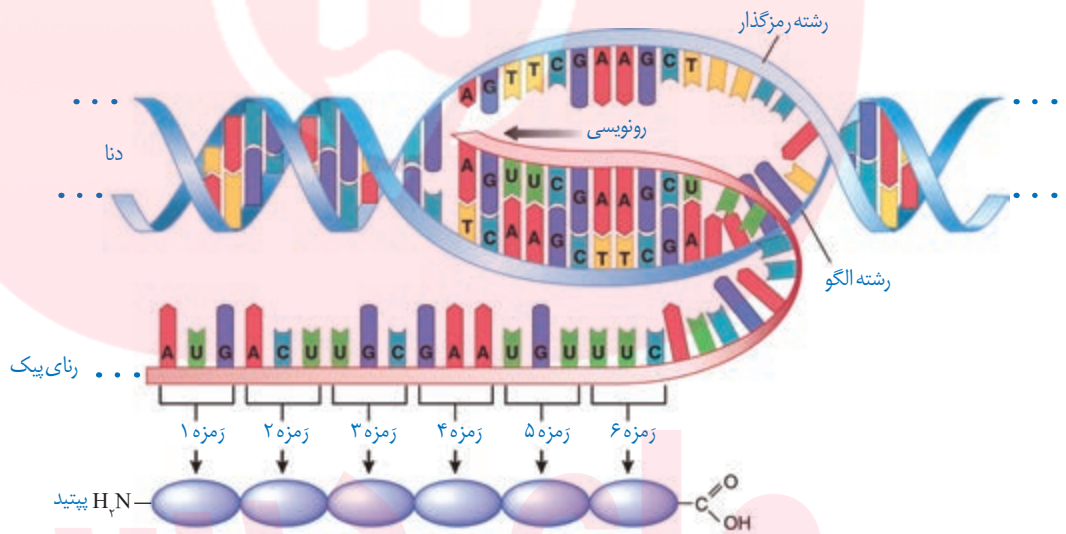
- ۱- Exon
- ۲- Precursor mRNA (Pre-mRNA)
- ۳- Mature messenger RNA

پلی پپتیدها از مهم‌ترین فرآورده‌های ژن‌ها هستند. پروتئین‌ها اعمال مختلفی را در بدن انجام می‌دهند که پیش از این با برخی از آنها آشنا شده‌اید. اینکه چگونه ژن‌ها و پروتئین‌های حاصل از آن، صفات را ایجاد می‌کنند در آینده مورد بحث قرار می‌گیرند. در این گفتار به نحوه تبدیل اطلاعات وراثتی رنا، به پروتئین می‌پردازیم.

تبدیل زبان نوکلئیک اسیدی رنا به زبان پلی پپتیدی

دانستید که در فرایند رونویسی از روی توالی‌های دنا، رنا ساخته می‌شود که هر دو از نوکلئوتید تشکیل شده‌اند. ولی در ساختار پلی پپتیدها، آمینواسید وجود دارد. به ساخته شدن پلی پپتید از روی اطلاعات رنای پیک، ترجمه می‌گویند. طرح ساده‌ای از ژن تا پلی پپتید را در شکل زیر مشاهده می‌کنید (شکل ۷).

جاخالی تألیفی



(ب) رمزه (کدون) آمینواسیدها در جانداران، متفاوت است. (غ) (شهریور ۱۴۰۰)

(ب) رمزه (کدون) آمینواسیدها در بسیاری از جانداران یکسان‌اند. (غ) (دی ۹۹) الف) چرا حضور رمزه (کدون)های UGA، UAA و UAG در رنای پیک، موجب پایان یافتن عمل ترجمه می‌شود؟ (شهریور ۹۹)

توالی‌های ۳ نوکلئوتیدی رنای پیک تعیین می‌کند که کدام آمینواسیدها باید در ساختار پلی پپتید قرار بگیرد. به این توالی‌ها، **رمزه (کدون)** گفته می‌شود. در یاخته ۶۴ نوع رمزه وجود دارد. نکته قابل توجه این است که **رمزه آمینواسیدها در جانداران یکسان‌اند.** به نظر شما این موضوع بیانگر چه واقعیتی است؟

رمزه‌های UAA، UGA و UAG هیچ آمینواسیدی را رمز نمی‌کنند که به آنها **رمزه پایان می‌گویند.**

زیرا حضور این رمزه‌ها در رنای پیک موجب پایان یافتن عمل ترجمه می‌شود. **رمزه آغاز یا AUG**

رمزه‌ای است که ترجمه از آن آغاز می‌شود. این رمزه، معرف آمینواسید متیونین نیز است.

الف) رمزه (کدون) آغاز یا AUG معرف کدام آمینواسید است؟ (خرداد ۹۸)

ب) رمزه UAG هیچ آمینواسیدی را رمز نمی‌کند و به آن می‌گویند. (خرداد ۱۴۰۰)

ب) رمزه [کدون] (UAG / AUG) هیچ آمینواسیدی را رمز نمی‌کند. (خرداد ۱۴۰۱)

الف) رمزه‌ای که فرایند ترجمه از آن آغاز می‌شود، کدام است؟ (دی ۱۴۰۰)

AUG (۱) (ب) رمزه (کدون) آغاز یا (AUG-UGA) رمزه‌ای است که ترجمه از آن آغاز می‌شود. (شهریور ۹۸)

AGU (۲) UGA (۴) GUA (۳)

انواع رمز و آمینواسیدهای مربوط به آنها

حرف دوم

	U	C	A	G	
U	UUU فنیل آلانین UUC UUA لوسین UUG	UCU سرین UCC UCA UCG	UAU تیروزین UAC UAA رمز پایان UAG رمز پایان	UGU سیستین UGC UGA رمز پایان UGG تریتوفان	U C A G
C	CUU لوسین CUC CUA CUG	CCU پرولین CCC CCA CCG	CAU هیستیدین CAC CAA گلوتامین CAG	CGU آرژنین CGC CGA CGG	U C A G
A	AUU ایزولوسین AUC AUA AUG (متیونین) رمز آغاز	ACU ترنونین ACC ACA ACG	AAU آسیارژین AAC AAA لیزین AAG	AGU سرین AGC AGA آرژنین AGG	U C A G
G	GUU والین GUC GUA GUG	GCU آلانین GCC GCA GCG	GAU آسیارتیک اسید GAC GAA گلوتامیک اسید GAG	GGU گلیسین GGC GGA GGG	U C A G

حرف اول

⚠️

طرح پرسش از این جدول در همه آزمون‌ها از جمله کنکور سراسری ممنوع است.

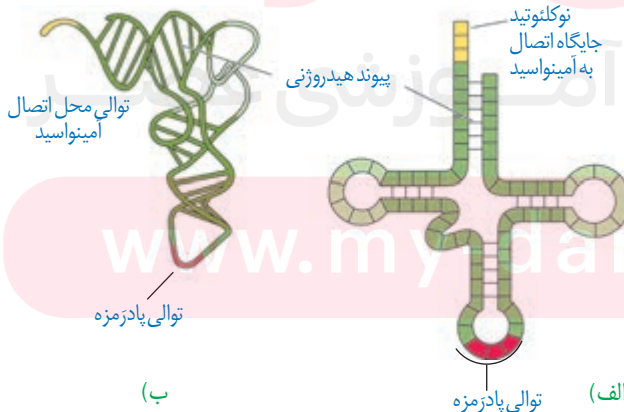
عوامل لازم در ترجمه

ترجمه نیازمند عوامل مختلفی است. ترجمه را می‌توان به یک فرایند آشپزی از روی کتاب آن تشبیه کرد. براساس دستورالعمل این کتاب، مواد اولیه به مقدار و ترتیب خاصی استفاده و غذای خاصی درست می‌شود. در ترجمه هم براساس رمزهای رنای پیک، پلی پپتید خاصی ساخته می‌شود. مواد اولیه مصرفی در ترجمه، آمینواسیدها هستند. رناتن‌ها و رناهای ناقل از دیگر عوامل لازم در ترجمه هستند. انرژی لازم برای تهیه پلی پپتید هم از مولکول‌های پر انرژی مانند ATP به دست می‌آید. (ب) مواد اولیه مصرفی در ترجمه، هستند. (شهریور ۱۴۰۰)

ساختار رنای ناقل ساختار سه بعدی رنای ناقل (tRNA) چگونه ایجاد می‌شود؟ (دی ۱۴۰۰)

رنای ناقل پس از رونویسی دچار تغییراتی می‌شود. در ساختار نهایی رنای ناقل، نوکلئوتیدهای مکمل می‌توانند پیوند هیدروژنی ایجاد کنند. به همین علت رنای تک رشته‌ای، روی خود تا می‌خورد (شکل ۸- الف). رنای ناقل تاخوردگی‌های مجددی پیدا می‌کند که ساختار سه بعدی را

(ج) رنای ناقل [tRNA]، تاخوردگی‌های مجددی پیدا می‌کند که ساختار سه بعدی را به وجود می‌آورد. (ص) (خرداد ۱۴۰۱)



شکل ۸- رنای ناقل الف) تاخوردگی اولیه ب) ساختار سه بعدی

ب) در هنگام ترجمه، توالی پادرمزه (آنتی‌کدون) با توالی رمز ماکمل خود چه پیوندی برقرار می‌کند؟ (شهریور ۹۹)

ب) در ساختار سه بعدی رنای ناقل یک بخش محل اتصال آمینواسید و دیگری توالی ۳ نوکلئوتیدی به نام است. (دی ۹۸)

به وجود می‌آورد. در این ساختار یک بخش محل اتصال آمینواسید و دیگری توالی ۳ نوکلئوتیدی به نام پادرمزه (آنتی‌کدون) است (شکل ۸). به نظر شما علت این نام‌گذاری چیست؟ هنگام ترجمه، این توالی با توالی رمز ماکمل خود پیوند هیدروژنی مناسب برقرار می‌کند.

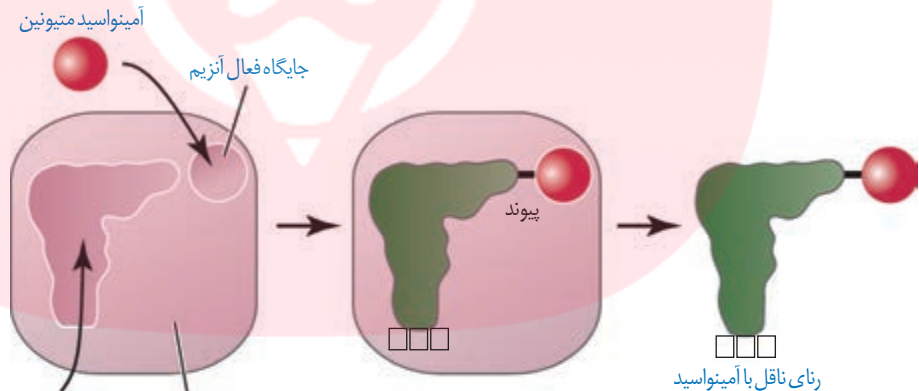
در همه رناهای ناقل، به جز در ناحیه پادرمزه‌ای، انواع توالی‌های مشابهی وجود دارند. انتظار این است که به تعداد انواع رمزها، پادرمزه وجود داشته باشد ولی تعداد انواع پادرمزه‌ها کمتر از رمزها است؛ مثلاً برای رمزهای پایان، رنای ناقل وجود ندارد. ب) به تعداد انواع رمزها، پادرمزه وجود دارد. (غ) (خرداد ۱۴۰۰)

نحوه عمل رنای ناقل: همان‌طور که گفته شد، آمینواسید به رنای ناقل متصل می‌شود. حال پرسش این است که آیا هر نوع آمینواسید به هر نوع رنای ناقل می‌تواند متصل شود؟ اهمیت بخش پادرمزه‌ای در این اتصال چیست؟ الف) کدام توالی از رنای ناقل (tRNA)، در اتصال آن به آمینواسید مناسب مؤثر است؟

در واقع در یاخته‌ها، آنزیم‌های ویژه‌ای وجود دارند که بر اساس نوع توالی پادرمزه، آمینواسید مناسب را به رنای ناقل متصل می‌کنند؛ یعنی آنزیم با تشخیص پادرمزه در رنای ناقل، آمینواسید مناسب را یافته

و به آن وصل می‌کند. این فرایند نیازمند انرژی است (شکل ۹). الف) فرایند اتصال آمینواسید به رنای ناقل (tRNA) یک واکنش انرژی‌زا یا انرژی‌خواه است؟ (دی ۹۹)
حال بر اساس آنچه تاکنون درباره رمزها خوانده‌اید آیا می‌توانید حدس بزنید رنای ناقل با چه توالی پادرمزه‌ای می‌تواند به آمینواسید متیونین متصل شود؟

شکل ۹- نحوه پیوستن آمینواسید به رنای ناقل مربوط به خود توسط آنزیم ویژه آن



آنزیم اتصال دهنده رنای آمینواسید
رنای ناقل پادرمزه

در مورد رناتن (ریبوزوم) به پرسش‌های زیر پاسخ دهید.

الف) جنس هر زیرواحد آن از چیست؟ (دی ۹۹)

ب) در ساختار کامل چند جایگاه دارد؟ (دی ۹۹)

ساختار رناتن

دانستید که رناتن در ساخت پلی‌پپتید نقش دارد. رنای ناقلها از دو زیرواحد تشکیل شده‌اند (شکل ۱۰). هر زیرواحد نیز از رنا و پروتئین تشکیل شده است. به یاد می‌آورید که رنای رناتنی به وسیله کدام رنابسپارازها ساخته می‌شود؟ در یاخته، پروتئین‌های رناتنی ساخته شده و رنای مربوط به آنها در کنار هم قرار گرفته و زیرواحد کوچک و بزرگ رناتن را می‌سازد. رناتن در ساختار کامل، سه جایگاه به نام P, A و E دارد که با آنها در ادامه آشنا خواهیم شد.

شکل ۱۰- ترتیب قرارگیری زیرواحدهای رناتن

۱- Anticodon

(الف) در این مرحله فقط جایگاه P در رناتن [ریبوزوم]، محل قرارگیری رنای ناقل دارای آمینواسید است.

(ب) در این مرحله جایگاه A توسط پروتئین‌هایی به نام عوامل آزادکننده اشغال می‌شود. (الف) در مرحله آغاز ترجمه، کدام جایگاه در رناتن (ریبوزوم)، محل قرارگیری رنای ناقل (tRNA) متیونین است؟ (دی ۹۸)

(الف) اولین رمز (کدون) که در جایگاه P رناتن (ریبوزوم) قرار می‌گیرد، دارای چه توالی است؟ (خرداد ۹۹)

مراحل ترجمه

ترجمه نیز فرایندی پیوسته است که برای سادگی در یادگیری آن را به سه مرحله آغاز، طولی شدن و

(ب) کامل شدن ساختار رناتن (ریبوزوم) در کدام مرحله از فرایند ترجمه رخ می‌دهد؟

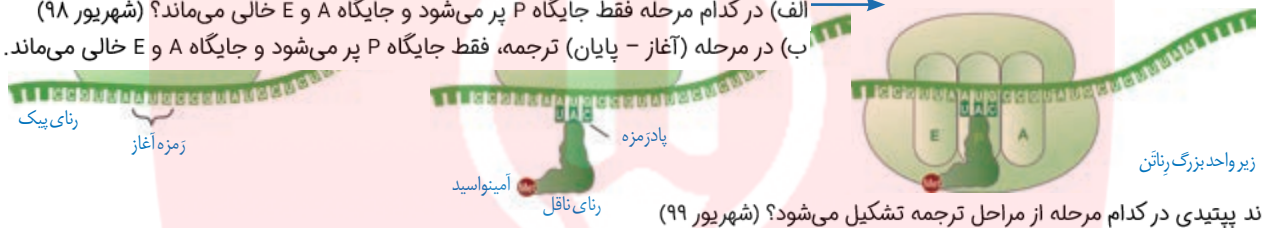
مرحله آغاز: در این مرحله بخش‌هایی از رنای پیک، زیر واحد کوچک رناتن را به سوی زمزه آغاز، هدایت می‌کند. سپس در این محل رنای ناقلی که مکمل زمزه آغاز است به آن متصل می‌شود. با افزودن شدن زیر واحد بزرگ رناتن به این مجموعه، ساختار رناتن کامل می‌شود.

در این مرحله جایگاه P در رناتن، محل قرارگیری رنای ناقل دارای آمینواسید است. این جایگاه در ابتدا توسط رنای ناقل متیونین اشغال می‌شود. جایگاه A محل قرارگیری رنای ناقل بعدی و آمینواسید (الف) محل برقراری پیوند پپتیدی در کدام جایگاه رناتن (ریبوزوم) می‌باشد؟ (دی ۱۴۰۰) پیوند پپتیدی در جایگاه A برقرار می‌شود. جایگاه E محل خروج رنای ناقل بدون آمینواسید است. در مرحله آغاز فقط جایگاه P پر می‌شود و جایگاه A و E خالی می‌ماند (شکل ۱۱).

(ب) در طول کدام مرحله ترجمه، فقط جایگاه P رناتن (ریبوزوم) پر می‌شود؟ (خرداد ۹۸)

(الف) در کدام مرحله فقط جایگاه P پر می‌شود و جایگاه A و E خالی می‌ماند؟ (شهریور ۹۸)

(ب) در مرحله (آغاز - پایان) ترجمه، فقط جایگاه P پر می‌شود و جایگاه A و E خالی می‌ماند. (شهریور ۱۴۰۰)



(ج) اولین پیوند پپتیدی در کدام مرحله از مراحل ترجمه تشکیل می‌شود؟ (شهریور ۹۹)

(ب) در مرحله طولی شدن، بعد از جابه‌جایی رناتن، رنای ناقل حامل رشته پپتیدی در کدام جایگاه قرار می‌گیرد؟ (دی ۹۹)

مرحله طولی شدن: در این مرحله ممکن است رنای ناقل مختلفی وارد جایگاه A رناتن شوند ولی فقط رنایی که مکمل زمزه جایگاه A است، استقرار پیدا می‌کند؛ در غیر این صورت جایگاه را ترک می‌کند.

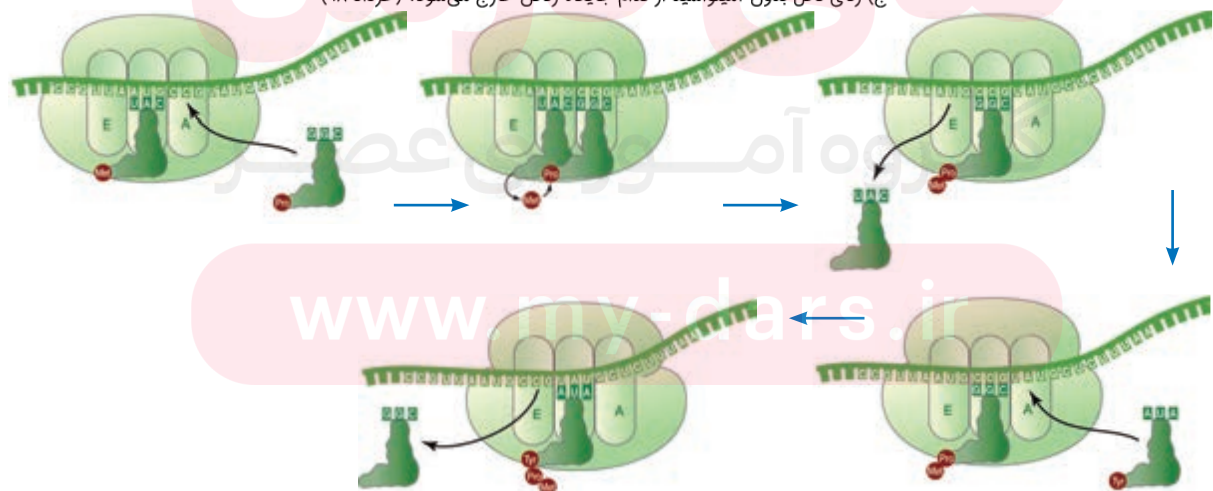
سپس آمینواسید جایگاه P از رنای ناقل خود جدا می‌شود و با آمینواسید جایگاه A پیوند برقرار می‌کند. آیا می‌دانید پیوند حاصل چه نام دارد؟ پس از آن رناتن به اندازه یک زمزه به سوی زمزه پایان پیش می‌رود.

در این موقع رنای ناقل که حامل رشته پپتیدی در حال ساخت است در جایگاه P قرار می‌گیرد (علت نام گذاری جایگاه P) و جایگاه A خالی می‌شود تا پذیرای رنای ناقل بعدی باشد. رنای ناقل بدون آمینواسید نیز در جایگاه E قرار می‌گیرد و سپس از این جایگاه خارج می‌شود. این فرایند بارها تکرار می‌شود و طول

زنجیره آمینواسیدی بیشتر می‌شود تا رناتن به یکی از زمزه‌های پایان برسد (شکل ۱۲).

(ج) رنای ناقل بدون آمینواسید از کدام جایگاه رناتن خارج می‌شود؟ (خرداد ۹۸)

شکل ۱۲ - مرحله طولی شدن ترجمه



(ب) در چه مرحله‌ای از ترجمه، جایگاه A توسط پروتئین‌هایی به نام عوامل آزادکننده اشغال می‌شود؟ (دی ۹۸)

(ب) در مرحله پایان، چه پروتئین‌هایی باعث جدا شدن زیرواحدهای رناتن از هم می‌شود؟ (خرداد ۹۹)

مرحله پایان: با ورود یکی از رمزهای پایان ترجمه در جایگاه A، چون رنای ناقل مکمل آن وجود

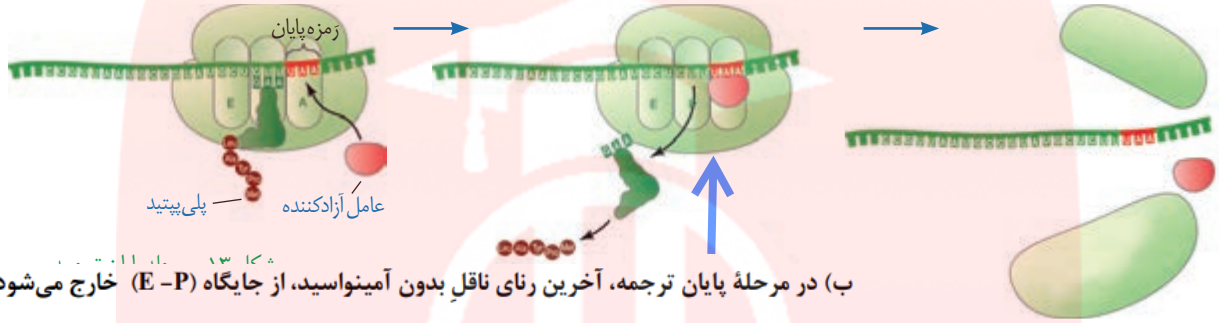
ندارد، این جایگاه توسط پروتئین‌هایی به نام عوامل آزادکننده اشغال می‌شود. عوامل آزادکننده باعث

جدا شدن پلی‌پپتید از آخرین رنای ناقل می‌شوند؛ همچنین باعث جدا شدن زیرواحدهای رناتن از هم و

آزاد شدن رنای پیک می‌شوند. زیرواحدهای رناتن‌ها می‌توانند مجدداً این مراحل را تکرار کنند تا چندین

نسخه از یک پلی‌پپتید ساخته شود (شکل ۱۳). (ب) رسیدن رناتن به یکی از رمزهای پایان در کدام مرحله از فرایند ترجمه رخ می‌دهد؟ (دی ۱۴۰۰)

(ب) چرا با ورود یکی از رمزهای پایان ترجمه در جایگاه A، این جایگاه توسط پروتئین‌هایی به نام عوامل آزادکننده اشغال می‌شود؟ (شهریور ۹۸)



(ب) در مرحله پایان ترجمه، آخرین رنای ناقل بدون آمینواسید، از جایگاه (E-P) خارج می‌شود.

(الف) چرا در یاخته‌های دارای هسته، فرایند ساخت پلی‌پپتید در هسته انجام نمی‌شود؟ (شهریور ۱۴۰۰)

محل پروتئین سازی و سرنوشت آنها

پروتئین‌ها در بخش‌های مختلفی از یاخته ساخته می‌شوند. به طور کلی پروتئین‌سازی در هر بخشی

از یاخته که رناتن‌ها حضور داشته باشند می‌تواند انجام شود.

همان‌طور که در شکل ۱۴ می‌بینید، پروتئین‌های ساخته شده در سیتوپلاسم سرنوشت‌های مختلفی

پیدا می‌کنند. بعضی از این پروتئین‌ها به شبکه آندوپلاسمی و دستگاه گلژی می‌روند و ممکن است برای

ترشح به خارج رفته یا به بخش‌هایی مثل واکوئول (گریچه) و کافنده‌تن بروند. بعضی پروتئین‌ها نیز در

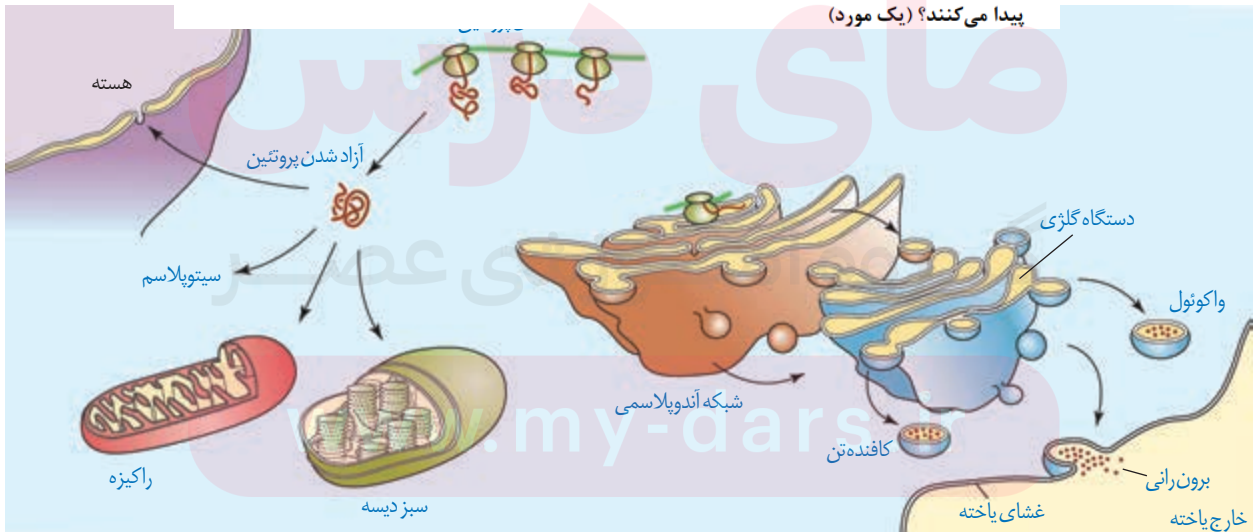
سیتوپلاسم می‌مانند و یا اینکه به راکیزه‌ها، هسته و یا دیسه‌ها می‌روند. در هر یک از این موارد براساس

مقصدی که پروتئین باید برود، توالی‌های آمینواسیدی در آن وجود دارد که پروتئین را به مقصد هدایت

می‌کند (شکل ۱۴). (د) پروتئین‌های ساخته شده در سیتوپلاسم که به شبکه آندوپلاسمی و دستگاه گلژی می‌روند، چه سرنوشت‌هایی پیدا می‌کنند؟ (سه مورد) (شهریور ۹۹)

سیتوپلاسم

پیدا می‌کنند؟ (یک مورد)

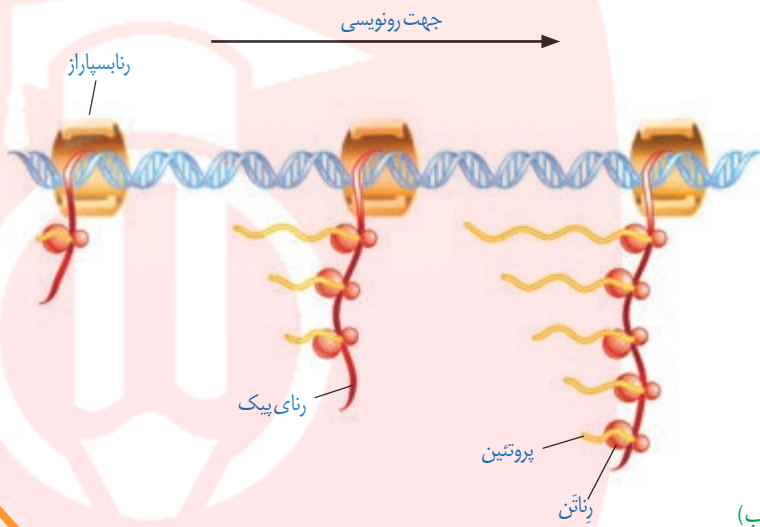



طرح سؤال از توالی‌های رمز، پادر مزه و آمینواسیدهای مربوط به آنها در همه‌آزمون‌ها از جمله کنکور سراسری ممنوع است.

سرعت و مقدار پروتئین سازی

به طور کلی سرعت و مقدار پروتئین سازی در یاخته‌ها بسته به نیاز تنظیم می‌شود. در پروکاریوت‌ها پروتئین سازی حتی ممکن است پیش از پایان رونویسی رنای بیک آغاز شود؛ زیرا طول عمر رنای بیک در این یاخته‌ها کم است. برای پروتئین‌هایی که به مقدار بیشتری مورد نیازند، ساخت پروتئین‌ها، به طور هم‌زمان و پشت سر هم توسط مجموعه‌ای از رناتن‌ها انجام می‌شود تا تعداد پروتئین بیشتری در واحد زمان ساخته شود (شکل ۱۵). در این مجموعه، رناتن‌ها مانند دانه‌های تسبیح و رنای بیک شبیه نخ‌ها است که از درون این دانه‌ها می‌گذرد. همکاری جمعی رناتن‌ها به پروتئین سازی سرعت بیشتری می‌دهد.

تجمع رناتن‌ها در یاخته‌های یوکاریوتی نیز دیده می‌شوند. البته در این یاخته‌ها سازوکارهایی برای حفاظت رنای بیک در برابر تخریب وجود دارد. بنابراین، فرصت بیشتری برای پروتئین سازی هست. در مجموع، این عوامل موجب طولانی‌تر شدن عمر رنای بیک پیش از تجزیه می‌شود.



شکل ۱۵- الف) تصویر میکروسکوپی مجموعه رناتن‌ها (ب) طرحی ساده از رناتن‌هایی که چند رنای در حال رونویسی را ترجمه می‌کنند. (ب) تجمع رناتن‌ها (ریبوزوم‌ها) فقط در یاخته‌های پیش‌هسته‌ای (پروکاریوت) دیده می‌شود. (غ) (شهریور ۹۸)

فعالیت ۱

الف) چه رابطه‌ای بین طول عمر رنای بیک یاخته‌ها با میزان پروتئین سازی آنها برقرار است؟
ب) رونویسی و ترجمه در پروکاریوت‌ها و یوکاریوت‌ها را با هم مقایسه کنید.

ج) چرا عمر رنای بیک (mRNA) در یوکاریوت‌ها طولانی‌تر از پروکاریوت‌ها است؟ (خرداد ۹۹)

ج) طول عمر رنای بیک (mRNA) در پیش‌هسته‌ای‌ها (پروکاریوت‌ها) بیشتر از هوسته‌ای‌ها (یوکاریوت‌ها) است. (غ) (خرداد ۹۸)

ج) چرا در یوکاریوت‌ها فرصت بیشتری برای پروتئین سازی است؟ (دی ۹۸)

گروه آموزشی عصر

www.my-dars.ir

(د) چگونه ممکن است از یاخته‌هایی با ژن‌های یکسان، یاخته‌هایی با عملکرد و شکل متفاوت ایجاد شوند؟ (خرداد ۹۹)

در سال گذشته آموختید که همه یاخته‌های پیکری بدن از تقسیم رشتمان (میتوز) یاخته تخم منشأ می‌گیرند. یاخته‌های حاصل، از نظر فام‌تنی و ژن‌ها یکسان‌اند. با این حال در ادامه تقسیمات و رشد جنین، یاخته‌های متفاوتی ایجاد می‌شوند که اعمال مختلفی انجام می‌دهند؛ مثلاً یاخته‌های عصبی و ماهیچه‌ای بدن یک فرد، ژن‌های یکسانی دارند ولی دارای عملکرد و شکل متفاوتی هستند. حال این سؤال مطرح می‌شود که چگونه ممکن است یاخته‌هایی با ژن‌های یکسان تا این حد متفاوت باشند؟ پاسخ این است که در هر یاخته تنها تعدادی از ژن‌ها فعال و سایر ژن‌ها غیر فعال هستند. هرگاه اطلاعات ژنی در یک یاخته مورد استفاده قرار بگیرد، می‌گوییم آن ژن بیان شده و به اصطلاح روشن است و ژنی که مورد استفاده قرار نمی‌گیرد خاموش و به اصطلاح بیان نشده است. مقدار، بازه و زمان استفاده از ژن در یاخته‌های مختلف یک جاندار ممکن است فرق داشته باشد و حتی در یک یاخته هم بسته به نیاز متفاوت باشد. به فرایندهایی که تعیین می‌کنند در چه هنگام، به چه مقدار و کدام ژن‌ها بیان شوند و یا بیان نشوند، فرایندهای تنظیم بیان ژن می‌گویند. تنظیم بیان ژن فرایندی بسیار دقیق و پیچیده است و عوامل متعددی ممکن است بر آن اثر بگذارند. تنظیم بیان ژن موجب می‌شود تا جاندار به تغییرات پاسخ دهد؛ مثلاً در گیاه، نور می‌تواند باعث فعال شدن ژن سازنده آنزیمی شود که در فتوسنتز مورد استفاده قرار می‌گیرد. در نبود نور این ژن بیان نمی‌شود. همچنین تنظیم بیان ژن می‌تواند موجب ایجاد یاخته‌های مختلفی از یک یاخته شود. یاخته‌های متفاوتی که از یاخته‌های بنیادی مغز استخوان ایجاد می‌شوند، مثالی مناسب در این مورد هستند. در مورد این یاخته‌ها در کتاب دهم مطالبی را فرا گرفتید. آیا می‌توانید برخی یاخته‌های حاصل از یاخته‌های بنیادی مغز استخوان را نام ببرید؟

جاخالی تألیفی

بیشتر بدانید

در باکتری‌ها ژن‌هایی که محصولات آنها چند فرایند مرتبط به هم را اداره می‌کند در واحدهایی به نام آپران قرار گرفته‌اند و بیان با عدم بیان آنها به طور هماهنگ انجام می‌شود. برای مثال برای جذب و تجزیه لاکتوز در باکتری اشرشیا کلای، ۳ آنزیم مورد نیاز است که ژن‌های سازنده آنها در کنار هم قرار دارند و توسط یک بخش تنظیمی اداره می‌شوند. به مجموعه این ژن‌ها و بخش تنظیمی آن آپران گفته می‌شود. مثال دیگر، ژن‌های مسئول ساخت آمینواسید تریتوفان است. ۵ ژن در ساخت این آمینواسید دخالت دارند که در یک آپران قرار دارند.

تنظیم بیان ژن در پروکاریوت‌ها

محصول ژن، رنا و پروتئین است. بنابراین، تغییر در فعالیت ژن‌ها، بر ساخت این محصولات نیز اثر می‌گذارد. تنظیم بیان ژن در پروکاریوت‌ها می‌تواند در هر یک از مراحل ساخت رنا و پروتئین تأثیر بگذارد ولی به طور معمول تنظیم بیان ژن در مرحله رونویسی انجام می‌شود. در مواردی هم ممکن است یاخته با تغییر در پایداری (طول عمر) رنا یا پروتئین، فعالیت آن را تنظیم کند.

تنظیم رونویسی در پروکاریوت‌ها

در این نوع تنظیم عواملی به پیوستن رنا بسپاراز به توالی راه‌انداز کمک و یا مانع حرکت رنا بسپاراز می‌شوند. در نتیجه، رونویسی ژن تسهیل یا ممانعت می‌شود؛ مثلاً با اتصال پروتئین‌های خاصی به بخشی از دنا که سر راه رنا بسپاراز است، از انجام رونویسی جلوگیری می‌شود. نمونه این نوع تنظیم، در نوعی باکتری به نام اشرشیا کلای^۲ شناخته شده است. قند مصرفی ترجیحی این باکتری گلوکز است.

(ب) نام قند مصرفی ترجیحی در باکتری اشرشیا کلای چیست؟ (شهریور ۱۴۰۰)

۱- Operons

۲- *Escherichia coli*

- (ب) در باکتری اشرشیاکلای، در تنظیم (مثبت - منفی) رونویسی، مانع پیش روی رنابسپاراز نوعی پروتئین به نام مهارکننده است. (دی ۹۹)
- (د) در تنظیم منفی رونویسی در باکتری اشرشیاکلای، مانع پیش روی رنابسپاراز نوعی پروتئین به نام (مهارکننده - فعال کننده) است. (دی ۹۸)
- (ج) در تنظیم منفی رونویسی در باکتری اشرشیاکلای، مانع پیش روی رنابسپاراز، نوعی پروتئین به نام (مهارکننده / عوامل رونویسی) است. (خرداد ۱۴۰)

(ب) در باکتری اشرشیاکلای، تنظیم رونویسی در مورد ژن های مؤثر در تجزیه مالتوز به صورت انجام می شود.

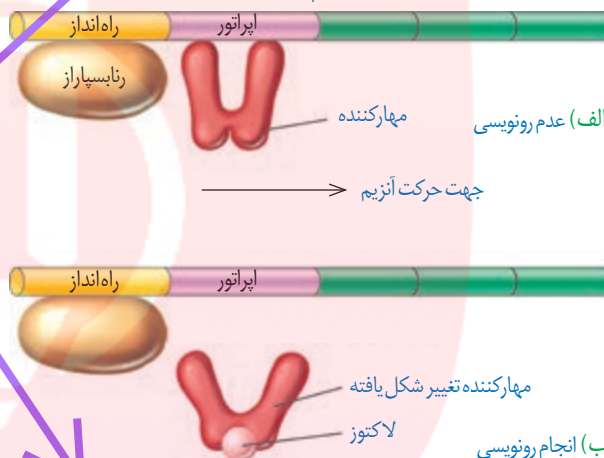
مراحل تجزیه قند گلوکز در یاخته را در فصول بعد خواهید آموخت. اگر گلوکز در محیط باکتری وجود نداشته باشد ولی قند دیگری به نام **لاکتوز**^۱ در اختیار باکتری قرار بگیرد، باکتری می تواند از این قند استفاده کند. این قند متفاوت از گلوکز بوده است و آنزیم های لازم برای مصرف آن نیز متفاوت است. بنابراین وقتی لاکتوز در محیط وجود دارد باکتری باید آنزیم های تجزیه کننده آن را بسازد و در نبود یا کاهش لاکتوز نیز ساخت آنزیم های تجزیه کننده آن متوقف یا کاهش پیدا کند. حال این پرسش پیش می آید که باکتری چگونه می تواند حضور لاکتوز را در محیط تشخیص دهد و آنزیم های تجزیه کننده آن را بسازد؟ ژن هایی که این آنزیم ها را می سازند چگونه روشن و یا خاموش می شوند؟ در پروکاریوت ها بیان ژن به دو صورت منفی و مثبت تنظیم می شود.

شکل ۱۶- الف) عدم رونویسی ژن ها در غیاب لاکتوز (ب) رونویسی ژن ها در حضور لاکتوز

ژن های مربوط به تجزیه لاکتوز

تنظیم منفی رونویسی: در گفتار ۱ آموختید که رونویسی با

چسبیدن رنابسپاراز به راه انداز مربوط به ژن شروع می شود. حال اگر انوعی بر سر راه رنابسپاراز وجود داشته باشد، رونویسی انجام نمی شود. به این نوع تنظیم، تنظیم منفی رونویسی گفته می شود. مانع پیش روی رنابسپاراز نوعی پروتئین به نام **مهارکننده**^۲ است. این پروتئین به توالی خاصی از دنا به نام **اپراتور**^۳ متصل می شود و جلوی حرکت رنابسپاراز را می گیرد (شکل ۱۶- الف). لاکتوز موجود در محیط به باکتری وارد می شود و با اتصال به مهارکننده، شکل آن را تغییر می دهد. تغییر شکل مهارکننده، آن را از اپراتور جدا می کند و نیز مانع از اتصال آن به اپراتور می شود. با برداشته شدن مانع سر راه، رنابسپاراز می تواند رونویسی ژن ها را انجام دهد (شکل ۱۶- ب). محصولات این ژن ها تجزیه لاکتوز را ممکن می کند.



الف) در تنظیم منفی، چه پروتئینی مانع پیش روی رنابسپاراز می شود؟ (خرداد ۱۴۰۰)

الف) چرا در تنظیم منفی رونویسی، با اتصال لاکتوز به مهارکننده، این پروتئین دیگر نمی تواند به اپراتور متصل بماند؟ (خرداد ۹۹)

تنظیم مثبت رونویسی: در این نوع تنظیم، پروتئین های خاصی به رنابسپاراز کمک می کنند تا بتواند به راه انداز متصل شود و رونویسی را شروع کند. مثال این نوع تنظیم نیز در باکتری اشرشیاکلای وجود دارد. مشخص شده که اگر در محیط باکتری، قند **مالتوز**^۴ وجود داشته باشد، درون باکتری آنزیم های ساخته می شوند که در تجزیه آن دخالت دارند. در عدم حضور مالتوز این آنزیم ها ساخته نمی شوند چون باکتری نیازی به آنها ندارد.

تنظیم رونویسی در مورد این ژن ها به صورت مثبت انجام می شود. در حضور قند مالتوز، انواعی از پروتئین به نام **فعال کننده**^۵ وجود دارند که به توالی های خاصی از دنا متصل می شوند. به این توالی ها **جایگاه اتصال فعال کننده**^۶ گفته می شود. (شکل ۱۷- الف) در حضور مالتوز در محیط، پروتئین **فعال کننده** به جایگاه خود متصل می شود و پس از اتصال به رنابسپاراز کمک می کند تا به راه انداز متصل

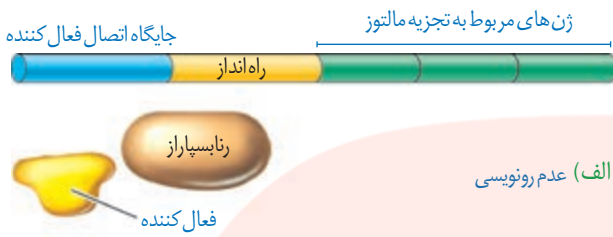
(ب) در باکتری اشرشیاکلای، تنظیم مثبت رونویسی در مورد ژن های مؤثر در تجزیه (مالتوز - لاکتوز) انجام می شود. (شهریور ۹۹)

- ۱- Lactose
- ۲- Repressor
- ۳- Operator
- ۴- Maltos
- ۵- Activator
- ۶- Activator Binding Site

تنظیم منفی در پروکاریوت به دو صورت **القایی**^۱ و **مهار**^۲ انجام می شود. در حالت القایی، حضور یک ماده موجب بیان ژن ها می شود. تنظیم بیان ژن در حضور لاکتوز مثالی از تنظیم منفی از نوع القایی است. در حالت مهار، حضور یک ماده موجب خاموش شدن ژن و عدم بیان آنها می شود. مثال این نوع تنظیم در مورد آمینواسید **تریپتوفان** دیده می شود. در باکتری اشرشیاکلای با حضور تریپتوفان، ژن هایی که در ساخت آن دخالت دارند خاموش می شوند. وقتی تریپتوفان در محیط نیست، این ژن ها روشن می شوند تا آنزیم های سازنده تریپتوفان ساخته شوند.

- ۱- Inducer
- ۲- Repressor

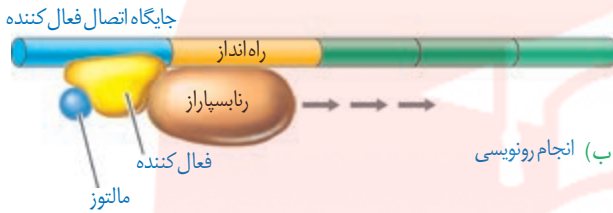
(ب) در تنظیم مثبت، چه عاملی سبب می‌شود که فعال‌کننده به جایگاه خود بچسبد؟ (خرداد ۱۴۰۰)



شود و رونویسی را شروع کند. چه عاملی سبب می‌شود که فعال‌کننده به جایگاه خود بچسبد؟ این عامل مالتوز است. اتصال مالتوز به فعال‌کننده باعث پیوستن آن به جایگاه اتصال شده و رونویسی شروع می‌شود (شکل ۱۷-ب).

تنظیم بیان ژن در یوکاریوت‌ها

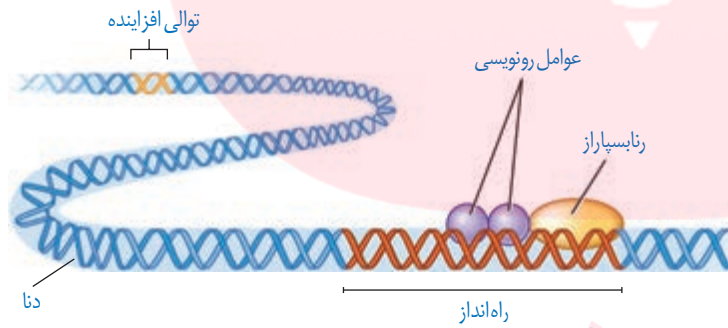
تنظیم بیان ژن در یوکاریوت‌ها پیچیده‌تر از پروکاریوت‌هاست و می‌تواند در مراحل بیشتری انجام شود. یاخته‌های یوکاریوتی به وسیله غشاها به بخش‌های مختلفی تقسیم شده‌اند. بنابراین، برای آنکه یاخته نسبت به یک ماده واکنش نشان دهد، آن ماده باید به طریقی از غشاها عبور کند و ژن‌ها را تحت تأثیر قرار دهد. در یاخته‌های یوکاریوتی، بیشتر ژن‌ها در هسته و برخی در راکیزه‌ها و دیسه‌ها قرار دارند. در هر یک از این محل‌ها، یاخته می‌تواند بر بیان ژن نظارت داشته باشد. بنابراین تنظیم بیان ژن می‌تواند در مراحل متعددی انجام شود.



شکل ۱۷- تنظیم مثبت رونویسی ژن‌های مؤثر در تجزیه مالتوز

(د) در یوکاریوت‌ها (هسته‌ای) عوامل رونویسی به چه بخش‌هایی از دنا ممکن است متصل شوند؟ (شهریور ۹۹)

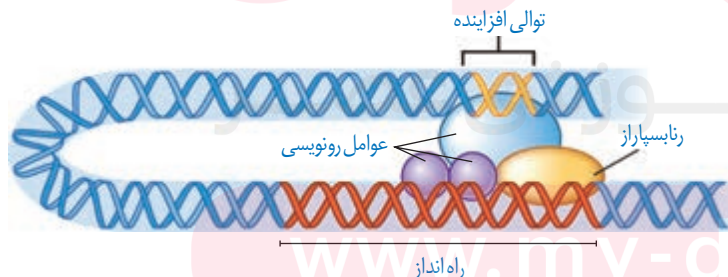
تنظیم بیان ژن در مرحله رونویسی: در یوکاریوت‌ها نیز مانند پروکاریوت‌ها، رونویسی با پیوستن رنابسپاراز به راه‌انداز آغاز می‌شود. در یوکاریوت‌ها رنابسپاراز نمی‌تواند به تنهایی راه‌انداز را شناسایی کند و برای پیوستن به آن نیازمند پروتئین‌هایی به نام **عوامل رونویسی**^۱ هستند. گروهی از این پروتئین‌ها با اتصال به نواحی خاصی از راه‌انداز، رنابسپاراز را به محل راه‌انداز هدایت می‌کند، چون تمایل پیوستن این پروتئین‌ها به راه‌انداز در اثر عواملی تغییر می‌کنند، مقدار رونویسی ژن آن هم تغییر می‌کند



(شکل ۱۸). (ب) در چه صورت مقدار رونویسی ژن، تحت تأثیر عوامل رونویسی تغییر می‌کند؟ (خرداد ۹۹)

شکل ۱۸- تنظیم بیان ژن در یوکاریوت‌ها

در یوکاریوت‌ها ممکن است عوامل رونویسی دیگری به بخش‌های خاصی از دنا به نام **توالی افزایشده**^۲ متصل شوند. با پیوستن این پروتئین‌ها به توالی افزایشده و با ایجاد خمیدگی در دنا، عوامل رونویسی در کنار هم قرار می‌گیرند. کنار هم قرارگیری این عوامل، سرعت رونویسی را افزایش می‌دهند. توالی‌های افزایشده متفاوت از راه‌انداز هستند و ممکن است در فاصله دوری از ژن قرار داشته باشند. اتصال این پروتئین‌ها بر سرعت و مقدار رونویسی ژن مؤثر است (شکل ۱۹).



شکل ۱۹- توالی افزایشده و عوامل رونویسی متصل به آن

۱- Transcription Factors
۲- Enhancer

ج) اتصال بعضی رناهای کوچک مکمل به رنای پیک، چه تأثیری بر عمل ترجمه و رنای (RNA) ساخته شده دارد؟ (شهریور ۱۴۰۰)
 ب) اتصال بعضی رناهای کوچک مکمل به رنای (پیک - ناقل) مثالی از تنظیم بیان ژن، پس از رونویسی است. (خرداد ۱۴۰۰)

بیشتر بدانید

بعضی ژن‌ها در یاخته‌ها به‌طور دائم بیان می‌شوند. ژن‌های سازنده اجزای رناتن از این جمله‌اند. این ژن‌ها رنای رناتن و پروتئین‌های آن را می‌سازند. با توجه به نیاز یاخته‌های در حال تقسیم به تعداد زیادی رناتن، این ژن‌ها به‌طور دائم روشن هستند.

تنظیم بیان ژن در مراحل غیررونویسی: در کاربوت‌ها تنظیم بیان ژن می‌تواند پیش از رونویسی یا پس از آن هم انجام شود. اتصال بعضی رناهای کوچک مکمل به رنای پیک مثالی از تنظیم بیان ژن پس از رونویسی است. با اتصال این رناها، از کار رناتن جلوگیری می‌شود. در نتیجه، عمل ترجمه متوقف و رنای ساخته شده پس از مدتی تجزیه می‌شود.

روش تنظیم دیگر در سطح فام‌تنی است. به‌طور معمول بخش‌های فشرده فام‌تن کمتر در دسترس رنابسیارازها قرار می‌گیرند بنابراین یاخته می‌تواند با تغییر در میزان فشرده‌گی فام‌تن در بخش‌های خاصی، دسترسی رنابسیاراز را به ژن مورد نظر تنظیم کند. به نظر شما این تنظیم بیان ژن پیش از رونویسی است یا پس از آن؟ میزان فشرده‌گی فام‌تن (کروموزوم) با میزان بیان ژن چه رابطه‌ای دارد؟ (دی ۹۹)

از روش‌های دیگر تنظیم بیان ژن طول عمر رنای پیک است. افزایش طول عمر رنای پیک موجب افزایش محصول می‌شود. این فرایندها در میزان پروتئین‌سازی مؤثر خواهند بود. شیوه‌های دیگری نیز در تنظیم بیان ژن مؤثرند که نحوه عمل بسیاری از آنها ناشناخته است.

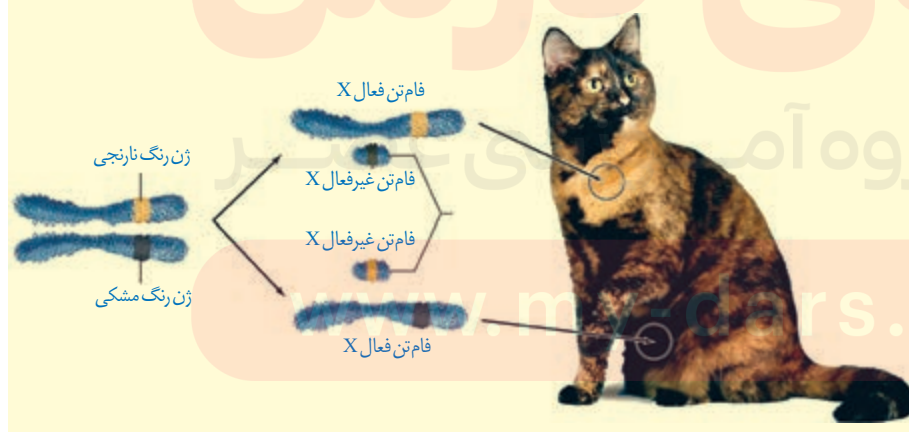
هر یک از موارد زیر مربوط به تنظیم بیان ژن پیش از رونویسی است یا پس از رونویسی؟

الف) اتصال بعضی رناهای کوچک مکمل به رنای پیک ب) تغییر در میزان فشرده‌گی فام‌تن (کروموزوم)

بیشتر بدانید

بیان ژن به روش‌های مختلفی ممکن است کاهش یا افزایش یابد. یکی از این روش‌ها افزایش تعداد ژن‌هایی است که به محصولات آنها به مقدار زیادی نیاز است. در این موارد ممکن است یاخته چندین کپی از یک ژن داشته باشد. در نتیجه رونویسی از تعداد بیشتری ژن انجام شود. این حالت موجب ساخت محصول بیشتر در زمان کمتر می‌شود. نمونه این ژن‌ها، ژن‌های سازنده رنای رناتنی است. نوعی از این رنای رناتنی هزاران ژن در یک یاخته دوزیست دارد.

روش دیگر فعال یا غیرفعال کردن برخی فام‌تن‌ها مانند فام‌تن X در انسان است. چون در یاخته‌های پیکری زن، دو نسخه از فام‌تن X و در مرد یک نسخه وجود دارد، برای بیان متعادل در دو جنس، یکی از فام‌تن‌های X در یاخته‌های زن غیرفعال می‌شود تا ژن‌های آن بیان نشوند. در اثر این فرایند ژن‌های فام‌تن X در زن و مرد، به یک نسبت بیان می‌شود. مثالی از بیان ژن‌های روی فام‌تن X و اثرات آن بر صفات را در تصویر زیر مشاهده می‌کنید. در یاخته‌ها، یکی از فام‌تن‌های X به صورت تصادفی غیرفعال می‌شوند.





فصل ۳

انتقال اطلاعات در نسل‌ها



شبهت بین فرزندان و والدین، گویای آن است که ویژگی‌های والدین به نحوی به فرزندان منتقل می‌شود. همچنین می‌دانیم که در تولیدمثل جنسی ارتباط بین نسل‌ها را گامت‌ها برقرار می‌کنند و ویژگی‌های هر یک از والدین توسط دستورالعمل‌هایی که در دِنای موجود در گامت‌ها قرار دارد، به نسل بعد منتقل می‌شود.

پیش از کشف قوانین وراثت، تصور بر آن بود که صفات فرزندان، آمیخته‌ای از صفات والدین و حد واسطی از آنهاست. مثلاً اگر یکی از والدین بلندقد و دیگری کوتاه‌قد باشد، فرزند آنان قدی متوسط خواهد داشت. اما مشاهدات متعدد نشان داد که این تصور درست نیست.

در اواخر قرن نوزدهم، زمانی که هنوز ساختار و عمل دِنایها معلوم نبود، دانشمندی به نام گریگور مندل^۱ توانست قوانین بنیادی وراثت را کشف کند. به کمک این قوانین، می‌شد صفات فرزندان را پیش‌بینی کرد. با توجه به شناخت شما از ساختار و عمل دِنایها، در این فصل با مفاهیم پایه وراثت به زبان امروزی آشنا می‌شویم.



طرح سؤالات عددی و محاسباتی از مباحث این فصل در همهٔ آزمون‌ها از جمله کنکور سراسری ممنوع است.

الف) پیش از کشف قوانین وراثت، چه تصویری در مورد رابطهٔ بین صفات والدین و فرزندان وجود داشت؟ (دی ۹۹)

هر یک از ما ویژگی‌هایی داریم که ما را با آنها می‌شناسند. بعضی از این ویژگی‌ها را از والدین خود دریافت کرده‌ایم؛ مثل رنگ چشم، رنگ مو یا گروه خونی. ویژگی‌هایی را هم می‌شناسیم که ارثی نیستند؛ مثل تیره شدن رنگ پوست که به علت قرارگرفتن در معرض آفتاب ایجاد شده است.

در علم ژن‌شناسی، ویژگی‌های ارثی جانداران را **صفت می‌نامند** (شکل ۱). ژن‌شناسی، شاخه‌ای از زیست‌شناسی است که به چگونگی وراثت صفات از نسلی به نسل دیگر می‌پردازد.

الف) صفت در علم ژن‌شناسی را تعریف کنید. (خرداد ۱۴۰۰)



شکل ۱- هر یک از افراد جمعیت، ویژگی‌هایی دارد که ممکن است این ویژگی‌ها به نسل بعد منتقل شوند.

هر یک از صفاتی که نام بردیم به شکل‌های مختلفی دیده می‌شوند. مثلاً رنگ چشم ممکن است به رنگ مشکی، قهوه‌ای، سبزی یا آبی باشد. یا حالت مو ممکن است به شکل صاف، موج‌دار یا فر دیده شود.

به انواع مختلف یک صفت، **شکل‌های آن صفت می‌گویند**.

تألیفی: منظور از شکل‌های مختلف یک صفت چیست؟

گروه‌های خونی

آیا شما گروه خونی خود را می‌دانید؟ آیا می‌دانید منظور از گروه خونی مثلاً A^+ چیست؟ وقتی می‌گویند گروه خونی شخصی A^+ است در واقع «دو» گروه خونی را برای او مشخص کرده‌اند. یکی گروه خونی معروف به **ABO** و دیگری گروه خونی ای به نام **Rh**. در ادامه این دو گروه خونی را بررسی می‌کنیم. توضیح Rh ساده‌تر است و با آن آغاز می‌کنیم.

گروه خونی Rh: گروه خونی Rh بر اساس بودن یا نبودن پروتئینی است که در غشای گویچه‌های قرمز جای دارد و پروتئین D نامیده می‌شود. اگر این پروتئین وجود داشته باشد، گروه خونی Rh مثبت است و اگر وجود نداشته باشد گروه خونی Rh منفی خواهد شد (شکل ۲).

ج) گروه خونی Rh بر اساس بودن یا نبودن **هیدرات کربنی** است که در غشای گویچه‌های قرمز جای دارد. (غ) (شهریور ۱۴۰۰)

بیشتر بدانید

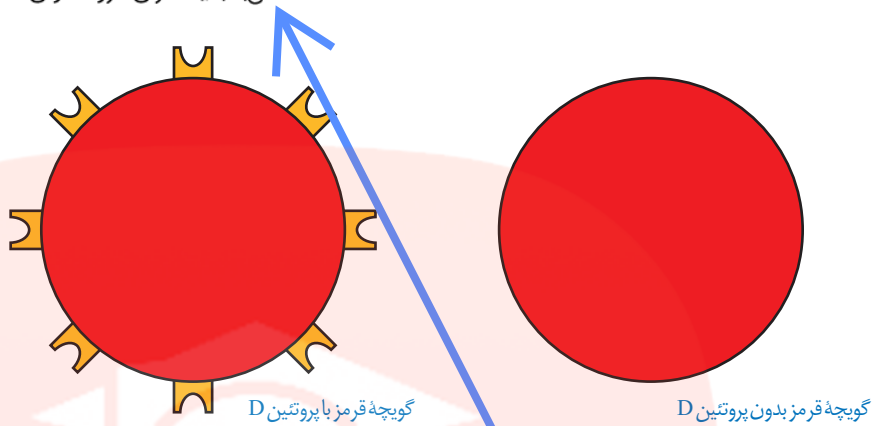
Rh برگرفته از نام میمونی به نام رزوس (Rhesus) است. این گروه خونی ابتدا در این میمون کشف و Rh نامیده شد.



الف) جایگاه ژنی گروه خونی Rh در کدام فامتن (کروموزوم) است؟ (خرداد ۹۸)

ج) جایگاه ژنی گروه خونی Rh، در فامتن (کروموزوم) شماره ۹ است. (غ) (خرداد ۱۴۰۰)

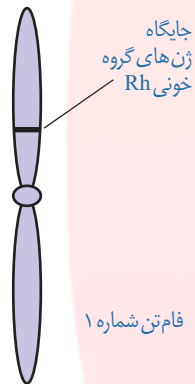
شکل ۲- مبنای گروه خونی Rh پروتئین D



بود و نبود پروتئین D به نوعی ژن بستگی دارد. دو ژن در ارتباط با این پروتئین، در میان مردم دیده می شود. ژنی که می تواند پروتئین D را بسازد و ژنی که نمی تواند پروتئین D را بسازد. این دو ژن را به ترتیب D و d می نامیم.

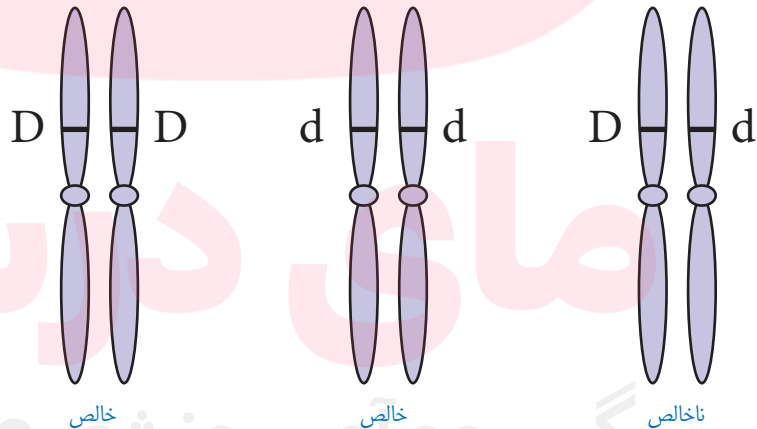
D و d جایگاه یکسانی در فامتن شماره ۱ دارند. توجه داشته باشید که هر فامتن شماره ۱ در این جایگاه ژن D یا d دارد و نه هر دو را. به این جایگاه از فامتن شماره ۱، **جایگاه ژن های Rh** می گویند (شکل ۳).
D و d که شکل های مختلف صفت Rh را تعیین می کنند و هر دو جایگاه ژنی یکسانی دارند؛ **دگره (الل) هم هستند.** از آنجا که هر یک از ما دو فامتن ۱ داریم، پس دو دگره هم برای Rh داریم. بنابراین ممکن است هر دو فامتن شماره ۱، D یا هر دو d را داشته باشند. در این صورت می گویند فرد برای این صفت **خالص** است. اما اگر یک فامتن D و دیگری d را داشته باشد می گویند فرد برای این صفت،

ناخالص است (شکل ۴).



شکل ۳- جایگاه ژن های Rh

تألیفی: ژن نمودهای خالص و ناخالص گروه خونی Rh را بنویسید؟



شکل ۴- ژن نمودهای خالص و ناخالص

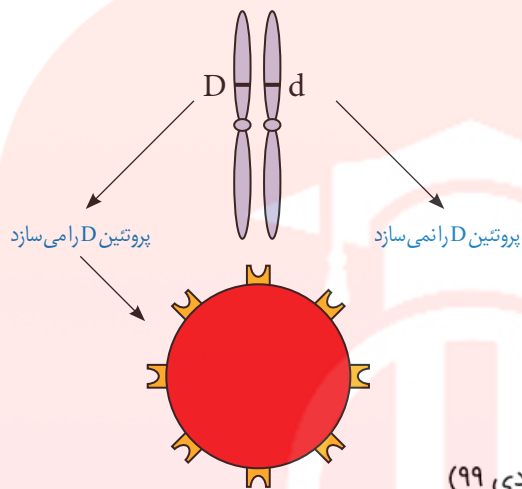
گروه خونی فردی که DD است، مثبت و گروه خونی فرد dd، منفی است. اما گروه خونی فردی که Dd است؛ چگونه می شود؟ برای پاسخ به این سؤال باید رابطه بین این دو دگره را دانست.

مشاهدات نشان می دهند که افراد ناخالص، گروه خونی مثبت را خواهند داشت. بنابراین اگر دو دگره D و d کنار هم قرار بگیرند، این دگره D است که بروز می کند. در چنین حالتی گفته می شود که دگره D **بارز** و دگره d **نهفته** است و بین دگره ها رابطه **بارز و نهفتگی** برقرار است. طبق قرارداد، دگره بارز را با حرف بزرگ و دگره نهفته را با حرف کوچک آن نشان می دهیم.

ج) بین دگره های (الل های) گروه خونی Rh رابطه برقرار است. (شهریور ۱۴۰۰)

الف) اگر گروه خونی زن و شوهری Rh مثبت باشد و گروه خونی یکی از فرزندان آن‌ها Rh منفی شود، ژن نمود این والدین را بنویسید. (خرداد ۹۹)

توضیح علت رابطه بارز و نهفتگی دگره‌های گروه خونی Rh کار آسانی است. داشتن تنها یک دگره D کافی است تا در غشای گویچه‌های قرمز پروتئین D مشاهده شود به همین علت، گروه خونی فردی که برای این صفت ناخالص است، مثبت خواهد شد (شکل ۵).



شکل ۵- توضیح رابطه بارز و نهفتگی بین دگره‌های گروه خونی Rh

ب) انواع ژن نمود (ژنوتیپ)های گروه خونی Rh را بنویسید. (دی ۹۹)

ترکیب دگره‌ها را در فرد، ژن نمود (ژنوتیپ) و شکل ظاهری یا حالت بروز یافته صفت را رخ نمود (فنوتیپ) می‌نامیم. جدول ۱ انواع ژن نمود و رخ نمود را در مورد این گروه خونی نشان می‌دهد.

رخ نمود	ژن نمود
گروه خونی +	DD
گروه خونی +	Dd
گروه خونی -	dd

جدول ۱- انواع ژن نمود و رخ نمود گروه خونی Rh

الف) گروه خونی فردی که Dd است، چیست؟ (خرداد ۱۴۰۱)

ه) اگر پروتئین D در غشای گویچه‌های قرمز وجود داشته باشد، گروه خونی RH (مثبت - منفی) است. (دی ۹۸)

نوع دیگری از رابطه بین دگره‌ها را در صفت گروه خونی ABO می‌توانیم ببینیم.

گروه خونی ABO: در گروه خونی ABO خون به چهار گروه A، B، AB و O گروه‌بندی می‌شود.

این گروه‌بندی بر مبنای بودن یا نبودن دو نوع کربوهیدرات به نام‌های A و B در غشای گویچه‌های قرمز

است (شکل ۶). ب) ژن نمود (ژنوتیپ) فردی با گروه خونی O منفی را بنویسید. (شهریور ۹۹)

	گروه خونی A	گروه خونی B	گروه خونی AB	گروه خونی O
گویچه قرمز				
نوع کربوهیدرات گویچه قرمز	A	B	A و B	هیچ کدام

شکل ۶- مبنای گروه خونی ABO

برای گروه خونی ABO چه دگره‌هایی وجود دارد؟ اضافه شدن کربوهیدرات‌های A و B به غشای

گلبول قرمز، یک واکنش آنزیمی است. دو نوع آنزیم وجود دارد. یکی آنزیم A، که کربوهیدرات A را به

ج) اگر فردی برای گروه خونی ABO فقط آنزیم A را داشته باشد، گروه خونی این فرد است. (خرداد ۹۹)

ج) در گروه خونی ABO، دگره‌های (الل‌های) A و B نسبت به هم، هم‌توان هستند. (ص) (شهریور ۹۸) ج) چه رابطه‌ای بین دگره (الل) A و B وجود دارد؟ (شهریور ۹۹)
 ب) رابطه بین دگره‌های [الل‌های] A و B نسبت به یکدیگر چگونه است؟ (خرداد ۱۴۰۱) ب) در گروه خونی ABO، بین دگره‌های (الل‌های) A و B رابطه وجود دارد. (خرداد ۹۸)
 ج) رابطه بین دگره A و B در گروه خونی ABO، رابطه است. (خرداد ۱۴۰۰)

غشا اضافه می‌کند و دیگری آنزیم B، که کربوهیدراتی را اضافه می‌کند. اگر هیچ‌یک از این دو آنزیم وجود نداشته باشند، آن‌گاه هیچ کربوهیدراتی اضافه نخواهد شد. بنابراین برای این صفت، سه دگره وجود دارد. دگره‌ای که آنزیم A را می‌سازد، دگره‌ای که آنزیم B را می‌سازد و دگره‌ای که هیچ آنزیمی نمی‌سازد. (شهریور ۹۹)
جایگاه ژن‌های گروه خونی ABO در فام‌تن شماره ۹ است. (ه) جایگاه ژن‌های گروه خونی ABO در فام‌تن شماره چند است؟ (خرداد ۹۹)
 ج) جایگاه ژن‌های گروه خونی ABO در فام‌تن شماره (۹-۱) است. (شهریور ۱۴۰۰)
 برای سادگی، این سه دگره را به ترتیب A، B و O می‌نامیم. در اینجا تشخیص رخ نمود برای ژن‌نمودهای خالص AA، BB یا OO آسان است: گروه خونی به ترتیب A، B، O می‌شود. اما، رخ نمود ژن‌نمودهای ناخالص چیست؟ رابطه بارز و نهفتگی بین دگره‌ها چگونه است؟ (د) برای صفت گروه خونی ABO، دگره وجود دارد. (دی ۱۴۰۰)

ژن‌نمودهای ناخالص برای این دگره‌ها عبارت‌اند از AO، BO و AB. آیا می‌توانید حدس بزنید گروه خونی فردی که AO است چیست؟ دگره A آنزیم A را می‌سازد اما دگره O هیچ آنزیمی نمی‌سازد. پس گروه خونی این فرد A خواهد شد. به همین علت گفته می‌شود A نسبت به O بارز است. همین استدلال را می‌توان برای ژن‌نمود BO به کار برد. دگره B نیز نسبت به دگره O بارز است. در ژن‌نمود AB هر دو آنزیم ساخته می‌شوند و به همین علت گلبول قرمز هر دو کربوهیدرات A و B را خواهد داشت. در اینجا **رابطه بین دگره A و B، از نوع بارز و نهفتگی نیست. چنین رابطه‌ای را هم‌توانی می‌نامیم و می‌گوییم** دگره‌های A و B نسبت به یکدیگر هم‌توان هستند. در هم‌توانی، اثر دگره‌ها، همراه با هم ظاهر می‌شود. ژن‌شناسان دگره‌های A، B و O را به ترتیب I^A ، I^B و i نشان می‌دهند. این نوع نام‌گذاری به روشنی نشان می‌دهد که دگره I^A و I^B نسبت به یکدیگر هم‌توان اما نسبت به i بارزند.

بارزیت ناقص

الف) در گروه خونی ABO، بین دو دگره (الل) A و O چه رابطه‌ای برقرار است؟ (دی ۹۸)
 تا اینجا با دو نوع رابطه دگره‌ای آشنا شدیم: یکی بارز و نهفتگی و دیگری هم‌توانی. رابطه دیگری نیز بین دگره‌ها برقرار است و آن موقعی است که صفت در حالت ناخالص، به صورت حد واسط حالت‌های خالص مشاهده می‌شود. این بار مثالی از گیاهان بیابوریم، رنگ گل میمونی مثال خوبی است (شکل ۷).
 دو دگره برای رنگ گل میمونی وجود دارد که یکی قرمز و دیگری سفید است. این دو را به ترتیب با R و W نشان می‌دهیم. در حالت RR رنگ گل، قرمز و در حالت WW رنگ گل، سفید است. رنگ گل RW چگونه است؟ این گل، صورتی است. رنگ صورتی، حالت حد واسط قرمز و سفید است. در این حالت **گفته می‌شود که رابطه بارزیت ناقص برقرار است.** (ب) رابطه بین دگره‌های رنگ گل میمونی، چه نوع رابطه‌ای است؟ (خرداد ۱۴۰۰)

ب) کدام رنگ گل میمونی نشان‌دهنده رابطه بارزیت ناقص بین دو دگره R و W است؟ (دی ۹۸)


د) در گل میمونی، با دیدن رنگ گل می‌توان ژن‌نمود (ژنوتیپ) آن را تشخیص داد. (ص) (خرداد ۹۸)

ه) هنگامی که صفت در حالت ناخالص، به صورت حد واسط حالت‌های خالص مشاهده می‌شود، رابطه دگره‌ای از نوع

..... می‌باشد. (دی ۱۴۰۰)

ج) اگر صفت در حالت ناخالص، به صورت حد واسط حالت‌های خالص مشاهده شود، می‌توان گفت که رابطه

بین دگره‌ها برقرار است.



گل قرمز



گل صورتی



گل سفید

شکل ۷- گل میمونی

د) با کمک رخ نمود، می توان ژن نمود [ژنوتیپ] (گروه خونی O منفی / گروه خونی A منفی) را مشخص کرد. (خرداد ۱۴۰۱)

پدری گروه خونی O و مادری گروه خونی AB دارد. چه ژن نمود (ژنوتیپ) و رخ نمودهایی (فنوتیپهایی) برای فرزندان آنان پیش بینی می کنید؟ (بدون ذکر راه حل) (شهریور ۹۸)

گفتار ۲ انواع صفات

به یاد دارید که فام تن ها به دو دسته غیرجنسی و جنسی تقسیم می شوند. فام تن های جنسی انسان X و Y هستند. صفاتی را که جایگاه ژنی آنها در یکی از فام تن های غیرجنسی قرار داشته باشد **صفت مستقل از جنس** و صفاتی را که جایگاه ژنی آنها در یکی از دو فام تن جنسی قرار داشته باشد **وابسته به جنس** می گویند.

تألیفی: صفات مستقل از جنس و وابسته به جنس را مقایسه کنید.

وراثت صفات مستقل از جنس

صفات مستقل از جنس چگونه به ارث می رسند؟ Rh یک صفت مستقل از جنس است. اگر پدر و مادری هر دو ژن نمود Dd داشته باشند، چه ژن نمود یا ژن نمودهایی برای فرزندان آنها مورد انتظار است؟ می دانیم هر یک از پدر و مادر، از هر جفت فام تن همتا تنها یکی را از طریق گامت ها به نسل بعد منتقل می کنند. در این مثال، هم پدر و هم مادر از نظر Rh دو نوع گامت تولید می کنند: یکی گامتی که D دارد و دیگری گامتی که d دارد. ژن نمود فرزندان به این بستگی دارد که کدام گامت ها با یکدیگر لقاح پیدا کنند. ژن نمود فرزندان را می توان با روشی به نام **مربع پانت** به دست آورد. پانت نام دانشمندی است که این روش را پیشنهاد کرده است.

در روش مربع پانت، گامت های والدین را به طور جداگانه در سطر و ستون یک جدول می نویسیم و بعد خانه های جدول را با کنار هم قرار دادن گامت های سطر و ستون متناظر هم پر می کنیم (جدول ۲).

گامت ها	D	d
D	DD	Dd
d	dD	dd

جدول ۲- مربع پانت

باید توجه داشت که ژن نمودهای Dd و dD یکسان اند. بنابراین هر فرزندی که متولد می شود می تواند یکی از ژن نمودهای DD، Dd و dd را داشته باشد.

ژنوتیپ مادری با گروه خونی A⁺ که فرزندی با گروه خونی O⁻ دارد، چگونه است؟ (دی ۱۴۰۰)

فعّالیت ۱

پدری گروه خونی O و مادری گروه خونی AB دارد. چه ژن نمود و رخ نمودهایی برای فرزندان آنان پیش بینی می کنید؟

مردی هموفیل قصد دارد با زنی ازدواج کند که سالم است و ناقل هم نیست. زن می خواهد بداند آیا ممکن است فرزند حاصل از این ازدواج، هموفیل باشد؟ (ذکر ژن نمودهای تمام افراد خانواده الزامی است) (خرداد ۱۴۰۱)

مردی سالم قصد دارد با زنی هموفیل ازدواج کند. چه ژن نمود (ژنوتیپ) و رخ نمودهایی (فنوتیپ) برای فرزندان آنها پیش بینی می کنید؟ (رسم مربع پانت الزامی است) (دی ۱۴۰۰)

مردی هموفیل با زنی که سالم است و ناقل هم نیست ازدواج می‌کند. ژن نمود و رخ نمود فرزندان این خانواده را با رسم مربع پانت نشان دهید. (رسم مربع پانت الزامی است). (خرداد ۱۴۰۰)

صفت وابسته به X

الف) صفت وابسته به جنس را تعریف کنید. (خرداد ۱۴۰۱)

گاهی ژن صفتی که بررسی می‌شود در فام تن X قرار دارد. به چنین صفتی، صفت وابسته به X می‌گویند.

هموفیلی، یک بیماری وابسته به X و نهفته است یا به عبارتی دیگر، دگره این بیماری که روی فام تن X قرار دارد نهفته است. در این بیماری، فرایند لخته شدن خون دچار اختلال می‌شود. شایع‌ترین نوع هموفیلی به

فقدان عامل انعقادی VIII (هشت) مربوط است. (و علت شایع‌ترین نوع هموفیلی چیست؟ (خرداد ۹۹)

دگره بیماری هموفیلی را h می‌نامیم؛ دگره سالم ژن، H نامیده می‌شود. برای آنکه نشان دهیم این صفت وابسته به X است، دگره‌ها را به صورت بالانویس X^h و X^H می‌نویسیم.

جدول ۳ انواع ژن نمودها و رخ نمودها را برای هموفیلی نشان می‌دهد. دقت کنید که در فام تن Y

جایگاهی برای دگره‌های هموفیلی وجود ندارد. (ب) کدام فام تن (کروموزوم) انسان جایگاهی برای دگره‌های هموفیلی ندارد؟ (شهریور ۹۸)

ب) چرا در صفات وابسته به X ممکن نیست پدر ناقل باشد؟ (خرداد ۹۹) (ج) در همه باخته‌های جنسی (گامت‌های) مرد هموفیل، دگره (الل) هموفیلی وجود دارد.

	مرد	زن	رخ نمود
زن نمود	X ^H Y	X ^H X ^H	سالم
	—	X ^H X ^h	سالم
	X ^h Y	X ^h X ^h	هموفیل

جدول ۳- انواع ژن نمودها و رخ نمودها برای هموفیلی

الف) ژن نمود (ژنوتیپ) دختر ناقل بیماری هموفیلی را بنویسید. (شهریور ۹۸)

فرد با ژن نمود X^HX^h که سالم است؛ ناقل نامیده می‌شود؛ زیرا می‌تواند ژن بیماری را به نسل بعد

منتقل کند. (الف) چرا فردی با ژن نمود X^HX^h ناقل نامیده می‌شود؟ (شهریور ۱۴۰۰)

برای پیش بینی ژن نمودها و رخ نمودهای صفات وابسته به X در نسل‌های بعد، می‌توان همچنان از مربع پانت استفاده کرد. به مثال زیر توجه کنید.

مثال: مردی هموفیل قصد دارد با زنی ازدواج کند که سالم است و ناقل هم نیست. زن می‌خواهد بداند آیا ممکن است فرزند حاصل از این ازدواج، هموفیل باشد؟

ژن نمود مرد هموفیل X^hY و گامت‌هایی که تولید می‌کند X^h و Y است. ژن نمود زن سالم X^HX^H است و برای این صفت فقط یک نوع گامت، یعنی X^H تولید می‌کند. ژن نمودها و رخ نمودهای نسل‌های بعد را می‌توان به کمک مربع پانت یافت.

	Y	X ^h	گامت‌ها
X ^H Y	X ^H Y پسر سالم	X ^H X ^h دختر ناقل	X ^H

جدول ۴- ژن نمود و رخ نمود نسل بعد

بنابراین براساس جدول شماره ۴، فرزندان حاصل از این ازدواج هموفیل نخواهند بود.

مردی سالم قصد دارد با زنی هموفیل ازدواج کند. چه ژن نمود و رخ نمودهایی برای فرزندان آنان پیش بینی می‌کنید؟

فعّالیت ۲

مردی هموفیل قصد دارد با زنی ازدواج کند که سالم است و ناقل هم نیست. چه ژن نمودها (ژنوتیپ‌ها) و رخ نمودهایی

(فنوتیپ‌هایی) برای فرزندان آنان پیش بینی می‌کنید؟ (بدون ذکر راه‌حل) (خرداد ۹۸)

ج) رنگ گل میمونی مثالی از صفات (تک‌جایگاهی - چندجایگاهی) است. (شهریور ۹۸)

صفات پیوسته و گسسته

اندازهٔ قد شما چقدر است؟ اگر از هم کلاسی‌های خود اندازهٔ قدشان را بپرسید، اعداد گوناگونی را خواهید شنید. اندازهٔ قد صفتی پیوسته است. آیا می‌توان گفت که Rh هم چنین است؟ در میان انسان‌ها، صفت Rh تنها به دو شکل مثبت و منفی دیده می‌شود؛ بنابراین Rh صفتی گسسته است. (ج) در میان انسان‌ها، صفت Rh صفتی (پیوسته - گسسته) است. (خرداد ۱۴۰۰)

صفات تک‌جایگاهی و چندجایگاهی

صفاتی که تا اینجا بررسی کردیم، صفاتی هستند که یک جایگاه ژن در فام‌تن دارند. برای مثال، دگره صفت گروه‌های خونی ABO یک جایگاه مشخص از فام‌تن ۹ را به خود اختصاص داده‌اند. چنین صفاتی را تک‌جایگاهی می‌نامیم.

منظور از صفات چندجایگاهی چیست؟ (دی ۱۴۰۰) → در مقابل، صفاتی هستند که در بروز آنها بیش از یک جایگاه ژن شرکت دارد. رنگ نوعی ذرت مثالی

از صفات چندجایگاهی است. رنگ این ذرت طیفی از سفید تا قرمز است (شکل ۸).

ب) صفت رنگ نوعی ذرت یک صفت چندجایگاهی است یا تک‌جایگاهی؟ (خرداد ۹۸)

د) صفات چندجایگاهی رخ‌نمودهای [فنوتیپ‌های] پیوسته‌ای دارند. (ص) (خرداد ۱۴۰۱)

ب) صفات چندجایگاهی چه نوع رخ‌نمودی دارند؟ (شهریور ۱۴۰۰)



شکل ۸- رنگ‌های متفاوت ذرت

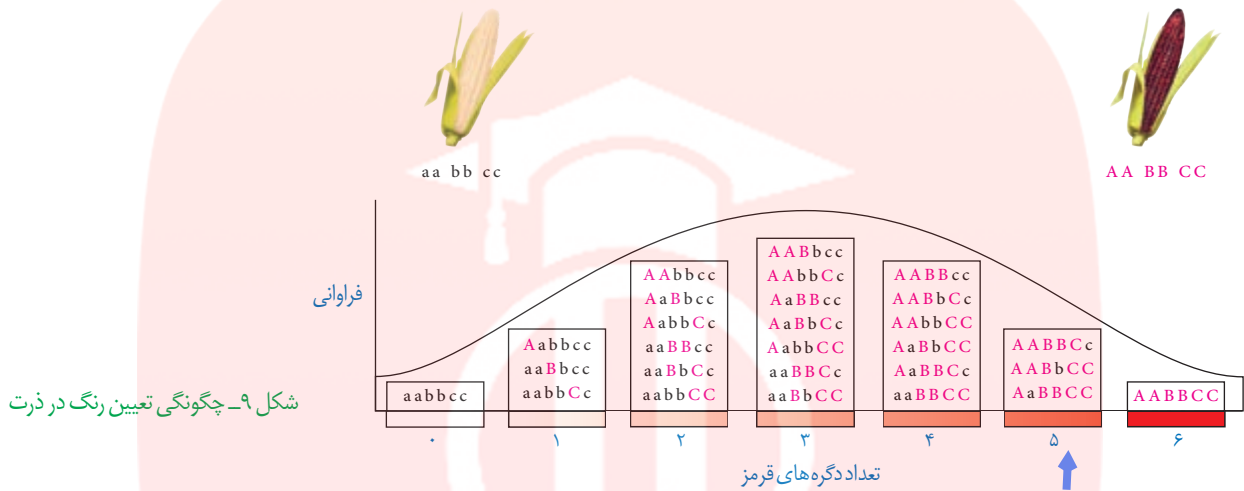
صفت رنگ در این نوع ذرت صفتی با سه جایگاه ژنی است که هر کدام دو دگره دارند. برای نشان دادن ژن‌ها در این سه جایگاه، از حروف بزرگ و کوچک A، B و C استفاده می‌کنیم. برحسب نوع ترکیب دگره‌ها، رنگ‌های مختلفی ایجاد می‌شود. دگره‌های بارز، رنگ قرمز و دگره‌های نهفته رنگ سفید را به وجود می‌آورند. بنابراین رخ‌نمودهای دو آستانهٔ طیف، یعنی قرمز و سفید به ترتیب ژن‌نمودهای AABbCC و aabbcc را دارند. در رخ‌نمودهای ناخالص، هرچه تعداد دگره‌های بارز بیشتر باشد، مقدار رنگ قرمز بیشتر است.

ج) در رابطه با رنگ نوعی ذرت، ژن‌نمود (ژنوتیپ) ذرت‌های موجود در دو آستانهٔ طیف یعنی قرمز و سفید را بنویسید. (خرداد ۹۹)

ج) در رنگ نوعی ذرت که یک صفت چندجایگاهی است، دگره‌های بارز چه رنگی را به وجود می‌آورند؟ (دی ۹۸)

ج) در رابطه با رنگ نوعی ذرت، در رخ‌نمودهای ناخالص، هرچه تعداد دگره‌های بارز بیشتر باشد، مقدار رنگ قرمز (بیشتر - کمتر) است. (شهریور ۹۹)

چنان که می‌بینیم صفات چند جایگاهی رخ‌نمودهای پیوسته‌ای دارند. یعنی افراد جمعیت این ذرت، در مجموع طیف پیوسته‌ای بین سفید و قرمز را به نمایش می‌گذارند. به همین علت، نمودار توزیع فراوانی این رخ‌نمودها شبیه زنگوله است.



شکل ۹- چگونگی تعیین رنگ در ذرت

ج) دو ذرت با ژن‌نمودهای $AABBcc$ و $AaBBcc$ ، دارای رخ‌نمودهای (مشابه - متفاوت) هستند.

اثر محیط

گاهی برای بروز یک رخ‌نمود تنها وجود ژن کافی نیست. برای مثال در گیاهان، ساخته شدن سبزینه علاوه بر ژن، به نور هم نیاز دارد. **چرا نمی‌توان تنها از روی ژن‌ها، علت اندازه قد یک نفر را توضیح داد؟** محیط انسان، شامل عوامل متعددی است. تغذیه و ورزش عواملی محیطی‌اند که می‌توانند بر ظهور رخ‌نمود اثر بگذارند. به عنوان مثال، قد انسان به تغذیه و ورزش هم بستگی دارد. بنابراین نمی‌توان تنها از روی ژن‌ها، علت اندازه قد یک نفر را توضیح داد. (ص) (دی ۹۸)

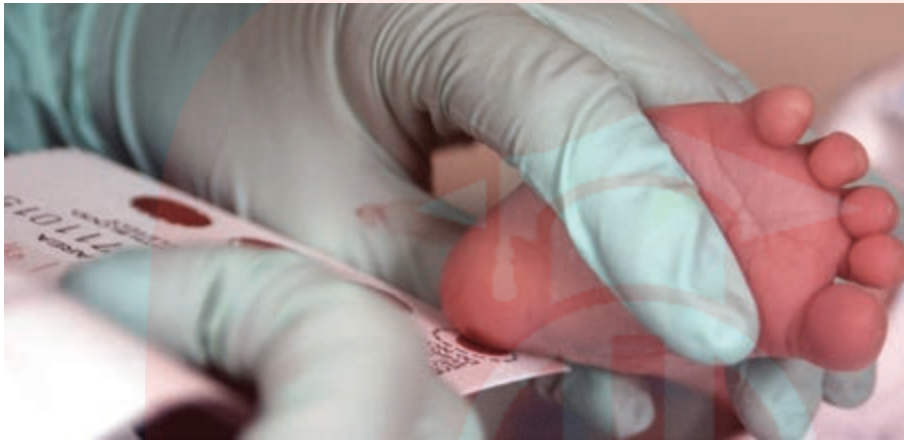
مهار بیماری‌های ژنتیک ج) در بیماری فنیل‌کتونوری، آنزیمی که آمینواسید فنیل‌آلانین را (تجزیه کند - بسازد) وجود ندارد. (خرداد ۹۹)

گرچه نمی‌توان بیماری‌های ژنتیک را در حال حاضر درمان کرد (مگر در موارد معدود) اما گاهی می‌توان با تغییر عوامل محیطی، عوارض بیماری‌های ژنی را مهار کرد. مثال این موضوع، بیماری فنیل‌کتونوری (PKU) است. در این بیماری آنزیمی که آمینواسید فنیل‌آلانین را می‌تواند تجزیه کند وجود ندارد. تجمع فنیل‌آلانین در بدن به ایجاد ترکیبات خطرناک منجر می‌شود. در این بیماری، مغز آسیب می‌بیند. خوشبختانه می‌توان از بروز این بیماری جلوگیری کرد. اما چگونه؟ علت این بیماری، تغذیه از پروتئین‌های حاوی فنیل‌آلانین است. **با تغذیه نکردن از خوراکی‌هایی که فنیل‌آلانین دارند، می‌توان مانع بروز اثرات این بیماری شد.** (د) در بیماری فنیل‌کتونوری (PKU) تجمع چه ماده‌ای در بدن به ایجاد ترکیبات خطرناک منجر می‌شود؟ (دی ۹۸)

فنیل‌کتونوری یک بیماری نهفته است. وقتی نوزاد متولد می‌شود، علائم آشکاری ندارد. در عین حال، تغذیه نوزاد مبتلا به فنیل‌کتونوری با شیر مادر (که حاوی فنیل‌آلانین است) به آسیب یا خنثی‌سازی مغزی او می‌انجامد. به همین علت، نوزادان را در بدو تولد از نظر ابتلای احتمالی به این بیماری، با انجام آزمایش ج) تغذیه نوزاد مبتلا به بیماری فنیل‌کتونوری با شیر مادر، باعث آسیب رسیدن به کدام یاخته‌های بدن او می‌شود؟ (خرداد ۹۸)

ب) در بیماری آنزیمی که آمینواسید فنیل‌آلانین را می‌تواند تجزیه کند، وجود ندارد. (شهریور ۹۹)

ج) چرا نوزادان در بدو تولد، از نظر ابتلای احتمالی به بیماری فنیل کتونوری، با انجام آزمایش خون بررسی می‌شوند؟ (دی ۹۹)
 خون بررسی می‌کنند. در صورت ابتلا، نوزاد با شیرخشک‌هایی که فاقد فنیل آلانین است تغذیه می‌شود
 و در رژیم غذایی او برای آینده، از رژیم‌های بدون (یا کم) فنیل آلانین استفاده می‌شود (شکل ۱۰).
 چگونه می‌توان از بروز بیماری فنیل کتونوری (PKU) جلوگیری کرد؟ (شهریور ۹۸)



شکل ۱۰- خون‌گیری از نوزاد برای انجام آزمایش‌های بدو تولد

زن و مردی سالم صاحب فرزندی هموفیل شده‌اند. با توجه به این که هموفیلی یک بیماری وابسته به X و نهفته است (شهریور ۹۹)
 الف) جنسیت فرزند هموفیل را مشخص کنید.

ب) ژن‌نمود (ژنوتیپ) والد ناقل را بنویسید.

ج) احتمال تولد کدام‌یک، دختر هموفیل یا پسر سالم در این خانواده وجود ندارد؟

پدری گروه خونی O و مادری گروه خونی AB دارد. (شهریور ۱۴۰۰)

چه ژن‌نمود و رخ‌نمودهایی برای فرزندان آنان پیش‌بینی می‌کنید؟ (نیازی به رسم مربع پانت نیست).
 رسم مربع

پدری با گروه خونی AB و مادری با گروه خونی B صاحب فرزندی با گروه خونی A شده‌اند.

الف) ژن‌نمود (ژنوتیپ) مادر را بنویسید.

ب) سایر رخ‌نمودهای (فنوتیپ‌های) فرزندان این خانواده را با رسم مربع پانت پیش‌بینی کنید.





فصل ۴

تغییر در اطلاعات وراثتی



جاخالی تألیفی

پایداری اطلاعات در سامانه‌های زنده، یکی از ویژگی‌های ماده وراثتی است اما در عین حال، ماده وراثتی به طور محدود تغییرپذیر است. این تغییرپذیری باعث ایجاد گوناگونی می‌شود و چنان که خواهیم دید توان بقای جمعیت‌ها را در شرایط متغیر محیط افزایش می‌دهد و زمینه تغییر گونه‌ها را فراهم می‌کند. در این فصل با انواع تغییرات ماده وراثتی و اثرات آن بر فرد، جمعیت و گونه آشنا خواهیم شد.



طرح سؤال‌های محاسباتی و طرح سؤال از توالی‌های رمز، رمز و آمینواسیدهای مربوط به آنها در همه آزمون‌ها از جمله کنکور سراسری ممنوع است.

www.my-dars.ir

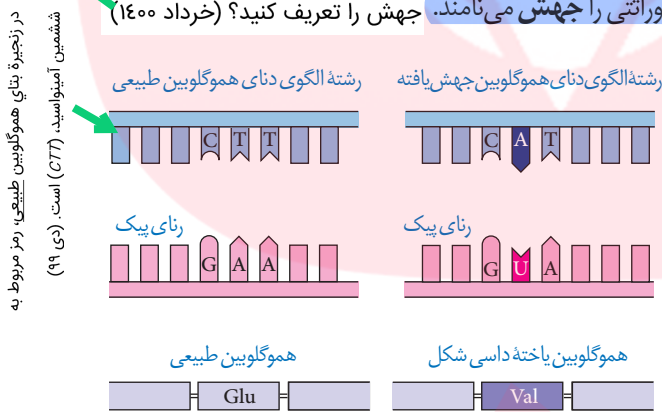
به منظور آمادگی کامل برای امتحان نهایی زیست شناسی دوازدهم و تکمیل این جزوه، کلاس آمادگی امتحان نهایی دکتر خیراندیش و دکتر فرهنگ‌نیا در گروه آموزشی ماز را مورخ شنبه و یکشنبه ۱۳ و ۱۴ خردادماه از ساعت ۱۲:۰۰ لغایت ۱۵:۰۰ مشاهده نمایید.

تغییرپذیری ماده وراثتی پیامدهای مختلفی دارد. تغییر، ممکن است «مفید»، «مضر» یا «خنثی» باشد. تغییر در ماده وراثتی چگونه رخ می‌دهد و چه چیزی پیامد آن را تعیین می‌کند؟ در ادامه به این سؤالات پاسخ خواهیم داد.

جهش

در فصل ۲ با کم‌خونی ناشی از گویچه‌های قرمز داسی شکل آشنا شدیم و دیدیم که علت این بیماری، تغییر شکل در مولکول‌های هموگلوبین است. علت این تغییر شکل چیست؟ دانشمندان با مقایسه آمینواسیدهای هموگلوبین‌های سالم و تغییر شکل یافته، دریافتند که این دو هموگلوبین فقط در ششمین آمینواسید از زنجیره بتا متفاوت اند.

مقایسه ژن‌های زنجیره بتای هموگلوبین در بیماران و افراد سالم نشان می‌دهد که در رمز مربوط به ششمین آمینواسید، نوکلئوتید A به جای T قرار گرفته است (شکل ۱). شگفتا که تغییر در یک نوکلئوتید از میلیون‌ها نوکلئوتید انسان، می‌تواند پیامدی این چنین وخیم را به دنبال داشته باشد. **تغییر ماندگار در نوکلئوتیدهای ماده وراثتی را جهش می‌نامند. جهش را تعریف کنید؟ (خرداد ۱۴۰۰)**



در مقایسه با ژن‌های زنجیره بتای هموگلوبین در ارتباط با کم‌خونی ناشی از گویچه‌های قرمز داسی، رمز ششمین آمینواسید چه تغییری پیدا کرده است؟ (دی ۱۴۰۰)

شکل ۱- مقایسه ژن‌های هموگلوبین در افراد سالم و بیمار. در این شکل فقط بخشی از ژن نشان داده شده است. Glu: گلوتامیک اسید
Val: والین

ششمین آمینواسید زنجیره بتای هموگلوبین در افراد مبتلا به کم‌خونی داسی‌شکل چه نام دارد؟ (دی ۱۴۰۱)

انواع جهش

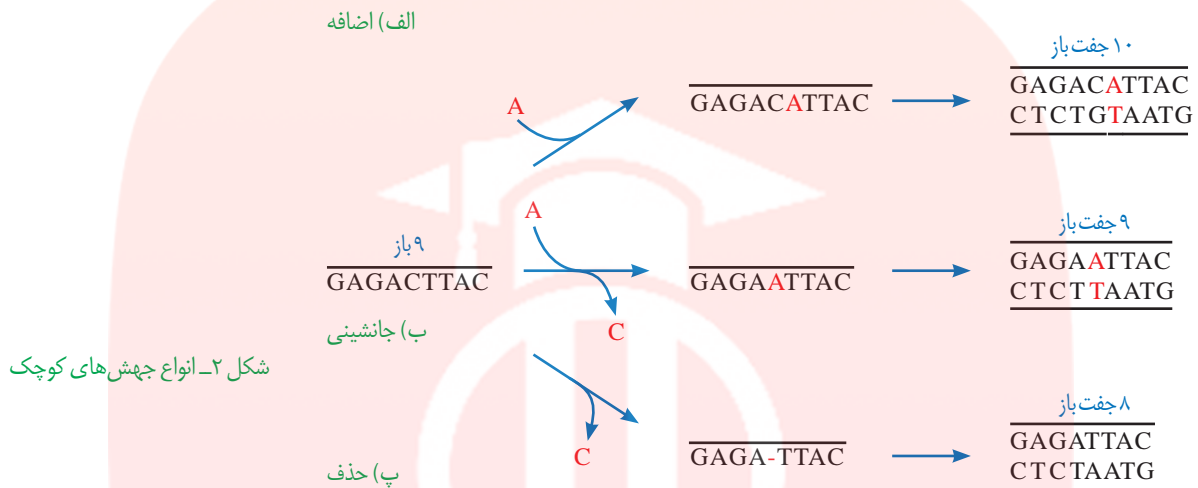
در مثال بالا دیدیم که جهش در یک نوکلئوتید رخ داده است، اما جهش می‌تواند در اندازه بسیار وسیع‌تری هم رخ دهد. گاهی جهش آن قدر وسیع است که حتی ساختار یا تعداد فام‌تن را تغییر می‌دهد. بر همین اساس، جهش‌ها را به دو گروه کوچک و بزرگ تقسیم می‌کنند.

جهش‌های کوچک: این جهش‌ها یک یا چند نوکلئوتید را در برمی‌گیرند. انواع جهش‌های کوچک

در شکل ۲ نشان داده شده‌اند. مثال یاخته‌های داسی شکل، نمونه‌ای از جهش کوچک است. در اینجا یک نوکلئوتید، جانشین نوکلئوتید دیگری شده است. این نوع جهش را **جانشینی** می‌نامند. از آن جایی که این جهش سبب تغییر در نوع آمینواسید در زنجیره پلی‌پپتیدی شده است؛ این نوع جهش جانشینی را **جهش دگر معنا** می‌نامند. به علت وجود رابطه مکملی بین بازها، تغییر در یک نوکلئوتید از یک رشته دنا،

چه نوع جهش جانشینی باعث ایجاد کم‌خونی داسی‌شکل می‌شود؟ (دی ۱۴۰۱)

نوکلئوتید مقابل آن را در رشته دیگر تغییر می دهد به همین علت، جانشینی در یک نوکلئوتید به جانشینی در یک جفت نوکلئوتید منجر می شود.



شکل ۲- انواع جهش های کوچک

نباید تصور کرد که جهش جانشینی همیشه باعث تغییر در توالی آمینواسیدها می شود. می دانید چرا؟
 پاسخ این است که گاهی جهش، رمز یک آمینواسید را به رمز دیگری برای همان آمینواسید تبدیل می کند.
 این نوع جهش تأثیری بر توالی آمینواسیدها نخواهد گذاشت. چنین جهشی را **جهش خاموش** می نامند.

این امکان وجود دارد که جهش جانشینی رمز یک آمینواسید را به رمز پایان ترجمه تبدیل کند که در این صورت پلی پپتید حاصل از آن، کوتاه خواهد شد به این جهش، **جهش بی معنا** می گویند (شکل ۳).
 اگر در جهش جانشینی، رمز یک آمینواسید به رمز پایان ترجمه تبدیل شود، در این صورت طول پلی پپتید حاصل از آن، چه تغییری می کند؟ (شهریور ۹۸)
جهش بی معنا را تعریف کنید. (خرداد ۹۹)

جهش های **اضافه و حذف**، انواع دیگر جهش های کوچک اند. در این جهش ها به ترتیب یک یا چند نوکلئوتید اضافه یا حذف می شود. نتیجه این جهش ها چیست؟ می دانیم که رمز دنا به صورت دسته های سه تایی از نوکلئوتیدها خوانده می شود. اگر نوکلئوتیدی اضافه یا حذف شود ممکن است پیامد وخیمی داشته باشد. برای درک بهتر موضوع، به این مثال توجه کنید. جمله «این سیب سرخ است» را که با کلمات سه حرفی نوشته شده است، به صورت زیر در نظر بگیرید:

ای ن / سی ی ب / سی ر خ / اس ت

اگر یک حرف به جایی درون این جمله اضافه شود چگونه خوانده می شود؟ قرار است این جمله را همچنان به صورت کلمات سه حرفی بخوانیم:

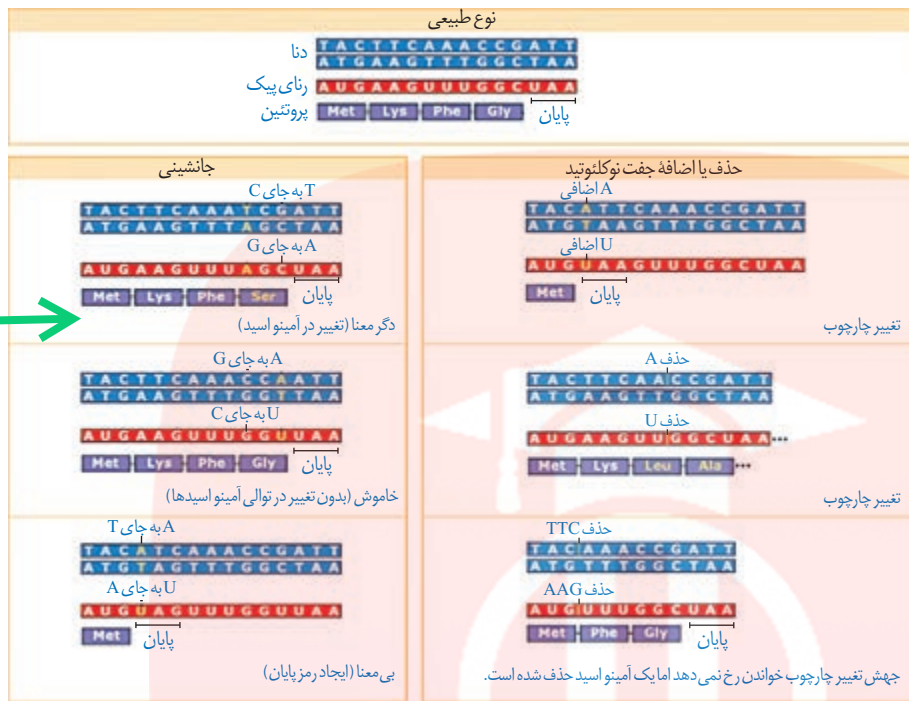
ای ن / سی ی ب / سی ر خ / اس ت

می بینیم که جمله معنای خود را از دست می دهد. جهش های از نوع اضافه و حذف را که باعث چنین تغییری در خواندن می شوند، **جهش تغییر چارچوب خواندن** می نامند. در شکل ۳، تأثیر این جهش بر توالی یک پروتئین فرضی نشان داده شده است. همان طور که در شکل ۳ می بینید، جهش های اضافه و حذف،

الزاماً به تغییر چارچوب خواندن نمی انجامند.
 جهش های اضافه و حذف، الزاماً به تغییر چارچوب

خواندن می انجامند (ص/غ). (شهریور ۹۹)

اگر جهش، سبب تغییر در نوع آمینواسید در زنجیره پلی‌پپتیدی شود، این نوع جهش جانشینی را جهش می‌نامند. (شهریور ۹۹)



شکل ۳- تأثیر جهش بر پروتئین

فعالیت ۱

الف) در چه صورت طول یک رشته پلی‌پپتیدی ممکن است افزایش یابد؟

ب) اگر تعداد نوکلئوتیدهای اضافه یا حذف شده مضر به، از سه باشد، چه پیامدی مورد انتظار است؟ در چه صورت طول یک رشته پلی‌پپتیدی ممکن است افزایش یابد؟ (خرداد ۱۴۰۱) در صورتی که جهش جانشینی، رمز پایان

را به رمز یک آمینواسید تبدیل کند که در این صورت پلی‌پپتید حاصل از آن بلندتر خواهد شد.

جهش‌های بزرگ (ناهنجاری‌های فام‌تنی): جهش ممکن است در مقیاس وسیع‌تری رخ دهد

تا جایی که به ناهنجاری‌های فام‌تنی منجر شود. زیست‌شناسان با مشاهده کاربوتیپ می‌توانند از وجود

چنین ناهنجاری‌هایی آگاه شوند.

زیست‌شناسان چگونه می‌توانند از وجود ناهنجاری‌های فام‌تنی (کروموزومی) آگاه شوند؟ (خرداد ۹۹)

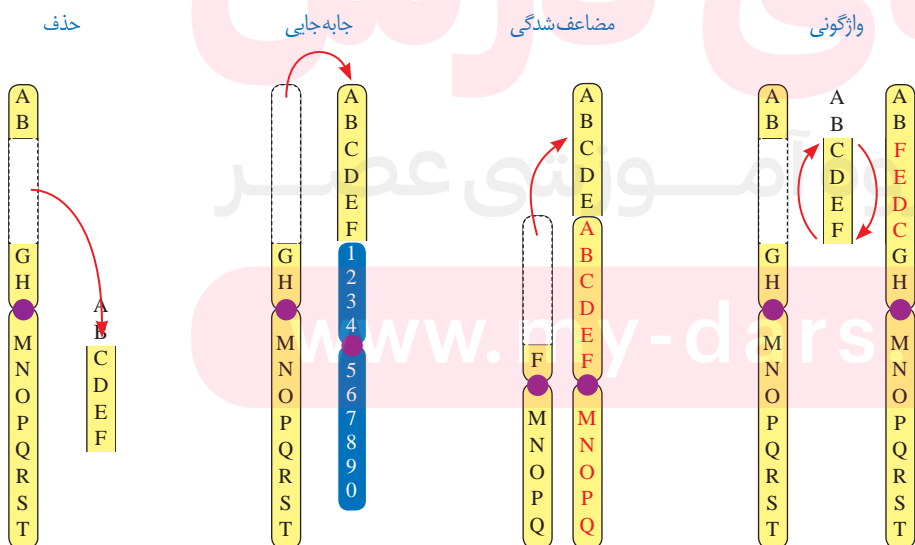
در سال گذشته با نشانگان داون آشنا شدید. می‌دانید که مبتلایان به این بیماری یک فام‌تن ۲۱

مثالی از ناهنجاری در فام‌تن‌ها است. (شهریور ۹۹)

اضافی دارند. تغییر در تعداد فام‌تن‌ها را ناهنجاری عددی در فام‌تن‌ها می‌نامند.

نوع دیگری از ناهنجاری فام‌تنی، ناهنجاری ساختاری است. انواع این جهش‌ها در شکل ۴ نشان

داده شده‌اند.



شکل ۴- انواع ناهنجاری‌های ساختاری در فام‌تن‌ها

«A»	«B»
۱- کم‌خونی ناشی از گویچه‌های قرمز داسی‌شکل	جهش جانشینی
۲- نشانگان داون	ناهنجاری عددی در فامتن (کروموزوم)
۳- جهش در گامت‌ها (کامه‌ها)	جهش ارثی
۴- واژگونی	ناهنجاری ساختاری در فامتن (کروموزوم)

(خرداد ۱۴۰۰)

ستون «الف»	ستون «ب»
الف) در این نوع جهش رمز یک آمینواسید به رمز دیگر همان آمینواسید تبدیل می‌شود.	۱- خاموش
ب) در این نوع جهش قسمتی از یک فامتن به فامتن غیرهمتا منتقل می‌شود.	۲- جابه‌جایی

همان‌طور که در شکل می‌بینید، ممکن است قسمتی از فامتن از دست برود که به آن **حذف** می‌گویند. جهش‌های فامتنی حذفی غالباً باعث مرگ می‌شوند. **جابه‌جایی**، نوع دیگری از ناهنجاری فامتنی است که در آن قسمتی از یک فامتن به فامتن غیرهمتا یا حتی بخش دیگری از همان فامتن منتقل می‌شود. اگر قسمتی از یک فامتن به فامتن همتا جابه‌جا شود، آن‌گاه در فامتن همتا، از آن قسمت دو نسخه دیده می‌شود. به این جهش، **مضاعف‌شدگی** می‌گویند. نوع دیگری از ناهنجاری‌های فامتنی، **واژگونی** است که در آن جهت قرارگیری قسمتی از یک فامتن در جای خود معکوس می‌شود.

پیامدهای جهش

تأثیر جهش به عوامل مختلفی بستگی دارد. یکی از این عوامل، محل وقوع جهش در **ژنگان (ژنوم)** است. ژنگان به کل محتوای ماده‌وراثی گفته می‌شود و برابر است با مجموع محتوای ماده‌وراثی هسته‌ای و سیتوپلاسمی. طبق قرارداد، ژنگان هسته‌ای را معادل مجموعه‌ای شامل یک نسخه از هر یک از انواع فامتن‌ها در نظر می‌گیرند. ژنگان هسته‌ای انسان شامل ۲۲ فامتن غیرجنسی و فامتن‌های جنسی X و Y است. دنا را کیزه، ژنگان سیتوپلاسمی را در ژنگان انسان تشکیل می‌دهد.

به مجموع محتوای ماده‌وراثی هسته‌ای و سیتوپلاسمی، ژنگان هسته‌ای انسان شامل چند فامتن غیرجنسی است؟ (شهریور ۹۹)

ژن‌ها فقط بخشی از ژنگان اند. ممکن است جهش در توالی‌های بین ژنی رخ دهد. در این صورت بر توالی محصول ژن، اثری نخواهد گذاشت. اگر جهش درون ژن رخ دهد، آن‌گاه پیامدهای آن مختلف خواهد بود. آنزیمی را در نظر بگیرید که در ژن آن جهش جانشینی رخ داده و رمز یک آمینواسید را به آمینواسید دیگری تبدیل کرده است. آیا این جهش باعث تغییر در عملکرد آنزیم خواهد شد؟ پاسخ این سؤال به محل وقوع تغییر در آنزیم بستگی دارد. اگر جهش باعث تغییر در جایگاه فعال آنزیم شود، آن‌گاه احتمال تغییر عملکرد آنزیم بسیار زیاد است. اما اگر جهش در جایی دور از جایگاه فعال رخ دهد، به طوری که بر آن اثری نگذارد، احتمال تغییر در عملکرد آنزیم کم یا حتی صفر است.

اگر جهش در توالی‌های افزایشنده رخ دهد، چه پیامدی دارد؟ (شهریور ۱۴۰۰)

گاهی جهش در یکی از توالی‌های تنظیمی رخ می‌دهد، این جهش بر پروتئین اثری نخواهد داشت. (شهریور ۹۹)

جهش در چه توالی‌هایی از ژن می‌تواند بر مقدار ساخت پروتئین مؤثر باشد؟ (شهریور ۹۸)

گاهی جهش در یکی از توالی‌های تنظیمی رخ می‌دهد، مثلاً در راه‌انداز یا افزایشنده. این جهش بر توالی پروتئین اثری نخواهد داشت بلکه بر «مقدار» آن تأثیر می‌گذارد. جهش در راه‌انداز، ممکن است آن را به راه‌اندازی قوی‌تر یا ضعیف‌تر تبدیل کند و با اثر بر میزان رونویسی از ژن، محصول آن را نیز بیشتر یا کمتر کند.

علت جهش

گرچه سازوکارهای دقیقی برای اطمینان از صحت همانندسازی دنا وجود دارد اما با وجود اینها، گاهی در همانندسازی خطاهایی رخ می‌دهد که باعث جهش می‌شوند.

یک عامل جهش‌زای فیزیکی نام ببرید که باعث تشکیل دویار (دیمر) تیمین می‌شود؟ (شهریور ۹۸)

جهش، تحت اثر **عوامل جهش‌زا** هم رخ می‌دهد. عوامل جهش‌زا را می‌توان به دو دسته فیزیکی و شیمیایی تقسیم کرد. پرتو فرابنفش یکی از عوامل جهش‌زای فیزیکی است. این پرتو، که در نور خورشید وجود دارد، باعث تشکیل پیوند بین دو تیمین مجاور هم در دنا می‌شود که به آن **دویار (دیمر) تیمین** می‌گویند (شکل ۵). دویار تیمین با ایجاد اختلال در عملکرد آنزیم دنا بسپاراز، همانندسازی دنا را با مشکل مواجه می‌کند. از مواد شیمیایی جهش‌زا می‌توان به **بنزوپیرن** اشاره کرد که در دود سیگار وجود

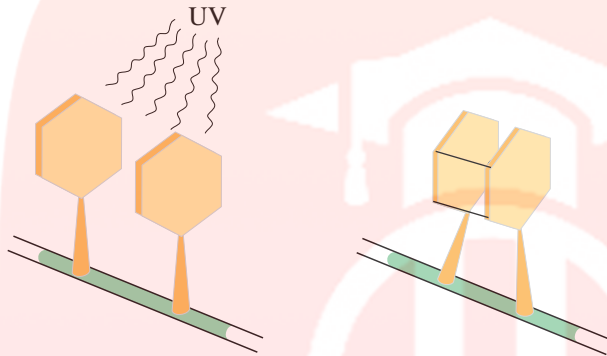
یک عامل جهش‌زای شیمیایی نام ببرید که در

دود سیگار وجود دارد؟ (خرداد ۹۹)

دارد و جهشی ایجاد می کند که به سرطان منجر می شود.

جهش ارثی یا اکتسابی است. جهش ارثی از یک یا هر دو والد به فرزند می رسد. این جهش در گامت ها وجود دارد که پس از لقاح، جهش را به تخم منتقل می کنند. در این صورت همه یاخته های حاصل از آن تخم، دارای آن جهش اند. جهش اکتسابی از محیط کسب می شود. مثلاً سیگار کشیدن می تواند باعث ایجاد جهش در یاخته های دستگاه تنفس شود.

جاخالی تألیفی



شکل ۵- تشکیل دوپار تیمین

سبک زندگی و تغذیه سالم نقش مهمی در پیشگیری از سرطان دارند. ورزش و وزن مناسب، از عوامل مهم در حفظ سلامت اند. در سال های قبل دیدید که غذاهای گیاهی که پاد اکسنده و الیاف دارند در پیشگیری از سرطان مؤثرند. در عین حال، شیوه فرآوری و پخت غذا بر سلامت آن اثر می گذارد. تحقیقات نشان داده است در مناطقی که مصرف غذاهای نمک سود یا دودی شده رایج است، سرطان شیوع بیشتری دارد. همچنین، ارتباط بعضی از سرطان ها با مصرف زیاد غذاهای کباب شده یا سرخ شده مشخص شده است. گزارش های متعددی در دست است که نشان می دهد ترکیبات نیتريت دار مانند سدیم نیتريت، که برای ماندگاری محصولات پروتئینی مثل سوسیس و کالباس به آنها اضافه می شود، در بدن به ترکیباتی تبدیل می شوند که تحت شرایطی قابلیت سرطان زایی دارند. بنابراین مصرف زیاد چنین مواد غذایی از عوامل ایجاد سرطان است.

جاخالی تألیفی

مای درس
گروه آموزشی عصر

www.my-dars.ir

بعد از کشف پادزیست (آنتی‌بیوتیک)‌ها در نیمه قرن گذشته، آدمی به یکی از کارآمدترین ابزارهای دفاعی در برابر باکتری‌های بیماری‌زا مجهز شد و توانست در نبرد با آنها پیروز شود. با این وجود، مدتی است که از گوشه و کنار دنیا خبر می‌رسد باکتری‌ها نسبت به پادزیست‌ها مقاوم شده‌اند. گرچه دانشمندان با طراحی داروهای جدید، برتری انسان را در این نبرد همچنان حفظ کرده‌اند اما در عین حال، روند مقاوم شدن باکتری‌ها آدمی را سخت نگران کرده است. مقاوم شدن باکتری‌ها نسبت به داروها، یکی از مثال‌هایی است که نشان می‌دهد «موجودات زنده می‌توانند در گذر زمان تغییر کنند». این تغییر چگونه رخ می‌دهد؟

جاخالی تألیفی

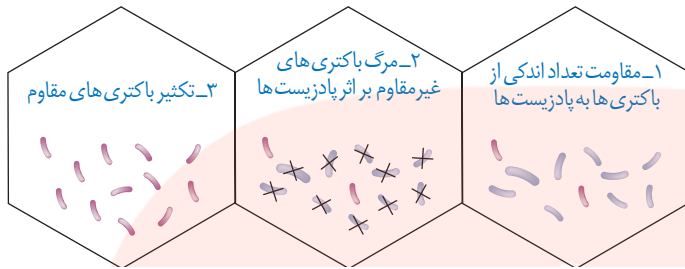
تغییر در گذر زمان

به انسان‌های اطراف خود نگاه کنید. همه انسان‌ها ویژگی‌های مشترکی دارند که باعث می‌شود آنان را در گروهی به نام «انسان‌ها» قرار دهیم. در عین حال، در میان انسان‌ها «تفاوت‌های فردی» نیز وجود دارد که باعث شناخت آنها از یکدیگر می‌شود. تفاوت‌های فردی منحصر به انسان نیست. در میان افراد گونه‌های دیگر هم تفاوت‌های فردی مشاهده می‌شود.

تفاوت‌های فردی چگونه می‌تواند در پایداری گونه مؤثر باشد؟ این سؤال را با ذکر مثالی پاسخ می‌دهیم. فرض کنید در نوعی از جانوران، افراد تحمل متفاوتی نسبت به سرما دارند؛ یعنی بعضی‌ها می‌توانند سرما را تحمل کنند. اگر سرمای شدیدی رخ دهد، آنان که سرما را تحمل می‌کنند شانس بیشتری برای زنده ماندن دارند. بنابراین، این افراد، بیشتر از دیگران تولیدمثل می‌کنند و در نتیجه صفت تحمل سرما، بیش از گذشته، به نسل بعد منتقل می‌شود. اگر سرما همچنان ادامه یابد، باز هم آنها که سرما را تحمل می‌کنند، شانس بیشتری برای تولیدمثل و انتقال صفت به نسل‌های بعد را خواهند داشت. بنابراین، بعد از مدتی با جمعیتی روبه‌رو خواهیم شد که در آن، تعداد افرادی که سرما را تحمل می‌کنند در مقایسه با جمعیت اول، بیشتر است و این یعنی تغییر در جمعیت.

جاخالی تألیفی

مثال ساده‌ای که در بالا عنوان شد، نشان می‌دهد که برای تغییر، شرایطی لازم است. یکی از این شرایط، وجود تفاوت‌های فردی است. وقتی تفاوت فردی هست، این سؤال پیش می‌آید که کدام تفاوت‌ها بهترند. در مثال ما، آنها که سرما را تحمل می‌کردند، در مقایسه با بقیه، شانس بیشتری برای زنده ماندن داشتند. با کمی دقت متوجه می‌شویم که این «بهتر» بودن یک صفت همیشگی نیست؛ بلکه شرایط محیط تعیین‌کننده صفات بهتر است. اگر هوا به جای سرد شدن گرم می‌شد، آن‌گاه افراد دیگری شانس زنده ماندن داشتند. بنابراین، زیست‌شناسان از واژه «صفت بهتر» استفاده نمی‌کنند بلکه به جای آن می‌گویند «صفت سازگارتر با محیط». به روشنی دیده می‌شود این، «محیط» است که تعیین می‌کند کدام صفات با فراوانی بیشتری به نسل بعد منتقل شوند. این فرایند را که در آن افراد سازگارتر با محیط انتخاب می‌شوند، یعنی آنهایی که شانس بیشتری برای زنده ماندن و تولیدمثل دارند، انتخاب طبیعی می‌نامند.



شکل ۶- چگونگی مقاوم شدن باکتری‌ها به پادزیست

علت مقاوم شدن باکتری‌ها به پادزیست‌ها در نتیجه انتخاب طبیعی را بنویسید. (دی ۹۹)
 انتخاب طبیعی می‌تواند علت مقاوم شدن باکتری‌ها به پادزیست‌ها را نیز توضیح دهد (شکل ۶).
 در این مثال باکتری‌های غیرمقاوم از بین می‌روند و باکتری‌های مقاوم تکثیر می‌شوند و به تدریج همه جمعیت را به خود اختصاص می‌دهند؛ در نتیجه جمعیت از غیرمقاوم به مقاوم تغییر می‌یابد.

علت مقاوم شدن باکتری‌ها به پادزیست‌ها (آنتی‌بیوتیک‌ها)،
 انتخاب طبیعی است (ص/غ). (خرداد ۹۸)

وقتی از تفاوت‌های فردی سخن می‌گوییم در واقع در حال بررسی جمعیتی از افراد هستیم نه یک فرد. انتخاب طبیعی «جمعیت» را تغییر می‌دهد نه «فرد». جمعیت، به افرادی گفته می‌شود که به یک گونه تعلق دارند و در یک زمان و مکان زندگی می‌کنند.

بیشتر بدانید

ابوریحان بیرونی، در کتاب تحقیق ماللهند، نخستین دانشمندی است که تغییر گونه‌ها را توصیف می‌کند. چارلز داروین (Charles Robert Darwin) و آلفردوالاس (Alfred Russel Wallace) مستقل از یکدیگر سازوکار انتخاب طبیعی را برای تغییرگونه‌ها ارائه کردند.

خزانه ژن

قبل از کشف مفاهیم پایه ژنتیک، زیست‌شناسان جمعیت را بر اساس صفات ظاهری توصیف می‌کردند. مثل گوناگونی رنگ بدن در یک جمعیت جانوری یا گوناگونی رنگ گلبرگ در یک جمعیت گیاهی. با شناخت ژن‌ها، این امکان فراهم شد که زیست‌شناسان، جمعیت را بر اساس ژن‌های آن توصیف کنند. مجموع همه دگره‌های موجود در همه جایگاه‌های ژنی افراد یک جمعیت را **خزانه ژن** آن جمعیت می‌نامند.

مجموع همه دگره‌های موجود در همه جایگاه‌های ژنی افراد
 یک جمعیت را آن جمعیت می‌نامند. (شهریور ۹۸)

خزانه ژنی جمعیت را تعریف کنید؟ (خرداد ۱۴۰۱)

تعادل در جمعیت

اگر در جمعیتی فراوانی نسبی دگره‌ها یا ژن‌نمودها از نسلی به نسل دیگر ثابت باشد، آن‌گاه می‌گویند **جمعیت در حال تعادل ژنی است**. تا وقتی جمعیت در حال تعادل است، تغییر در آن، مورد انتظار نیست. اگر جمعیت از تعادل خارج شود، روند تغییر را در پیش گرفته است. عوامل زیر باعث می‌شوند جمعیت از **حال تعادل خارج شود**.

اگر در جمعیتی فراوانی نسبی دگره‌ها یا از نسلی به نسل دیگر ثابت باشد، جمعیت در حال تعادل ژنی است. (دی ۱۴۰۱)

از عواملی که باعث می‌شوند جمعیت از حال تعادل خارج شود، دو مورد نام ببرید. (شهریور ۹۹)

الف) جهش: یک باکتری را در نظر بگیرید که هر ۲۰ دقیقه تقسیم می‌شود. اگر جهش رخ دهد، آن‌گاه دگره‌های جدیدی ایجاد می‌شوند که این یعنی تغییر در فراوانی نسبی دگره‌ها. **جهش**، با افزودن دگره‌های جدید، خزانه ژن را غنی‌تر می‌کند و گوناگونی را افزایش می‌دهد. بسیاری از جهش‌ها تأثیری فوری بر رخ نمود ندارند و بنابراین ممکن است تشخیص داده نشوند. اما با تغییر شرایط محیط ممکن است دگره جدید، سازگارتر از دگره یا دگره‌های قبلی عمل کند.

جهش، با افزودن دگره‌های جدید، خزانه ژن را غنی‌تر می‌کند و گوناگونی را افزایش می‌دهد (ص/غ). (شهریور ۹۸)

ب) رانش دگره‌ای: فرض کنید گله‌ای شامل ۱۰۰ گوسفند در حال عبور از ارتفاعات است. حین عبور، تعدادی گوسفند به پایین سقوط می‌کنند و می‌میرند. اگر این گوسفندان زاده‌ای نداشته باشند، شانس انتقال ژن‌های خود به نسل بعد را از دست داده‌اند. به فرایندی که باعث تغییر فراوانی دگره‌ای بر

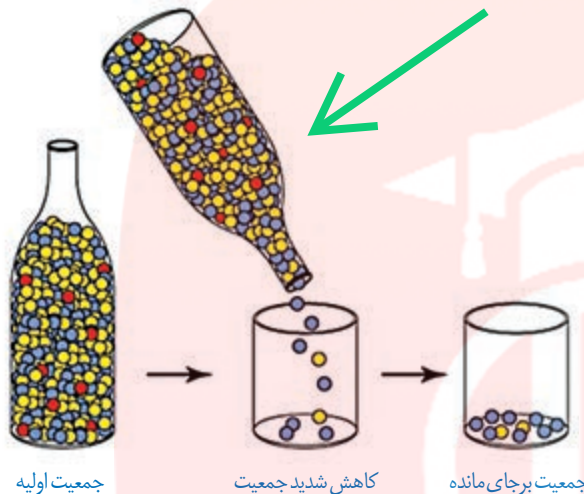
در کدام عامل برهم‌زننده تعادل جمعیت‌ها،
رویدادهای تصادفی نقش دارند؟ (خرداد ۹۹)

فرایندی که باعث تغییر فراوانی دگرهای بر اثر رویدادهای تصادفی می‌شود، چه نام دارد؟ (دی ۱۴۰۰)

اثر رویدادهای تصادفی می‌شود، **رائش دگرهای می‌گویند**. رائش دگرهای گرچه فراوانی دگرها را تغییر می‌دهد اما برخلاف انتخاب طبیعی به سازش نمی‌انجامد.

به مثال دیگری توجه کنید. گاهی در حوادثی نظیر سیل، زلزله، آتش‌سوزی و نظایر آن، تعداد آنهایی

شکل زیر کدام عامل برهم‌زننده تعادل در جمعیت را نشان می‌دهد؟ (شهریور ۱۴۰۰)



جمعیت اولیه

کاهش شدید جمعیت

جمعیت برجای مانده

شکل ۷- کاهش شدید در اندازه جمعیت
باعث تغییر فراوانی‌های دگرهای می‌شود.

مبدأ را به جمعیت مقصد وارد می‌کنند و سبب تغییر در فراوانی نسبی دگرهای هر دو جمعیت می‌شود.

به این پدیده، **شارش ژن** می‌گویند. اگر بین دو جمعیت، شارش ژن به‌طور پیوسته و دوسویه ادامه یابد،

سرانجام خزانه ژن دو جمعیت به هم شبیه می‌شود. در چه صورت با شارش ژن، خزانه ژن دو جمعیت به هم شبیه می‌شود؟ (خرداد ۹۹)

(ت) آمیزش غیرتصادفی: برای آنکه جمعیتی در حال تعادل باشد، لازم است آمیزش‌ها در آن برای آن که جمعیتی در حال تعادل باشد، لازم است آمیزش‌ها

تصادفی باشند. آمیزش تصادفی آمیزشی است که در آن احتمال آمیزش هر فرد با افراد جنس دیگر در آن جمعیت یکسان باشد. اگر آمیزش‌ها به‌رخ‌نمود یا ژن‌نمود بستگی داشته باشد دیگر تصادفی نیست و

فراوانی نسبی ژن‌نمودها را تغییر می‌دهد. برای مثال، جانوران جفت خود را بر اساس ویژگی‌های ظاهری و رفتاری «انتخاب» می‌کنند (فصل ۸).

(ث) انتخاب طبیعی: انتخاب طبیعی فراوانی دگرها را در خزانه ژنی تغییر می‌دهد. انتخاب طبیعی فراوانی دگرها را در آن افراد سازگارتر با محیط

انتخاب می‌شوند را چه می‌نامند؟ (شهریور ۱۴۰۰)

افراد سازگارتر با محیط را برمی‌گزیند و از فراوانی دیگر افراد می‌کاهد. به این ترتیب، خزانه ژن نسل آینده

دستخوش تغییر می‌شود. در مثال ابتدای این گفتار، دیدیم که چگونه در نتیجه انتخاب طبیعی، بعضی از باکتری‌ها نسبت به تغییر شرایط (حضور پادزیست‌ها) سازش پیدا کرده‌اند.

کدام یک از عوامل برهم‌زننده تعادل جمعیت افراد سازگارتر با محیط را برمی‌گزیند
و از فراوانی دگرهای می‌کاهد؟ (دی ۱۴۰۰)

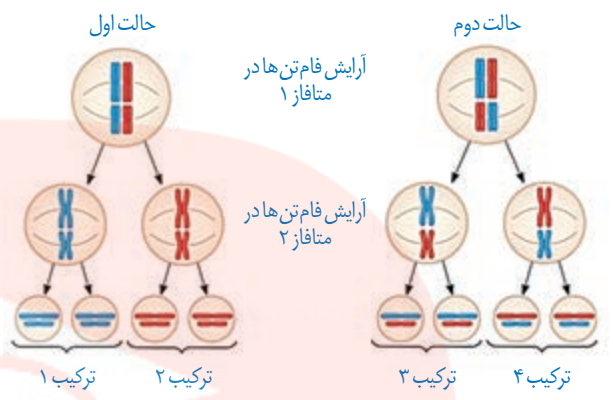
تداوم گوناگونی در جمعیت‌ها

دانستیم که نتیجه انتخاب طبیعی، سازگاری بیشتر جمعیت با محیط است. با انتخاب شدن افراد سازگارتر، تفاوت‌های فردی و در نتیجه گوناگونی کاهش می‌یابد. از سوی دیگر، دیدیم که گوناگونی در میان افراد یک جمعیت، توانایی بقای جمعیت را در شرایط محیطی جدید بالا می‌برد. از این رو به سازوکارهایی نیاز است که با وجود انتخاب طبیعی، گوناگونی تداوم داشته باشد. در ادامه، این سازوکارها را بررسی می‌کنیم.

(الف) گوناگونی دگرهای در گامت‌ها: در تولیدمثل جنسی، هر والد از طریق گامت‌هایی که می‌سازد، نیمی

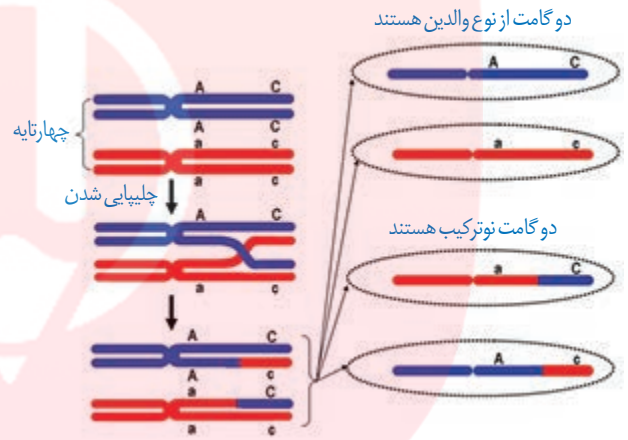
از فام تن‌های خود را به نسل بعد منتقل می‌کند. اینکه هر گامت کدام یک از فام تن‌ها را منتقل می‌کند به آرایش

چهار تابه‌ها (تتراده‌ها) در کاستمان ۱ بستگی دارد. در متافاز کاستمان ۱، فام‌تن‌ها با آرایش‌های مختلفی ممکن است در سطح میانی یاخته قرار گیرند که به ایجاد گامت‌های مختلف می‌انجامد. در شکل ۸ نحوه توزیع فام‌تن‌های کاستمان نشان داده شده است.



شکل ۸- نحوه توزیع فام‌تن‌ها طی کاستمان (میوز)

(ب) نوترکیبی: در کاستمان ۱، هنگام جفت شدن فام‌تن‌های همتا و ایجاد چهار تابه، ممکن است قطعه‌ای از فام‌تن بین فامینک‌های غیرخواهری مبادله شود. این پدیده را **چلیپایی شدن (کراسینگ اور)** می‌گویند. اگر قطعات مبادله شده حاوی دگره‌های متفاوتی باشند، ترکیب جدیدی از دگره‌ها در این دو فامینک به وجود می‌آید و به آنها فامینک‌های **نوترکیب** می‌گویند. از میان گامت‌ها، آنهایی که فامینک‌های نوترکیب را دریافت می‌کنند، **گامت نوترکیب** نامیده می‌شوند (شکل ۹).



شکل ۹- نوترکیبی بر اثر چلیپایی شدن

(پ) اهمیت ناخالص‌ها: اهمیت ناخالص‌ها در تداوم گوناگونی را می‌توان به وسیله بیماری کم‌خونی ناشی از گویچه‌های قرمز داسی‌شکل نیز نشان داد. افراد مبتلا به بیماری گویچه‌های قرمز داسی‌شکل ژن نمود $Hb^S Hb^S$ دارند و در سنین پایین معمولاً می‌میرند. ژن نمود ناخالص‌ها $Hb^A Hb^S$ است و وضع بهتری دارند. **گویچه‌های قرمز آنها فقط هنگامی داسی‌شکل می‌شوند که مقدار اکسیژن محیط کم باشد.**

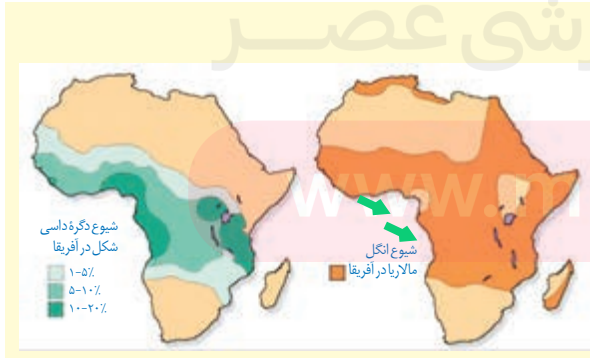
با مطالعه توزیع بیماری کم‌خونی داسی‌شکل در جهان، فراوانی دگره Hb^S در چه مناطقی بسیار بیشتر از سایر مناطق است؟ (شهریور ۹۹)

ژن‌شناسان با مطالعه توزیع این بیماری در جهان دریافته‌اند که فراوانی دگره Hb^S در مناطقی که **مالاریا شایع است، بسیار بیشتر از سایر مناطق است.** بیماری مالاریا به وسیله نوعی انگل تک یاخته‌ای ایجاد می‌شود که بخشی از چرخه زندگی خود را در گویچه‌های قرمز می‌گذراند. افرادی که گویچه سالم دارند، یعنی $Hb^A Hb^A$ هستند، در معرض خطر ابتلا به مالاریا قرار دارند. این انگل نمی‌تواند در افراد $Hb^A Hb^S$ سبب بیماری شود، پس افراد $Hb^A Hb^S$ در برابر مالاریا مقاوم‌اند. بنابراین، وجود دگره Hb^S در این منطقه باعث بقای جمعیت می‌شود؛ حال آنکه این دگره در سایر مناطق، دگره مناسبی نیست. این مثال، مثال خوبی است که نشان می‌دهد شرایط محیطی، تعیین‌کننده صفتی است که حفظ می‌شود.

کدام ژن نمود بیماری کم‌خونی داسی‌شکل، به بیماری مالاریا مقاوم است؟ (خرداد ۹۹)

داسی‌شکل می‌شوند؟ (شهریور ۹۸)

گویچه‌های قرمز افراد با ژن نمود ناخالص $Hb^A Hb^S$ چه زمانی



بیشتر بدانید
نقشه پراکنش جغرافیایی انگل مالاریا و بیماری کم‌خونی ناشی از گویچه‌های قرمز داسی در آفریقا.

گونه‌های بسیاری روی کره زمین زندگی می‌کنند. آیا این گونه‌ها در گذشته‌های دور هم وجود داشته‌اند؟ یا اینکه در طول زمان پدید آمده‌اند؟

شواهد تغییر گونه‌ها

شواهدی وجود دارند که نشان می‌دهند گونه‌ها در طول زمان تغییر کرده‌اند. در ادامه به این شواهد می‌پردازیم.

الف) سنگواره‌ها: در سال‌های قبل، با انواع سنگواره‌ها و نحوه تشکیل آنها آشنا شده‌اید. به یاد دارید که سنگواره عبارت بود از بقایای یک جاندار یا آثاری از جاننداری که در گذشته دور زندگی می‌کرده است. سنگواره معمولاً حاوی قسمت‌های سخت بدن جانداران مثل استخوان‌ها یا اسکلت خارجی) است. گاهی ممکن است کل یک جاندار سنگواره شده باشد مثل ماموت‌های منجمد شده‌ای که همه قسمت‌های بدن آنها، حتی پوست و مو، حفظ شده‌اند یا حشراتی که در رزین‌های گیاهان به دام افتاده‌اند.

جاخالی تألیفی

سنگواره‌ها اطلاعات فراوانی به ما می‌دهند. **دیرینه‌شناسان** که به مطالعه سنگواره‌ها می‌پردازند، دریافته‌اند که در گذشته جاندارانی زندگی می‌کرده‌اند که امروز دیگر نیستند، مثل دایناسورها. در مقابل، جاندارانی هم هستند که امروز زندگی می‌کنند، اما در گذشته زندگی نمی‌کرده‌اند مثل گل لاله یا گربه. در این میان، گونه‌هایی هم هستند که از گذشته‌های دور تا زمان حال زندگی کرده‌اند مثل **درخت گیسو**. شواهد سنگواره‌ای نشان می‌دهند که این درخت در ۱۷۰ میلیون سال پیش هم وجود داشته است (شکل ۱۰).

جاخالی تألیفی

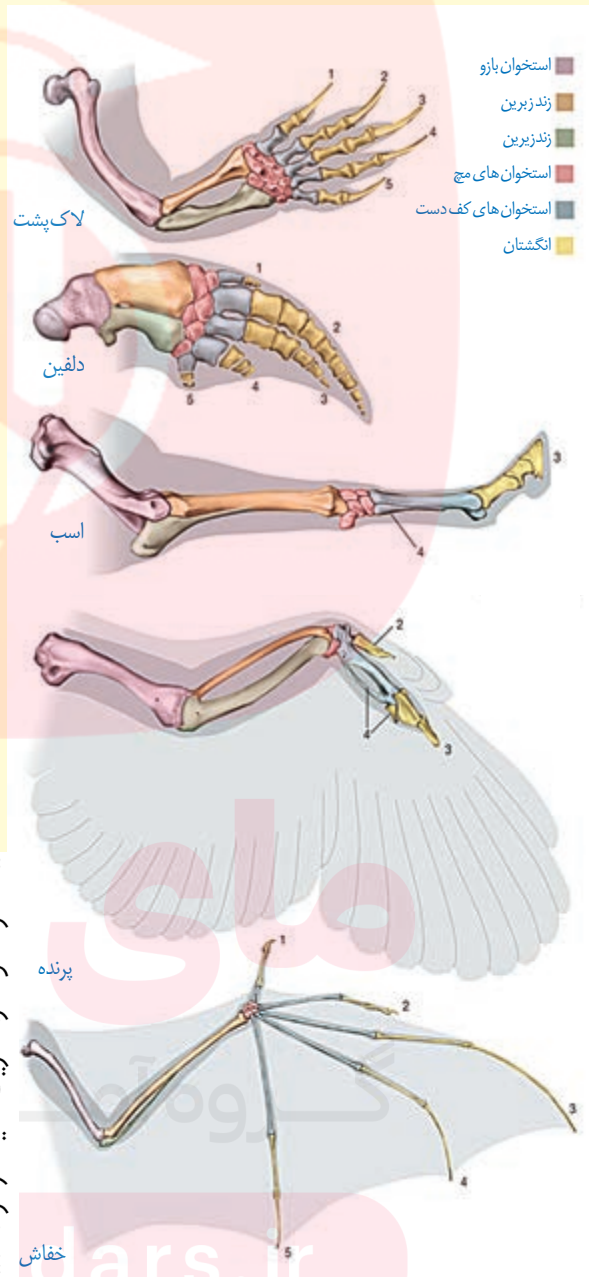


شکل ۱۰- برگ درخت گیسو و سنگواره آن

دیرینه‌شناسان قادرند عمر یک سنگواره را تعیین کنند. آنان اکنون می‌دانند که در هر زمان، چه جاندارانی وجود داشته‌اند. در مجموع، سنگواره‌ها نشان می‌دهند که در زمان‌های مختلف، زندگی به شکل‌های مختلفی جریان داشته است.

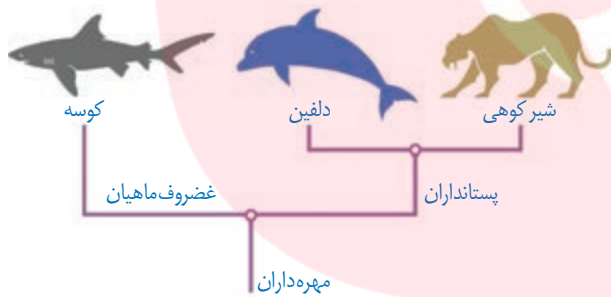
ساختارهای همتا

طرح ساختاری یکسان در اندام حرکتی جلویی بعضی از مهره‌داران



ب) تشریح مقایسه‌ای: در تشریح مقایسه‌ای اجزای پیکر جانداران گونه‌های مختلف با یکدیگر مقایسه می‌شود. این مقایسه نشان می‌دهد که ساختار بدنی بعضی گونه‌ها از طرح مشابهی برخوردار است. مقایسه‌ی اندام حرکتی جلویی در مهره‌داران مختلف، از طرح ساختاری یکسان حکایت دارد. اندام‌هایی را که طرح ساختاری آنها یکسان است، حتی اگر کار متفاوتی انجام دهند، «اندام‌ها یا ساختارهای همتا» می‌نامند. دست انسان، بال پرنده، باله دلفین و دست گربه مثال‌هایی از اندام‌های همتا هستند.

علت وجود ساختارهای همتا در گونه‌های متفاوت چیست؟ زیست‌شناسان بر این باورند که این گونه‌ها، نیای مشترکی دارند یعنی اینکه در گذشته از گونه‌ی مشترکی مشتق شده‌اند (شکل ۱۱)، به همین علت این شباهت‌ها میان آنها دیده می‌شود. گونه‌هایی را که نیای مشترکی دارند **گونه‌های خویشاوند** می‌گویند.



شکل ۱۱- نیای مشترک و گونه‌های خویشاوند. از خویشاوندی موجودات زنده در رده‌بندی هم استفاده می‌شود. دلفین با شیر کوهی خویشاوندی نزدیک‌تری دارد تا با کوسه. بنابراین دلفین و شیر کوهی در یک گروه قرار می‌گیرند.

زیست‌شناسان از ساختارهای همتا برای رده‌بندی جانداران استفاده می‌کنند و جانداران خویشاوند را در یک گروه قرار می‌دهند. **ساختارهایی را که کار یکسان اما طرح ساختاری متفاوت دارند، ساختارهای آنالوگ می‌نامند.** بال کبوتر و بال پروانه آنالوگ‌اند چون هر دو برای پرواز کردن‌اند (کار یکسان) گرچه ساختارهای متفاوتی دارند. این ساختارها نشان می‌دهند که برای پاسخ به یک نیاز، جانداران به روش‌های مختلفی سازش پیدا کرده‌اند.

تشریح مقایسه‌ای علاوه بر آشکار کردن خویشاوندی گونه‌ها، اطلاعات دیگری را نیز فراهم می‌کند. وقتی گونه‌های مختلف را

ساختار آنالوگ را تعریف کنید؟ (خرداد ۹۸)

اندام یا ساختارهای همتا را تعریف کنید؟ (شهریور ۹۸)

به ساختارهایی که نشان می‌دهند، برای پاسخ به یک نیاز جانداران به روش‌های مختلفی سازش پیدا کرده‌اند. چه می‌گویند؟ (شهریور ۹۹)



شکل ۱۲- بقایای پا در مار پیتون

مقایسه می‌کنیم، گاهی به ساختارهایی برمی‌خوریم که در یک عده بسیار کارآمد هستند اما در عده دیگر، کوچک یا ساده شده و حتی ممکن است فاقد کار خاصی باشند. این ساختارهای کوچک، ساده یا ضعیف شده را ساختارهای وستیجیال (به معنی ردپا) می‌نامیم. مار پیتون با اینکه پا ندارد اما بقایای پا در لگن آن به صورت وستیجیال موجود است و این حاکی از وجود رابطه‌ای میان آن و دیگر مهره‌داران است (شکل ۱۲).

در واقع ساختارهای وستیجیال ردپای «تغییر گونه‌ها» هستند. شواهد متعددی در دست است که نشان می‌دهد مارها از تغییر یافتن سوسمارها پدید آمده‌اند.

الف) «الف»	«ب»
ردپای تغییر گونه‌ها	۱- ساختارهای وستیجیال
کار یکسان و طرح ساختاری متفاوت	۲- ساختارهای اتاژیک
طرح ساختاری یکسان و کار متفاوت	۳- ساختارهای همنا

(دی ۹۹)

پ) مطالعات مولکولی: مقایسه گونه‌ها را می‌توان در تراز ژنگان هم انجام داد. از این مقایسه، اطلاعات ارزشمندی به دست می‌آید. مثلاً اینکه کدام ژن‌ها در بین گونه‌ها مشترک‌اند و کدام ژن‌ها ویژگی‌های خاص یک گونه را باعث می‌شوند. همچنین، زیست‌شناسان از مقایسه بین دنا‌ی جانداران مختلف برای تشخیص خویشاوندی آنها استفاده می‌کنند. هرچه بین دنا‌ی دو جاندار شباهت بیشتری وجود داشته باشد، خویشاوندی نزدیک‌تری دارند. همچنین می‌توان به تازیبخچه تغییر آنها پی برد. توالی‌هایی از دنا را که در بین گونه‌های مختلف دیده می‌شوند توالی‌های حفظ شده می‌نامند.

تألیفی: هرچه بین دنا‌ی دو جاندار شباهت بیشتری وجود داشته باشد، خویشاوندی نزدیک‌تری دارند (ص/غ).

بیشتر بدانید

توالی‌های حفظ شده در ژن یکی از پروتئین‌های باکتریایی. در بخش‌های قرمز، توالی‌ها کاملاً حفظ شده‌اند اما در بخش‌های زرد، کمتر حفظ شده‌اند. زیست‌شناسان در برخورد با ساختار یا توالی‌های حفظ شده از خود می‌پرسند این ساختار یا توالی چه اهمیت ویژه‌ای داشته است که همچنان حفظ شده و تغییر نکرده است؟ مثلاً چرا همه غشاهای یاخته‌ای از دو لایه فسفولیپید تشکیل شده‌اند؟ به این ترتیب، زیست‌شناسان امروزی فقط به توصیف دنیای زنده بسنده نمی‌کنند بلکه با نگرشی چراجویانه به تجزیه و تحلیل آن نیز می‌پردازند.

<i>M. smegmatis</i> MC155	GGCCGCGCA	CGGT	AAGAAAC	ATCA	AGGCC	BCGTT	CGCGG
<i>M. goodii</i> strain X7B	CGACGCGGCA	CGGT	AAGAAAC	GTCA	AGT	GCCGCGT	CACGG
<i>M. vanbaalenii</i>	GTTGGCGGGA	CGGT	CAAGAAAC	GTCA	ACGCG	CAGGT	CACTC
<i>M. sp. JLS</i>	CGCCACCGCC	CGGT	CAAGAAA	GTCA	AGACCT	CGGCAACG	
<i>M. sp. KMS</i>	CGCCACCGCC	CGGT	CAAGAAA	GTCA	AGACCT	CGGCAACG	
<i>M. manium</i>	GCGGCGGT	GGCC	GT	AAGAAAC	GTCA	ACAT	GTCTCGT
<i>M. avium</i> 104	GCCGCAAGG	GGCC	GT	AACAAC	GTAA	AGGT	GCACTACGGCC
<i>M. fortuitum</i>	CGCCCGCGG	CGGT	AGGAAGA	ATA	AGAT	CGGCGT	GGGCC
<i>M. chubuense</i>	GCGCCGGT	AGCC	GT	CAAGGAGA	GTAA	AGGCC	CTAGCTCAG
<i>M. intracellulare</i> ATCC 13950	CACGGTAGCC	CGGT	AGGAAAC	GTCA	ACCA	GCACCCT	CAC
<i>M. sp. MOTT36Y</i>	CACGGTAGCC	CGGT	AGGAAAC	GTCA	ACCA	CACACCCT	CAC
<i>M. kansasii</i> 824	GCGGATGAC	CGGT	AAGAAAC	GT	TAAGGCC	GCT	CCCGGCC
<i>M. neoaurum</i>	CCGCTCGCA	CGGT	CAAGGAAC	GTCA	ATGCC	CAGCT	CAGCG
<i>M. yongonense</i>	CACGGTAGCC	CGGT	AGGAAAC	GTCA	ACCA	GCACC	CGGCAC
<i>M. sp. EPa45</i>	CGGCGCGGCA	CGGT	CAAGAAAC	GTCA	ACAA	C	CGGCTTGCTG
<i>M. sp. JS623</i>	CAACCGAT	GCGG	GT	AAGAAA	GTCA	ACGAA	CAGTCCGGG
<i>M. haemophilum</i>	ACGGCTCAGT	CGGT	AAAAATAC	GTCA	AAAT	GCGGCT	ACGTT
<i>M. vaccae</i>	CGCCGCAAGG	GGT	GT	CAAGAAAC	GTCA	AGAA	CGCCGTAGCC
<i>M. rhodesiae</i>	GACCA	CGCG	CGGT	CAAGAAAC	GTCA	AGGCC	GBCACTAGTG
<i>M. sp. VKMAc-1817D</i>	CGCCCGCGG	CGGT	AGGAAGA	ATA	AGAT	G	GGCGT

گونه‌زایی

تعاریف مختلفی برای گونه وجود دارد که هر کدام در محدوده مشخصی کارآمدند. یکی از تعاریف رایج برای گونه، تعریفی است که ارنست مایر ارائه کرده است و برای جاندارانی کاربرد دارد که تولیدمثل جنسی دارند: «گونه در زیست‌شناسی به جاندارانی گفته می‌شود که می‌توانند در طبیعت با هم آمیزش کنند و زاده‌های زیستا و زایا به وجود آورند ولی نمی‌توانند با جانداران دیگر آمیزش موفقیت‌آمیز داشته باشند».

آمیزش موفقیت‌آمیز، آمیزشی است که به تولید

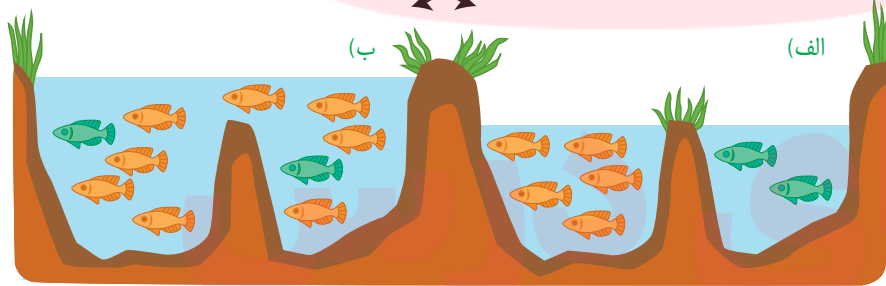
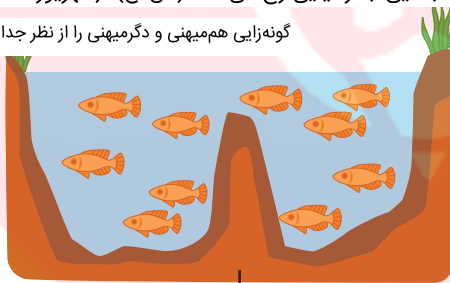
زاده‌هایی و زایا منجر می‌شود. (خرداد ۱۴۰۱)

زیستا در تعریف بالا، به جاندارانی گفته می‌شود که زنده می‌ماند و زندگی طبیعی خود را ادامه می‌دهد. همچنین، منظور از آمیزش موفقیت‌آمیز، آمیزشی است که به تولید زاده‌های زیستا و زایا منجر شود. اگر میان افراد یک گونه جدایی تولیدمثلی رخ دهد، آن‌گاه خزانه ژنی آنها از یکدیگر جدا و احتمال تشکیل گونه جدید فراهم می‌شود. منظور از جدایی تولیدمثلی، عواملی است که مانع آمیزش بعضی از افراد یک گونه با بعضی دیگر از افراد همان گونه می‌شوند.

انواع گونه‌زایی را نام ببرید. (شهریور ۹۹) → به‌طور کلی سازوکارهایی را که باعث ایجاد گونه‌ای جدید می‌شوند، به دو گروه تقسیم می‌کنند:

گونه‌زایی **دگرمیهنی** که در آن جدایی جغرافیایی رخ می‌دهد و گونه‌زایی **هم‌میهنی** که در آن جدایی جغرافیایی رخ نمی‌دهد. در شکل ۱۲ این دو نوع گونه‌زایی با هم مقایسه شده‌اند. در گونه‌زایی دگرمیهنی، جدایی جغرافیایی رخ می‌دهد (ص/ع). (شهریور ۱۴۰۰)

گونه‌زایی هم‌میهنی و دگرمیهنی را از نظر جدایی جغرافیایی با یکدیگر مقایسه کنید. (خرداد ۱۴۰۰)



شکل ۱۳- الف) گونه‌زایی دگرمیهنی و ب) هم‌میهنی

گونه‌زایی دگرمیهنی: گاهی بر اثر وقوع رخدادهای زمین‌شناختی و سدهای جغرافیایی، یک جمعیت، به دو قسمت جداگانه تقسیم می‌شود. مثلاً در نتیجه پدیده کوه‌زایی، ممکن است در یک منطقه مثلاً کوه، دره و یا دریاچه ایجاد شود و یک جمعیت را به دو قسمت تقسیم کند.

این سدهای جغرافیایی، ارتباط دو قسمت را - که قبلاً به یک جمعیت تعلق داشتند - قطع می‌کنند و بین آنها دیگر شارش ژن صورت نمی‌گیرد. بر اثر وقوع پدیده‌هایی همچون جهش، نوترکیبی و انتخاب طبیعی، به تدریج دو جمعیت یاد شده با یکدیگر متفاوت می‌شوند. از آنجا که شارش ژن میان آنها وجود ندارد، این تفاوت بیشتر و بیشتر می‌شود تا جایی که حتی اگر این دو جمعیت کنار هم باشند، آمیزشی بین آنها رخ نخواهد داد (مثلاً زمان تولیدمثل آنها فرق کند)؛ بنابراین می‌توان آنها را دو گونه مجزا به‌شمار آورد.

در گونه‌زایی دگرمیهنی، وقوع چه پدیده‌هایی باعث ایجاد و افزایش تفاوت بین دو جمعیت می‌شوند؟ (دی ۱۴۰۱)

در گونه‌زایی دگرمیهنی، وقوع چه پدیده‌هایی باعث ایجاد و افزایش تفاوت بین دو جمعیت می‌شوند؟ (دی ۱۴۰۱)

اگر جمعیتی که از جمعیت اصلی جدا شده است کوچک باشد، آن وقت اثر رانش ژن را نیز باید در نظر گرفت که خود بر میزان تفاوت بین دو جمعیت می‌افزاید.

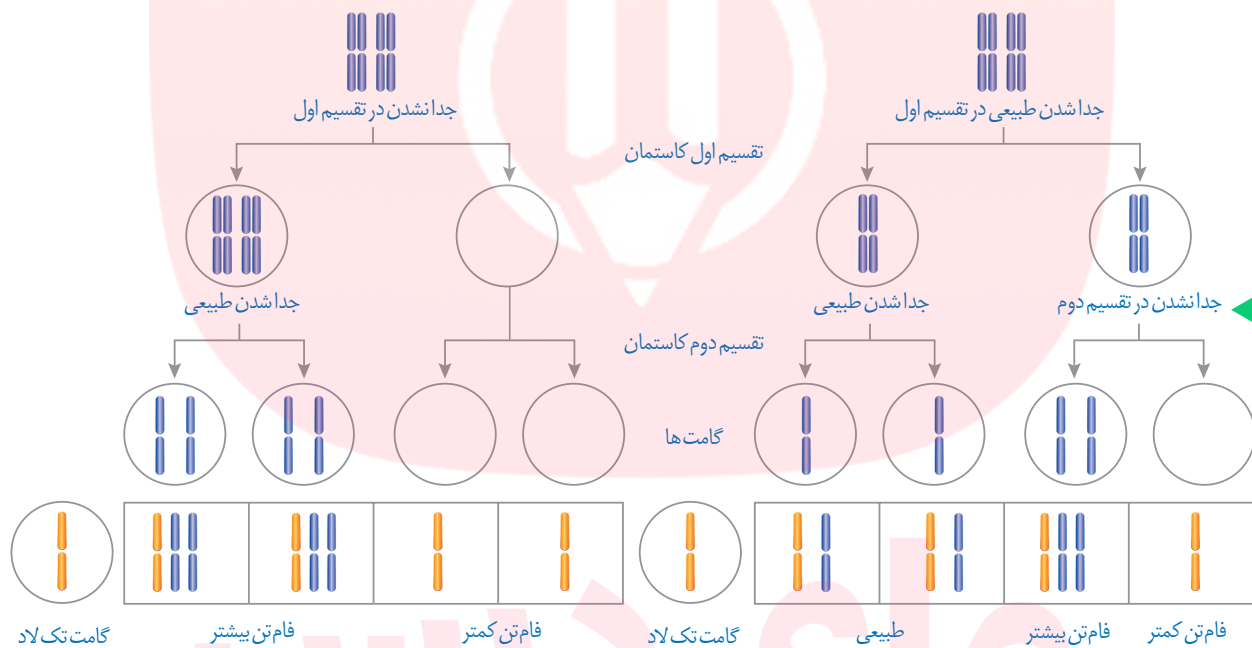
گونه‌زایی هم‌میهنی: گاهی بین جمعیت‌هایی که در یک زیستگاه زندگی می‌کنند، جدایی تولیدمثلی اتفاق می‌افتد و در نتیجه، گونه جدیدی حاصل می‌شود. این نوع گونه‌زایی را **گونه‌زایی هم‌میهنی** می‌نامند. در گونه‌زایی هم‌میهنی، برخلاف گونه‌زایی دگرمیهنی، جدایی جغرافیایی رخ نمی‌دهد.

پیدایش گیاهان چندلادی [پلی‌پلوئیدی]، مثال خوبی

از گونه‌زایی (هم‌میهنی) است. (خرداد ۱۴۰۰)

زاده‌های زیستا و زایا پدید آورند و بنابراین گونه‌ای جدید به شمار می‌روند. گیاهان چندلادی بر اثر خطای ایجاد می‌شوند. (شهریور ۱۴۰۰)

گیاهان چندلادی بر اثر خطای کاستمانی ایجاد می‌شوند. می‌دانیم که جدانشدن فام‌تن‌ها در کاستمان به تشکیل گامت‌هایی با عدد فام‌تنی غیرطبیعی منجر می‌شود و اگر این گامت‌ها با گامت طبیعی لقاح کنند تخم طبیعی تشکیل نخواهد شد (شکل ۱۴).



جدانشدن فام‌تن‌ها در تقسیم کاستمان دوم، می‌تواند به تشکیل گامت‌هایی با عدد فام‌تنی طبیعی منجر شود. (دی ۱۴۰۱)

شکل ۱۴- نتیجه آمیزش گامت‌های حاصل از خطای کاستمانی با گامت سالم

در اوایل دهه ۱۹۰۰ دانشمندی به نام هوگو دووری که با گیاهان گل مغربی ($2n = 14$) کار می‌کرد، متوجه شد که یکی از گل‌های مغربی ظاهری متفاوت با بقیه دارد. وی با بررسی فام‌تن‌های آن دریافت که این گیاه به جای ۱۴ فام‌تن، ۲۸ فام‌تن دارد و بنابراین چارلاد (تتراپلوئید) ($4n$) است. گامت‌هایی که گیاه چارلاد ایجاد می‌کند، دولا ($2n$) اند نه تک لاد (n).

گیاه گل مغربی سه‌لاد (تریپلوئید) ($3n$) یک گیاه زیستا و زایا است. (خرداد ۹۹)

اگر گامت‌های این گیاه با گامت‌های گیاهان طبیعی، که تک‌لادند، آمیزش کنند تخم‌هایی حاصل سه‌لاد (تریپلوئید) ($3n$) خواهند شد. گیاه سه‌لاد حاصل از نمو این تخم، ناز است.

چرا از خودلقاحی گل مغربی چارلاد (تتراپلوئید) ($4n$)،

گیاهی زایا ایجاد می‌شود؟ (شهریور ۹۹)

اما اگر گیاه چارلاد بتواند خودلقاحی انجام دهد، یا در نزدیکی آن گیاه چارلاد مشابه دیگری وجود

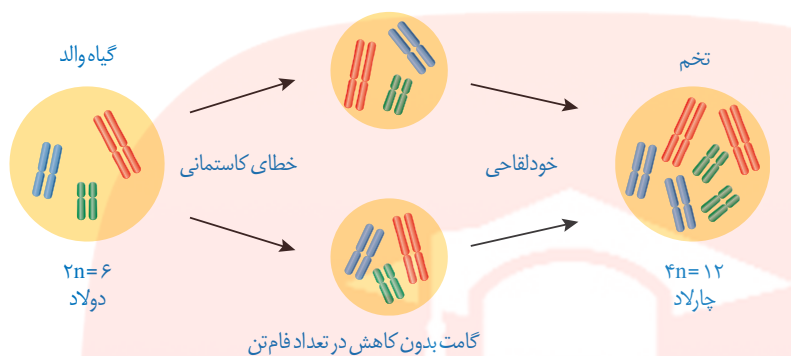
چرا گیاه گل مغربی $4n$ ، یک گونه جدید

داشته باشد، یاخته تخم $4n$ خواهد بود و گیاهی که از آن ایجاد می‌شود، قادر به کاستمان بوده، بنابراین

محسوب می‌شود؟ (شهریور ۱۴۰۰)

زیاست. این گیاه، با جمعیت نیایی خود (که $2n$ بودند) نمی‌تواند آمیزش کند و بنابراین به گونه جدیدی

تعلق دارد که افراد آن $4n$ هستند. شکل ۱۵ این سازوکار را برای گیاهی با $6n$ فام تن نشان می دهد.



شکل ۱۵- چگونگی تشکیل گیاه چارلاد از گیاه دولاد

بیشتر بدانید

مالاریا و گویچه های داسی شکل

با اینکه مقاومت افراد ناخالص ($Hb^A Hb^S$) نسبت به مالاریا در دهه ۱۹۵۰ مشخص شد، اما چگونگی آن همچنان در حال بررسی است. دانشمندان در دهه ۱۹۷۰ دریافتند که سرعت داسی شکل شدن گویچه های قرمز، پس از ورود انگل مالاریا به آنها بین ۲ تا ۸ برابر افزایش می یابد. بر این اساس با مرتبط دانستن مقاومت افراد ناخالص با شکل داسی گویچه های قرمز، این فرضیه مطرح شد که «داسی شدن» به افزایش بیگانه خواری و در نتیجه از بین رفتن انگل می انجامد.

در سال های بعد نیز فرضیه های دیگری با تأکید بر شکل «داسی» این یاخته ها ارائه شد. مانند این فرضیه که می گوید با داسی شدن گویچه ها، منافذی در غشا ایجاد می شود که نتیجه آن خروج مواد مغذی از یاخته و روبه رو شدن انگل با کمبود غذا است. بدین ترتیب رشد انگل کند یا متوقف می شود.

در شرایطی که تصور می شد توضیحات قابل قبولی برای علت مقاومت به مالاریا وجود دارد، بررسی های بیشتر نشان داد که کندی رشد انگل مالاریا، در همه گویچه های قرمز در افراد ناخالص رخ می دهد و منحصر به گویچه های داسی شکل نیست.

در دهه ۲۰۱۰، فرضیه ای مبنی بر رناهای کوچک مکمل (فصل ۲) ارائه شد که بر مبنای آن، گویچه قرمز در افراد ناخالص رناهای کوچکی می سازد که به رنای انگل متصل و مانع از ترجمه آن می شوند و در نتیجه در فرایند رشد انگل اختلال به وجود می آید.

در همین دهه با نگاهی متفاوت، فرضیه ای بر اساس سازوکار بیماری زایی مالاریا در افراد $Hb^A Hb^A$ ارائه شد. در این افراد، که گویچه های قرمز طبیعی دارند، مالاریا باعث چسبیدن گویچه ها به همدیگر و یا به دیواره رگ ها می شود که از نتایج آن آسیب بافتی و التهاب گسترده در رگ ها است. اما علت چسبندگی آنها چیست؟ انگل مالاریا در گویچه قرمز، پروتئینی می سازد که در غشای گویچه قرار می گیرد و باعث چسبندگی آنها می شود. در افراد ناخالص از واکنش اکسیژن با هموگلوبین جهش یافته، ماده ای تولید می شود که تلاش انگل را در فرستادن این پروتئین به سطح یاخته، بی ثمر می سازد. در نتیجه گویچه های قرمز، چسبندگی نمی شوند و بیمار جان سالم به در می برد.

ارائه فرضیه های جدید همچنان ادامه دارد. شواهد جدید ممکن است فرضیه های قبل را تضعیف یا تقویت کند. باید منتظر بود تا قطعات بیشتری از این جورچین کشف شود. این ماهیت علم و نشانی از پویا بودن آن است. با بیشتر شدن دانش، پرسش های ما نیز بیشتر می شوند. پرسش های بیشتر، زمینه های اکتشاف بیشتری فراهم می کند. شاید کشف بعدی را «شما» انجام دهید.



فصل ۵

از ماده به انرژی



اکنون که در حال مطالعه این درس هستید، یاخته‌های بدنتان انرژی مصرف می‌کنند. این انرژی از کجا و چگونه تأمین می‌شود؟ چرا ورزش و فعالیت‌های بدنی شدید، سبب می‌شوند تا احساس گرما کنیم و مقداری آب به شکل عرق از دست بدهیم؟ تألیفی: انرژی موردنیاز انسان و جاننداری مثل زرافه به طور مشابهی تأمین می‌شود (ص/غ). با همه تفاوت‌هایی که بین ما و زرافه‌ای که در تصویر می‌بینید، وجود دارد؛ انرژی مورد نیاز ما به شیوهٔ یکسانی از غذایی که می‌خوریم تأمین می‌شود. در این فصل به فرایندهای آزاد شدن انرژی از مادهٔ مغذی در یاخته‌ها می‌پردازیم.



طرح سؤالات عددی و محاسباتی از مباحث این فصل در همه آزمون‌ها از جمله کنکور سراسری ممنوع است.

www.my-dars.ir

به منظور آمادگی کامل برای امتحان نهایی زیست شناسی دوازدهم و تکمیل این جزوه، کلاس آمادگی امتحان نهایی دکتر خیراندیش و دکتر فرهنگ‌نیا در گروه آموزشی ماز را مورخ شنبه و یکشنبه ۱۳ و ۱۴ خردادماه از ساعت ۱۲:۰۰ لغایت ۱۵:۰۰ مشاهده نمایید.

گفتار ۱ تأمین انرژی

تنفس یاخته‌ای

واژه‌شناسی

راکیزه (میتوکندری / mitochondrion) راکیزه، اندامکی کروی یا میله‌ای شکل در یاخته‌های یوکاریوتی و عهده‌دار تنفس هوازی و تولید انرژی است. «راکیزه» از دو جزء «راک» به معنی رشته و «یزه» (در برابر «میتو» یونانی به همین معنی) و پسوند تصغیر و شباهت «-ایزه» ساخته شده است.

به یاد دارید چرا به اکسیژن نیاز داریم؟ در کتاب زیست‌شناسی ۱، آموختید که نیاز ما به اکسیژن به علت انجام فرایندی به نام تنفس یاخته‌ای است؛ زیرا در این فرایند ATP تولید می‌شود؛ مثلاً انرژی ذخیره شده در گلوکز در تنفس یاخته‌ای، برای تشکیل مولکول ATP به کار می‌رود (واکنش ۱).

تألیفی: واکنش کلی تنفس یاخته‌ای را بنویسید؟



این واکنش **تنفس یاخته‌ای هوازی** را نشان می‌دهد؛ زیرا تجزیه ماده مغذی و تولید ATP با حضور اکسیژن انجام می‌شود. تجزیه ماده مغذی و تولید ATP بدون نیاز به اکسیژن نیز انجام می‌شود که در گفتار ۳ به آن می‌پردازیم.

(الف) نام کامل ATP که شکل رایج و قابل استفاده انرژی در یاخته‌ها است، را بنویسید. (شهریور ۹۹) (ب) در مولکول ATP، باز آلی آدنین و قند پنج‌کربنه ریبوز را با هم می‌نامند. (خرداد ۱۴۰۱)

ATP مولکول پرانرژی

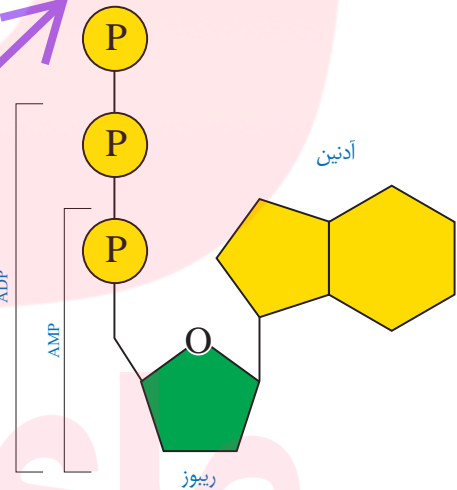
هیچ جاننداری نمی‌تواند بدون انرژی زنده بماند، رشد و فعالیت کند. حفظ هریک از ویژگی‌های جانداران مانند رشد و نمو و تولید مثل به در اختیار داشتن ATP وابسته است.

ATP یا **آدنوزین تری فسفات**، شکل رایج و قابل استفاده انرژی

در یاخته‌ها است. این نوکلئوتید از باز آلی آدنین، قند پنج‌کربنی ریبوز (که با هم آدنوزین نامیده می‌شوند) و سه گروه فسفات تشکیل شده است. افزوده شدن فسفات به آدنوزین در سه مرحله روی می‌دهد. در نتیجه در ابتدا **AMP (آدنوزین مونو فسفات)**، سپس **ADP (آدنوزین دی فسفات)** در نهایت **ATP (آدنوزین تری فسفات)** تشکیل می‌شود

(الف) با افزوده شدن یک فسفات به آدنوزین چه مولکولی تشکیل می‌شود؟ (خرداد ۱۴۰۰)

در شکل ۲ تبدیل ATP و ADP را به یکدیگر می‌بینید. تشکیل ATP از ADP، با مصرف انرژی و تبدیل آن به همراه با آزاد شدن انرژی است.

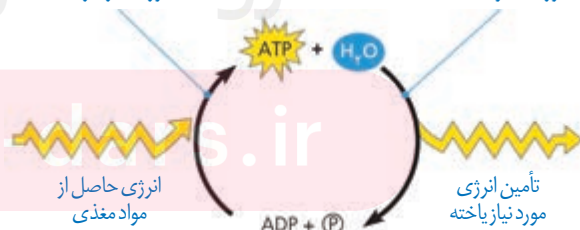


شکل ۱- ساخته شدن ATP

ساخته شدن ATP از ADP و فسفات به انرژی نیاز دارد.

تبدیل ATP به ADP با آزاد شدن انرژی همراه است.

روش‌های ساخته شدن ATP: دیدیم که برای ساخته شدن ATP به فسفات نیاز هست. یکی از روش‌های ساخته شدن ATP برداشته شدن گروه فسفات از یک ترکیب فسفات‌دار (پیش‌ماده) و



شکل ۲- تبدیل ADP و ATP به یکدیگر

هـ) روش ساخته شدن ATP به کمک کراتین فسفات، ساخته شدن است. (شهریور ۱۴۰۰)

افزودن آن به ADP است. به همین علت، این روش را **ساخته شدن ATP در سطح پیش ماده** می نامند. ج) یکی از راه های تامین ATP در ماهیچه ها، برداشت فسفات از مولکول و انتقال آن به ADP است. (دی ۹۸)

در کتاب «زیست شناسی ۲» با نمونه ای از ساخته شدن ATP در سطح پیش ماده آشنا شده اید، یا آن را به یاد دارید؟ در آنجا دانستید که ماهیچه ها برای انقباض به ATP نیاز دارند و یکی از راه های تامین آن در ماهیچه ها، برداشت فسفات از مولکول کراتین فسفات و انتقال آن به ADP است (شکل ۳). در این مثال **کراتین فسفات**، پیش ماده ای است که فسفات آن برای ساخته شدن ATP به کار می رود.

الف) در روش ساخته شدن ATP در سطح پیش ماده در ماهیچه ها، مولکول پیش ماده چیست؟ (خرداد ۹۹)



ج) در ساخته شدن ATP، از یون فسفات و انرژی حاصل از انتقال الکترون ها در راکتیزه استفاده می شود. (دی ۹۹)

ب) ساخته شدن **اکسایشی** ATP در کدام قسمت یاخته انجام می شود؟ (خرداد ۹۹)

ساخته شدن اکسایشی و ساخته شدن نوری ATP، دو روش دیگرند. در **ساخته شدن اکسایشی**، ATP از یون فسفات و انرژی حاصل از انتقال الکترون ها در راکتیزه ساخته می شود که در ادامه این فصل با آن آشنا می شوید. روش دیگر ساخته شدن ATP، **ساخته شدن نوری** است که در سبز دیسه انجام می شود (فصل ۶). الف) ساخته شدن نوری ATP در کدام قسمت سلول انجام می شود؟ (خرداد ۹۸)

هـ) یکی از روش های ساخته شدن ATP، است که در سبز دیسه انجام می شود. (خرداد ۱۴۰۰)

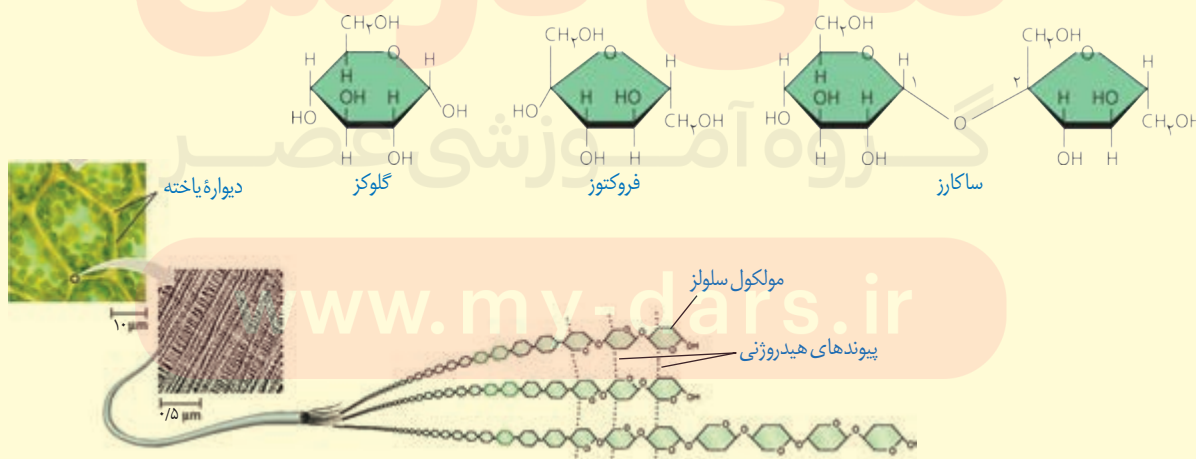
بیشتر بدانید
ارتباط با شیمی
تعریف جامع و امروزی اکسایش و کاهش بر اساس داد و ستد الکترون است. از دست دادن الکترون به معنی اکسایش و گرفتن الکترون به معنی کاهش است.

شکل ۳- ساخته شدن ATP در سطح پیش ماده

بیشتر بدانید

کربوهیدرات ها

کربوهیدرات ها دارای کربن، هیدروژن و اکسیژن اند. نقش انرژی زایی کربوهیدرات ها به خوبی شناخته شده است. این ترکیبات به علت داشتن پیوندهای هیدروژن- کربن، انرژی فراوانی در خود ذخیره و هنگام اکسایش آزاد می کنند. در یک نوع تقسیم بندی، کربوهیدرات ها را در سه گروه مونوساکاریدها (مانند گلوکز و فروکتوز)، دی ساکاریدها (مانند ساکارز) و پلی ساکاریدها (مانند سلولز، نشاسته و گلیکوژن) قرار می دهند. قند و شکر از ساکارز تشکیل شده اند. این دی ساکارید از مونوساکاریدهای گلوکز و فروکتوز تشکیل شده است.



الف) در یاخته یوکاریوتی محل انجام قندکافت (گلیکولیز) کجا است؟ (دی ۱۴۰۰)

الف) قندکافت در کدام قسمت یاخته انجام می‌شود؟ (شهریور ۹۸)

ه) اولین مرحله تنفس یاخته‌ای، و به معنی تجزیه گلوکز است. (شهریور ۹۹)

ه) اولین مرحله تنفس یاخته‌ای، قندکافت و به معنی تجزیه گلوکز است. (ص) (خرداد ۱۴۰۰)

زیستن با اکسیژن

اغلب، واژه تنفس یاخته‌ای را برای تنفس یاخته‌ای هوازی به کار می‌برند. در اینجا ما نیز تنفس یاخته‌ای را به جای تنفس یاخته‌ای هوازی به کار می‌بریم.

قندکافت (گلیکولیز): اولین مرحله تنفس یاخته‌ای، قندکافت

و به معنی تجزیه گلوکز است که در ماده زمینه سیتوپلاسم انجام می‌شود. تجزیه گلوکز در قندکافت، نه به صورت یک باره، بلکه به صورت مرحله‌ای انجام می‌شود (شکل ۴).

برای انجام واکنش‌های مربوط به تجزیه گلوکز انرژی فعال سازی

در قندکافت [گلیکولیز]، از گلوکز و ATP، چه قندی ایجاد می‌شود؟ (خرداد ۱۴۰۱)

در شکل ۴ می‌بینید که از گلوکز و ATP، قند فروکتوز با دو فسفات

ایجاد می‌شود. از تجزیه این قند، دو قند سه کربنی فسفات به وجود

می‌آید. هر یک از این قندها با گرفتن یک گروه فسفات به اسیدی

سه کربنی تبدیل می‌شود. هر یک از این مولکول‌های سه کربنی

در نهایت به پیرووات (بنیان پیروویک اسید) تبدیل می‌شود. در این

واکنش‌ها مولکول‌های ATP و NADH به وجود می‌آیند.

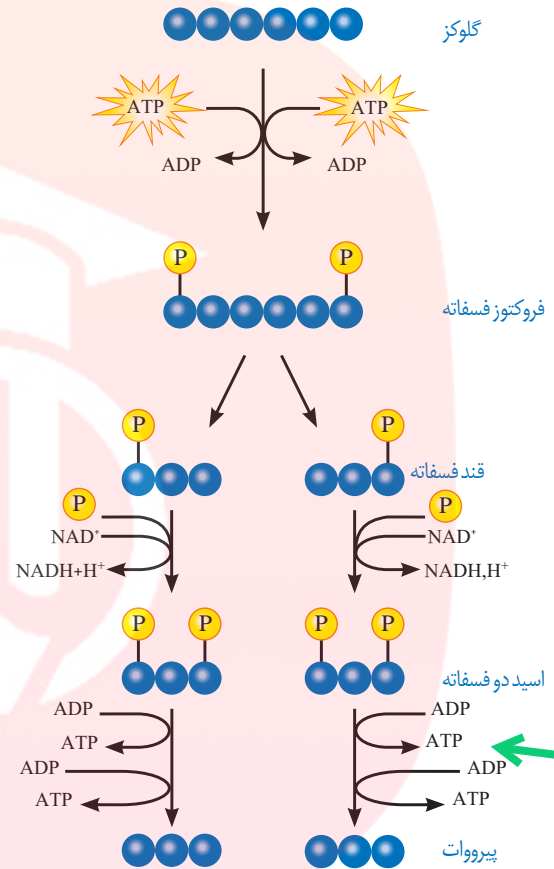
NADH حامل الکترون است، دو نوکلئوتید دارد و از NAD^+

به اضافه الکترون و پروتون تشکیل می‌شود. NAD^+ و NADH با

گرفتن و از دست دادن الکترون و پروتون، به همدیگر تبدیل می‌شوند

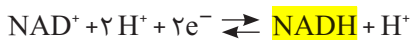
(واکنش ۲). NAD^+ با گرفتن الکترون کاهش و NADH با از دست

دادن الکترون اکسایش می‌یابد.



تألیفی: واکنش‌دهنده‌ها و فرآورده‌های مرحله آخر قندکافت را ذکر کنید؟

شکل ۴- مراحل قندکافت



ه) مولکول حامل الکترون که در قندکافت تشکیل می‌شود، ($NADH - FADH_2$) است. (خرداد ۹۹)

واکنش ۲- یک الکترون برای خنثی کردن NAD^+ به کار می‌رود. بنابراین محصول به صورت $NADH + H^+$ در واکنش نوشته می‌شود.

فعالیت ۱

گفت‌وگو کنید

همان‌طور که دیدید، در قندکافت ATP ساخته می‌شود. براساس روش‌هایی که درباره تولید ATP گفتیم، ساخته شدن

ATP در قندکافت با کدام روش انجام می‌شود؟

ب) ساخته شدن ATP در قندکافت با کدام روش انجام می‌شود؟ (خرداد ۱۴۰۱)

راکیزه مقصد پیرووات

الف) چرا راکیزه (میتوکندری) می تواند پروتئین سازی را انجام دهد؟



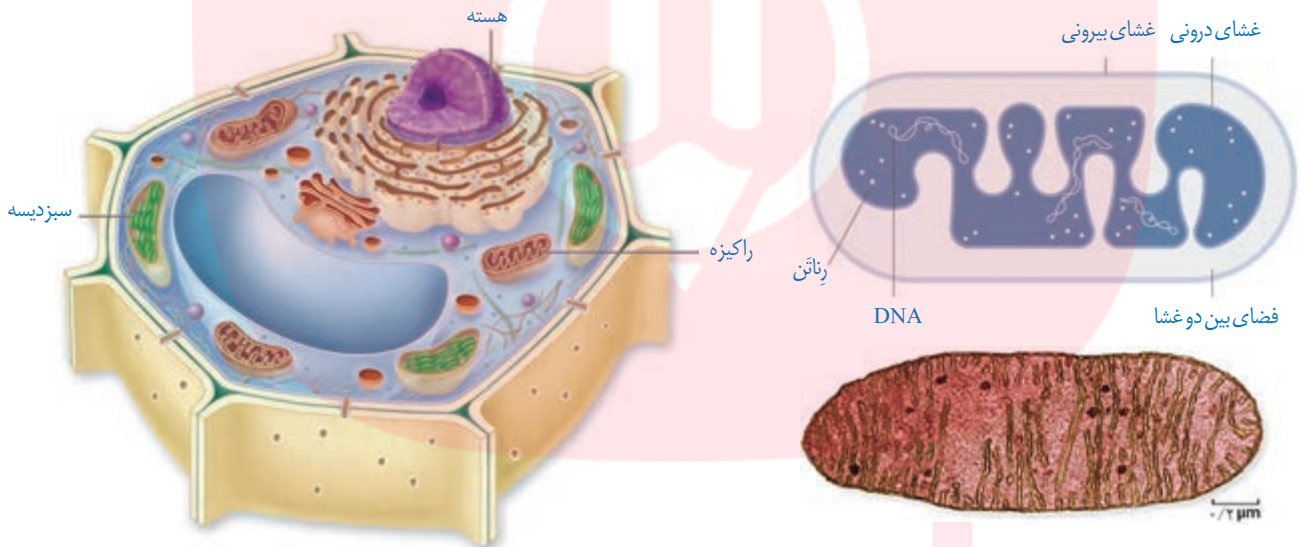
مرحله دیگر تنفس یاخته ای به اکسیژن نیاز دارد و در یوکاریوت ها در راکیزه انجام می شود. راکیزه دو غشا دارد: غشای بیرونی صاف، و غشای درونی آن به داخل چین خورده است. در نتیجه، فضای درون آن به بخش داخلی و بخش بیرونی (فضای بین دو غشا) تقسیم می شود (شکل ۵).

راکیزه دناى مستقل از هسته و رِناْتن مخصوص به خود را دارد، بنابراین در آن پروتئین سازی انجام می شود. در دناى راکیزه، ژن های مورد نیاز برای ساخته شدن انواعی از پروتئین های مورد نیاز در تنفس یاخته ای وجود دارند. (ه) راکیزه (میتوکندری) همراه با یاخته و نیز مستقل از آن تقسیم می شود. (ص) (خرداد ۹۹) راکیزه همراه با یاخته و نیز مستقل از آن تقسیم می شود. به نظر شما مستقل بودن تقسیم راکیزه از

تقسیم یاخته چه اهمیتی دارد؟ (ب) چرا راکیزه (میتوکندری) نمی تواند به طور مستقل به زندگی خود ادامه دهد؟ (شهریور ۱۴۰۰) به هر حال راکیزه برای انجام نقش خود در تنفس یاخته ای به پروتئین هایی وابسته است که ژن های

آنها در هسته قرار دارند و به وسیله رِناْتن های سیتوپلاسمی ساخته می شوند.

چرا راکیزه (میتوکندری) برای انجام نقش خود در تنفس یاخته ای نمی تواند مستقل از هسته عمل کند؟ (دی ۹۹)

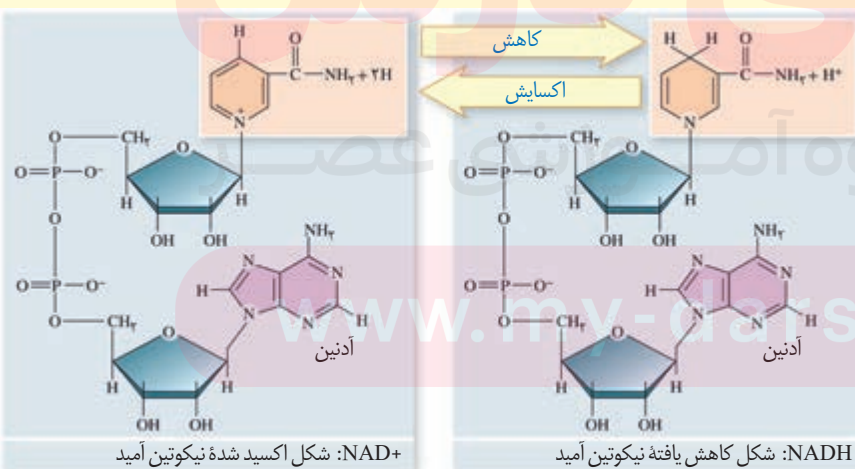


ب) راکیزه در یاخته گیاهی

شکل ۵- راکیزه. الف) راکیزه و ترسیمی از آن

بیشتر بدانید

تبدیل NAD^+ و $NADH$ به یکدیگر



ج) پیرووات از طریق انتشار وارد راکیزه (میتوکندری) می‌شود و در آنجا اکسایش می‌یابد. (غ) (دی ۹۸)

ه) پیرووات حاصل از قندکافت از طریق (انتقال فعال - انتشار تسهیل‌شده) وارد راکیزه (میتوکندری) می‌شود. (خرداد ۱۴۰۰)

و) پیرووات در راکیزه (میتوکندری) یک کربن‌دی‌اکسید از دست می‌دهد و به تبدیل می‌شود. (شهریور ۹۹)
 ب) پیرووات در راکیزه (میتوکندری) با از دست دادن یک کربن‌دی‌اکسید (CO_2) به چه مولکولی تبدیل می‌شود؟ (خرداد ۹۸)

اکسایش پیرووات: گفتیم که در انتهای قندکافت، پیرووات به وجود می‌آید. این مولکول از طریق انتقال فعال وارد راکیزه می‌شود و در آنجا اکسایش می‌یابد. پیرووات در

راکیزه یک کربن دی‌اکسید از دست می‌دهد و به بنیان استیل تبدیل می‌شود. استیل

با اتصال به مولکولی به نام کوآنزیم A، استیل کوآنزیم A را تشکیل می‌دهد. در این

واکنش NADH نیز به وجود می‌آید (شکل ۶).

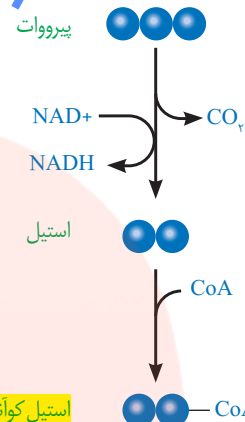
اکسایش استیل کوآنزیم A در چرخه ای از واکنش‌های آنزیمی، به نام چرخه کربس،

در بخش داخلی راکیزه انجام می‌گیرد که در گفتار بعدی به آن می‌پردازیم.

ج) در اکسایش پیرووات، در هنگام تشکیل بنیان استیل کدام مولکول حامل الکترون به وجود می‌آید؟ (خرداد ۱۴۰۱)

الف) در تنفس هوازی اولین CO_2 تولیدی، طی کدام مرحله آزاد می‌شود؟ (دی ۹۹)

ب) طی فرایند تبدیل پیرووات به بنیان استیل چه مولکول‌هایی تشکیل می‌شوند؟ (شهریور ۹۸)




استیل کوآنزیم A
 ب) حاصل اکسایش پیرووات کدام ماده است؟ (دی ۱۴۰۰)

شکل ۶- اکسایش پیرووات و تشکیل استیل کوآنزیم A

بیشتر بدانید

دانشمند موفق



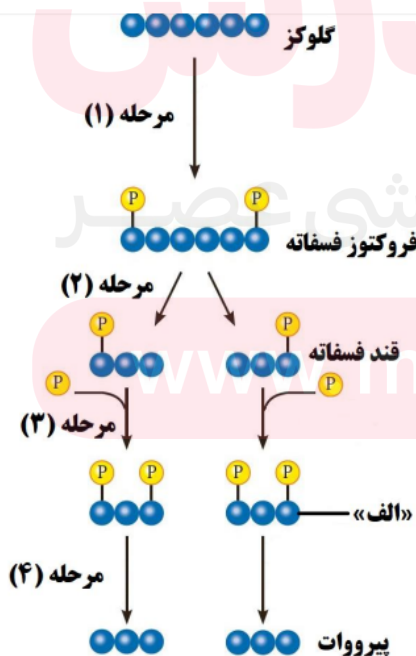
هانس آدولف کربس فیزیک‌دان و زیست‌شیمی‌دان آلمانی متولد بریتانیا (۱۹۰۰-۱۹۸۱) بسیاری از مراحل اکسایش پیرووات را کشف و معرفی کرد. به همین علت این چرخه، چرخه کربس نامیده شد. او در سال ۱۹۵۳ به همراه دانشمندی دیگر، موفق به دریافت جایزه نوبل در زمینه کار اندام‌شناسی (فیزیولوژی) و پزشکی شد.

از نظر کربس دانشمند موفق، فردی است که مهارت‌های فنی و علمی لازم را برای کسب موفقیت‌های بیشتر با استفاده از امکانات موجود داشته باشد. همچنین، در راه رسیدن به هدف، سختی‌ها را تحمل کند و نتایج پژوهش را به روشنی ارائه دهد.

شکل زیر مراحل قندکافت (گلیکولیز) را نشان می‌دهد. با توجه به شکل به سؤالات زیر پاسخ دهید.

الف) در کدام مرحله NAD^+ کاهش می‌یابد؟

ب) نام مولکول «الف» چیست؟



(ب) در چرخه کربس، چگونه مولکولی شش کربنی، ایجاد می‌شود؟ (شهریور ۹۹)

(ب) نام مجموعه واکنش‌های آنزیمی که در آن استیل کوآنزیم A اکسایش می‌یابد، چیست؟

(الف) در تنفس هوازی، چه فرایندهایی علاوه بر قندکافت (گلیکولیز) باید انجام شوند، تا مولکول گلوکز به مولکول‌های CO_2 تجزیه شود؟ (خرداد ۹۹)

مولکول گلوکز در تنفس هوازی باید تا حد تشکیل مولکول‌های CO_2 تجزیه شود. بخشی از تجزیه

گلوکز در قندکافت و اکسایش پیرووات و بخش دیگر آن در چرخه کربس انجام می‌شود.

(ج) در طی واکنش‌های متفاوتی که در چرخه کربس رخ می‌دهد، چند اتم کربن به صورت مولکول CO_2 آزاد می‌شود؟ (دی ۱۴۰۰)

(الف) طی واکنش‌های متفاوت چرخه کربس، چه مولکول گازی آزاد و چه مولکولی بازسازی می‌شود؟ (دی ۹۸)

چرخه کربس

شکل ۷ ترسیم ساده‌ای از وقایع کلی چرخه کربس را نشان می‌دهد.

در این چرخه، ضمن ترکیب استیل کوآنزیم A با مولکولی چهارکربنی،

کوآنزیم A جدا و مولکولی شش کربنی، ایجاد می‌شود. پس از آن در طی

واکنش‌های متفاوتی که در چرخه کربس رخ می‌دهد، دو اتم کربن

به صورت CO_2 آزاد و مولکول چهار کربنی برای گرفتن استیل کوآنزیم

دیگر، بازسازی می‌شود.

از اکسایش هر مولکول شش کربنی در واکنش‌های چرخه کربس،

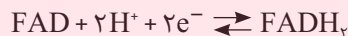
مولکول‌های $NADH$ ، $FADH_2$ و ATP در محل‌های متفاوتی از

چرخه تشکیل می‌شوند. (ج) نام دو مولکول حامل الکترون که در چرخه کربس تشکیل می‌شوند را بنویسید. (خرداد ۹۸)

$FADH_2$ ترکیبی نوکلئوتیددار و همانند $NADH$ حامل الکترون

است. $FADH_2$ از FAD ساخته می‌شود (واکنش ۳) (ب) عملکرد زنجیره انتقال الکترون به الکترون‌های پرانرژی کدام فرآورده‌های چرخه کربس وابسته است؟ (دی ۱۴۰۰)

(ب) انرژی حاصل از تجزیه مولکول گلوکز در قندکافت و چرخه کربس، صرف ساخته شدن کدام مولکول‌های حامل الکترون می‌شود؟ (خرداد ۱۴۰۰) شکل ۷- طرح ساده‌ای از چرخه کربس



(واکنش ۳)

(ج) در چه مرحله‌ای از تنفس یاخته‌ای $FADH_2$ ساخته می‌شود؟ (شهریور ۹۸) (د) طی واکنش‌های (زنجیره انتقال الکترون - چرخه کربس) مولکول $NADH$ به وجود می‌آید. (دی ۹۹)

به این ترتیب با انجام قندکافت، اکسایش پیرووات و چرخه کربس، مولکول گلوکز تا تشکیل

مولکول‌های CO_2 تجزیه می‌شود. انرژی حاصل از تجزیه گلوکز صرف ساخته شدن ATP و مولکول‌های

حامل الکترون ($NADH$ و $FADH_2$) می‌شود.

تشکیل ATP بیشتر

دیدیم که در تنفس یاخته‌ای ATP به وجود می‌آید. جالب است بدانیم که مولکول‌های $NADH$ و

$FADH_2$ نیز برای تولید ATP مصرف می‌شوند. چگونه انرژی مولکول‌های حامل الکترون برای تولید

ATP به کار می‌رود؟

همچنین براساس رابطه کلی تنفس یاخته‌ای می‌دانیم که در این فرایند آب نیز تشکیل می‌شود. آب

چگونه در این فرایند تولید می‌شود؟ پاسخ این پرسش‌ها در زنجیره انتقال الکترون در غشای درونی

راکیزه نهفته است.

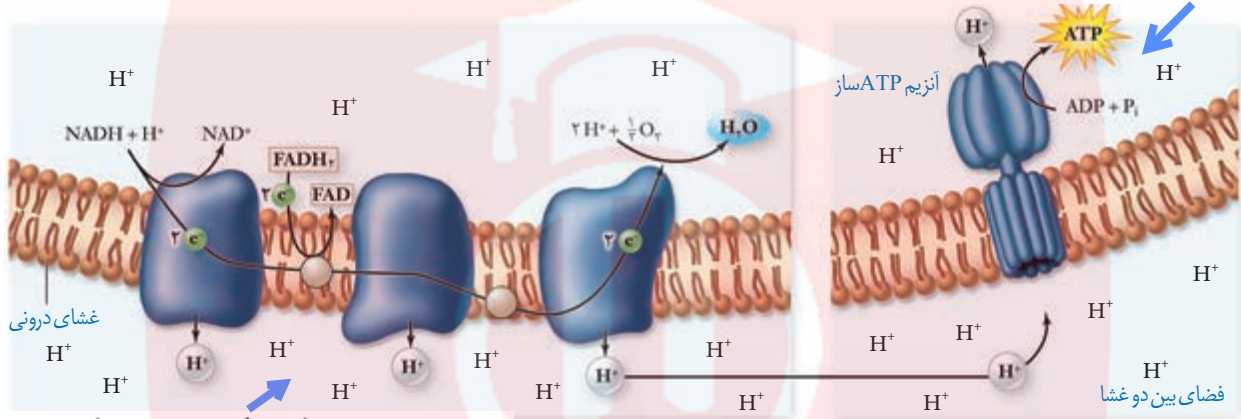
زنجیره انتقال الکترون

(الف) زنجیره انتقال الکترون در کدام بخش راکیزه قرار دارد؟ (دی ۱۴۰۰)
 (د) زنجیره انتقال الکترون در چه بخشی از راکیزه قرار دارد؟ (خرداد ۹۸)

این زنجیره از مولکول‌هایی تشکیل شده است که در غشای درونی راکیزه قرار دارند و می‌توانند الکترون بگیرند یا از دست دهند.

در این زنجیره می‌بینید که الکترون‌ها در نهایت به اکسیژن مولکولی می‌رسند. اکسیژن با گرفتن الکترون به یون اکسید (اتم اکسیژن با دو بار منفی) تبدیل می‌شود.

(ب) مجموعه پروتئینی که با شماره ۱ مشخص شده است، چیست؟ (خرداد ۱۴۰۱)



(ج) شماره ۲ مربوط به کدام یک از فضاهای راکیزه است؟ (خرداد ۱۴۰۱)

شکل ۸- زنجیره انتقال الکترون در (الف) یون‌های اکسید ایجاد شده در این زنجیره برای تشکیل چه مولکولی استفاده می‌شوند؟ (خرداد ۱۴۰۰)

یون‌های اکسید در ترکیب با پروتون‌هایی که در بخش داخلی قرار دارند، مولکول‌های آب را تشکیل می‌دهند (واکنش ۴).

(ج) در زنجیره انتقال الکترون، پروتون‌ها در چند محل از بخش داخلی به فضای بین دو غشا پمپ می‌شوند؟ (شهریور ۹۹)

(الف) پروتون‌ها (یون‌های H^+) در چند محل از زنجیره انتقال الکترون پمپ می‌شوند؟ (خرداد ۱۴۰۱)

واکنش ۴- تشکیل آب

(ج) چگونه انرژی مورد نیاز آنزیم ATP ساز، برای تشکیل ATP فراهم می‌شود؟
 $\frac{1}{2} O_2 + 2e^- \rightarrow O^{2-}$ $O^{2-} + 2H^+ + \rightarrow H_2O$

اگر به شکل ۸ توجه کنید، می‌بینید که پروتون‌ها (یون‌های H^+) در سه محل از زنجیره انتقال الکترون از بخش داخلی به فضای بین دو غشا پمپ می‌شوند. انرژی لازم برای انتقال پروتون‌ها از آنزیم‌های پراکنش یافته $NADH$ و $FADH_2$ فراهم می‌شود.

(ب) در زنجیره انتقال الکترون، بر چه اساسی پروتون‌های متراکم شده در فضای بین دو غشای راکیزه تمایل دارند به بخش داخلی برگردند؟ (دی ۹۹)

با ورود پروتون‌ها از بخش داخلی به فضای بین دو غشا، تراکم آنها در این فضا، نسبت به بخش داخلی افزایش می‌یابد. پروتون‌ها بر اساس شیب غلظت، تمایل دارند که به سمت بخش داخلی برگردند، اما تنها راه پیش روی پروتون‌ها برای برگشتن به این بخش، مجموعه‌ای پروتئینی به نام آنزیم ATP ساز است.

پروتون‌ها از کانالی که در این مجموعه قرار دارد، می‌گذرند و انرژی مورد نیاز برای تشکیل ATP از ADP

در گروه فسفات فراهم می‌شود. (ب) پروتون‌های فضای بین دو غشا راکیزه، توسط چه پروتئینی به بخش داخلی راکیزه برمی‌گردند؟ (خرداد ۱۴۰۰)

(ج) در زنجیره انتقال الکترون، تنها راه پیش روی پروتون‌ها برای برگشتن به بخش داخلی راکیزه چه پروتئینی است؟ (خرداد ۹۹)

(ب) در زنجیره انتقال الکترون، با ورود پروتون‌ها به فضای بین دو غشا، تنها راه پیش روی آنها برای برگشتن به بخش داخلی چیست؟ (دی ۹۸)

فعالیت ۲

(الف) توضیح دهید چرا ساخته شدن ATP در زنجیره انتقال الکترون، از نوع ساخته شدن اکسایشی ATP

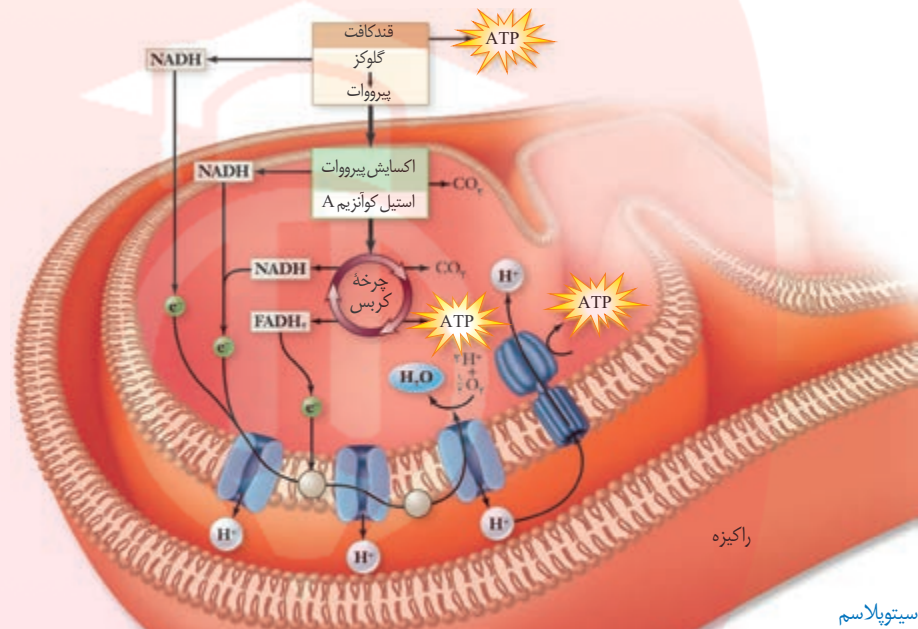
است؟ (ه) ساخته شدن ATP در زنجیره انتقال الکترون در راکیزه (میتوکندری)، از نوع ساخته شدن ATP در سطح پیش‌ماده است. (غ) (شهریور ۹۸)

(ب) با توجه به نقش غشای درونی راکیزه در تنفس یاخته‌ای، چنین خورده بودن آن چه ارزشی برای یاخته دارد؟

(ب) با توجه به نقش غشای درونی راکیزه در تنفس یاخته‌ای، چنین خورده بودن آن چه ارزشی برای یاخته دارد؟ (خرداد ۹۹)

مروری بر تنفس یاخته‌ای

خلاصه‌ای از تنفس یاخته‌ای را در شکل ۹ مشاهده می‌کنید. همان‌طور که می‌بینید در فرایند قندکافت از گلوکز پیرووات ایجاد می‌شود. پیرووات به راکیزه می‌رود و در آنجا به استیل کوآنزیم A اکسایش می‌یابد. استیل کوآنزیم A وارد چرخه کربس می‌شود. در تنفس یاخته‌ای مولکول‌های کربن دی‌اکسید، ATP، NADH، و $FADH_2$ تولید می‌شوند.



سیتویلاسم

بیشتر بدانید

ویتامین‌های B و تنفس یاخته‌ای

شاید شنیده باشید که ویتامین‌های گروه B برای سلامت مغز و اعصاب ضروری‌اند. یکی از دلایل آن عملکرد انواعی از ویتامین‌های B به عنوان کوآنزیم در واکنش‌های مربوط به تنفس یاخته‌ای است. مثلاً تشکیل استیل کوآنزیم A وابسته به حضور ویتامین B₁ (تیامین) است. جالب است که مغز حدود دو درصد از وزن بدن را تشکیل می‌دهد، اما بیش از ۲۰ درصد انرژی مصرفی در بدن را استفاده می‌کند. بنابراین تغذیه نامناسب می‌تواند بر کارکرد درست مغز از طریق تأثیر بر میزان ATP تولید شده، اثر منفی بگذارد. ویتامین B₇ (ریبوفلاوین) و ویتامین B₁₂ (نیاسین) نیز در تنفس یاخته‌ای نقش کوآنزیمی دارند.

شکل ۹- خلاصه‌ای از تنفس هوازی

فعالیت ۳

ارائه دهید

با استفاده از شکل ۹، به‌طور گروهی طرحی تصویری و نوشتاری از تنفس یاخته‌ای تولید و سعی کنید حداقل واژه‌ها را به کار ببرد. هر گروه طرح خود را در کلاس ارائه دهد. این طرح را می‌توانید با استفاده از نرم‌افزارهای رایانه‌ای، نقاشی و به صورت‌های متفاوت تولید کنید.

در این پرسش عبارتهایی در مورد «از ماده به انرژی» آورده شده است. عبارتهای مرتبط به هم را در دو ستون مشخص

کنید. (یک مورد در ستون «ب» اضافه است.) (شهریور ۱۴۰۰)

«ستون ب»	«ستون الف»
۱. گلوکز	الف) پذیرنده نهایی الکترون در زنجیره انتقال الکترون است.
۲. آنزیم ATP ساز	ب) یکی از مولکول‌های نوکلئوتیددار در چرخه کربس است.
۳. $FADH_2$	ج) مجموعه پروتئینی که انرژی مورد نیاز برای تشکیل ATP از ADP و گروه فسفات را فراهم می‌کند.
۴. اکسیژن مولکولی	د) در ازای تجربه کامل این مولکول در بهترین شرایط، در یاخته‌های یوکاریوت، حداکثر ATP ۳۰ تولید می‌شود.
۵. آب	

ها اگر مقدار ATP در یاخته کم و ADP زیاد باشد، آنزیم‌های درگیر در قندکافت و چرخه کربس (مهار-فعال) می‌شوند.
 (د) اگر ATP زیاد باشد، آنزیم‌های درگیر در قندکافت و چرخه کربس مهار می‌شوند. (ص) (دی ۹۹)

(د) مقدار ATP تولید شده در ازای تجزیه کامل گلوکز در بهترین شرایط در یاخته یوکاریوت، حداکثر چند ATP است؟ (خرداد ۹۹)

تنظیم تنفس یاخته‌ای: تولیدی اقتصادی

اندازه‌گیری‌های واقعی در شرایط بهینه آزمایشگاهی نشان می‌دهند که مقدار ATP تولید شده در ازای تجزیه کامل گلوکز در بهترین شرایط در یاخته یوکاریوت، حداکثر ATP ۳۰ است. باید توجه داشت که تولید ATP در یاخته‌های متفاوت و متناسب با نیاز بدن فرق می‌کند. به نظر شما اگر مقدار ATP در یاخته زیاد باشد، واکنش‌های قندکافت و چرخه کربس، به همان میزانی انجام می‌شوند که در شرایط کمبود ATP است؟ مشخص شده که تولید ATP تحت کنترل میزان ATP و ADP است. اگر ATP زیاد باشد، آنزیم‌های درگیر در قندکافت و چرخه کربس مهار می‌شوند تا تولید ATP کم شود. در صورتی که مقدار ATP کم و ADP زیاد باشد، این آنزیم‌ها فعال و تولید ATP افزایش می‌یابد. این تنظیم مانع از هدر رفتن منابع می‌شود. (ج) یاخته‌های بدن انسان به طور معمول از چه منابعی برای تأمین انرژی استفاده می‌کنند؟ (دی ۹۸)

یاخته‌های بدن ما به طور معمول از گلوکز و ذخیره فندی کبد برای تأمین انرژی استفاده می‌کنند. در صورتی که این منابع کافی نباشند، آنها برای تولید ATP به سراغ تجزیه چربی‌ها و پروتئین‌ها می‌روند. به همین علت تحلیل و ضعیف شدن ماهیچه‌های اسکلتی و سیستم ایمنی از عوارض سوء تغذیه و فقر غذایی شدید و طولانی مدت در افرادی است که رژیم غذایی نامناسب دارند یا اینکه به دلایل متفاوت غذای کافی در اختیار ندارند.

بیشتر بدانید

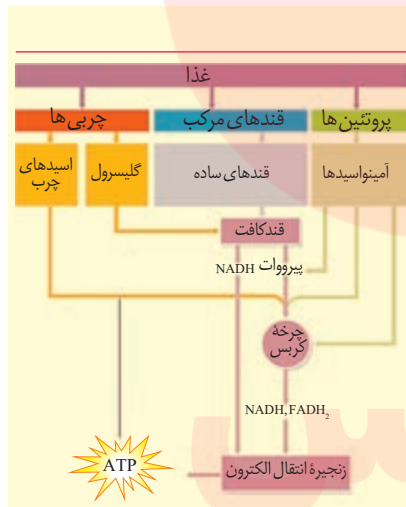
انرژی در دسترس

مقدار انرژی آزاد شده از اکسایش گلوکز در آزمایشگاه در شرایط استاندارد ۶۸۶ Kcal/mol است اگر در تنفس یاخته‌ای از یک مولکول گلوکز ATP ۳۰ تولید شود، با توجه به اینکه هر ATP حدود ۷/۳ Kcal/mol انرژی دارد، بنابراین بازده فرایند تنفس حدود ۳۲ درصد خواهد بود که بسیار بیشتر از دستگاه‌های ساخت بشر است که در آنها تبدیل انرژی صورت می‌گیرد.

بیشتر بدانید

اگر کربوهیدرات‌ها کافی نباشند

پروتئین‌ها و چربی‌ها نیز برای تأمین انرژی به کار می‌روند. چربی‌ها به اسیدهای چرب و گلیسرول تجزیه می‌شوند. پروتئین‌ها نیز به آمینواسیدها تجزیه می‌شوند و در مراحل متفاوت تنفس هوازی به کار می‌روند.



بیشتر بدانید

ATP بیشتر

باکتری‌ها را کیزه ندارند؛ در نتیجه قندکافت و چرخه کربس در سیتوپلاسم باکتری‌های هوازی انجام می‌شوند. بنابراین به ازای اکسایش هر مولکول گلوکز در تنفس یاخته‌ای در باکتری‌ها تا ATP ۳۲ ممکن است تولید شود.

فعالیت ۴

گفت‌وگو کنید

شاید دیده باشید که در دانه‌های خشک و بدون آب مانند نخود و لوبیا، حشرات و لارو آنها رشد و نمو می‌کنند. با توجه به اینکه این دانه‌ها خشک اند و تقریباً آبی ندارند، آب مورد نیاز این جانوران چگونه تأمین می‌شود؟

گفتار ۳ زیستن مستقل از اکسیژن

تخمیر

د) تخمیر الکلی و تخمیر انواعی از تخمیرند که در صنایع متفاوت از آن‌ها بهره می‌بریم. (خرداد ۹۹)

بیشتر بدانید

تخمیر الکلی در پخت نان

Saccharomyces cerevisiae
 قارچی تک یاخته‌ای است که نشاسته را تجزیه می‌کند. در فرایند تولید نان، این قارچ به خمیر اضافه و خمیر در شرایط مناسب ...

دیدیم که در تنفس یاخته‌ای، اکسیژن گیرنده نهایی الکترون است. آیا تجزیه گلوکز و تأمین انرژی، همیشه وابسته به حضور اکسیژن است؟ آیا در محیط‌هایی که اکسیژن ندارند یا اکسیژن اندکی دارند، حیات وجود ندارد؟ در این صورت ATP مورد نیاز چگونه تأمین می‌شود؟

تخمیر از روش‌های تأمین انرژی در شرایط کمبود یا نبود اکسیژن است که در انواعی از جانداران رخ می‌دهد. در فرایند تخمیر، راکیزه و در نتیجه زنجیره انتقال الکترون نقشی ندارند. **تخمیر الکلی و تخمیر**

لاکتیکی انواعی از تخمیرند که در صنایع متفاوت از آنها بهره می‌بریم. (الف) نام مرحله مشترک بین تنفس یاخته‌ای هوازی و تخمیر چیست؟ (خرداد ۹۸)

تخمیر الکلی و لاکتیکی مانند تنفس هوازی با قندکافت آغاز می‌شوند و پیرووات ایجاد می‌کنند؛ در قندکافت دیدیم که تشکیل پیرووات از قند فسفات‌ها همراه با ایجاد NADH از NAD⁺ است؛ بنابراین برای تداوم قندکافت، NAD⁺ ضروری است و اگر نباشد قندکافت متوقف می‌شود و در نتیجه تخمیر انجام نمی‌شود. در تخمیر، مولکول‌هایی ایجاد می‌شوند که در فرایند تشکیل آنها NAD⁺ به وجود می‌آید. در ادامه با این دو نوع تخمیر بیشتر آشنا می‌شویم. (ج) وراثدن خمیر نان به علت انجام تخمیر است. (شهریور ۹۸) به علت انجام تخمیر است.

تخمیر الکلی: وراثدن خمیر نان به علت انجام تخمیر الکلی است. شکل ۱۰ طرح ساده‌ای از

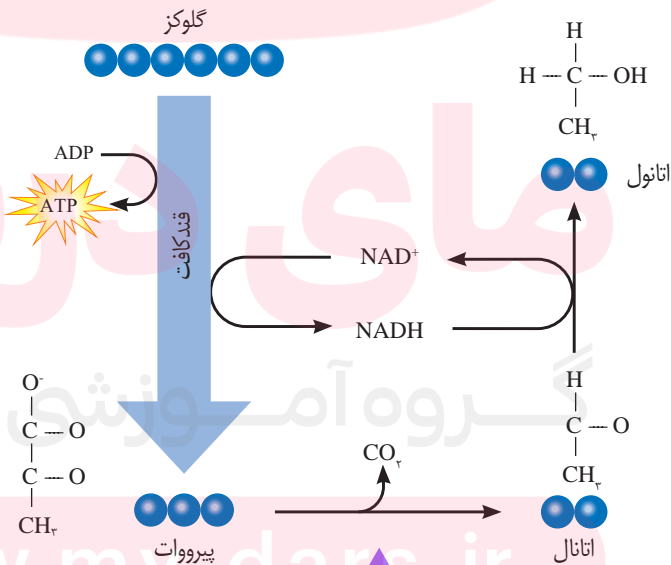
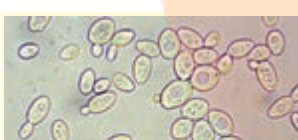
مراحل این نوع تخمیر را نشان می‌دهد. در این فرایند، پیرووات حاصل از قندکافت با از دست دادن CO₂،

به اتانال تبدیل می‌شود. اتانال با گرفتن الکترون‌های NADH اتانول ایجاد می‌کند.

در فرایند تخمیر الکلی، اتانول چگونه از اتانال ایجاد می‌شود؟ (خرداد ۱۴۰۰)

الف) در تخمیر الکلی، پیرووات حاصل از قندکافت، چگونه به اتانال تبدیل می‌شود؟ (خرداد ۱۴۰۱) د) در تخمیر الکلی، اتانال چگونه اتانول را ایجاد می‌کند؟ (شهریور ۹۹)

(ه) مرحله مشترک بین تنفس هوازی و بی‌هوازی چیست؟ (خرداد ۹۹)
 ایجاد می‌کند که سبب وراثدن یا رسیدن خمیر و در نتیجه تردی نان می‌شود. اتانول تولید شده در خمیر بر اثر حرارت، تبخیر و وراثدن خمیر نان راکیزه دارد. (ج) وراثدن خمیر نان است. (شهریور ۹۸) به علت انجام تخمیر است. کند. (شهریور ۹۸)



طرح پرسش از فرمول ساختاری مواد شیمیایی در همهٔ آزمون‌ها از جمله کنکور سراسری ممنوع است.

www.my-dars.ir

شکل ۱۰- تخمیر الکلی (الف) شکل مقابل چه نوع تخمیری را نشان می‌دهد؟ (دی ۹۸)

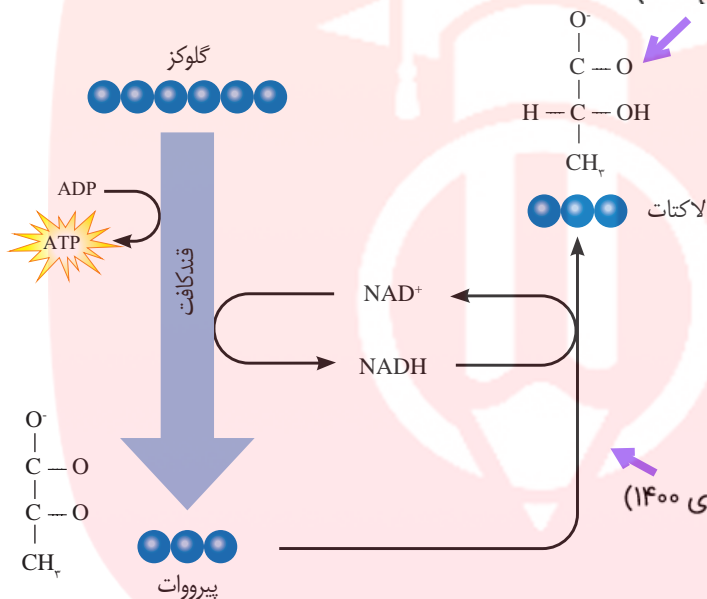
(ب) نام مادهٔ مشخص شده (۱) را بنویسید. (دی ۹۸)

در فعالیت شدید ماهیچه‌ها، اگر اکسیژن کافی نباشد، پیرووات حاصل از قندکافت چگونه به لاکتات تبدیل می‌شود؟ (شهریور ۱۴۰۰)
 (د) در فعالیت شدید ماهیچه‌ها، اگر اکسیژن کافی نباشد، پیرووات به چه ماده‌ای تبدیل می‌شود؟ (شهریور ۹۸)

تخمیر لاکتیکی: در سال گذشته خواندید، ماهیچه‌های اسکلتی برای تجزیه کامل گلوکز به اکسیژن نیاز دارند و اگر اکسیژن کافی نباشد، لاکتات در ماهیچه‌ها تجمع می‌یابد. اما لاکتات با چه سازوکاری ایجاد می‌شود؟

فعالیت شدید ماهیچه‌ها به اکسیژن فراوان نیاز دارد. اگر اکسیژن کافی نباشد، پیرووات حاصل از قندکافت وارد اکیزه‌ها نمی‌شود، بلکه با گرفتن الکترون‌های NADH به لاکتات تبدیل می‌شود (شکل ۱۱).
 (ب) گیرنده الکترون‌های NADH در تخمیر لاکتیکی چه مولکولی است؟ (خرداد ۱۴۰۱)

نام ماده مشخص شده با علامت سؤال را بنویسید. (دی ۱۴۰۰)





**طرح پرسش از فرمول
 ساختاری مواد شیمیایی در
 همه آزمون‌ها از جمله کنکور
 سراسری ممنوع است.**

(الف) شکل مقابل چه نوع تخمیری را نشان می‌دهد؟ (دی ۱۴۰۰)

شکل ۱۱- تخمیر لاکتیکی. علت ترش شدن شیر، لاکتیک اسید است.

(ه) تخمیر لاکتیکی همواره سبب فساد مواد غذایی می‌شود. (غ) (شهریور ۹۹)

انواعی از باکتری‌ها تخمیر لاکتیکی را انجام می‌دهند. بعضی از این باکتری‌ها، مانند آنچه در ترش شدن شیر رخ می‌دهد، سبب فساد غذا می‌شوند؛ اما انواعی از آنها در تولید فراورده‌های غذایی به کار می‌روند. تخمیر لاکتیکی در تولید فراورده‌های شیری و خوراکی‌هایی مانند خیارشور نقش دارد.

تخمیر در گیاهان: گیاهانی که به طور طبیعی در شرایط غرقابی رشد می‌کنند، سازوکارهایی برای

تأمین اکسیژن مورد نیاز دارند. تشکیل بافت پارانشیمی (نرم‌آکنه‌ای) هوادار در گیاهان آبزی و شش‌ریشه در درخت خزا از سازوکارهایی است که قبلاً با آن آشنا شده‌اید.

جاخالی تألیفی

به هر حال، اگر اکسیژن به هر علتی در محیط نباشد یا کم باشد، تخمیر انجام می‌شود. هر دو نوع تخمیر الکلی و لاکتیکی در گیاهان وجود دارد. توجه داشته باشید که تجمع الکل یا لاکتیک اسید در یاخته گیاهی به مرگ آن می‌انجامد، بنابراین باید از یاخته‌ها دور شوند.

ها) راکیزه‌ها (میتوکندری‌ها) برای مقابله با اثر سمی موادی مانند یون اکسید، به ترکیبات وابسته‌اند.

سلامت بدن: پاداکسندها

در درس شیمی آموختید رادیکال‌های آزاد به علت داشتن الکترون‌های جفت نشده در ساختار خود، واکنش‌پذیری بالایی دارند و می‌توانند در واکنش با مولکول‌های تشکیل‌دهنده بافت‌های بدن، به آنها آسیب برسانند. امکان تشکیل رادیکال‌های آزاد از اکسیژن در فرایند تنفس هوازی، وجود دارد. اما چگونه؟ دیدیم اکسیژن با پذیرش الکترون در پایان زنجیره انتقال الکترون، به یون اکسید (O^{2-}) تبدیل می‌شود. یون‌های اکسید با یون‌های هیدروژن (H^+) ترکیب می‌شوند و در نتیجه مولکول آب به وجود می‌آید اما گاه پیش می‌آید که درصدی از اکسیژن‌ها وارد واکنش تشکیل آب نمی‌شوند، بلکه به صورت رادیکال‌های آزاد در می‌آیند. رادیکال‌های آزاد از عوامل ایجاد سرطان‌اند. (ج) چگونه امکان تشکیل رادیکال‌های آزاد از اکسیژن در فرایند تنفس هوازی وجود دارد؟ (خرداد ۹۹)

راکیزه‌ها برای مقابله با اثر سمی رادیکال‌های آزاد، به ترکیبات پاداکسنده وابسته‌اند. بارها شنیده‌اید که خوردن میوه‌ها و سبزیجات در حفظ سلامت بدن نقش دارند. این مواد غذایی دارای پاداکسندهایی مانند کاروتنوئیدها هستند. پاداکسندها در واکنش با رادیکال‌های آزاد مانع از اثر تخریبی آنها بر مولکول‌های زیستی و در نتیجه تخریب بافت‌های بدن می‌شوند. (د) چرا خوردن میوه‌ها و سبزیجات در حفظ سلامتی بدن نقش دارند؟ (دی ۹۸)

(ه) کاروتنوئید موجود در میوه‌ها و سبزیجات چه نقشی در حفظ سلامت بدن دارند؟ (شهریور ۹۸)

تجمع رادیکال‌های آزاد: آیا مبارزه با رادیکال‌های آزاد در راکیزه‌ها همیشه با موفقیت انجام می‌شود؟ اگر به هر علت سرعت تشکیل رادیکال‌های آزاد از سرعت مبارزه با آنها بیشتر باشد، چه اتفاقی را پیش‌بینی می‌کنید؟ (ج) اگر به هر علت سرعت تشکیل رادیکال‌های آزاد در راکیزه‌ها از سرعت مبارزه با آنها بیشتر باشد، چه اتفاقی می‌افتد؟ (شهریور ۹۹)

مشخص است که در چنین شرایطی، رادیکال‌های آزاد در راکیزه تجمع می‌یابند و آن را تخریب می‌کنند؛ در نتیجه، یاخته هم تخریب می‌شود. رادیکال‌های آزاد برای جبران کمبود الکترونی خود به مولکول‌های سازنده یاخته و اجزای آن، حمله می‌کنند و باعث تخریب آنها می‌شوند.

عوامل فراوانی می‌توانند، راکیزه‌ها را در مبارزه با رادیکال‌های آزاد با مشکل روبه‌رو کنند؛ مثلاً الکل و انواعی از نقص‌های ژنی در عملکرد راکیزه در خنثی‌سازی رادیکال‌های آزاد مشکل ایجاد می‌کنند.

اثر الکل: مطالعات نشان می‌دهد که الکل سرعت تشکیل رادیکال‌های آزاد از اکسیژن را افزایش می‌دهد و مانع از عملکرد راکیزه در جهت کاهش آنها می‌شود. رادیکال‌های آزاد با حمله به DNA راکیزه، سبب تخریب راکیزه و در نتیجه مرگ یاخته‌های کبدی و بافت‌های کبدی (نکروز) کبد می‌شوند. به همین علت اختلال در کار کبد و ازکار افتادن آن از شایع‌ترین عوارض نوشیدن مشروبات الکلی است.

(ه) چه عواملی در عملکرد راکیزه در خنثی‌سازی رادیکال‌های آزاد مشکل ایجاد می‌کنند؟ (خرداد ۹۸)

نقص ژنی: گاه نقص در ژن‌های مربوط به پروتئین‌های زنجیره انتقال الکترون، به ساخته شدن پروتئین‌های معیوب می‌انجامد. راکیزه‌ای که این پروتئین‌های معیوب را داشته باشد در مبارزه با رادیکال‌های آزاد، عملکرد مناسبی ندارد.

نقص ژنی چگونه باعث تشکیل رادیکال‌های آزاد می‌شود؟ (دی ۹۹)

بیشتر بدانید

تنفس یاخته‌ای بی‌هوازی

انواعی از باکتری‌ها وجود دارند که می‌توانند در محیط‌های بدون اکسیژن زندگی کنند. این جانداران انرژی موردنیاز خود را از طریق تنفس یاخته‌ای بی‌هوازی به دست می‌آورند. گیرنده نهایی الکترون در این باکتری‌ها اکسیژن نیست.

در فرایند تنفس هوازی وجود دارد؟ (خرداد ۹۹)

است.

بیشتر بدانید

سلاح شیمیایی

دولت بعث عراق در جنگ هشت ساله علیه ایران بمب‌های شیمیایی دارای هیدروژن سیانید را به کار برد. هیدروژن سیانید با توقف زنجیره انتقال الکترون در راکیزه سبب مرگ افراد با حالتی شبیه خفگی می‌شود.

دور کردن افراد از محل حادثه، استفاده از ماسک اکسیژن و تنفس مصنوعی از اقدامات مؤثر در نجات جان این افراد است.

هـ) سیانید چگونه باعث توقف تنفس یاخته‌ای می‌شود؟ (شهریور ۹۹)

توقف انتقال الکترون: مواد سمی فراوانی وجود دارند که با مهار یک یا تعدادی از واکنش‌های

تنفس هوازی، سبب توقف تنفس یاخته و مرگ می‌شوند. **سیانید یکی از این ترکیب‌هاست که واکنش نهایی مربوط به انتقال الکترون‌ها به O_2 را مهار و در نتیجه باعث توقف زنجیره انتقال الکترون می‌شود.**

از زیست‌شناسی سال دهم نیز به یاد دارید که گاز کربن مونواکسید با اتصال به هموگلوبین، مانع از اتصال اکسیژن به آن می‌شود و چون به آسانی از هموگلوبین جدا نمی‌شود، ظرفیت حمل اکسیژن در خون را کاهش می‌دهد. این عملکرد مونواکسیدکربن، در واقع در انجام تنفس یاخته‌ای اختلال ایجاد می‌کند. مونواکسید کربن به شکل دیگری نیز بر تنفس یاخته‌ای اثر می‌گذارد؛ **این گاز سبب توقف واکنش**

مربوط به انتقال الکترون‌ها به اکسیژن می‌شود. دود خارج شده از خودروها و سیگار، از منابع دیگر تولید

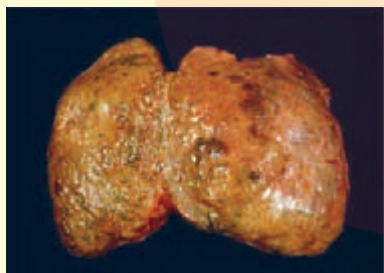
مونواکسیدکربن اند. **و) مونواکسیدکربن سبب توقف کدام واکنش زنجیره انتقال الکترون می‌شود؟ (خرداد ۹۸)**

و) یک ترکیب که با مهار کردن انتقال الکترون به O_2 باعث توقف زنجیره انتقال الکترون می‌شود را بنویسید. (شهریور ۹۸)

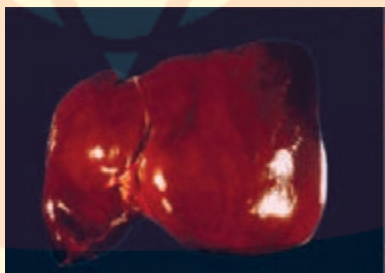
بیشتر بدانید

الکل و سرطان کبد

اثر منفی دیگر الکل بر کبد، به تجزیه چربی‌ها در کبد مربوط می‌شود. سیروز کبدی از عوارض مصرف درازمدت الکل است. این وضعیت به علت اثر منفی الکل بر تجزیه چربی‌ها ایجاد می‌شود. در این بیماری، چربی در یاخته‌های کبدی افراد الکلی تجمع می‌یابد. تجمع چربی مانع از عملکرد درست کبد می‌شود. سیروز کبدی احتمال ابتلا به سرطان کبد را افزایش می‌دهد.



کبد سیروزی



کبد سالم

مای دارس

گروه آموزشی عصر

www.my-dars.ir



فصل ۶

از انرژی به ماده



جاخالی تألیفی

دانستیم انرژی مورد نیاز ما برای انجام فعالیت‌های حیاتی، از مواد مغذی مانند گلوکز تأمین می‌شود. اکنون پرسش این است که منشأ انرژی ذخیره شده در ترکیباتی مانند گلوکز چیست؟ چه فرایندهایی در دنیای حیات وجود دارد که با ساختن ماده آلی، انرژی را در آنها ذخیره می‌کند؟ چه جاندارانی می‌توانند این فرایندها را انجام دهند و این جانداران چه ویژگی‌هایی دارند؟



طرح سؤالات عددی و محاسباتی از مباحث این فصل در همه آزمون‌ها از جمله کنکور سراسری ممنوع است.

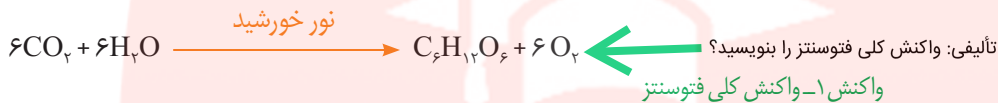
www.my-dars.ir

به منظور آمادگی کامل برای امتحان نهایی زیست شناسی دوازدهم و تکمیل این جزوه، کلاس آمادگی امتحان نهایی دکتر خیراندیش و دکتر فرهنگ‌نیا در گروه آموزشی ماز را مورخ شنبه و یکشنبه ۱۳ و ۱۴ خردادماه از ساعت ۱۲:۰۰ لغایت ۱۵:۰۰ مشاهده نمایید.

گفتار ۱

فتوستنتز: تبدیل انرژی نور به انرژی شیمیایی

می‌دانید گیاهان در فرایند فتوستنتز CO_2 را با استفاده از انرژی نور خورشید به ماده آلی تبدیل و اکسیژن نیز تولید می‌کنند (واکنش ۱). بر این اساس می‌توان میزان فتوستنتز را با تعیین میزان کربن دی‌اکسید مصرف شده و یا اکسیژن تولید شده، اندازه گرفت.



برای اینکه جاننداری بتواند فتوستنتز انجام دهد، چه ویژگی‌هایی باید داشته باشد؟ یکی از این ویژگی‌ها داشتن مولکول‌های رنگیزه‌ای است که بتوانند انرژی نور خورشید را جذب کنند. همچنین، باید سامانه‌ای برای تبدیل این انرژی به انرژی شیمیایی وجود داشته باشد. انواعی از جانداران وجود دارند که فتوستنتز می‌کنند. در ادامه به بررسی این فرایند در گیاهان می‌پردازیم.

برگ ساختار تخصص یافته برای فتوستنتز

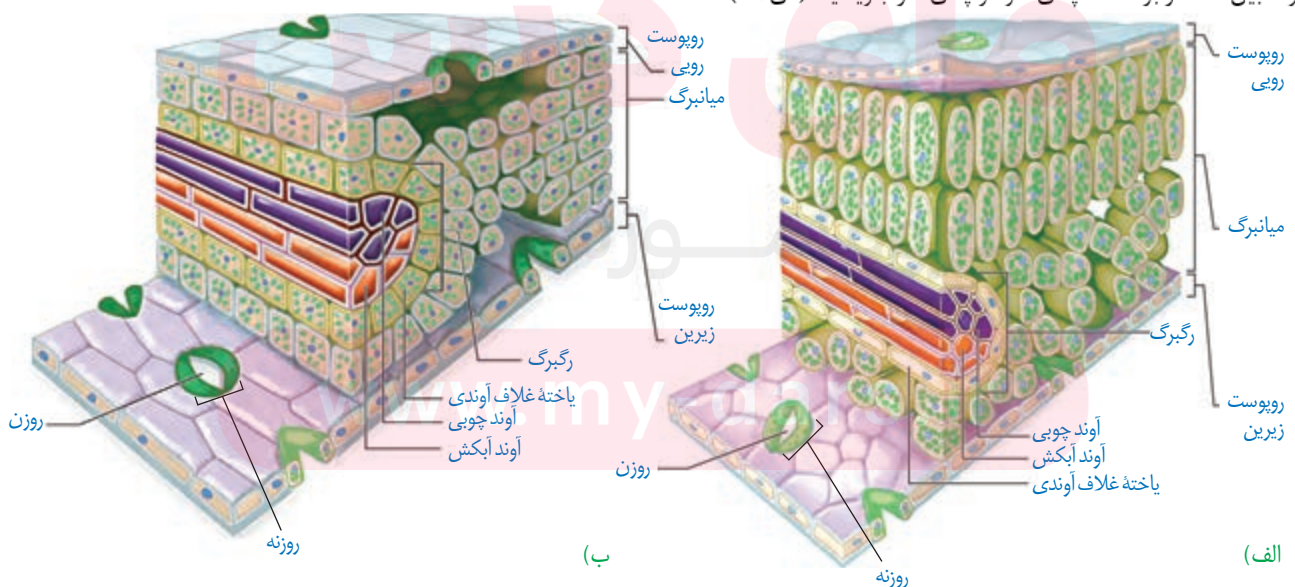
برگ که مناسب‌ترین ساختار برای فتوستنتز در اکثر گیاهان است تعداد فراوانی سبزیسه دارد. همان‌طور که می‌دانید، فتوستنتز در سبزیسه‌ها انجام می‌شود.

برگ گیاهان دو لپه دارای پهنک و دم‌برگ است. پهنک شامل روپوست، میانبرگ و دسته‌های آوندی (رگبرگ) است. روپوست رویی و زیرین به ترتیب در سطح رویی و زیرین پهنک برگ قرار دارند.

میانبرگ شامل یاخته‌های پارانشیمی است. در شکل ۱- الف میانبرگ از یاخته‌های پارانشیمی نرده‌ای و اسفنجی تشکیل شده است. همان‌طور که در این شکل می‌بینید، یاخته‌های نرده‌ای بعد از روپوست

شکل ۱- ترسیمی از برگ
 الف) نمونه‌ای گیاه دولپه
 ب) نمونه‌ای گیاه تک‌لپه

الف) یک تفاوت بین ساختار برگ تک‌لپه‌ای‌ها و دولپه‌ای‌ها را بنویسید. (دی ۹۸)

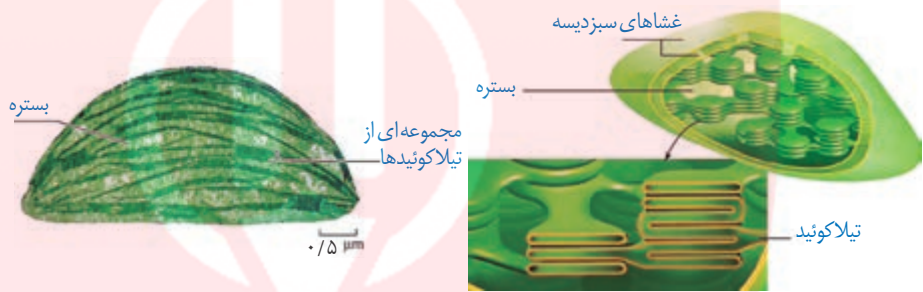


ه) در برگ گیاهان دولپه، یاخته‌های اسفنجی میانبرگ به سمت روپوست (روی - زیرین) قرار دارند. (دی ۹۹) (و) میانبرگ در بعضی گیاهان از یاخته‌های اسفنجی تشکیل شده است. (ص) (شهریور ۹۹)

↑ روی قرار دارند و به هم فشرده‌اند، در حالی که یاخته‌های اسفنجی به سمت روپوست زیرین قرار دارند. میانبرگ در بعضی گیاهان از یاخته‌های اسفنجی تشکیل شده است (شکل ۱-ب).

الف) ساختارهای غشایی و کیسه‌مانند و به هم متصل در فضای درون سبزدیسه (کلروپلاست) چه نام دارد؟ (خرداد ۹۹) **سبزدیسه:** سبزدیسه همانند راکیزه دارای غشای بیرونی و غشای درونی است که از هم فاصله دارند. فضای درون سبزدیسه با سامانه‌ای غشایی به نام **تیلاکوئید** به دو بخش فضای درون تیلاکوئید و **بستره** تقسیم شده است. تیلاکوئیدها ساختارهای غشایی و کیسه‌مانند و به هم متصل هستند (شکل ۲). بستره دارای دنا، رنا و رناتن است. بنابراین، سبزدیسه مانند راکیزه می‌تواند بعضی پروتئین‌های مورد نیاز خود را بسازد. سبزدیسه نیز می‌تواند به طور مستقل تقسیم شود.

شکل ۲- ساختار سبزدیسه



ب) تصویر گرفته شده با میکروسکوپ الکترونی

الف) ترسیمی

بیشتر بدانید

گوناگونی شکل برگ‌ها



برگ ذرت، دم‌برگ ندارد.



برگ مرکب از تعدادی برگچه تشکیل شده است، مانند برگ درخت گردو.



لبه برگ بعضی گیاهان کنگره دار است، مانند برگ درخت بلوط.

گفت‌وگو کنید

فعالیت ۱

سبزینه همان‌طور که از نامش پیداست، به رنگ سبز (الف) در گیاهان چه عواملی باعث افزایش کارایی گیاه در استفاده از طول موج‌های متفاوت نور می‌شود؟

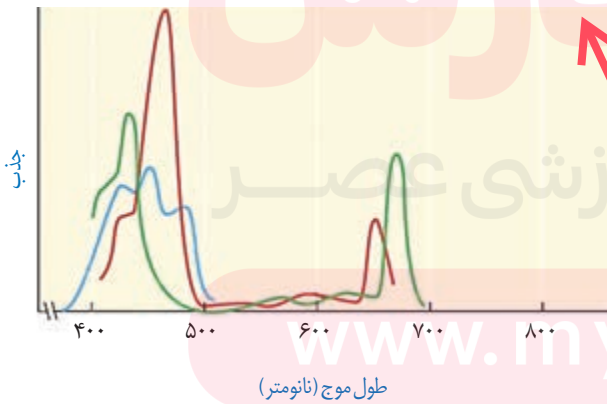
د) علاوه بر سبزینه‌ها، چه رنگی‌های دیگری در غشای تیلاکوئید وجود دارند؟ (شهریور ۹۹) رنگی‌ها به چه رنگ سبزی (الف) وجود رنگی‌های متفاوت مانند کاروتنوئیدها، در غشاء تیلاکوئید چه اهمیتی دارد؟ (شهریور ۱۴۰۰)

الف) علاوه بر سبزینه‌های (کلروفیل‌های) a و b، چه رنگی‌های فتوسنتزی دیگری در غشای تیلاکوئید قرار دارند؟ (خرداد ۹۸) الف) مزیت وجود رنگی‌های متفاوت در سبزدیسه‌های (کلروپلاست‌های) گیاه را بنویسید. (شهریور ۹۸)

الف) مزیت وجود رنگی‌های متفاوت (سبزینه و کاروتنوئید) در گیاهان چیست؟ (دی ۱۴۰۰)

رنگی‌های فتوسنتزی در غشای تیلاکوئید قرار دارند. **افزون بر سبزینه که بیشترین رنگی‌ها در سبزدیسه‌هاست، کاروتنوئیدها نیز در غشای تیلاکوئید وجود دارند.** وجود رنگی‌های متفاوت، کارایی گیاه را در استفاده از طول موج‌های متفاوت نور افزایش می‌دهد.

در گیاهان سبزینه‌های a و b وجود دارند. بیشترین جذب هر دو نوع سبزینه در محدوده‌های ۴۰۰ تا ۵۰۰ نانومتر (بنفش-آبی) و ۶۰۰ تا ۷۰۰ نانومتر (نارنجی-قرمز) است. گرچه حداکثر جذب آنها در هر یک از این محدوده‌ها با هم فرق می‌کند. کاروتنوئیدها به رنگ‌های زرد، نارنجی و قرمز دیده می‌شوند و بیشترین جذب آنها در بخش آبی و سبز نور مرئی است (شکل ۳).



طول موج (نانومتر)

شکل ۳- طیف جذبی رنگی‌های فتوسنتزی. سبزینه a (سبز)، سبزینه b (قرمز) و کاروتنوئیدها (آبی)

ب) سبزینه‌های a و b و کاروتنوئیدها، کدام نور را به طور مشترک، بیشتر جذب می‌کنند. (دی ۱۴۰۰)

الف) هر آنتن گیرنده نور از چه قسمت‌هایی ساخته شده است، نام ببرید. (دی ۹۹)

فتوسیستم: سامانه تبدیل انرژی (و) هر فتوسیستم شامل آنتن گیرنده نور و یک مرکز واکنش است. (غ) (خرداد ۹۹)

رنگی‌های فتوستنتزی همراه با انواعی پروتئین در سامانه‌هایی به نام **فتوسیستم ۱** و **۲** قرار دارند. هر فتوسیستم شامل **آنتن‌های گیرنده نور و یک مرکز واکنش** است. هر آنتن که از رنگی‌های متفاوت (کلروفیل‌ها و کاروتنوئیدها) و انواعی پروتئین ساخته شده است، انرژی نور را می‌گیرد و به مرکز واکنش منتقل می‌کند. مرکز واکنش، شامل مولکول‌های کلروفیل a است که در بستری پروتئینی قرار دارند.

الف) علاوه بر سبزینه‌های (کلروفیل‌های) a و b، چه رنگی‌های فتوستنتزی دیگری در غشای تیلاکوئید قرار دارند؟ (خرداد ۹۸)

حداکثر جذب سبزینه a در مرکز واکنش فتوسیستم ۱، در طول موج ۷۰۰ نانومتر و حداکثر جذب آن در فتوسیستم ۲، در طول موج ۶۸۰ نانومتر است. بر همین اساس، به سبزینه a در فتوسیستم ۱، P۷۰۰ و در فتوسیستم ۲، P۶۸۰ می‌گویند. (و) به سبزینه یا کلروفیل a در فتوسیستم ۲، P۶۸۰ - P۷۰۰ می‌گویند. (شهریور ۹۹)

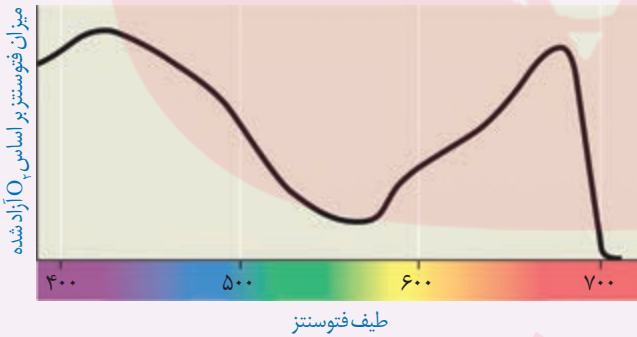
فتوسیستم‌ها در غشای تیلاکوئید قرار دارند و با مولکول‌هایی به نام **ناقل الکترون** به هم مرتبط می‌شوند. این مولکول‌ها می‌توانند الکترون بگیرند یا اینکه الکترون از دست بدهند (کاهش و اکسایش).

(و) فتوسیستم‌ها در غشای تیلاکوئید قرار دارند و با مولکول‌هایی به نام به هم مرتبط می‌شوند. (خرداد ۱۴۰۰)

ب) فتوسیستم‌ها در غشای تیلاکوئید چگونه به هم مرتبط می‌شوند؟ (دی ۱۴۰۰)

(و) فتوسیستم‌ها در غشای تیلاکوئید قرار دارند و با مولکول‌هایی به نام ناقل الکترون به هم مرتبط می‌شوند. (شهریور ۹۸)

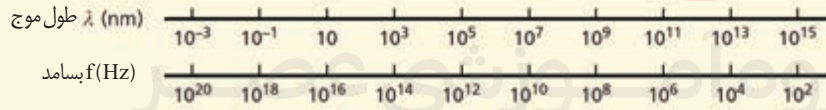
نمودار زیر میزان فتوستنتز یک گیاه را نشان می‌دهد. این نمودار را با نمودار شکل ۳ مقایسه کنید و نتایجی را که از آن به دست می‌آورید، بنویسید.



بیشتر بدانید

طیف الکترومغناطیس

بخش مرئی نور، بخش کوچکی از طیف الکترومغناطیس است. طیف الکترومغناطیس را در کتاب فیزیک ۳ مطالعه می‌کنید.



نوع پرتو: موج رادیویی، ریزموج، فرسوخ، فرابنفش، پرتو ایکس، پرتو گاما

www.iny-dars.ir



انرژی کم ← انرژی زیاد

در رابطه با آزمایشی که برای بررسی این فرض انجام شد که، «همه طول موج‌های نور مرئی به یک اندازه در

فتوستنتز نقش دارند»، به پرسش‌های زیر پاسخ دهید. (خرداد ۱۴۰۰)

(الف) نام جلبک رشته‌ای که در این آزمایش مورد استفاده قرار می‌گیرد چیست؟

(ب) از این آزمایش می‌توان نتیجه گرفت که رنگیزه اصلی در فتوستنتز چیست؟

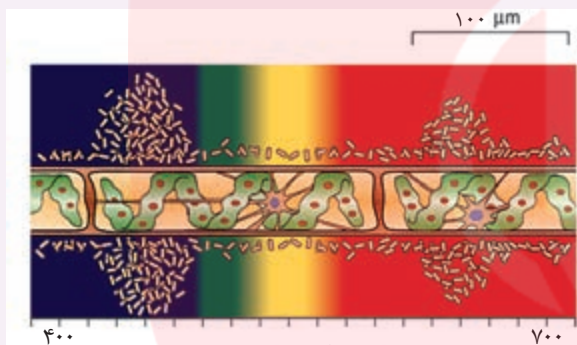
آیا همه طول موج‌های نور مرئی به یک اندازه در فتوستنتز نقش دارند؟ می‌توان با استفاده از اسپروژیر (جلبک سبز رشته‌ای)، نوعی باکتری هوازی، چشمه نور و منشور - برای تجزیه نور - آزمایشی را برای پاسخ به این پرسش

(ب) یک ویژگی سبزیس‌های (کلروپلاست‌های) اسپروژیر را بنویسید. (دی ۹۸)

اسپروژیر سبزیس‌های نواری و دراز دارد (شکل الف). اگر همه طول موج‌های نور به یک اندازه در فتوستنتز مؤثر باشند، انتظار داریم که تراکم اکسیژن در اطراف جلبک رشته‌ای یکسان باشد.

در آزمایشی که برای بررسی این فرض انجام شد، جلبک را روی سطحی ثابت کردند و درون لوله آزمایشی شامل آب و باکتری‌های هوازی قرار دادند. لوله آزمایش در برابر نوری قرار گرفت که از منشور عبور کرده و به طیف‌های متفاوت تجزیه شده بود. بعد از گذشت مدتی، مشاهده شد که باکتری‌ها در بعضی قسمت‌ها تجمع یافته‌اند (شکل ب).

(الف) چه توضیحی برای این مشاهده دارید؟ با چه آزمایشی می‌توانید درستی این توضیح را بررسی کنید؟
(ب) آیا از این آزمایش می‌توان نتیجه گرفت که سبزینه، رنگیزه اصلی در فتوستنتز است؟ پاسخ خود را توضیح دهید.



طیف مرئی

(ب) ترسیمی از نتیجه آزمایش

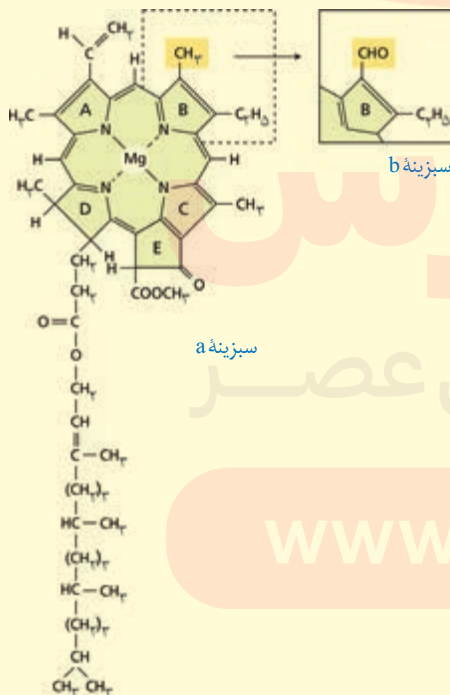


الف) اسپروژیر

بیشتر بدانید

ساختار سبزینه

مولکول سبزینه از دو بخش سر و دم تشکیل شده است. تفاوت سبزینه‌های a و b به اختلاف اندکی در بخش سر مربوط می‌شود. جالب است که ساختار بخش سر شبیه بخش هم در مولکول هموگلوبین است؛ با این تفاوت که به جای آهن، منیزیم دارد.



گروه آموزشی عصر

www.my-dars.ir

واکنش‌های فتوسنتزی را در دو گروه واکنش‌های وابسته به نور و مستقل از نور قرار می‌دهند. در ادامه به معرفی این دو نوع واکنش می‌پردازیم.

واکنش‌های وابسته به نور: واکنش‌های تیلاکوئیدی

وقتی نور به مولکول‌های رنگیزه می‌تابد، الکترون انرژی می‌گیرد و ممکن است از مدار خود خارج شود. به چنین الکترونی، **الکترون برانگیخته** می‌گویند، زیرا پتانسیل آن را از مدار خود خارج شده است. الکترون برانگیخته ممکن است با انتقال انرژی به مولکول رنگیزه بعدی، به مدار خود برگردد یا از رنگیزه خارج و به وسیله رنگیزه یا مولکولی دیگر گرفته شود (شکل ۴).

در فتوسنتز، انرژی الکترون‌های برانگیخته در رنگیزه‌های موجود در آن‌ها از رنگیزه‌ای به رنگیزه دیگر منتقل و در نهایت، به مرکز واکنش می‌رود و در آنجا سبب ایجاد الکترون برانگیخته در سبزینه a و خروج الکترون از آن می‌شود (شکل ۵).

الکترون برانگیخته از فتوسیستم ۲ بعد از عبور از زنجیره انتقال الکترون به مرکز واکنش در فتوسیستم ۱ می‌رود. همچنین، الکترون برانگیخته از فتوسیستم ۱ در نهایت به مولکول $NADP^+$ می‌رسد (شکل ۶).

دو نوع زنجیره انتقال الکترون در غشای تیلاکوئید وجود دارد. یک زنجیره بین فتوسیستم ۲ و فتوسیستم ۱ و دیگری بین فتوسیستم ۱ و $NADP^+$ قرار دارد.

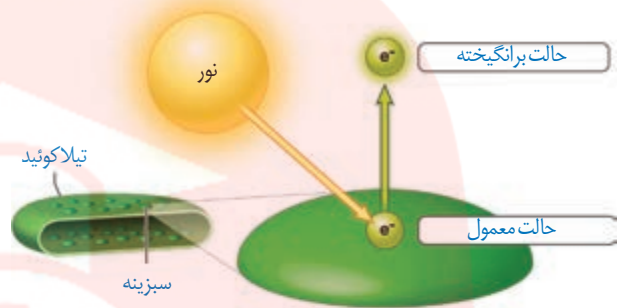
$NADP^+$ با گرفتن دو الکترون، بار منفی پیدا می‌کند و با ایجاد پیوند با پروتون به مولکول $NADPH$ تبدیل می‌شود (واکنش ۲).

تألیفی: واکنش تشکیل $NADPH$ را بنویسید؟

$$NADP^+ + 2e^- + 2H^+ \rightarrow NADPH + H^+$$
 واکنش ۲- تشکیل $NADPH$

با توجه به شکل ۶ درمی‌یابیم الکترونی که از سبزینه a در مرکز واکنش فتوسیستم ۲ می‌آید، کمبود الکترون سبزینه a در فتوسیستم ۱

ایجاد الکترون برانگیخته بر اثر تابش نور



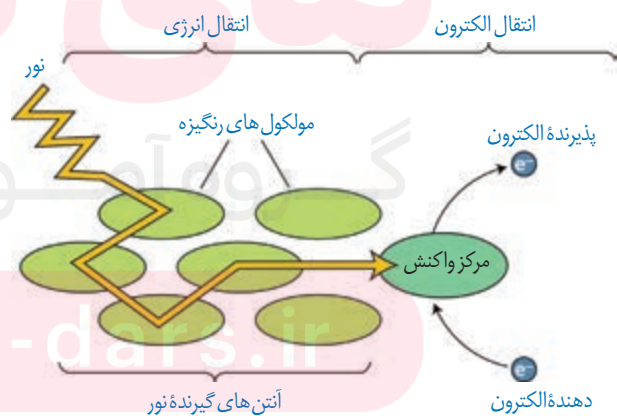
الف) الکترون برانگیخته انرژی را به مولکول مجاور منتقل می‌کند و به سطح انرژی قبلی خود برمی‌گردد.



ب) یا به مولکول مجاور می‌رود



شکل ۴- ایجاد الکترون برانگیخته و سرانجام آن



شکل ۵- انتقال انرژی به مرکز واکنش و خروج الکترون از آن

ج) تجزیه نوری آب برای جبران کمبود الکترون سبزینه a در کدام فتوسیستم صورت می گیرد؟ (خرداد ۹۸)

و) در واکنش های وابسته به نور فتوستتز، تجزیه نوری آب در فتوسیستم ۲ و در فضای درون تیلاکوئید- بستره انجام می شود.

را جبران می کند، اما کمبود الکترون سبزینه a در فتوسیستم ۲ چگونه جبران می شود؟

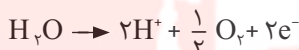
تجزیه نوری آب: به شکل ۶ نگاه کنید: در این شکل می بینید، مولکول های آب تجزیه می شوند و الکترون های حاصل از آن به فتوسیستم ۲ می روند. تجزیه آب به علت فرایندهایی است که به اثر نور

مربوط می شود. بنابراین به آن، تجزیه نوری آب می گویند. ج) کمبود الکترون سبزینه a در فتوسیستم ۲ چگونه جبران می شود؟ (شهریور ۱۴۰۰)

تجزیه نوری آب در فتوسیستم ۲ و در سطح داخلی تیلاکوئید انجام می شود. حاصل تجزیه آب در

فتوسیستم ۲، الکترون، پروتون و اکسیژن است (واکنش ۳). الکترون ها، کمبود الکترونی سبزینه a در مرکز واکنش فتوسیستم ۲ را جبران می کنند و پروتون ها در فضای درون تیلاکوئیدها تجمع می یابند.

واکنش ۳- تجزیه آب

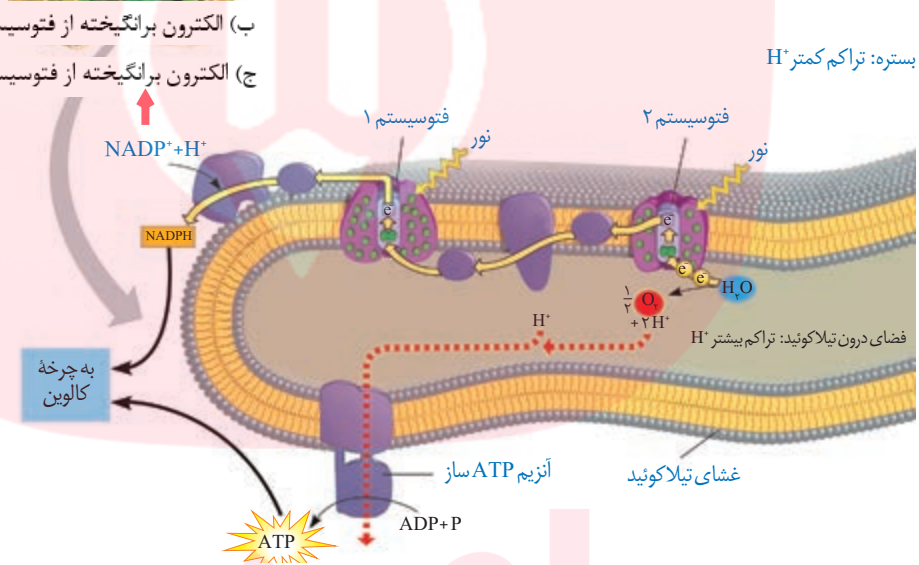
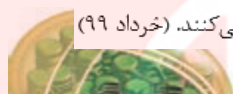


ه) تجزیه نوری آب در فتوسیستم ۲، موجب تجمع پروتون ها در فضای درون تیلاکوئیدها می شود. (ص) (دی ۹۹)

ه) الکترون های حاصل از تجزیه آب، کمبود الکترونی در مرکز واکنش فتوسیستم ۲ را جبران می کنند. (خرداد ۹۹)

ب) الکترون برانگیخته از فتوسیستم ۱ در نهایت به چه مولکولی می رسد؟ (شهریور ۹۸)

ج) الکترون برانگیخته از فتوسیستم ۱ در نهایت به چه مولکولی می رسد؟ (دی ۱۴۰۰)



شکل ۶- طرحی از فتوسیستم ها و انتقال الکترون در واکنش های نوری

ج) در واکنش های وابسته به نور، منشأ پروتون های موجود در فضای درون تیلاکوئید از کجاست؟ (دی ۹۸)

الف) منشأ پروتون های موجود در فضای درون تیلاکوئید از کجاست؟ (خرداد ۱۴۰۰)

ساخته شدن ATP در فتوستتز

یکی از اجزای زنجیره انتقال الکترون که بین فتوسیستم ۲ و ۱ قرار دارد، پروتئینی است که یون های

H^+ را از بستره به فضای درون تیلاکوئیدها پمپ می کند. بنابراین، با گذشت زمان تعدادی پروتون از بستره به فضای درون تیلاکوئید وارد می شود.

همچنین دانستیم که تعدادی پروتون از تجزیه آب، درون فضای تیلاکوئید به وجود می آید. در نتیجه،

به تدریج بر تراکم پروتون ها در فضای درون تیلاکوئیدها نسبت به بستره افزوده می شود.

پروتون ها بر اساس شیب غلظت خود می خواهند از فضای درون تیلاکوئید به بستره بروند، اما

نمی توانند از طریق انتشار از غشای تیلاکوئید عبور کنند. پس، پروتون ها از چه راهی به بستره می روند؟

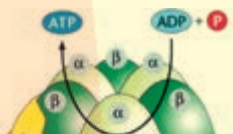
در غشای تیلاکوئید مجموعه ای پروتئینی به نام آنزیم ATP ساز وجود دارد. این آنزیم مشابه آنزیم

الف) در واکنش های وابسته به نور، منشأ پروتون های موجود در فضای درون تیلاکوئید از کجاست؟ (شهریور ۹۹)

بیشتر بدانید

آنزیم ATP ساز در سبزیسه

شکل زیر طرحی از آنزیم ATP ساز را در غشای تیلاکوئید نشان می دهد. با عبور پروتون از بخش کانال این آنزیم، سر می چرخد و در جهت مناسب برای ترکیب ADP با فسفات قرار می گیرد. در نتیجه ساخته می شود.



چ) نام قند پنج کربنی که در چرخه کالوین با CO_2 ترکیب می شود را بنویسید. (شهریور ۹۸)

د) نام قند پنج کربنی که در چرخه کالوین با CO_2 ترکیب می شود را بنویسید. (خرداد ۹۸)



ATP ساز در راکیزه است. پروتون ها فقط از طریق این آنزیم می توانند به بستره منتشر شوند. همانند آنچه در راکیزه رخ می دهد، همراه با عبور پروتون ها از این آنزیم، ساخته می شود. به ساخته شدن ATP در واکنش های نوری، ساخته شدن نوری ATP می گویند، زیرا حاصل فرایندی است که با نور به راه می افتد.

واکنش های مستقل از نور: واکنش های تثبیت کربن

می دانیم که در فتوسنتز، مولکول های CO_2 به قند تبدیل می شوند. ساخته شدن این مولکول همانند تجزیه آن به یکباره رخ نمی دهد.

عدد اکسایش اتم کربن در مولکول قند، نسبت به کربن در CO_2 ، کاهش یافته است، بنابراین گیاه برای ساختن قند، به انرژی و منبعی برای تأمین الکترون نیاز دارد که از واکنش های وابسته به نور تأمین می شوند.

الف) محل انجام چرخه کالوین در کدام بخش سبزیسه است؟ (خرداد ۱۴۰۱)
ساخته شدن قند در چرخه ای از واکنش ها، به نام چرخه کالوین رخ می دهد (شکل ۷). این واکنش ها در بستره سبزیسه انجام می شوند.

در چرخه کالوین CO_2 با قندی پنج کربنی به نام **ریبولوز بیس فسفات** ترکیب و مولکول شش کربنی ناپایداری تشکیل می شود. افزوده شدن CO_2 به مولکول پنج کربنی، با آنزیم **روبیسکو** (ریبولوز بیس

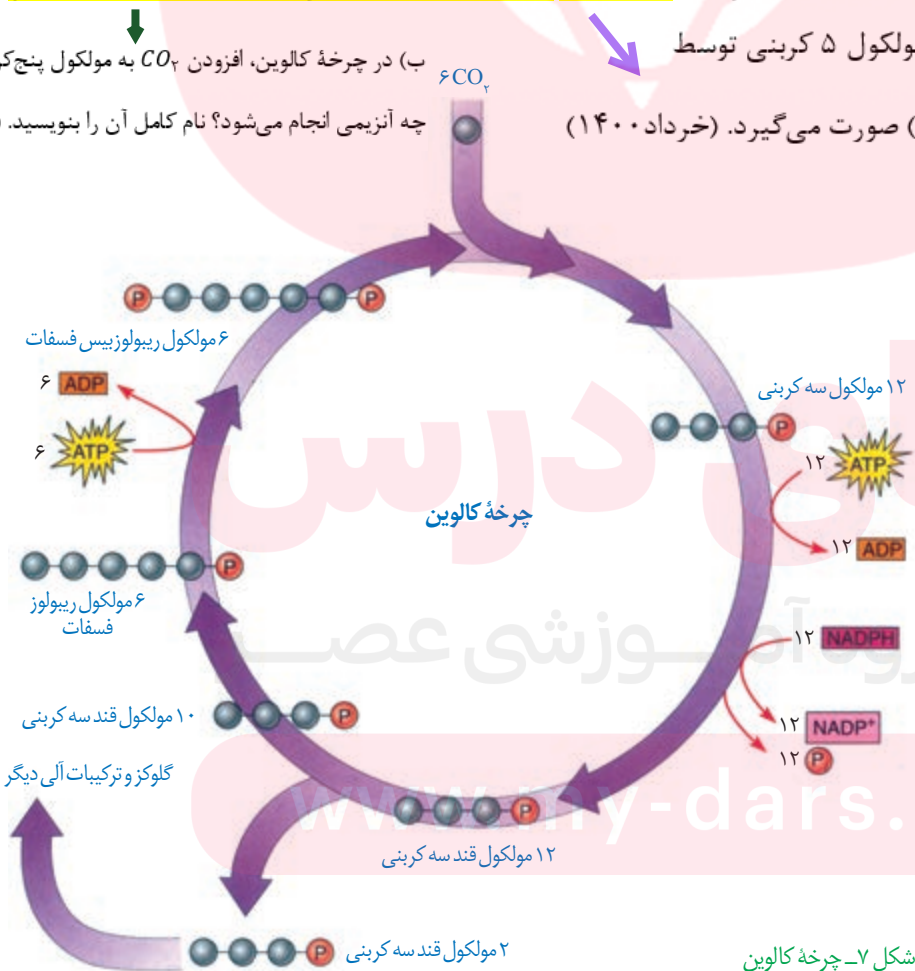
ب) در چرخه کالوین، افزودن CO_2 به مولکول پنج کربنی توسط چه آنزیمی انجام می شود؟ نام کامل آن را بنویسید. (شهریور ۹۹)

و) در چرخه کالوین، افزودن CO_2 به مولکول ۵ کربنی توسط آنزیم (ریبولوز بیس فسفات - روبیسکو) صورت می گیرد. (خرداد ۱۴۰۰)

بیشتر بدانید

ارتباط با شیمی

در کتاب شیمی ۳ با مفهوم عدد اکسایش اتم در گونه (ترکیب) و چگونگی تعیین آن آشنا شده اید.



شکل ۷- چرخه کالوین

روبیسکو به طور اختصاصی با CO_2 عمل می کند و تمایلی به اکسیژن ندارد.

ترکیبات آلی دیگر، در چه مورد دیگری به مصرف می‌رسند؟ (خرداد ۱۴۰۱)

بیشتر بدانید

شناسایی چرخه کالوین

این مولکول‌ها در نهایت به قندهای سه کربنی تبدیل می‌شوند. (ج) سرنوشت قندهای سه کربنی ساخته شده در چرخه کالوین چیست؟ (دی ۹۹)

محققان داد تا با استفاده از این مواد، فرایندهای زیستی را شناسایی کنند.

و تعدادی نیز برای بازسازی ریبولوزیسی فسفات به مصرف می‌رسند. (د) قندهای سه کربنی تولید شده در چرخه کالوین چگونه به مصرف می‌رسند؟ (شهریور ۱۴۰۰)

ملوین ایلس کالوین و همکارانش

با ردیابی C^{14} در جلبک تک

یاخته‌ای سبز، توانستند مراحل

CO_2 برای تشکیل ترکیب‌های آلی تثبیت کربن می‌گویند. (ب) چرا به گیاهانی که تثبیت کربن در آن‌ها فقط با چرخه کالوین انجام می‌شود، گیاهان C_3 می‌گویند؟

کالوین که زیست‌شیمی دان بود،

از پدرمادری روس که به امریکا

مهاجرت کرده بودند در سال ۱۹۱۱

به دنیا آمد (مرگ ۱۹۹۷). کالوین در

سال ۱۹۶۱ موفق به دریافت جایزه

نوبل در شیمی برای تحقیقاتش در

فتوسنتز شد.



گرچه واکنش‌های کالوین مستقل از نور انجام می‌شوند، اما انجام این واکنش‌ها وابسته به ATP و

NADPH حاصل از واکنش‌های نوری است. (الف) چرخه کالوین، مستقل از نور است یا وابسته به نور؟ (دی ۱۴۰۰)

در چرخه کالوین دیدیم که CO_2 برای ساخته شدن ترکیب آلی به کار می‌رود. به فرایند استفاده از

دیدیم اولین ماده آلی پایدار ساخته شده، ترکیبی سه کربنی است؛ به همین علت به گیاهانی که تثبیت

کربن در آنها فقط با چرخه کالوین انجام می‌شود، گیاهان C_3 می‌گویند. اکثر گیاهان C_3 هستند؛ گرچه

انواع دیگری از تثبیت کربن در طول تاریخ به گیاهان روی زمین نیز شکل گرفته است که در گفتار بعد به

آنها می‌پردازیم. (ه) محصول اولین واکنش چرخه کالوین یک مولکول پنج کربنی است. (غ) (دی ۱۴۰۰)

(ب) اولین ماده آلی پایدار ساخته شده در چرخه کالوین، ترکیبی چندکربنی است؟ (دی ۱۴۰۰)

اثر محیط بر فتوسنتز

بدیهی است فرایندی مانند فتوسنتز تحت تأثیر محیط باشد. به نظر شما چه عوامل محیطی بر

فتوسنتز اثر می‌گذارند؟ (ب) دو مورد از عوامل محیطی مؤثر بر فتوسنتز نام ببرید. (دی ۹۹)

با توجه به واکنش کلی فتوسنتز؛ انتظار داریم نور و CO_2 از عوامل مؤثر بر فتوسنتز باشند. مشاهدات

نشان می‌دهد، میزان CO_2 ، طول موج، شدت و مدت زمان تابش نور بر فتوسنتز اثر می‌گذارند.

از طرفی فتوسنتز فرایندی آنزیمی است و می‌دانیم بیشترین فعالیت آنزیم‌ها در گستره دمایی خاص

انجام می‌شود، بنابراین دما نیز بر فتوسنتز اثر می‌گذارد. همچنین خواهیم دید که میزان اکسیژن نیز بر

فتوسنتز اثر دارد. (ب) چرا دما بر روی فتوسنتز تأثیرگذار است؟ (خرداد ۹۹)

فعالیت ۴

تفسیر کنید

در گفتار بعد خواهیم دید که میزان اکسیژن نیز بر فتوسنتز اثر

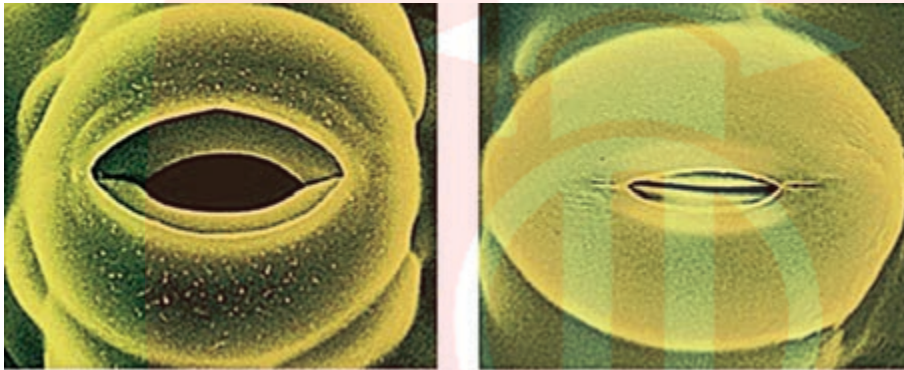
دارد. نمودار مقابل تأثیر میزان اکسیژن بر میزان فتوسنتز گیاهی

C_3 را نشان می‌دهد. با توجه به نمودار، ارتباط بین میزان اکسیژن و فتوسنتز این گیاه را

توضیح دهید.



شکل ۸ روزنه را در دو حالت باز و بسته نشان می‌دهد. چه عواملی سبب بسته شدن روزنه می‌شود؟ به یاد دارید که افزایش بیش از حد دما و نور سبب بسته شدن روزنه‌ها می‌شود. بسته شدن روزنه‌ها چه تأثیری می‌تواند بر فتوستنتز داشته باشد؟

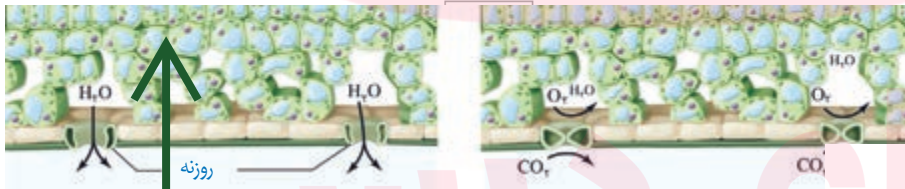


شکل ۸- روزنه‌ها برای حفظ آب گیاه بسته می‌شوند.

در چنین شرایطی وقتی روزنه‌ها به منظور کاهش تعرق بسته می‌شوند، تبادل گازهای اکسیژن و کربن دی‌اکسید از روزنه‌ها نیز توقف می‌یابد، اما فتوستنتز همچنان ادامه دارد. بنابراین در حالی که CO_2 برگ کم می‌شود، اکسیژن در آن افزایش می‌یابد (شکل ۹).

و وقتی روزنه‌ها به منظور کاهش تعرق بسته می‌شوند، وضعیت برای نقش (کربوکسیلازی - اکسیژنازی) آنزیم

روبیسکو مساعد می‌شود. (شهریور ۱۴۰۰)



شکل ۹- افزایش میزان اکسیژن در اطراف یاخته‌ها به علت بسته شدن روزنه‌ها. وقتی روزنه‌ها باز هستند (الف) نسبت CO_2 به O_2 بیشتر از زمانی است که روزنه‌ها برای حفظ آب بسته شده‌اند در حالی که میزان CO_2 برگ کم و میزان اکسیژن در آن افزایش می‌یابد (فتوستنتز در شرایط دشوار) اکسیژن با چه مولکولی ترکیب می‌شود؟ (شهریور ۹۹)

در چنین حالتی، وضعیت برای نقش اکسیژنازی آنزیم روبیسکو مساعد می‌شود؛ زیرا نقش کربوکسیلازی یا اکسیژنازی این آنزیم به نسبت CO_2 و اکسیژن در محیط عملکرد آن ارتباط دارد. بنابراین با افزایش اکسیژن در برگ، اکسیژن با ریبولوزیسی فسفات ترکیب می‌شود. مولکول حاصل، ناپایدار است و به دو مولکول سه کربنی و دو کربنی تجزیه می‌شود. مولکول سه کربنی به مصرف بازسازی ریبولوزیسی فسفات می‌رسد. (ج) مولکول سه کربنی ایجاد شده در تنفس نوری برای بازسازی چه مولکولی به مصرف می‌رسد؟ مولکول دو کربنی از کلروپلاست خارج و در واکنش‌هایی که بخشی از آنها در راکیزه انجام می‌گیرد، از آن مولکول CO_2 آزاد می‌شود. چون این فرایند با مصرف اکسیژن، آزاد شدن CO_2 و همراه با فتوستنتز است، تنفس نوری نامیده می‌شود.

در تنفس نوری گرچه ماده آلی تجزیه می‌شود، اما برخلاف تنفس یاخته‌ای، ATP از آن ایجاد

(ج) در تنفس نوری، CO_2 آزاد شده، حاصل تجزیه مولکول دو کربنی است یا مولکول سه کربنی؟ (خرداد ۹۹)

شکل ۹- افزایش میزان اکسیژن در اطراف یاخته‌ها به علت بسته شدن روزنه‌ها.

وقتی روزنه‌ها باز هستند (الف) نسبت CO_2 به O_2 بیشتر از زمانی است که روزنه‌ها برای حفظ آب بسته شده‌اند

در حالی که میزان CO_2 برگ کم و میزان اکسیژن در آن افزایش می‌یابد

(فتوستنتز در شرایط دشوار) اکسیژن با چه مولکولی ترکیب می‌شود؟ (شهریور ۹۹)

(ه) در تنفس نوری، وضعیت برای نقش (اکسیژنازی - کربوکسیلازی) آنزیم روبیسکو مساعد می‌شود. (خرداد ۹۸)

بیشتر بدانید

آیا تنفس نوری بی‌فایده است؟

گرچه تنفس نوری را عامل مزاحمی برای فتوستنتز در نظر می‌گیرند، اما پژوهش‌ها نشان می‌دهد بعضی گیاهان که به علت نقص ژنی تنفس نوری ندارند، در مقایسه با هم‌نوعان خود، آسیب بیشتری از نورهای شدید می‌بینند.

ج) یاخته‌های غلاف آوندی، در گیاهان C_4 و گیاهان C_3 چه تفاوتی با هم دارند؟ (خرداد ۱۴۰۰)
 نمی‌شود. بنابراین تنفس نوری باعث کاهش فرآورده‌های فتوسنتز می‌شود.

به هر حال انواعی از گیاهان وجود دارند که در محیط‌های با دمای بالا و تابش شدید نور خورشید زندگی می‌کنند. این گیاهان با چه سازوکاری توانسته‌اند تنفس نوری خود را کاهش دهند؟

ه) در چه گیاهانی تثبیت اولیه کربن و چرخه کالوین در

فتوسنتز در گیاهان C_4

دو نوع یاخته متفاوت انجام می‌شود؟ (خرداد ۹۸)

یکی از سازوکارها برای ممانعت تنفس نوری، در گیاهانی وجود دارد که به گیاهان C_4 معروف‌اند.

یاخته‌های غلاف آوندی در این گیاهان سبزیسه دارند و محل انجام چرخه کالوین‌اند، در حالی که در گیاهان C_3 ، سبزیسه ندارند (شکل ۱۰).

تثبیت کربن در این گیاهان در دو مرحله، ابتدا در یاخته‌های میانبرگ و سپس در یاخته‌های غلاف

آوندی انجام می‌شود که در ادامه به آن می‌پردازیم.

در گیاهان C_4 ، CO_2 در یاخته‌های میانبرگ با اسیدی سه کربنی

ترکیب و در نتیجه اسیدی چهار کربنی ایجاد می‌شود. به همین علت به این گیاهان، گیاهان C_4 می‌گویند؛ زیرا اولین ماده پایدار حاصل از تثبیت کربن، ترکیبی چهار کربنی است.

آنزیمی که در ترکیب CO_2 با اسید سه کربنی و تشکیل اسید

چهار کربنی نقش دارد، برخلاف روییسکو به طور اختصاصی با CO_2

عمل می‌کند و تمایلی به اکسیژن ندارد.

اسید چهار کربنی از یاخته‌های میانبرگ از طریق پلاسمودسم‌ها

به یاخته‌های غلاف آوندی منتقل می‌شود. در این یاخته‌ها، مولکول

CO_2 از اسید چهار کربنی آزاد و وارد چرخه کالوین می‌شود. اسید

سه کربنی باقیمانده نیز به یاخته‌های میانبرگ برمی‌گردد.

در گیاهان C_4 با وجود عملکرد آنزیم‌های گوناگون در تثبیت کربن

و تقسیم مکانی آن در دو نوع یاخته، میزان CO_2 در محل فعالیت آنزیم

روییسکو، به اندازه‌ای بالا نگه داشته می‌شود که بازدارنده تنفس نوری

است. بنابراین، تنفس نوری به ندرت در این گیاهان روی می‌دهد.

این گیاهان در دماهای بالا، شدت‌های زیاد نور و کمبود آب، در

حالی که روزنه‌ها بسته شده‌اند تا از تبخیر آب جلوگیری شود، همچنان

میزان CO_2 را در محل عملکرد آنزیم روییسکو بالا نگه می‌دارند. به

همین علت کارایی آنها در چنین شرایطی بیش از گیاهان C_3 است.

بیشتر بدانید

عملکرد اختصاصی

پذیرنده CO_2 در گیاهان C_4 فسفوانول پیرووات است. این اسید با فعالیت آنزیم فسفوانول پیرووات کربوکسیلاز با CO_2 ترکیب و اسید چهار کربنی (مالات یا اگزالات) تشکیل می‌شود. جایگاه فعال آنزیم فسفوانول پیرووات کربوکسیلاز به شکلی است که فقط کربن دی‌اکسید در آن قرار می‌گیرد.

د) تثبیت کربن در گیاهان C_4 در دو مرحله، ابتدا در یاخته‌های

غلاف آوندی و سپس در یاخته‌های میانبرگ انجام می‌شود. (غ) (دی ۹۸)

د) در گیاهان C_4 ، اسید چهار کربنی در کدام یاخته‌های برگ ایجاد می‌شود؟ (شهریور ۹۸)

و) تفاوت آنزیم روییسکو با آنزیمی که در ترکیب CO_2 با اسید

سه کربنی در گیاهان C_4 و CAM نقش دارد، چیست؟ (خرداد ۹۹)

د) در گیاهان C_4 آنزیم روییسکو در یاخته‌های (غلاف آوندی - میانبرگ) فعال است. (دی ۱۴۰۰)

و) در گیاهان C_4 ، اسید چهار کربنی از یاخته‌های میانبرگ از طریق پلاسمودسم‌ها

به یاخته‌های منتقل می‌شود. (شهریور ۱۴۰۰)

شکل ۱۰- الف) برگ گیاه C_4

ب) برگ گیاه C_3

فتوسنتز در گیاهان CAM

بعضی گیاهان در مناطقی زندگی می‌کنند که با مسئله دما و نور شدید در طول روز و کمبود آب

مواجه‌اند. در این گیاهان برای جلوگیری از هدر رفتن آب، روزنه‌ها در طول روز بسته و در شب بازند. برگ،

ب) گیاهان CAM برای جلوگیری از هدر رفتن آب در دمای بالا و نور شدید، چه سازشی دارند؟ (خرداد ۱۴۰۰)

«الف»	تثبیت اولیه کربن در شب
«ب»	تثبیت اولیه کربن در میانبرگ و انجام چرخه کالوین در غلاف آوندی
«ج»	تثبیت کربن فقط با انجام چرخه کالوین

الف) تثبیت کربن در این گروه از گیاهان فقط با چرخه کالوین انجام می‌شود.

ب) در این گروه از گیاهان، در یاخته‌های میانبرگ، CO_2 با اسیدی سه‌کربنه ترکیب شده و اسیدی چهارکربنه را ایجاد می‌کند.

ج) در این گروه از گیاهان تثبیت کربن در زمان‌های متفاوت انجام می‌شود.

ساقه یا هردوی آنها در چنین گیاهانی گوشتی و پرآب است. این گیاهان در واکنش‌های خود ترکیباتی

دارند که آب را نگه می‌دارند. (ه) به گیاهانی که تثبیت کربن در آن‌ها در زمان‌های متفاوت انجام می‌شود، چه می‌گویند؟ (دی ۹۸)

تثبیت کربن در این گیاهان، مانند گیاهان C_4 است، با این تفاوت که تثبیت کربن در آن‌ها در یاخته‌های

متفاوت نیست و به عبارتی تقسیم‌بندی مکانی نشده، بلکه در زمان‌های متفاوت انجام می‌شود. تثبیت

اولیه کربن در شب که روزنه‌ها بازند و چرخه کالوین در روز انجام می‌شود که روزنه‌ها بسته‌اند. آناناس

ج) چرخه کالوین در گیاهان CAM در چه زمانی انجام می‌شود؟ (دی ۱۴۰۰)

و) در گیاهان CAM، چرخه کالوین در چه موقعی

از شبانه‌روز انجام می‌شود؟ (خرداد ۹۸) گیاهان CAM (گم) است. (ج) چه تفاوتی میان تثبیت کربن در گیاهان C_4 و گیاهان CAM وجود دارد؟ (شهریور ۹۹)



ه) تثبیت اولیه کربن در آناناس در (روز - شب) انجام می‌شود. (شهریور ۹۸)

آناناس

ذرت

گل رز



پ



ب



الف

شکل ۱-۱ مقایسه فتوسنتز در گیاهان الف) C_3 ، ب) C_4 و پ) CAM

فعالیت ۵

گفت‌وگو کنید

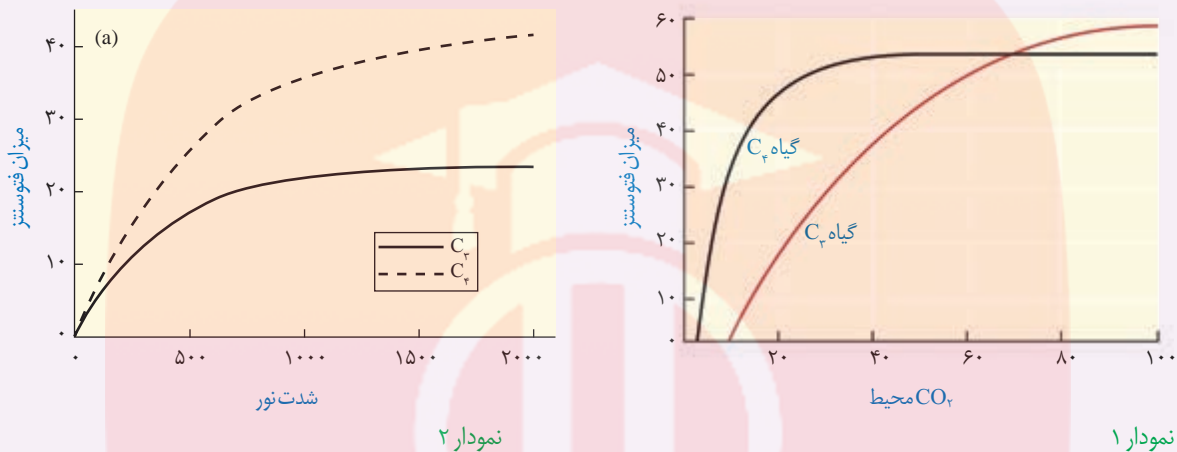
سه گیاه الف، ب و پ داریم. با فرض اینکه فتوسنتز هیچ یک از این گیاهان یکسان نباشد، به پرسش‌های زیر پاسخ دهید.

۱- الف) عصاره برگ هر یک از این گیاهان در دوزمان، یکی در آغاز تاریکی (شب) و دیگری در آغاز روشنایی (صبح)

استخراج و pH آنها اندازه‌گیری شد. pH عصاره گیاه ب در آغاز روشنایی نسبت به آغاز تاریکی اسیدی‌تر بود. گیاه «ب» چه نوع فتوسنتزی دارد؟

د) اگر pH عصاره گیاهی در آغاز روشنایی نسبت به آغاز تاریکی اسیدی‌تر باشد، گیاه چه نوع فتوسنتزی دارد؟

ب) برای تشخیص نوع فتوسنتز گیاه الف و پ چه راهی پیشنهاد می‌دهید؟ آیا ساختار این گیاهان در تشخیص نوع فتوسنتز به شما کمک می‌کند؟
 ۲- نمودارهای ۱ و ۲ به ترتیب اثر کربن دی‌اکسید جو و شدت نور را بر فتوسنتز دو گیاه C_۳ و C_۴ نشان می‌دهند. چه نتیجه‌ای از این نمودارها می‌گیرید؟



بیشتر بدانید

گیاهان C_۴ سهم اندکی از گیاهان را به خود اختصاص می‌دهند. بیشتر گیاهان C_۳ تک لپه‌اند، اما انواع دولپه‌ای نیز وجود دارد. گیاه تاج خروس از دولپه‌ای‌های C_۴ است. بعضی دانشمندان پیش‌بینی می‌کنند با توجه به گرم شدن کره زمین، شاهد انواع بیشتری از گیاهان C_۴ در کره زمین باشیم.



(شهریور ۹۸) فتوسنتز کننده غیراکسیژن‌زا چیست؟



(دی ۹۹) منبع تأمین الکترون در باکتری‌های گوگردی چه مولکولی است؟

(شهریور ۹۹) منبع تأمین الکترون در باکتری‌های گوگردی چه مولکولی است؟

جانداران فتوسنتز کننده دیگر

بخش عمده فتوسنتز را جاندارانی انجام می‌دهند که گیاه نیستند و در خشکی زندگی نمی‌کنند. انواعی از باکتری‌ها و آغازیان در محیط‌های متفاوت خشکی و آبی فتوسنتز می‌کنند که در ادامه به آنها می‌پردازیم.

(و) باکتری‌هایی که فتوسنتز می‌کنند، ندارند، اما دارای رنگیزه‌های جذب کننده نورند.

باکتری‌ها: باکتری‌هایی که فتوسنتز می‌کنند، سبز دیسه ندارند، اما دارای رنگیزه‌های جذب کننده نورند. (و) سیانوباکتری‌ها، جزء باکتری‌های فتوسنتز کننده (اکسیژن‌زا - غیراکسیژن‌زا) هستند. (خرداد ۹۹)

بعضی باکتری‌ها سبزینه دارند. مثلاً سیانوباکتری‌ها سبزینه a دارند و همانند گیاهان با استفاده از CO_۲ و نور ماده آلی می‌سازند؛ و چون همانند گیاهان در فرایند فتوسنتز اکسیژن تولید می‌کنند، باکتری‌های فتوسنتز کننده اکسیژن‌زا نامیده می‌شوند. (ه) نام رنگیزه فتوسنتزی باکتری‌های فتوسنتز کننده غیراکسیژن‌زا چیست؟ (شهریور ۹۸)

گروهی دیگر از باکتری‌ها، فتوسنتز کننده غیراکسیژن‌زا هستند. باکتری‌های گوگردی ارغوانی و سبز از این گروه‌اند. رنگیزه فتوسنتزی این باکتری‌ها، باکتروکلروفیل است. این باکتری‌ها کربن دی‌اکسید را جذب می‌کنند، اما اکسیژن تولید نمی‌کنند؛ (ه) در باکتری‌های گوگردی منبع تأمین الکترون است. (دی ۹۹)

غیر از آب است. مثلاً در باکتری‌های گوگردی منبع تأمین الکترون H_۲S است و به جای اکسیژن، گوگرد ایجاد می‌شود. از این باکتری‌ها در تصفیه فاضلاب‌ها برای حذف هیدروژن سولفید استفاده می‌کنند.

هیدروژن سولفید گازی بی‌رنگ است و بویی شبیه تخم‌مرغ گندیده دارد.

(الف) از چه باکتری‌هایی در تصفیه فاضلاب‌ها برای حذف هیدروژن سولفید استفاده می‌کنند؟ (خرداد ۹۸)

واکنش ۴- فتوسنتز در باکتری‌های گوگردی



بیشتر بدانید

شیمیوستنز در اعماق اقیانوس

در اعماق اقیانوس شکاف‌هایی وجود دارد که از آنها گاز

(ب) یک آغازی تک‌یاخته‌ای را نام ببرید که در صورت نبود نور،

سبز دیسه‌های (کلروپلاست‌های) خود را از دست می‌دهد. (خرداد ۹۸)

شیمیوستنز کننده زندگی می‌کنند، که با اکسایش هیدروژن سولفید، انرژی مورد نیاز برای ساخت ماده آلی را به دست می‌آورند. زیست این کرم‌ها وابسته به غذایی است که این باکتری‌ها برای آنها می‌سازند.



آغازیان: آغازیان نقش مهمی در تولید ماده آلی از ماده معدنی دارند. می‌دانید که جلبک‌های سبز، قرمز و قهوه‌ای از آغازیان هستند و فتوستنز می‌کنند. اوگلنایی که در شکل ۱۲ می‌بینید، جاننداری تک‌یاخته‌ای و مثال دیگری از آغازیان فتوستنز کننده است. این جاندار در حضور نور فتوستنز می‌کند و در صورتی که نور نباشد، سبز دیسه‌های خود را از دست می‌دهد و با تغذیه از مواد آلی، ترکیبات مورد نیاز خود را به دست می‌آورد.



شکل ۱۲- اوگلنا

(ه) باکتری‌های نیترات‌ساز، انرژی مورد نیاز برای ساختن مواد آلی از مواد معدنی را از چه واکنش‌هایی به دست می‌آورند؟

شیمیوستنز

آیا ساختن ماده آلی از ماده معدنی فقط محدود به فتوستنز و جاندارانی است که از انرژی نور استفاده می‌کنند؟ آیا تولیدکنندگان در اعماق تاریک وجود ندارند؟ امروزه می‌دانیم انواعی از باکتری‌ها در معادن، اعماق اقیانوس‌ها و اطراف دهانه آتشفشان‌های زیر آب وجود دارند که می‌توانند بدون نیاز به نور از کربن دی‌اکسید ماده آلی بسازند. زیستن در چنین مناطقی برای بسیاری از جانداران غیر ممکن است. دانشمندان بر اساس وضعیت زمین در آغاز شکل‌گیری حیات، بر این باورند که باکتری‌های شیمیوستنز کننده از قدیمی‌ترین جانداران روی زمین‌اند.

چنین باکتری‌هایی، انرژی مورد نیاز برای ساختن مواد آلی از مواد معدنی را از

واکنش‌های اکسایش به دست می‌آورند. به این فرایند شیمیوستنز می‌گویند.

باکتری‌های نیترات‌ساز که آمونیوم را به نیترات تبدیل می‌کنند، از باکتری‌های شیمیوستنز کننده‌اند.

(و) باکتری‌های نیترات‌ساز که آمونیوم را به نیترات تبدیل می‌کنند، از باکتری‌های (شیمیوستنز کننده - فتوستنز کننده اکسیژن‌زا) هستند. (خرداد ۹۸)

(و) سیانوباکتری‌ها، جزء باکتری‌های فتوستنز کننده (اکسیژن‌زا - غیر اکسیژن‌زا) هستند. (خرداد ۹۹)

(د) باکتری‌های نیترات‌ساز که را به نیترات تبدیل می‌کنند، از باکتری‌های شیمیوستنز کننده هستند. (دی ۹۸)

(د) باکتری‌های نیترات‌ساز که آمونیوم را به نیترات تبدیل می‌کنند، از باکتری‌های هستند. (شهریور ۹۸)



فصل ۷

فناوری‌های نوین زیستی



آیا تاکنون دربارهٔ تولید پلاستیک‌های قابل تجزیهٔ زیستی شنیده‌اید؟ با توجه به اهمیت محیط زیست و حفظ آن، تولید و استفاده از چنین پلاستیک‌هایی راهکار مناسبی برای پیشگیری از مصرف بی‌رویهٔ پلاستیک‌های غیرقابل تجزیه است. امروزه به کمک روش‌های زیست فناوری، تولید پلاستیک‌های قابل تجزیه با صرف هزینهٔ کمتر ممکن شده است. این کار با وارد کردن ژن‌های تولیدکنندهٔ بسیاری از این نوع مواد از باکتری به گیاه امکان‌پذیر است.

جاخالی تألیفی

چگونه می‌توان از فناوری‌های زیستی برای بهبود زندگی انسان و حفظ محیط زیست استفاده کرد؟

آیا می‌توان با استفاده از آنها همهٔ مشکلات بشر را حل کرد؟

انسان از نظر اخلاقی تا چه حد می‌تواند این فناوری‌ها را به خدمت بگیرد؟

در این فصل با این فناوری‌ها آشنا می‌شویم و می‌توانیم در آخر، به بخشی از پرسش‌های مطرح شده

در مورد این فناوری‌ها پاسخ دهیم.

همان طور که می دانیم جهش در یک ژن و در نتیجه، تغییر در محصول آن می تواند به بروز بیماری منجر شود. اختلال در عملکرد و مقدار عوامل مؤثر در انعقاد خون از این دسته هستند. با توجه به افزایش افراد نیازمند به این ترکیبات، تأمین نیاز دارویی آنها با مشکل مواجه می شود.

امروزه استفاده از روش های زیست فناوری^۱ و مهندسی ژنتیک^۲ تحولات مهمی در زمینه تولید چنین فرآورده هایی فراهم آورده است. تا چندی پیش، انتقال ژن های انسان به داخل یاخته های سایر موجودات زنده و یا استفاده از باکتری ها برای ساختن پروتئین های انسانی غیر قابل تصور بود اما اکنون روش های لازم برای تحقق آن توسعه یافته و کاربرد فراوانی پیدا کرده است. آیا می دانید چگونه می توان از باکتری برای ساختن یک پروتئین انسانی استفاده کرد؟ فرض کنید می خواهیم باکتری را برای ساختن هورمون رشد انسانی تغییر دهیم، پس ضرورت دارد تمام احتیاجات این فرایند را در یاخته باکتری فراهم کنیم. در ادامه مطلب با مراحل این روش آشنا خواهیم شد.

زیست فناوری چیست؟

به طور کلی به هرگونه فعالیت هوشمندانه آدمی در تولید و بهبود محصولات گوناگون با استفاده از موجود زنده، **زیست فناوری** گویند. ^{تالیفی: زیست فناوری چیست؟}

زیست فناوری قلمروی بسیار گسترده دارد و روش هایی مانند مهندسی ژنتیک، مهندسی پروتئین و بافت را در بر می گیرد. زیست فناوری از گرایش های علمی متعددی مانند علوم زیستی، فیزیک، ریاضیات و علوم مهندسی بهره می برد. کاربردهای فراوان زیست فناوری، آن را به عنوان نشانه پیشرفت کشورها در قرن حاضر و به یکی از ابزارهای مهم برای تأمین نیازهای متنوع تبدیل کرده است.

تاریخچه زیست فناوری

تولید موادی مانند پادزیست ها، آنزیم ها و مواد غذایی در کدام دوره زیست فناوری ممکن شد؟ (شهریور ۹۸)

برای زیست فناوری، که از سال های بسیار دور آغاز شده است، سه دوره در نظر می گیرند:

زیست فناوری سنتی: تولید محصولات تخمیری مانند سرکه، نان و فرآورده های لبنی با استفاده از فرایندهای زیستی مربوط به این دوره است.

زیست فناوری کلاسیک: با استفاده از روش های تخمیر و کشت ریز جانداران (میکروارگانیسم ها) تولید موادی مانند پادزیست ها، آنزیم ها و مواد غذایی در این دوره ممکن شد.

زیست فناوری نوین: این دوره با انتقال ژن از یک ریز جاندار به ریز جاندار دیگر آغاز شد. دانشمندان توانستند با تغییر و اصلاح خصوصیات ریز جانداران، ترکیبات جدید را با مقادیر بیشتر و کارایی بالاتر تولید کنند.

در کدام دوره، آدمی قادر به تولید یکی از کارآمدترین مواد دفاعی در برابر باکتری شد؟ (دی ۱۴۰۱)

دانشمندان در دوره زیست فناوری نوین، با انتقال ژن میان ریزجانداران، به چه اهدافی رسیده اند؟ (دی ۹۹)

۱- Biotechnology
۲- Genetic Engineering

بیشتر بدانید

تاکنون تعاریف متعددی برای زیست فناوری ارائه شده است که علت آن را باید در ماهیت زیست فناوری جست و جو کرد. فرهنگستان علوم جمهوری اسلامی ایران زیست فناوری را چنین تعریف می کند: «تولید فرآورده ها از طریق فرایند زیستی که مستلزم فنون مهندسی است».

بیشتر بدانید

شاخه های زیست فناوری

امروزه متخصصان، این رشته را به شاخه های مختلفی از قبیل کشاورزی، پزشکی، دارویی، دامی، میکروبی، قضایی یا پزشکی قانونی، غذایی، صنعتی و... تقسیم بندی کرده اند.

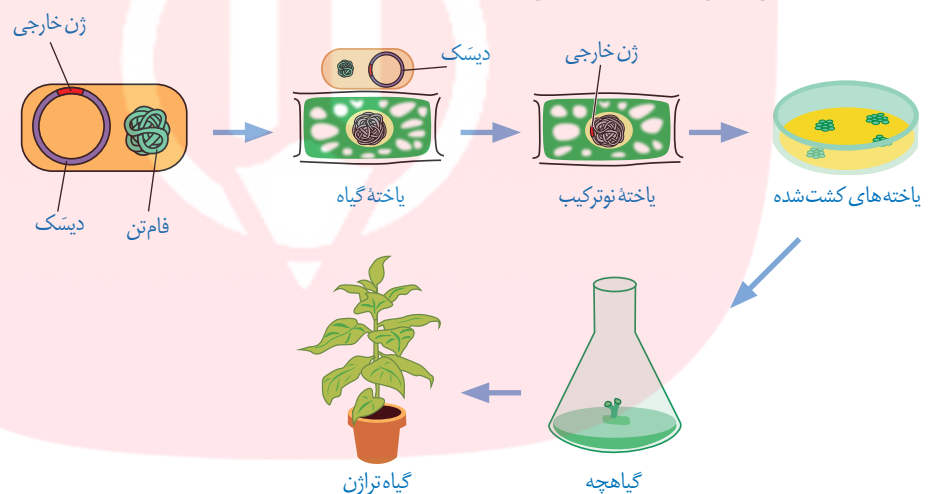
در برخی تقسیم بندی ها به شاخه های زیست فناوری رنگ اختصاص داده اند که عبارتند از:

- سبز: زیست فناوری کشاورزی؛ بهره برداری از گیاهان دست ورزی شده ژنتیکی
- قرمز: زیست فناوری پزشکی؛ بهره برداری از یاخته های دست ورزی شده برای درمان، تولید دارو و مسائل قضایی و پزشکی قانونی
- خاکستری: زیست فناوری محیط زیست؛ جلوگیری و رفع مشکلات محیط زیست
- سفید: زیست فناوری صنعتی؛ استفاده از موجودات زنده در مسائل صنعتی مثلاً ساخت مواد شیمیایی
- آبی: زیست فناوری دریایی؛ بهره وری از فرایندهای دریایی و موجودات آبی

مهندسی ژنتیک

یکی از روش‌های مؤثر در زیست فناوری نوین، مهندسی ژنتیک است. در مهندسی ژنتیک قطعه‌ای از دنا یا یک یاخته توسط ناقل به یاخته‌ای دیگر انتقال می‌یابد. در این حالت، یاخته دریافت‌کننده قطعه دنا دچار دست‌ورزی ژنتیکی و دارای صفت جدید می‌شود. به جاندارایی که از طریق مهندسی ژنتیک دارای ترکیب جدیدی از مواد ژنتیکی شده است، جاندار **تغییر یافته ژنتیکی**^۱ یا **تراژنی**^۲ می‌گویند. گرچه این روش ابتدا با باکتری‌ها شروع شد؛ اما پیشرفت‌های بعدی، امکان دست‌ورزی ژنتیکی برای سایر موجودات زنده مثل گیاهان و جانوران را نیز فراهم کرد. مثلاً مراحل ایجاد گیاهان زراعی تراژنی از طریق مهندسی ژنتیک را می‌توان به صورت زیر خلاصه کرد:

۱- تعیین صفت یا صفات مطلوب ۲- استخراج ژن یا ژن‌های صفت مورد نظر ۳- آماده‌سازی و انتقال ژن به گیاه ۴- تولید گیاه تراژنی ۵- بررسی دقیق ایمنی زیستی و اثبات بی‌خطر بودن برای سلامت انسان و محیط زیست ۶- تکثیر و کشت گیاه تراژنی با رعایت اصول ایمنی زیستی. شکل ۱ بعضی از این مراحل را نشان می‌دهد.



شکل ۱- تولید یک گیاه تراژنی

مراحل مهندسی ژنتیک

سؤال جاخالی (شهریور ۱۴۰۰)

یکی از اهداف مهندسی ژنتیک تولید انبوه ژن و فرآورده‌های آن است. تولید انبوه ژن با همسانه‌سازی دنا^۳

انجام می‌شود. جداسازی یک یا چند ژن و تکثیر آنها را همسانه‌سازی دنا^۴ می‌گویند. در همسانه‌سازی دنا^۳ همسانه‌سازی دنا را تعریف کنید؟ (شهریور ۱۴۰۰)

ماده وراثتی با ابزارهای مختلفی در خارج از یاخته تهیه و به وسیله یک ناقل همسانه‌سازی^۴ به درون ژنوم میزبان منتقل می‌شود. هدف از این کار تولید مقادیر زیادی از دنا خالص است که می‌تواند برای دست‌ورزی، تولید یک ماده بخصوص و یا مطالعه مورد استفاده قرار گیرد.

برای این منظور مراحل زیر انجام می‌شود:

جداسازی قطعه‌ای از دنا: این کار به وسیله آنزیم‌های برش دهنده^۵ انجام می‌شود. این آنزیم‌ها

در باکتری‌ها وجود دارند و قسمتی از سامانه دفاعی آنها محسوب می‌شوند. اولین مرحله از همسانه‌سازی

۱- Genetically Modified Organism

۲- Transgenic Organism

۳- DNA Cloning

۴- Cloning Vector

۵- Restriction Enzyme

سؤال جاخالی (خرداد ۱۴۰۱)

توالی جایگاه تشخیص آنزیم EcoRI دارای چند نوکلئوتید است؟ (خرداد ۱۴۰۱)

که جداسازی ژن‌ها است، به وسیله این آنزیم‌ها انجام می‌شود. این آنزیم‌ها توالی‌های نوکلئوتیدی خاصی را در دنا تشخیص و برش می‌دهند. مثلاً آنزیم EcoRI توالی شش جفت نوکلئوتیدی GAATTC/CTTAAG را شناسایی و برش می‌دهد. به این توالی **جایگاه تشخیص آنزیم** گفته می‌شود (شکل ۲).

همان‌طور که در شکل می‌بینید در جایگاه تشخیص آنزیم EcoRI، توالی نوکلئوتیدی هر دو رشته دنا از دو سمت مخالف یکسان خوانده می‌شود. این آنزیم پیوند فسفودی استر بین نوکلئوتید **گوانین دار و آدنین دار** هر دو رشته را برش می‌زند. در نتیجه، انتهایی از مولکول دنا ایجاد می‌شود که یک رشته آن بلندتر از رشته مقابل است و به آن **انتهای چسبنده** می‌گویند. برای تشکیل چنین انتهایی از مولکول دنا، علاوه بر پیوندهای فسفودی استر، پیوندهای هیدروژنی بین دو رشته دنا در منطقه تشخیص نیز شکسته می‌شوند. استفاده از آنزیم‌های برش دهنده، دنا را به قطعات کوتاه‌تری تبدیل می‌کند. این قطعات را با روش‌های خاصی جدا می‌کنند و تشخیص می‌دهند.

اتصال قطعه دنا به ناقل و تشکیل دنا نوترکیب: مرحله

بعدی، اتصال قطعه دنا جداسازی شده به ناقل همسانه‌سازی است. این ناقلین، توالی‌های دنا هستند که در خارج از فام‌تن اصلی قرار دارند و می‌توانند مستقل از آن تکثیر شوند. یکی از این مولکول‌ها دیسک حلقوی باکتری است. این نوع دیسک یک مولکول دنا دورشته‌ای و خارج فام‌تنی است که معمولاً درون باکتری‌ها و بعضی قارچ‌ها مثل مخمرها وجود دارد و می‌تواند مستقل از ژنوم میزبان همانندسازی کند. دیسک‌ها را فام‌تن‌های کمکی نیز می‌نامند چون حاوی ژن‌هایی هستند که در فام‌تن اصلی باکتری وجود ندارند. مثلاً ژن مقاومت به پادزیست در دیسک قرار دارد. در صورت انتقال قطعه دنا مورد نظر به دیسک و ورود آن به یاخته میزبان، با هر بار همانندسازی دیسک، دنا مورد نظر نیز همانندسازی می‌شود. بهتر است از دیسکی استفاده شود که فقط یک جایگاه تشخیص برای آنزیم

برش دهنده داشته باشد. به نظر شما چرا؟

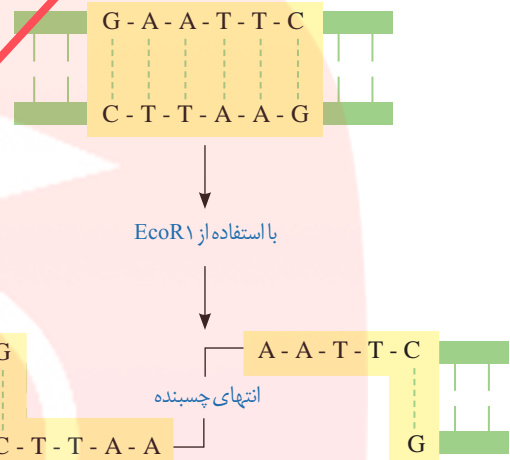
شکل ۳ طرح ساده‌ای از دیسک دارای یک جایگاه تشخیص آنزیم EcoRI را نشان می‌دهد، بسیاری از دیسک‌ها دارای ژن‌های مقاومت به پادزیست‌ها هستند. چنین ژن‌هایی به باکتری این توانایی را می‌دهند که پادزیست‌ها را به موادی غیرکشنده و قابل استفاده برای

۱- Recombinant DNA

ژن‌های مقاومت به پادزیست در پلازمیدها چه توانایی به باکتری می‌دهند؟ (شهریور ۱۴۰۰)

سؤال جاخالی (دی ۱۴۰۰)

جایگاه تشخیص آنزیم

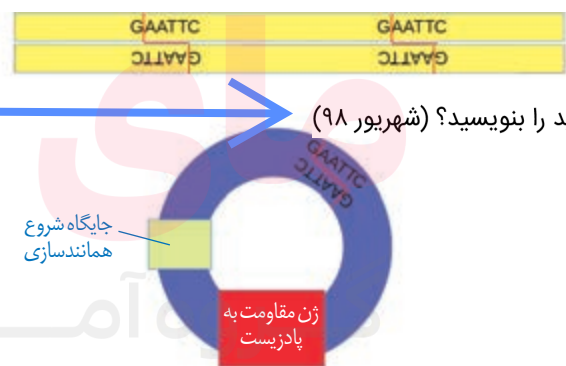


شکل ۲- برش مولکول دنا توسط آنزیم EcoRI هنگام برش دنا توسط آنزیم EcoRI، پیوند فسفودی استر

بین کدام نوکلئوتیدها شکسته می‌شود؟ (خرداد ۱۴۰۰)

در مهندسی ژنتیک، برای تشکیل انتهایی چسبنده

چه پیوندهایی شکسته می‌شوند؟ (دی ۹۸)



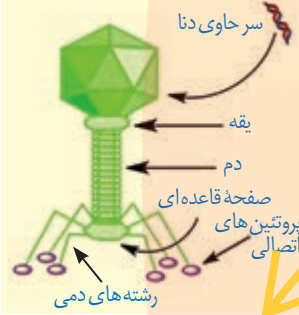
شکل ۳- طرح ساده‌ای از دیسک و یک ژن خارجی

اتصال قطعه دنا به پلازمید بهتر است از چه دیسکی استفاده شود؟ (خرداد ۱۴۰۱)

در مهندسی ژنتیک، آنزیم لیگاز در مرحله جداسازی یاخته‌های تراژنی بکار می‌رود (ص/غ)؟ (دی ۱۴۰۰)

بیشتر بدانید

باکتری خوارها (باکتریوفاژها) ویروس‌های معمولاً دنا دار هستند که به باکتری‌ها حمله می‌کنند و آنها را از بین می‌برند. نوکلئیک اسید این فاژها از دیسک بزرگ‌تر است. مزیت دنا‌ی فاژها به عنوان ناقل همسانه‌سازی در این است که می‌توان قطعات دنا‌ی بزرگ‌تری را در آنها جاسازی کرد.



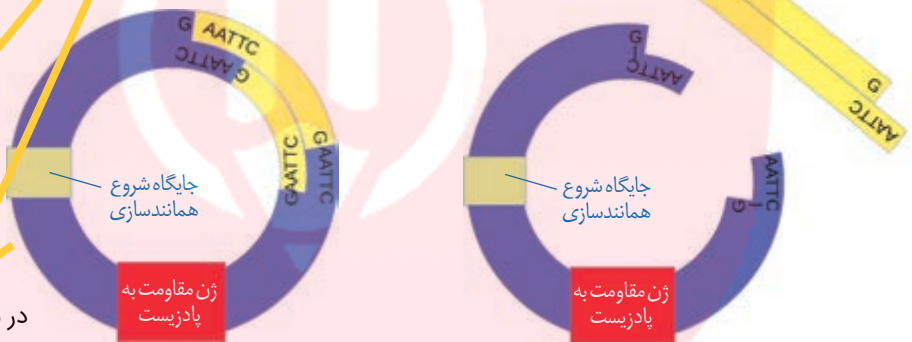
اجزای دنا‌ی نوترکیب را بنویسید؟ (خرداد ۹۹)

خود تبدیل کنند. این ویژگی در مهندسی ژنتیک اهمیت زیادی دارد که در مباحث بعد به آن می‌پردازیم. در ساخت یک دنا‌ی نوترکیب، قطعه دنا‌ی حاوی توالی مورد نظر در دنا‌ی ناقل جاسازی می‌شود. دانستید که برای جداسازی قطعه دنا‌ی مورد نظر از نوعی آنزیم برش دهنده استفاده می‌شود. وجه داشته باشید آنزیم مورد استفاده برای برش دادن دیسک، باید همان آنزیمی باشد که در جداسازی دنا‌ی مورد نظر استفاده شده است. چرا؟ نقش آنزیم لیگاز در مرحله تشکیل دنا‌ی نوترکیب چیست؟ (شهریور ۹۹)

برش دیسک با آنزیم، آن را به یک قطعه دنا‌ی خطی تبدیل می‌کند که دارای دو انتهای چسبنده است. همچنین قطعه دنا‌ی خارجی نیز دو انتهای چسبنده دارد. برای اتصال دنا‌ی مورد نظر به دیسک از آنزیم لیگاز (اتصال دهنده) استفاده می‌شود. این آنزیم پیوند فسفودی استر بین دو انتهای مکمل را ایجاد می‌کند. به مجموعه دنا‌ی ناقل و ژن جاگذاری شده در آن، دنا‌ی نوترکیب گفته می‌شود (شکل ۴).

برای اتصال دنا‌ی مورد نظر (ژن خارجی) به دیسک از چه آنزیمی استفاده می‌شود؟ (خرداد ۱۴۰۰)

دنا‌ی نوترکیب را تعریف کنید؟ (شهریور ۱۴۰۰)



(الف)

(ب)

شکل ۴- تشکیل دنا‌ی نوترکیب: الف) قبل از تأثیر لیگاز و ب) بعد از تأثیر لیگاز

در مهندسی ژنتیک به مجموعه دنا‌ی ناقل و ژن

جاگذاری شده در آن چه می‌گویند؟ (شهریور ۹۸)

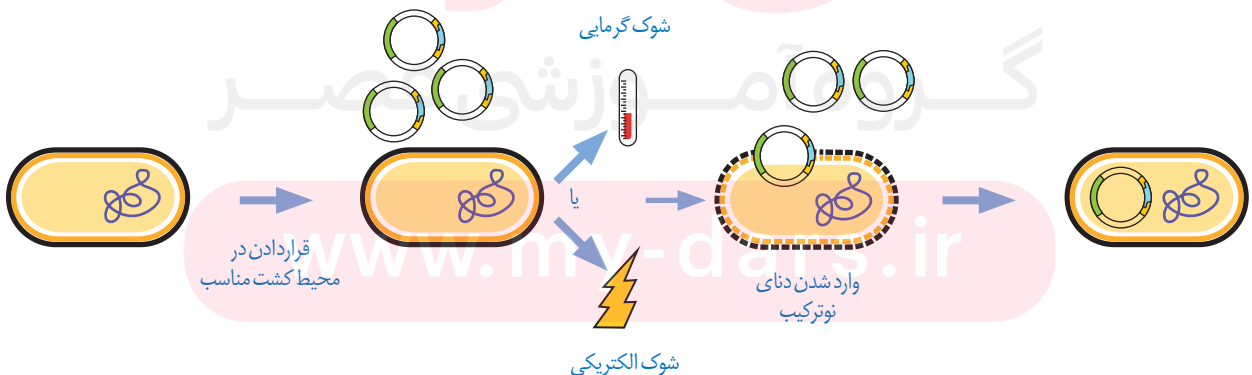
وارد کردن دنا‌ی نوترکیب به یاخته میزبان: در این مرحله، دنا‌ی نوترکیب را به درون یاخته میزبان

مثلاً باکتری منتقل می‌کنند (شکل ۵). به این منظور باید در دیواره باکتری منافذی ایجاد شود. این منافذ

را می‌توان با کمک شوک الکتریکی و یا شوک حرارتی همراه با مواد شیمیایی ایجاد کرد.

بر طبق اطلاعات به دست آمده، مشخص شده همه باکتری‌ها دنا‌ی نوترکیب را دریافت نمی‌کنند.

بنابراین لازم است باکتری دریافت کننده دیسک از باکتری فاقد آن تفکیک شود.



شکل ۵- وارد کردن دنا‌ی نوترکیب به یاخته میزبان

در کدام مرحله مهندسی ژنتیک از آنتی‌بیوتیک استفاده می‌شود؟ (دی ۹۸)

جداسازی یاخته‌های تراژنی: برای انجام این مرحله، از روش‌های متفاوتی می‌توان استفاده کرد.

یکی از این روش‌ها استفاده از دیسکی است که دارای ژن مقاومت به پادزیستی مثل آمپی‌سیلین است.

اگر باکتری، دناى نوترکیب را دریافت کرده باشد، در محیط حاوی پادزیست رشد می‌کند. باکتری‌های

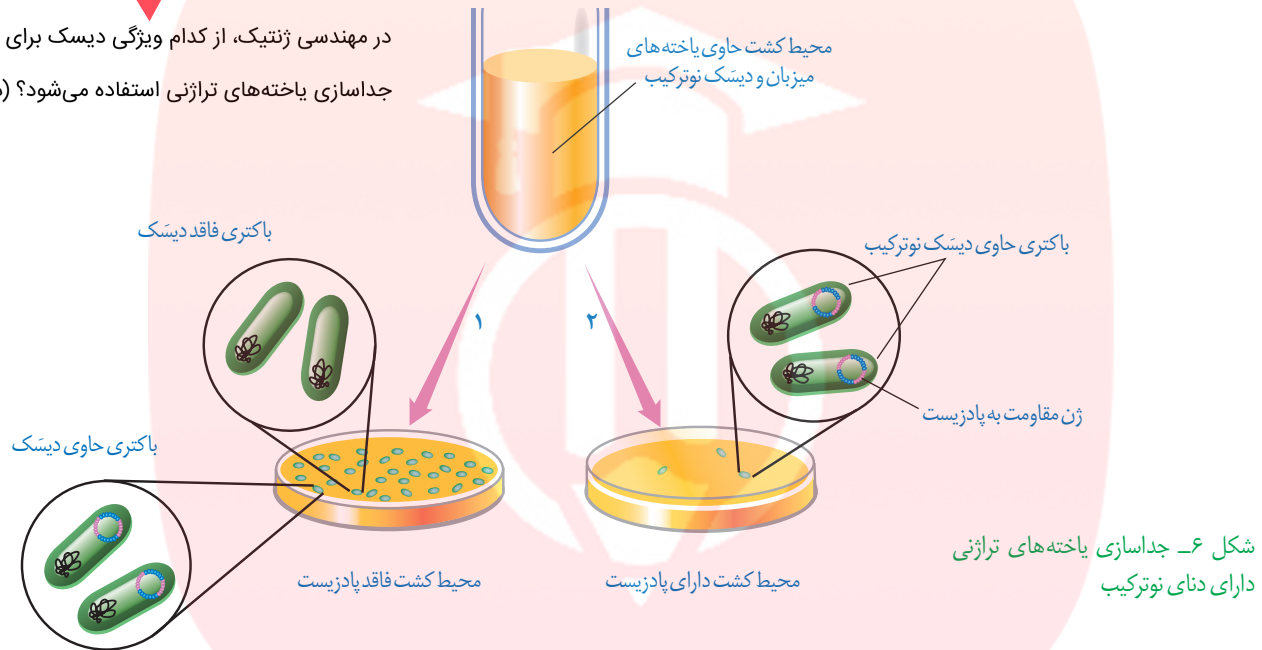
فاقد دناى نوترکیب به دلیل حساسیت به پادزیست در چنین محیطی از بین می‌روند (شکل ۶).

در مهندسی ژنتیک، چرا باکتری‌های فاقد دناى نوترکیب

در محیط حاوی پادزیست از بین می‌روند؟ (دی ۹۹)

در مهندسی ژنتیک، از کدام ویژگی دیسک برای

جداسازی یاخته‌های تراژنی استفاده می‌شود؟ (دی ۱۴۰۱)



شکل ۶- جداسازی یاخته‌های تراژنی دارای دناى نوترکیب

در شرایط مناسب، باکتری‌های تراژنی با سرعت بالایی تکثیر می‌شوند. همچنین از دناهای نوترکیب

نیز به صورت مستقل از فام‌تن اصلی یاخته، نسخه‌های متعددی ساخته می‌شود که در نتیجه آن دناى

خارجی به سرعت تکثیر می‌شود. بنابراین، تعداد زیادی باکتری دارای دناى خارجی آماده خواهد شد که

می‌توان از آنها برای تولید فراورده یا استخراج ژن استفاده کرد.

از باکتری‌هایی که دارای دناى خارجی هستند،

چه استفاده‌ای می‌شود؟ (خرداد ۱۴۰۰)

امروزه با پیشرفت روش‌های مهندسی ژنتیک می‌توان یاخته‌های دیگری مثل مخمرها، یاخته‌های

گیاهی و حتی جانوری را با این فرایند تغییر داد. دناها و سایر مولکول‌های حاصل از دناهای تولید شده

برای اهداف گوناگون علمی و کاربردی استفاده می‌شوند. در گفتارهای بعدی این فصل به برخی از این

موارد اشاره شده است.

سؤال تطبیق جدولی؛ تعیین کنید هر یک از موارد، با کمک چه چیزی انجام می‌شود؟

ایجاد منافذی در دیواره باکتری: با کمک شوک الکتریکی

انتقال دناى مدنظر به پلازمید: با کمک آنزیم لیگاز

جداسازی یاخته‌های تراژنی: با کمک آمپی‌سیلین

ایجاد انتهای چسبنده: با کمک آنزیم EcoRI

روش های جدید امکان ایجاد تغییرات دلخواه در توالی آمینواسیدهای یک پروتئین را فراهم کرده است که می توان از آنها به منظور تغییر در ویژگی های یک پروتئین و بهبود عملکرد آن بهره مند شد. انجام چنین تغییراتی که به آن **مهندسی پروتئین** گفته می شود، نیازمند شناخت کامل ساختار و عملکرد آن پروتئین است. این تغییرات می تواند جزئی یا کلی باشد. **تألیفی: مهندسی پروتئین چیست؟**

تغییر جزئی شامل تغییر در رمز یک یا چند آمینواسید در مقایسه با پروتئین طبیعی است. تغییرات عمده، گسترده تر است و می تواند شامل برداشتن قسمتی از ژن یک پروتئین تا ترکیب بخش هایی از ژن های مربوط به پروتئین های متفاوت باشد. **تألیفی: تغییرات جزئی و عمده در مهندسی پروتئین را مقایسه کنید؟**

می دانیم تغییر در توالی آمینواسیدها ممکن است باعث تغییر در شکل فضایی مولکول پروتئین و در نتیجه تغییر در عمل آن شود. چنین پروتئین های تغییر یافته ای با اهداف مختلف، مثلاً درمانی و تحقیقاتی ساخته می شوند. **تألیفی: چند نمونه از تغییرات و اصلاحات مفید در فرایند مهندسی پروتئین را ذکر کنید؟**

از تغییرات و اصلاحات مفید در فرایند مهندسی پروتئین ها می توان به افزایش پایداری پروتئین در مقابل گرما و تغییر pH، افزایش حداکثری سرعت واکنش و تمایل آنزیم برای اتصال به پیش ماده اشاره کرد.

افزایش پایداری پروتئین ها

امروزه با دستیابی به روش های مهندسی پروتئین می توان پایداری آنها را در مقابل گرما افزایش داد. این موضوع اهمیت زیادی دارد زیرا در دمای بالاتر سرعت واکنش بیشتر و خطر آلودگی میکروبی در محیط واکنش کمتر می شود. همچنین، نیازی به خنک کردن محیط واکنش به خصوص در مورد واکنش های گرمازا نیست. در ادامه مثال هایی از افزایش پایداری پروتئین ها، ارائه می دهیم.

آمیلازها: این آنزیم ها که از آنزیم های پرکاربرد در صنعت هستند مولکول های نشاسته را به قطعات کوچک تری تجزیه می کنند. آمیلازها در بخش های مختلف صنعتی مانند صنایع غذایی، نساجی و تولید شوینده ها کاربرد دارند. بسیاری از مراحل تولید صنعتی در دماهای بالا انجام می شود. بنابراین، استفاده از آمیلاز پایدار در برابر گرما ضرورت دارد. امروزه به کمک روش های زیست فناوری طراحی و تولید آمیلازهای مقاوم به گرما ممکن شده است. استفاده از این مولکول ها باعث کاهش زمان واکنش، صرفه جویی اقتصادی و در نتیجه افزایش بهره وری صنعتی می شود. مشاهده شده است که در طبیعت نیز آمیلاز مقاوم به گرما وجود دارد. مثلاً باکتری های گرمادوست در چشمه های آب گرم دارای آمیلازهایی هستند که پایداری بیشتری در مقابل گرما دارند.

اینترفرون: به یاد دارید که اینترفرون از پروتئین های دستگاه ایمنی است. وقتی این پروتئین با روش مهندسی ژنتیک ساخته می شود، فعالیتی بسیار کمتر از اینترفرون طبیعی دارد. علت این کاهش فعالیت، تشکیل پیوندهای نادرست در هنگام ساخته شدن آن در باکتری است. پیوندهای نادرست باعث تغییر در شکل مولکول و در نتیجه کاهش فعالیت آن می شوند. به کمک فرایند مهندسی پروتئین و تغییر جزئی در رمز آمینواسید، توالی آمینواسیدهای اینترفرون طوری تغییر می یابد که به جای یکی از آمینواسیدهای آن آمینواسید دیگری قرار می گیرد. این تغییر، فعالیت ضد ویروسی اینترفرون ساخته شده

چرا اینترفرون ساخته شده با روش مهندسی ژنتیک، فعالیتی بسیار کمتر از اینترفرون طبیعی دارد؟ (دی ۱۴۰۰)

چگونه می‌توان فعالیت ضدویروسی اینترفرون ساخته شده به کمک مهندسی ژنتیک را به اندازه پروتئین طبیعی افزایش داد؟ (خرداد ۱۴۰۱)

را به اندازه پروتئین طبیعی افزایش می‌دهد و همچنین آن را پایدارتر می‌کند. افزایش پایداری در نگهداری طولانی مدت پروتئین‌هایی که به عنوان دارو استفاده می‌شوند، اهمیت زیادی دارد.

پلاسمین: می‌دانیم تشکیل لخته، یک فرایند زیستی مهم است که از ادامه خونریزی جلوگیری می‌کند، اما تشکیل لخته در سرخرگ‌های شش، مغز و ماهیچه قلب به ترتیب منجر به بسته شدن رگ‌های شش، سکتة مغزی و قلبی می‌شود که بسیار خطرناک است و می‌تواند باعث مرگ شود. **لخته‌ها به‌طور طبیعی در بدن توسط آنزیم پلاسمین تجزیه می‌شوند. پلاسمین کاربرد درمانی دارد، اما مدت اثر آن در پلاسمای خیلی کوتاه است. جانشینی یک آمینواسید پلاسمین با آمینواسید دیگری در توالی، باعث می‌شود که مدت زمان فعالیت پلاسمایی و اثرات درمانی آن بیشتر شود.**

لخته‌ها در بدن به‌طور طبیعی توسط کدام آنزیم تجزیه می‌شوند؟ (دی ۱۴۰۰)

چگونه می‌توان با مهندسی پروتئین، مدت زمان فعالیت پلاسمایی و اثرات درمانی پلاسمین را بیشتر کرد؟ (شهریور ۹۸)

مهندسی بافت

از دست رفتن بافت به دلیل آسیب یا بیماری، زندگی را دشوار و هزینه بالایی اقتصادی و اجتماعی را بر فرد بیمار و خانواده او تحمیل می‌کند. فرض می‌کنیم که به علت سوختگی وسیع نیاز به پیوند پوست وجود داشته باشد. چنانچه اهداکننده پوست مناسب وجود نداشته باشد و یا به علت وسعت سوختگی، برداشت پوست از بدن بیمار ممکن نباشد، بهترین راه، کشت بافت و پیوند پوست است. ثابت شده است که در پوست یاخته‌هایی وجود دارد که توانایی تکثیر زیاد و تمایز به انواع یاخته‌های پوست را دارند. امروزه در **مهندسی بافت** از این یاخته‌ها، به‌طور موفقیت‌آمیزی استفاده می‌شود.

متخصصان مهندسی بافت، در زمینه تولید و پیوند اعضا نیز فعالیت می‌کنند. برای نمونه، جراحان بازسازی کننده چهره می‌توانند به کمک روش‌های مهندسی از بافت غضروف برای بازسازی لاله گوش و بینی استفاده کنند. در این روش، یاخته‌های غضروفی را در محیط کشت روی داربست مناسب تکثیر و غضروف جدید را برای بازسازی اندام آسیب دیده تولید می‌کنند (شکل ۷).

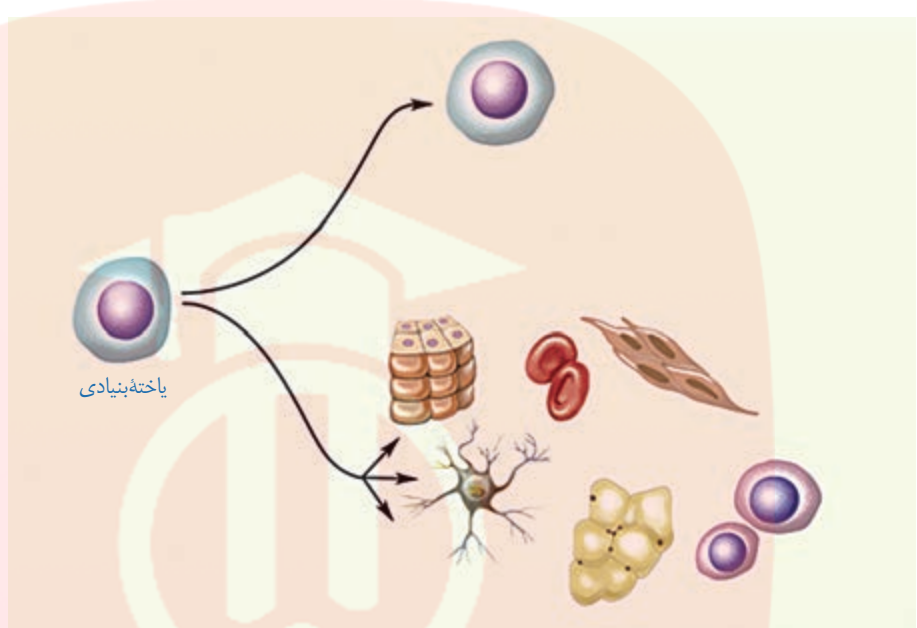
تألیفی: چگونه با استفاده از مهندسی بافت، بازسازی لاله گوش و بینی ممکن است؟



شکل ۷- مهندسی بافت غضروف گوش انسان: عکس گوش طبیعی (چپ) تصویر رقمی (دیجیتالی) (وسط) و غضروف گوش ساخته شده با روش مهندسی بافت بعد از دو هفته (راست)

یاخته‌های بنیادی و مهندسی بافت: یاخته‌های تمایز یافته‌ای مانند یاخته‌های ماهیچه‌ای در محیط کشت به مقدار کم تکثیر می‌شوند و یا اصلاً تکثیر نمی‌شوند. به همین دلیل، در چنین مواردی از منابع یاخته‌ای که سریع تکثیر می‌شوند مثل یاخته‌های بنیادی جنینی یا یاخته‌های بنیادی بالغ استفاده می‌کنند. یاخته‌های بنیادی جنینی، همان توده یاخته‌ای درونی هستند. یاخته‌های بنیادی بالغ در

بافت‌ها یافت می‌شوند. یاخته‌های بنیادی می‌توانند تکثیر و به انواع متفاوت یاخته تبدیل شوند (شکل ۸).



شکل ۸- یاخته‌های بنیادی توانایی تکثیر و به‌وجود آوردن یاخته‌های مشابه خود؛ و نیز توانایی تبدیل شدن به سایر یاخته‌ها را دارند.

یاخته‌های بنیادی بالغ: در بافت‌های مختلف بدن یاخته‌های بنیادی وجود دارند که در محیط

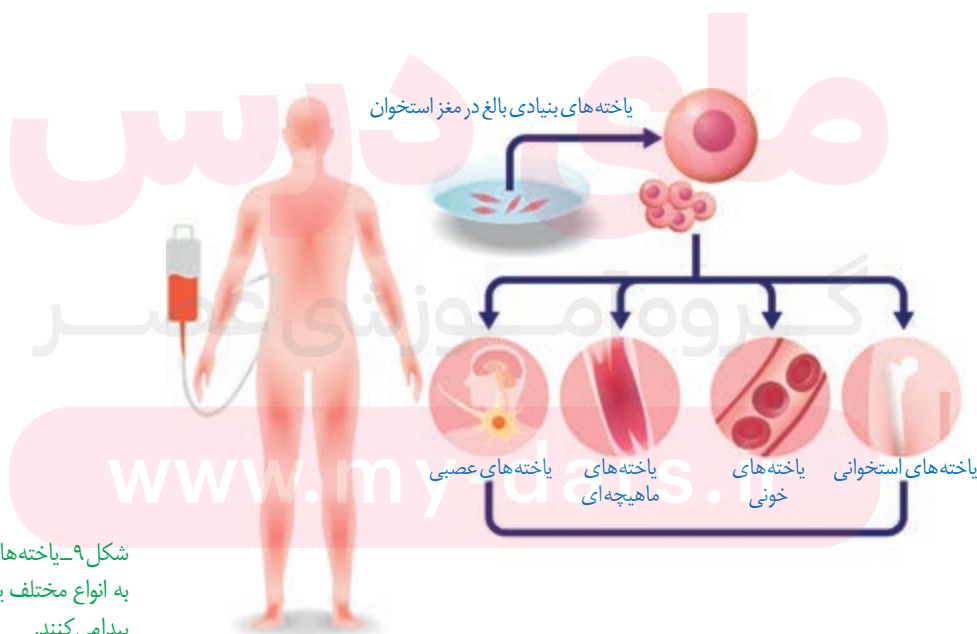
کشت تکثیر می‌شوند. به‌عنوان مثال یاخته‌های بنیادی کبد می‌توانند تکثیر شوند و به یاخته کبدی یا یاخته مجرای صفراوی تمایز پیدا کنند.

با دو نوع از یاخته‌های بنیادی مغز استخوان قبلاً آشنا شده‌اید. آیا آنها را به یاد دارید؟ انواع دیگری از

یاخته‌های بنیادی در مغز استخوان وجود دارند که می‌توانند به رگ‌های خونی، ماهیچه اسکلتی و قلبی تمایز پیدا کنند. این یاخته‌ها از فرد بالغ برداشته و کشت داده می‌شوند (شکل ۹).

یاخته‌های بنیادی کبدی می‌توانند تکثیر شوند و به یاخته‌های کبدی یا مجرای صفراوی تمایز پیدا کنند (ص/غ). (دی ۹۸)

یاخته‌های بنیادی بالغ در کدام بخش از بدن می‌توانند در محیط کشت به رگ‌های خونی تمایز پیدا کنند؟ (خرداد ۹۸)



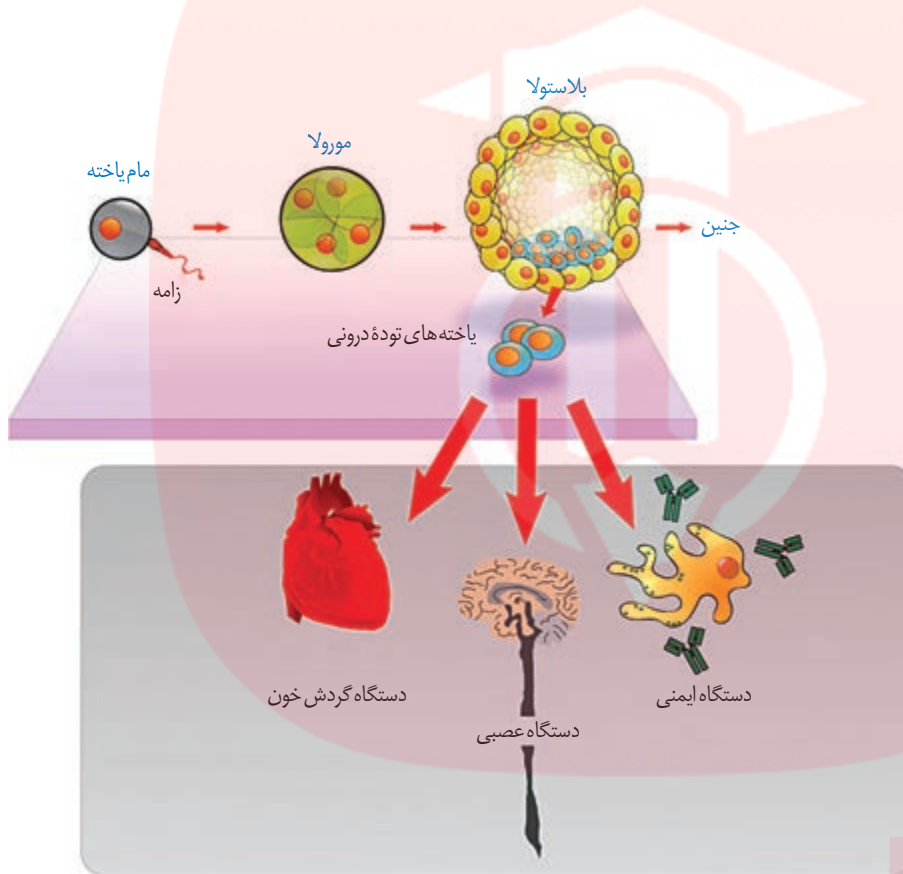
شکل ۹- یاخته‌های بنیادی مغز استخوان به انواع مختلف یاخته‌ها و بافت‌ها تمایز پیدامی‌کنند.

تألیفی: یاخته‌های بنیادی جنینی، فقط در صورتی که در مراحل اولیهٔ جنینی جداسازی شوند،

می‌توانند یک جنین کامل را تشکیل دهند (ص/غ)

یاخته‌های بنیادی جنینی: چنین یاخته‌هایی نه تنها قادر به تشکیل همه بافت‌های بدن جنین

هستند، بلکه اگر در مراحل اولیهٔ جنینی جداسازی شوند، می‌توانند یک جنین کامل را تشکیل دهند. این یاخته‌ها بعد از جداسازی کشت داده و برای تشکیل بسیاری از انواع یاخته‌ها تحریک می‌شوند (شکل ۱۰). اما تمایز چنین یاخته‌هایی هنوز نمی‌تواند به گونه‌ای تنظیم شود که بتوانند همه انواع یاخته‌هایی را که در بدن جنین تولید می‌کنند در شرایط آزمایشگاهی نیز به وجود بیاورند.



سؤال جاخالی (دی ۹۹)

شکل ۱۰- الف) یاخته‌های بنیادی

مورولا به همه انواع یاخته‌های جنینی

و خارج جنینی (جفت و پرده‌ها) متمایز

می‌شوند.

ب) یاخته‌های بنیادی توده یاخته‌ای

درونی به انواع یاخته‌های بدن جنین

متمایز می‌شوند.

مای درس

گروه آموزشی عصر

www.my-dars.ir

همان طور که در گفتار قبلی دیدید زیست فناوری در زمینه‌های متفاوتی کاربرد دارد. اکنون می‌خواهیم بدانیم چگونه می‌توان از این شاخه علمی برای بهبود کیفیت زندگی انسان و حفظ محیط زیست بهره برد.

کاربرد زیست فناوری در کشاورزی

تحول در کشاورزی نوین توانست افزایش چشمگیری در محصولات کشاورزی مانند گندم، برنج و ذرت ایجاد کند. استفاده از کودها و سموم شیمیایی، کشت انواع محصول، استفاده از ماشین‌ها در کشاورزی و افزایش سطح زیر کشت از نتایج این تحول بود. اما در کنار آن شاهد عواقب زیانباری همچون آلودگی محیط زیست، کاهش تنوع ژنی و تخریب جنگل‌ها و مراتع نیز بوده‌ایم. امروزه نمی‌توان برای افزایش محصولات به هر روشی متوسل شد. بنابراین، شاید فناوری‌های جدید زیستی بتوانند تا حدودی مشکلات بشر را در این زمینه حل کنند.

یکی از کاربردهای زیست فناوری، تولید گیاهان مقاوم در برابر بعضی آفت‌ها هستند. این روش توانسته است مصرف آفت‌کش‌ها را کاهش دهد. به عنوان مثال برخی از باکتری‌های خاکری، پروتئین‌هایی تولید می‌کنند که حشرات مضر برای گیاهان زراعی را می‌کشند. این باکتری‌ها در مرحله‌ای از رشد خود نوعی پروتئین سمی می‌سازند که ابتدا به صورت مولکولی غیرفعال است. این مولکول در بدن حشره فعال شده، حشره را از بین می‌برد. چرا این سم نمی‌تواند خود باکتری را از بین ببرد؟ پیش‌سم غیرفعال، تحت تأثیر آنزیم‌های گوارشی موجود در لوله گوارش حشره شکسته و فعال می‌شود. سم فعال شده باعث تخریب یاخته‌های لوله گوارش و سرانجام مرگ حشره می‌شود.


برای تولید گیاه مقاوم به آفت، ابتدا ژن مربوط به این سم از ژنوم باکتری جداسازی و پس از همسانه‌سازی به گیاه مورد نظر انتقال داده می‌شود. تاکنون با این روش چند نوع گیاه مقاوم مثل ذرت، پنبه و سویا تولید شده‌اند. همان طور که در شکل ۱۱ می‌بینید نوزاد کرمی شکل (لارو) به درون غوزه نارس پنبه نفوذ می‌کند، بنابراین برای از بین بردن این آفت سم پاشی‌های متعدد لازم است، زیرا آفت در معرض سم قرار نمی‌گیرد. از سوی دیگر، استفاده زیاد سم برای محیط زیست مضر است. امروزه با کمک فناوری زیستی و تولید پنبه‌های مقاوم، نیاز به سم‌پاشی مزارع پنبه تا حدود زیادی کاهش پیدا کرده است. حشره در اثر خوردن گیاه مقاوم شده از بین می‌رود و فرصت ورود به درون غوزه را از دست می‌دهد. بنابراین، نیاز به سم‌پاشی مزرعه کاهش می‌یابد.

تألیفی: تحول در کشاورزی نوین چه عواقب مفید و مضرى داشت؟

در تولید پنبه مقاوم به آفت، ژن پروتئین سمی از کدام جانور جداسازی می‌شود؟ (شهریور ۹۹)

تألیفی: نحوه تولید گیاه مقاوم به آفت با کمک زیست فناوری را شرح دهید؟

شکل ۱۱- آلوده شدن غوزه گیاه پنبه به آفت را نشان می‌دهد. گیاه سالم (سمت چپ)، ورود آفت به درون غوزه (وسط) و گیاه آلوده (سمت راست)



تألیفی: چند نمونه از کاربردهای زیست فناوری در کشاورزی را ذکر کنید؟

زیست فناوری علاوه بر تولید گیاهان مقاوم در برابر آفت ها، کاربردهای زیادی در زمینه کشاورزی دارد. اصلاح بذر برای تولید گیاهان مطلوب، تولید گیاهان مقاوم به خشکی و شوری، تنظیم سرعت رسیدن میوه ها و افزایش ارزش غذایی محصولات نیز با انجام روش های مهندسی ژنتیک ممکن شده است. تولید گیاهان زراعی مقاوم به علف کش ها نیز از دیگر دستاوردهای این فناوری است.

کاربرد زیست فناوری در پزشکی

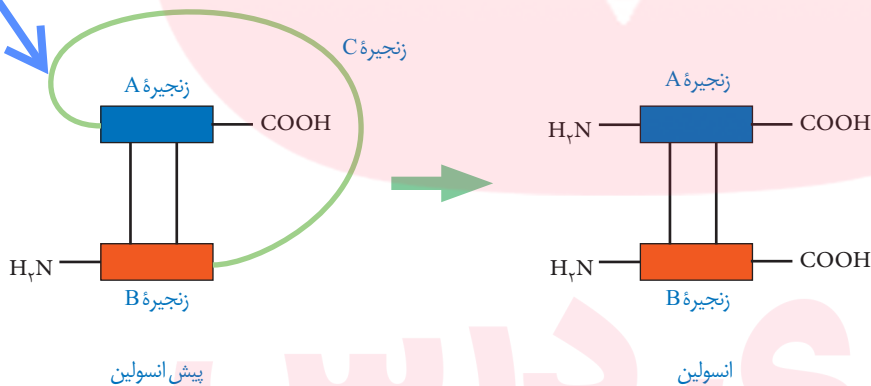
داروهای تولید شده با فناوری دناى نوترکیب نسبت به داروهای مشابهی که از منابع غیرانسانی تهیه می شوند، چه مزیتی دارند؟ (دی ۱۴۰۱)

۱- تولید دارو: فناوری دناى نوترکیب به علت تولید داروهای مطمئن و مؤثر، جایگاه ویژه ای در صنعت داروسازی دارد. این داروها، برخلاف فرآورده های مشابهی که از منابع غیرانسانی تهیه می شوند، پاسخ های ایمنی ایجاد نمی کنند. انسولین یکی از داروهای است که توسط این فناوری تولید می شود. دیابت نوع یک را می توان به وسیله دریافت انسولین کنترل کرد. به نظر شما چگونه می توان نیاز افراد نیازمند به این ماده را تأمین کرد؟ یکی از روش های تهیه انسولین جداسازی و خالص کردن آن از لوزالمعده جانورانی مثل گاو است. روش دیگر، استفاده از مهندسی ژنتیک است.

می دانیم که باکتری در صورت داشتن ژن انسولین انسانی می تواند آن را بسازد. مولکول انسولین فعال، از دو زنجیره کوتاه پلی پپتیدی به نام های A و B تشکیل شده است که به یکدیگر متصل هستند. در پستانداران از جمله انسان انسولین به صورت یک مولکول پیش هورمون ساخته می شود.

سؤال جاخالی (شهریور ۱۴۰۰)

در مولکول پیش انسولین، زنجیره B نسبت به A به سر کربوکسیل نزدیکتر است (ص/غ). (خرداد ۱۴۰۱)



شکل ۱۲- جدا شدن زنجیره C و تبدیل پیش انسولین به انسولین

همان طور که در شکل ۱۲ می بینید، پیش هورمون به صورت یک زنجیره پلی پپتیدی است و با جدا شدن بخشی از توالی به نام زنجیره C به هورمون فعال تبدیل می شود. مهم ترین مرحله در ساخت انسولین به روش مهندسی ژنتیک، تبدیل انسولین غیرفعال به انسولین فعال است، زیرا تبدیل پیش هورمون به هورمون در باکتری انجام نمی شود. در سال ۱۹۸۳ برای اولین بار در توالی دنا به صورت جداگانه برای رمز کردن زنجیره های A و B انسولین تولید و توسط دیسک به نوعی

با جدا شدن کدام زنجیره، پیش انسولین به انسولین تبدیل می شود؟ (دی ۱۴۰۰)

چرا مهم ترین مرحله در ساخت انسولین به روش مهندسی ژنتیک،

تبدیل انسولین غیرفعال به انسولین فعال است؟ (دی ۹۹)

باکتری منتقل شدند. سپس، زنجیره‌های پلی‌پپتیدی ساخته شده جمع‌آوری و در آزمایشگاه به وسیله پیوندهایی به یکدیگر متصل شدند (شکل ۱۳).

تألیفی: با توجه به مراحل ساخت انسولین با کمک مهندسی ژنتیک، چه مرحله‌ای بلافاصله قبل از خالص کردن زنجیره‌ها رخ می‌دهد؟

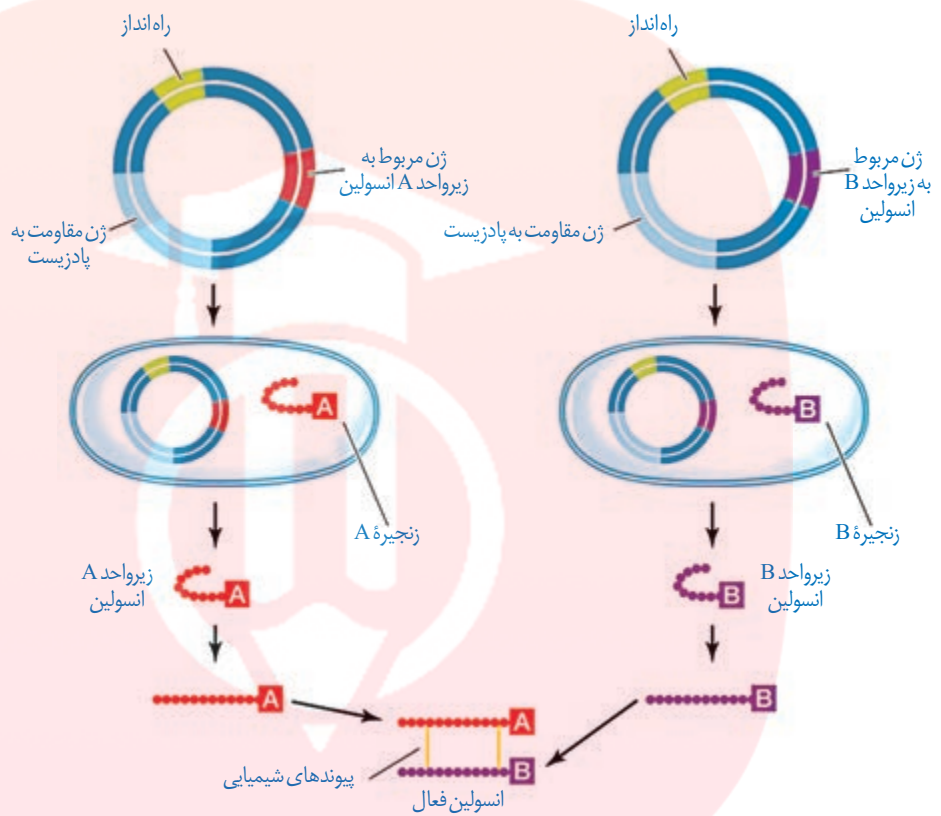
الف) انتقال ژن زنجیره‌های A و B انسولین به‌طور جداگانه به دیسک

ب) انتقال دیسک‌های نو ترکیب به باکتری و انتخاب یاخته‌های دریافت‌کننده به کمک پادزیست

پ) خالص کردن زنجیره‌ها

ت) ترکیب زنجیره‌های A و B برای تولید انسولین فعال

شکل ۱۳- مراحل ساخت انسولین در مهندسی ژنتیک



مزیت واکنش‌های تولید شده با روش مهندسی ژنتیک

نسبت به واکنش‌های تولید شده با روش‌های قبلی چیست؟ (شهریور ۹۸)

۲- تولید واکنش: روش‌های قبلی تولید واکنش شامل ضعیف کردن میکروب‌ها، کشتن آنها و یا غیرفعال کردن سموم خالص شده آنها با روش‌هایی خاص بود. واکنش تولید شده باید بتواند دستگاه ایمنی را برای مقابله با عامل بیماری‌زا تحریک کند، اما منجر به ایجاد بیماری نشود. چنانچه در مراحل تولید واکنش خطایی رخ دهد، احتمال بروز بیماری در اثر مصرف آن وجود دارد. واکنش‌های تولید شده با روش مهندسی ژنتیک چنین خطری ندارند. در این روش، ژن مربوط به پادگین (آنتی‌ژن) سطحی عامل واکنش نو ترکیب ضد هپاتیت B چگونه تولید می‌شود؟ (خرداد ۹۹)

بیماری‌زا به یک باکتری یا ویروس غیربیماری‌زا منتقل می‌شود. واکنش نو ترکیب ضد هپاتیت B با این روش تولید شده است.

سؤال جاخالی (شهریور ۱۴۰۰)

بیشتر بدانید

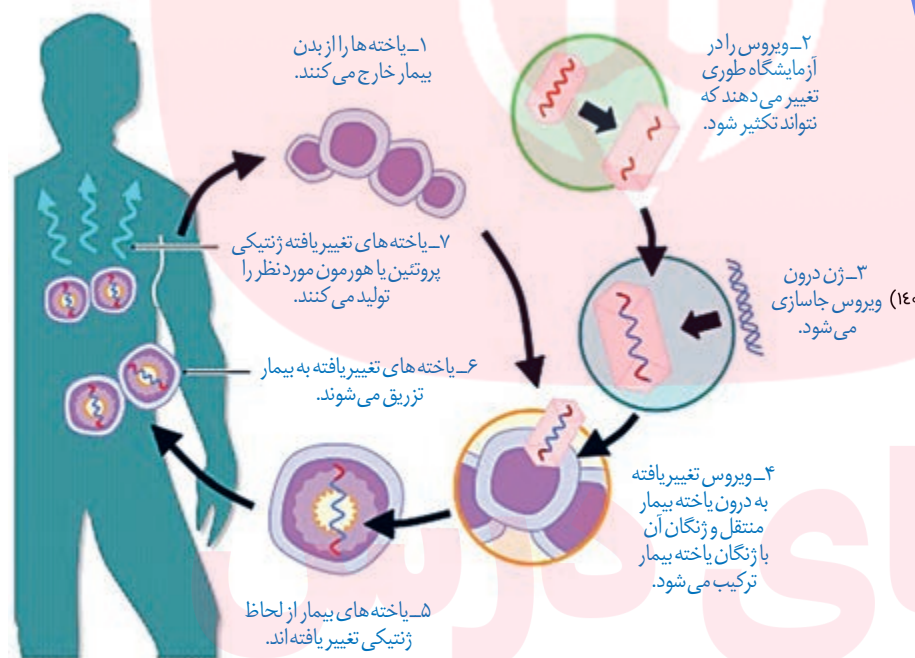
انقراض گونه‌ها و مهندسی ژنتیک

در سال ۲۰۰۸ با تعیین توانی ژنی یک ماموت، برای اولین بار زنگان کامل یک گونه جانوری منقرض شده مشخص شد. این موفقیت پژوهشگران را به نجات گونه‌های در خطر انقراض امیدوار کرده است. یکی دیگر از کاربردهای این فناوری در جلوگیری از انقراض گونه‌ها، روش شبیه‌سازی است. در ایران نیز طرح‌های تحقیقاتی در حال انجام است و تاکنون موفقیت‌هایی در این زمینه به دست آمده است. به عنوان مثال می‌توان به موفقیت پژوهشکده رویان در شبیه‌سازی قوچ وحشی اشاره کرد.

۳- ژن درمانی: آیا می‌توان افرادی را که با بیماری ارثی متولد می‌شوند درمان کرد؟

پاسخ به این سؤال مشکل است ولی یکی از روش‌های جدید درمان بیماری‌های ژنتیکی، ژن درمانی است که خود مجموعه‌ای از روش‌هاست. ژن درمانی یعنی قرار دادن نسخه سالم یک ژن در یاخته‌های فردی که دارای نسخه‌ای ناقص از همان ژن است. در این روش یاخته‌هایی را از بدن بیمار خارج و ژن سالم را با کمک ناقل وارد آنها می‌کنند. سپس یاخته تغییر یافته را به بدن بیمار باز می‌گردانند. اولین ژن درمانی موفقیت آمیز در سال ۱۹۹۰ برای یک دختر بچه ۴ ساله، دارای نوعی نقص ژنی، انجام شد. این ژن جهش یافته نمی‌توانست یک آنزیم مهم دستگاه ایمنی را بسازد. برای درمان آن ابتدا لنفوسیت‌ها را از خون بیمار جدا کردند و در خارج از بدن کشت دادند. سپس نسخه‌ای از ژن کارآمد را به لنفوسیت‌ها منتقل و آنها را وارد بدن بیمار کردند. اگرچه این یاخته‌ها توانستند آنزیم مورد نیاز بدن را بسازند ولی چون قدرت بقای زیادی ندارند، لازم بود بیمار به طور متناوب لنفوسیت‌های مهندسی شده را دریافت کند (شکل ۱۴).

برای درمان این افراد می‌توان از روش‌هایی مثل پیوند مغز استخوان و یا تزریق آنزیم هم استفاده کرد.



شکل ۱۴- مراحل ژن درمانی

در اولین ژن درمانی موفقیت آمیز، چرا لازم بود بیمار به طور متناوب لنفوسیت مهندسی شده را دریافت کند؟ (شهریور ۱۴۰۰)

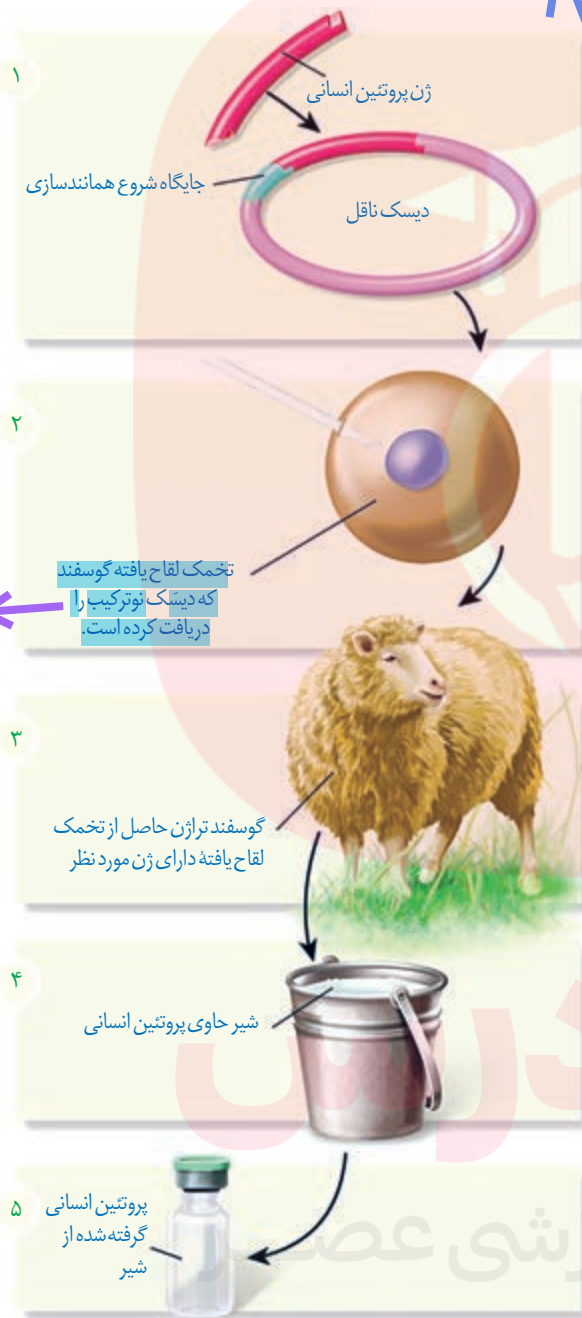
۴- تشخیص بیماری: برای درمان موفقیت آمیز یک بیماری، تشخیص اولیه و شناخت دقیق

آن بسیار مهم است. علاوه بر روش‌های تشخیصی مثل آزمایش خون و ادرار، روش‌های دیگری مثل فناوری‌های مبتنی بر دنا در تشخیص بیماری نقش مهمی دارند. تشخیص بیماری وقتی که علائم آن در بدن ظاهر شده باشد ساده است، اما وقتی که هنوز علائم ظاهر نشده‌اند و میزان عامل بیماری‌زا در بدن پایین است مشکل است. امروزه با کمک روش‌های زیست فناوری و شناسایی نوکلئیک اسید عامل بیماری‌زا می‌توان به وجود آن در بدن پی برد.

دو مورد از کاربردهای زیست فناوری در پزشکی را نام ببرید؟ (شهریور ۹۸)

تشخیص زودهنگام آلودگی با ویروس ایدز، برای جلوگیری

از انتقال ویروس به سایر افراد اهمیت زیادی دارد (ص/غ). (خرداد ۹۸)



برای تولید گوسفند تراژن، کدام یاخته دیسک نوترکیب را دریافت می‌کند؟ (دی ۱۴۰۱)

همان طور که می‌دانید ایدز بیماری خطرناکی است و هنوز درمان قطعی برای آن وجود ندارد. فرد مبتلا به ایدز توانایی دفاع در مقابل عوامل بیماری‌زای آن را از دست می‌دهد. برای تشخیص ایدز در مراحل اولیه، دمای موجود در خون فرد مشکوک را استخراج می‌کنند. دمای استخراج شده شامل دمای یاخته‌های بدن خود فرد و احتمالاً دمای ساخته شده از زئای ویروس است. سپس با استفاده از روش‌های زیست فناوری دمای ویروس تشخیص داده می‌شود. تشخیص زودهنگام آلودگی با ویروس ایدز اهمیت زیادی دارد زیرا باعث می‌شود که بدون اتلاف وقت اقدامات درمانی و پیشگیری لازم برای جلوگیری از انتقال ویروس به سایر افراد صورت گیرد.

زیست فناوری در تشخیص ژن‌های جهش یافته در بیماران مستعد به سرطان، در مسائل پزشکی قانونی و تحقیقاتی همچون مطالعه در مورد دمای فسیل‌ها نیز کاربرد دارد.

جاخالی تألیفی

اهمیت تولید جانوران تراژنی در زیست فناوری

دلایل متعددی برای طراحی و تولید این جانوران وجود دارد که می‌توان به چند مورد اشاره کرد:

مطالعه عملکرد ژن‌های خاص در بدن مثل ژن‌های عوامل

رشد و نقش آنها در رشد بهتر دام‌ها

کاربرد آنها به عنوان مدلی برای مطالعه بیماری‌های انسانی از

قبیل انواع سرطان، آلزایمر و بیماری ام‌اس.

تولید پروتئین‌های انسانی یا داروهای خاص در بدن آنها، به عنوان مثال دام‌های تراژنی می‌توانند، شیر غنی از نوعی پروتئین انسانی تولید کنند که برای انسان نسبت به شیر طبیعی دام‌ها مناسب‌تر است (شکل ۱۵).

یک بیماری را نام ببرید که برای مطالعه آن، از جانوران تراژنی به عنوان مدل استفاده می‌شود؟ (دی ۹۸)

زیست فناوری و اخلاق

مانند همه دستاوردهای بشر، استفاده از این دستاورد علمی نیز باید با ملاحظاتی همراه باشد. این ملاحظات جنبه‌های مختلف اخلاقی، اجتماعی و ایمنی زیستی را دربر می‌گیرند. ایمنی زیستی شامل مجموعه‌ای از تدابیر، مقررات و روش‌هایی برای تضمین بهره‌برداری از این فناوری است. قانون ایمنی زیستی به منظور استفاده مناسب از مزایای زیست فناوری و پیشگیری از خطرات احتمالی آن، در همه کشورها از جمله ایران تدوین و به تصویب رسیده است.


شکل ۱۵- تولید پروتئین‌های انسانی با استفاده از دام‌های تراژنی

تألیفی: با توجه به آزمایش‌های انجام شده، آثار جانبی برخی از کاربردهای زیست‌فناوری بسیار خطرناک می‌باشد (ص/ع).

همواره سؤال‌های متعددی در مورد نتایج انواع کاربردهای زیست‌فناوری مطرح بوده و هست. برای پاسخ به این سؤالات، پژوهش‌های زیادی در حال انجام است. نتایج به‌دست آمده از چنین پژوهش‌هایی از طرف مجموعه‌ای از دانشمندان با تخصص‌های مختلف داوری و صدور مجوز نهایی توسط دستگاه‌های نظارتی انجام می‌شود. تاکنون از نتایج تحقیقات انجام شده هیچ‌گونه گزارشی مبتنی بر شواهد و داده‌های علمی در مورد آثار جانبی کاربرد این فناوری، محصولات به‌دست آمده و خطرناک بودن آنها ارائه نشده است. لذا با توجه به حساسیت موضوع، این تحقیقات باید ادامه یابند و نتایج با دقت فراوان مورد تجزیه و تحلیل قرار گیرند.

بیشتر بدانید

ایران از جمله کشورهایی است که فناوری تولید جانوران تراژن مدل را دارد. موش‌های تراژن به عنوان مدل، کاربردهای متفاوتی در تحقیقات مربوط به ژنتیک، داروسازی و پزشکی دارند. موش سمت چپ موش تراژنی است که در پژوهشگاه ملی مهندسی ژنتیک و زیست‌فناوری ایران برای ایجاد مدل‌های تحقیقاتی تولید شده است. چشم‌ها و بخش‌هایی از بدن این موش به علت وجود پروتئین GFP (پروتئین با فلورسانس سبز) در برابر پرتو فرابنفش درخشش سبز دارد. این موش حاصل رشد تخمی است که ژن پروتئین GFP در ژنوم تخمک آن جاگذاری شده است.



موش معمولی (راست) و موش تراژن (چپ)

گروه آموزشی عصر

www.my-dars.ir



پرواز گروهی سارها

فصل ۸

رفتارهای جانوران



هزاران سال است که انسان رفتارهای جانوران را مشاهده می کند و در پی یافتن علت این رفتارها و چگونگی بروز آنهاست. زندگی انسان به داشتن اطلاعات درباره رفتار جانوران وابسته است. دانستن درباره چگونگی زادآوری یک حشره آفت، می تواند به یافتن راه هایی برای مبارزه با آن منجر شود. دانستن درباره مهاجرت یا تغذیه یک جانور در معرض خطر انقراض، می تواند به راه هایی برای حفظ آن گونه و حفاظت از تنوع زیستی بینجامد. در این فصل انواعی از رفتارهای جانوران، چگونگی انجام آنها و علت این رفتارها را از دیدگاه انتخاب طبیعی بررسی می کنیم.

سؤالات جاخالی تألیفی

www.my-dars.ir

به منظور آمادگی کامل برای امتحان نهایی زیست شناسی دوازدهم و تکمیل این جزوه، کلاس آمادگی امتحان نهایی دکتر خیراندیش و دکتر فرهمندیا در گروه آموزشی ماز را مورخ شنبه و یکشنبه ۱۳ و ۱۴ خردادماه از ساعت ۱۲:۰۰ لغایت ۱۵:۰۰ مشاهده نمایید.

گفتار ۱

اساس رفتار

قمری‌های خانگی با جمع‌آوری شاخه‌های نازک درختان برای خود لانه ساخته و زادآوری می‌کنند. گوزن‌ها از شکارچی‌ها می‌گریزند. خرس‌های قطبی خواب زمستانی دارند. سارها برای زمستان‌گذرانی به مناطق گرم‌تر مهاجرت می‌کنند. اینها نمونه‌هایی از رفتارهای جانوران است. رفتار، واکنش یا مجموعه واکنش‌هایی است که جانور در پاسخ به محرک یا محرک‌ها انجام می‌دهد. محرک‌هایی مانند بو، رنگ، صدا، تغییر میزان هورمون‌ها یا گلوکز در بدن جانور، تغییر دمای محیط و تغییر طول روز موجب بروز رفتارهای گوناگون در جانوران می‌شوند.

تألیفی: نمونه‌هایی از رفتارهای جانوران را بیان کنید؟

تألیفی: رفتار چیست؟

تألیفی: چند نمونه از محرک‌هایی که می‌توانند باعث بروز رفتارهایی در جانوران شوند را ذکر کنید؟

رفتار غریزی

جوجه‌های برخی از پرندگان برای غذای مورد نیازشان به والد (یا والدین) خود متکی هستند. مثلاً جوجه کاکایی برای دریافت غذا به منقار پرنده والد نوک می‌زند و والد بخشی از غذای خورده شده را برمی‌گرداند تا جوجه آن را بخورد. دریافت غذای کافی برای بقا و رشد جوجه اهمیت دارد. جوجه پس از بیرون آمدن از تخم، می‌تواند به منقار والد نوک بزند (شکل ۱).



شکل ۱- رفتار درخواست غذا در جوجه کاکایی

منشأ رفتار جوجه کاکایی چیست؟ جوجه پرنده پس از بیرون آمدن از تخم، می‌تواند رفتار درخواست غذا را انجام دهد، پس آیا این رفتار همانند ویژگی‌های بدنی جانور ژنی است؟ برای پاسخ به این سؤال یک پژوهش را بررسی می‌کنیم.

پژوهشگران ارتباط یک ژن را با رفتار مراقبت از زاده‌ها در موش ماده بررسی کرده‌اند. این ژن را **B** می‌نامیم. موش ماده طبیعی اجازه نمی‌دهد بچه موش‌ها از او دور شوند؛ اگر بچه موش‌ها دور شوند، مادر آنها را می‌گیرد و به سمت خود می‌کشد (شکل ۲). موش مادر ابتدا نوزادان را واری می‌کند و اطلاعاتی از راه حواس به مغز آن ارسال می‌شود؛ در نتیجه ژن **B** در بخته‌هایی در مغز موش مادر فعال

تألیفی: رفتار مراقبت مادری در موش ماده سالم را شرح دهید؟

بیشتر بدانید

آنچه ما آن را ژن B نامیدیم به اختصار ژن FosB نام دارد. این ژن در بخشی از زیر نهنج (هیپوتالاموس) مغز موش مادر که در رفتار مادرانه آن نقش حیاتی دارد، بیان می‌شود.

می‌شود و دستور ساخت پروتئینی را می‌دهد که آنزیم‌ها و ژن‌های دیگری را فعال می‌کند. در مغز جانور فرایندهای پیچیده‌ای به راه می‌افتد که در نتیجه آنها، موش ماده رفتار مراقبت مادری را نشان می‌دهد. پژوهشگران با ایجاد جهش در ژن B آن را غیر فعال کردند. موش‌های ماده‌ای که ژن‌های جهش یافته داشتند، ابتدا بچه موش‌های تازه متولد شده را وارسی کردند ولی بعد آنها را نادیده گرفتند و رفتار مراقبت نشان ندادند. به این ترتیب، مشخص شد رفتار مراقبت مادری در موش اساس ژنی دارد.

تألیفی: رفتار مراقبت مادری در موش ماده‌ای که

ژن B آن با جهش غیرفعال شده است را شرح دهید؟



شکل ۲- الف) مراقبت مادری موش مادر دارای ژن طبیعی

ب) نبود مراقبت مادری در موش مادر دارای ژن جهش یافته B



بیشتر بدانید

رفتارشناسی، علم مطالعه رفتارهای جانوران در آزمایشگاه و یا طبیعت است. سه دانشمند به نام‌های نیکولاس تین برگن^۱ هلندی، کنراد لورنز^۲ و کارل فون فریش^۳ اثری در طبیعت نقش مهمی ایفا کردند. این تلاش‌ها جایزه نوبل رشته کار اندام‌شناسی (فیزیولوژی) و پزشکی سال ۱۹۷۳ را برای آنان به ارمغان آورد. در دهه‌های اخیر رویکرد اصلی زیست‌شناسان در بررسی رفتار جانوران، بوم‌شناسی رفتاری است. بوم‌شناسی رفتاری علم بررسی رفتار جانوران در محیط طبیعی و از دیدگاه انتخاب طبیعی است.

۱- Nikolaas Tinbergen
۲- Konrad Lorenz
۳- Karl Von Frisch

چرا اساس رفتار غریزی در همه افراد یک گونه یکسان است؟ (خرداد ۹۹)
رفتار موش مادر در مراقبت از فرزندان رفتاری غریزی^۱ است. اساس رفتار غریزی در همه افراد یک گونه یکسان است، زیرا ژنی و ارثی است. رفتار جوجه کاکایی برای به دست آوردن غذا، لانه‌سازی پرنده‌ها و رفتار مکیدن در شیرخواران نمونه‌های دیگری از رفتارهای غریزی اند. خواهید دید همه رفتارهای غریزی به طور کامل هنگام تولد در جانور ایجاد نشده‌اند. جاخلی تألیفی

رفتار نوک زدن جوجه کاکایی به منقار والد یک رفتار غریزی است که به طور کامل هنگام تولد در جانور ایجاد شده است. (ص/غ (دی ۹۸)
ب‌دگیری و رفتار
در رفتار درخواست غذا، نوک زدن‌های جوجه کاکایی به منقار والد در ابتدا دقیق نیست ولی به تدریج و با تمرین، این رفتار دقیق‌تر می‌شود. هرچه جوجه دقیق‌تر نوک بزند، والد سریع‌تر به درخواست آن برای غذا پاسخ می‌دهد. به این ترتیب جوجه می‌آموزد تا دقیق‌تر نوک بزند (شکل ۳). بنابراین، جوجه کاکایی تجربه به دست می‌آورد و رفتار غریزی آن تغییر می‌کند و اصلاح می‌شود.

۱- Instinctive Behavior

رفتار مکیدن در شیرخواران نمونه‌ای از چه رفتاری است؟ (دی ۹۹)




نوک زدن جوجه تازه از تخم خارج شده

نوک زدن جوجه دو روزه

شکل ۳- اصلاح رفتار درخواست غذا در جوجه کاکایی: پس از دو روز جوجه می آموزد تا دقیق تر نوک بزند. نقطه های سیاه رنگ محل نوک زدن را نشان می دهند.

بیشتر بدانید

چندین گونه از خانواده کاکایی ها از جمله کاکایی پازرد (خزری) و کاکایی سر سیاه، در کشور ما زندگی می کنند. بیشتر آزمایش ها و بررسی های این فصل درباره کاکایی سر سیاه انجام شده است.



کاکایی سر سیاه (*Larus ridibundus*)



کاکایی خزری (*Larus cachinnans*)

جاخالی تألیفی

جانوران در محیط تجربه های گوناگونی پیدا می کنند که رفتارهای آنها را تغییر می دهد. تغییر نسبتاً پایدار در رفتار که در اثر تجربه به وجود می آید **یادگیری** نام دارد. یادگیری انواع گوناگونی دارد که با آنها آشنا می شوید.

کدام نوع از یادگیری؟ (دی ۱۴۰۱)

خوگیری (عادی شدن): جوجه پرندهاگان اجسام گوناگونی مانند برگ های در حال افتادن را در بالای سر خود می بینند. در ابتدا جوجه ها با پایین آوردن سر خود و آرام ماندن به این محرک ها پاسخ می دهند، اما با دیدن مکرر اجسام در حال حرکت، یاد می گیرند آنها برایشان خطر یا فایده ای ندارند. در نتیجه، جوجه ها دیگر به این محرک ها پاسخ نمی دهند. این یادگیری را **خوگیری** می نامند. در این یادگیری، پاسخ جانور به یک محرک تکراری که سود یا زبانی برای آن ندارد، کاهش پیدا می کند و جانور می آموزد به برخی محرک ها پاسخ ندهد. جانوران در معرض محرک های متعددی قرار دارند که پاسخ به همه آنها، نیازمند صرف انرژی زیادی است. خوگیری موجب می شود جانور با چشم پوشی از محرک های بی اهمیت، انرژی خود را برای انجام فعالیت های حیاتی حفظ کند.

رفتار خوگیری در جانوران چه فایده ای برای آنها دارد؟ (شهریور ۱۴۰۰)



(۳)



(۲)



(۱)

فعالیت ۱

الف) شکل روبه رو یادگیری خوگیری را

نشان می دهد. آن را توضیح دهید.

ب) در برخی کشتزارها قوطی های فلزی را به مترسک آویزان می کنند، این کار چه فایده ای دارد؟

تألیفی: آزمایش پاولوف را توضیح دهید؟

شرطی شدن کلاسیک: وقتی جانوری مانند سگ غذا می بیند و یا بوی آن را احساس می کند، بزاق

او ترشح می شود. غذا محرک و ترشح بزاق، پاسخی غریزی و یک بازتاب طبیعی است. دانشمندی به نام پاولوف آزمایش های متعددی در این باره انجام داد. او متوجه شد بزاق سگ، با دیدن فرد غذا دهنده و

مربوط به کدام یک از انواع یادگیری؟ (دی ۹۸)

قبل از دریافت غذا نیز ترشح می شود. پاولوف آزمایشی طراحی کرد و در آن هم زمان با دادن پودر گوشت به سگ گرسنه، زنگی را به صدا درآورد. با تکرار این کار، سگ بین صدای زنگ و غذا ارتباط برقرار کرد.

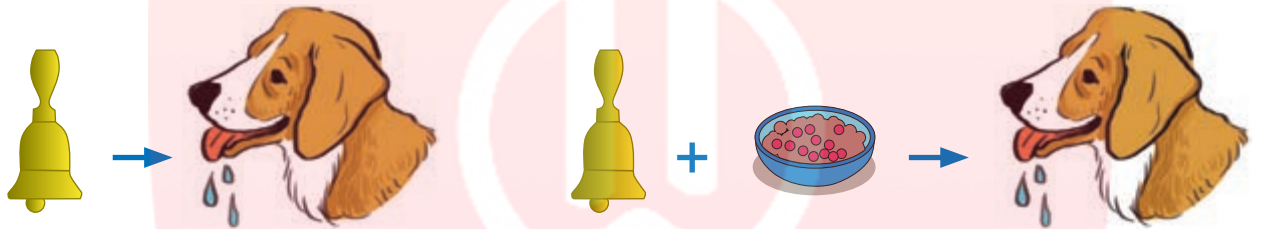
شکل ۴- الف) وقتی محرک شرطی (صدای زنگ) با محرک طبیعی (غذا) همراه شود.

ب) محرک شرطی به تنهایی می تواند سبب پاسخ ترشح بزاق شود.

طوری که بزاق آن با شنیدن صدای زنگ و حتی بدون دریافت غذا نیز ترشح می شد. صدای زنگ در ابتدا یک محرک بی اثر بود ولی وقتی با محرک طبیعی یعنی غذا همراه شد، سبب بروز پاسخ ترشح بزاق شد

(شکل ۴). صدای زنگ یک محرک شرطی است زیرا در صورتی می تواند موجب بروز پاسخ شود که با یک محرک طبیعی همراه شود. این نوع یادگیری شرطی شدن کلاسیک نام دارد.

محرک شرطی و طبیعی در آزمایش پاولوف را ذکر کنید؟ (خرداد ۹۹)



جاخالی تألیفی

بیشتر بدانید

تاریخ علم

ایوان پتروویچ پاولوف (۱۸۴۹-۱۹۳۶) کار اندام شناس (فیزیولوژیست) روسی است که در سال ۱۹۰۴ برنده جایزه نوبل کار اندام شناسی و پزشکی شد. او بیشتر به علت پژوهش درباره بازتاب شرطی مشهور است (نفر دوم از راست).




شکل ۵- موش در جعبه اسکینر

شرطی شدن فعال: نوعی دیگر از شرطی شدن، شرطی شدن فعال^۲ یا یادگیری با آزمون و خطا

نام دارد. در نخستین آزمایش های مربوط به این نوع یادگیری، دانشمندی به نام اسکینر موش گرسنه ای را در جعبه ای قرار داد که درون آن اهرمی وجود داشت و موش می توانست آن را فشار دهد (شکل ۵).

موش درون جعبه حرکت می کرد و به طور تصادفی اهرم درون جعبه را فشار می داد. در نتیجه، تکه ای

تألیفی: آزمایش اسکینر را توضیح دهید؟



۱- Classical Conditioning

۲- Operant Conditioning

مربوط به کدام یک از انواع یادگیری؟ (خرداد ۱۴۰۰)

غذا به درون جعبه می افتاد و موش غذا دریافت می کرد. پس از چندبار تکرار این رفتار، موش به ارتباط بین فشار دادن اهرم و پاداش یعنی به دست آوردن غذا پی برد. موش پس از آن به طور عمدی، اهرم را فشار می داد تا غذا به دست آورد. در شرطی شدن فعال، جانور می آموزد بین رفتار خود با پاداش یا تنبیهی که دریافت می کند، ارتباط برقرار کرده و در آینده رفتاری را تکرار یا از انجام آن خودداری می کند. بر اساس یادگیری شرطی، رفتار پرنده پس از بلعیدن پروانه مونارک را توضیح دهید؟ (شهریور ۱۴۰۰)

فعالیت ۲

پرنده ای که در شکل زیر می بینید، پروانه مونارک را بلعیده و دچار تهوع شده است. پس از چنین تجربه هایی پرنده می آموزد، این حشره را نباید بخورد. چگونگی آموختن این رفتار را بر اساس یادگیری شرطی شدن توضیح دهید.




نوع یادگیری؟ (دی ۱۴۰۱)

بیشتر بدانید

تاریخ علم

بوروس فردریک اسکینر (۱۹۰۴-۱۹۹۰) روان شناس آمریکایی و از بنیان گذاران یادگیری از دیدگاه رفتارگرایی است. دستگاهی را که او برای بررسی رفتار شرطی شدن فعال جانوران به کار می برد و جعبه اسکینر نام دارد، از اختراعات خود اوست.



تألیفی: نمونه ای از رفتار حل مسئله در شامپانزه را توضیح دهید؟

حل مسئله: برخی از جانوران می توانند از تجربه های قبلی خود برای حل مسئله ای که با آن روبه رو شده اند، استفاده کنند. در یکی از آزمایش های مربوط به این رفتار، شامپانزه ای را در اتاقی گذاشتند که تعدادی موز از سقف آن آویزان بود و چند جعبه چوبی هم در اتاق وجود داشت. شامپانزه پس از چند بار بالا پریدن و تلاش ناموفق برای رسیدن به موزها، جعبه ها را روی هم قرار داد، از آنها بالا رفت و به موزها دست یافت (شکل ۶). در رفتار حل مسئله، جانور بین تجربه های گذشته و موقعیت جدید ارتباط برقرار می کند و با استفاده از آنها برای حل مسئله جدید، آگاهانه برنامه ریزی می کند.

نوع یادگیری؟ (دی ۱۴۰۰)



شکل ۶- حل مسئله در شامپانزه

نوع یادگیری؟ (خرداد ۱۴۰۰)

نوع یادگیری؟ (دی ۱۴۰۱)

نوع یادگیری؟ (خرداد ۱۴۰۱)



رفتارشناسان حل مسئله جانوران را در محیط طبیعی نیز بررسی کرده‌اند. شامپانزه‌ها برگ‌های شاخه نازک درختان را جدا می‌کنند و آن را درون لانه موربانه‌ها فرو می‌برند تا موربانه‌ها را بیرون بیاورند و بخورند. این جانوران از تکه‌های چوب یا سنگ به شکل سندان و چکش استفاده می‌کنند تا پوسته سخت میوه‌ها را بشکنند. کلاغ سیاهی که در شکل ۷ می‌بینید، کشف کرده است که چگونه تکه گوشت آویزان به انتهای نخ را به دست آورد. جانور هر بار بخشی از نخ را با منقار خود بالا می‌کشد و پنجه پای خود را روی آن قرار داده و سرانجام به گوشت دست پیدا می‌کند.

در رفتار نقش پذیری، عامل شناخت جسم به عنوان مادر چیست؟ (خرداد ۱۴۰۰)

نوع یادگیری؟ (دی ۱۴۰۰)

نقش‌پذیری: جوجه‌ها پس از بیرون آمدن از تخم، نخستین جسم متحرکی را که می‌بینند، دنبال می‌کنند. جسم متحرک معمولاً مادر آنهاست (شکل ۸). این دنبال کردن موجب پیوند جوجه‌ها با مادر می‌شود. پیوند جوجه‌ها و مادرشان در نتیجه نوعی یادگیری به نام **نقش‌پذیری** ایجاد می‌شود. نقش‌پذیری نوعی یادگیری است که در دوره مشخصی از زندگی جانور انجام می‌شود. نقش‌پذیری جوجه‌ها طی چند ساعت پس از خروج از تخم رخ می‌دهد. این زمان، دوره حساسی است که در آن نقش‌پذیری با بیشترین موفقیت انجام می‌شود. جوجه‌ها با نقش‌پذیری مادر خود را می‌شناسند. این شناسایی برای بقای جوجه‌ها حیاتی است، بدون آن جوجه‌ها تحت مراقبت مادر قرار نمی‌گیرند و ممکن است بمیرند. افزون بر آن، جوجه‌ها با نقش‌پذیری، رفتارهای اساسی مانند جست‌وجوی غذا را نیز از مادر یاد می‌گیرند. نقش‌پذیری در پستانداران نیز دیده می‌شود، مثلاً بره‌هایی که مادر خود را از دست داده‌اند و انسان آنها را پرورش داده است، دنبال او راه می‌افتند و تمایلی برای ارتباط با گوسفندهای دیگر نشان نمی‌دهند.

شکل ۷- حل مسئله در کلاغ: کلاغ با جمع کردن نخ تکه گوشت را بالا می‌کشد.

نوع یادگیری؟ (خرداد ۹۸)

تألیفی: اهمیت رفتار نقش‌پذیری در جوجه‌ها در چیست؟

نوع یادگیری؟ (خرداد ۱۴۰۱)

امروزه پژوهشگران می‌کوشند از نقش‌پذیری در حفظ گونه‌های جانوران در خطر انقراض استفاده کنند. مثلاً آنها برای پرورش جوجه‌های پرنده‌هایی که والدین خود را از دست داده و تحت مراقبت انسان به دنیا آمده‌اند، صدای پرندگان همان گونه را پخش می‌کنند. افرادی که از این جوجه‌ها نگهداری می‌کنند، ظاهر خود را شبیه آن پرنده کرده و مانند آنها رفتار می‌کنند.

تألیفی: پژوهشگران امروزی، چه استفاده‌ای از نقش‌پذیری می‌کنند؟



شکل ۸- نقش‌پذیری جوجه‌ها نسبت به مادر خود

۱- Imprinting

بررسی نقش‌پذیری در غازها از پژوهش‌های کنراد لورنز اتریشی (۱۹۰۳-۱۹۸۹) است. لورنز در آزمایش خود جوجه‌غازهایی را در دستگاه جوجه‌کشی پرورش داد، لورنز نخستین جسمی بود که جوجه‌ها پس از بیرون آمدن از تخم دیدند. آنها او را دنبال کردند و نسبت به او نقش‌پذیر شدند.



برهم کنش غریزه و یادگیری

بیشتر رفتارهای جانوران محصول برهم کنش ژن‌ها و اثرهای محیطی است که جانور در آن زندگی می‌کند. همان‌طور که در رفتار درخواست غذای جوجه کاکایی دیدیم، این رفتار غریزی به‌طور کامل در جوجه‌ای که از تخم بیرون می‌آید، بروز پیدا نمی‌کند. برای شکل‌گیری کامل آن، برهم کنش جوجه و والدین و کسب تجربه لازم است. جانور اساس ژنی لازم برای انجام این رفتار را دارد و همچنان که رشد می‌کند از آموخته‌های خود از محیط تجربه به دست می‌آورد و آنها را برای تغییر و اصلاح رفتار قبلی به کار می‌برد. یادگیری برای بقای جانوران لازم است، زیرا محیط جانوران همواره در حال تغییر است. برای آنکه جانوران بتوانند در این شرایط در حال تغییر زندگی کنند، باید بتوانند به تغییرات پاسخ‌های مناسبی بدهند. به این ترتیب، برهم کنش ژن‌ها و یادگیری امکان سازگار شدن جانور با این تغییرات را فراهم می‌آورد.

جاخالی تألیفی

نوع یادگیری؟ (خرداد ۱۴۰۱)



الف) شقایق دریایی با تحریک مکانیکی (تماس)، بازوهای خود را منقبض می‌کند

اما به حرکت مداوم آب پاسخی نمی‌دهد. چرا؟

ب) رام‌کنندگان جانوران چگونه انجام حرکات نمایشی در

سیرک را به آنها می‌آموزند؟

نوع یادگیری؟ (دی ۹۸)

فعالیت ۳

مای دارس

گروه آموزشی عصر

www.my-dars.ir

جاخالی تألیفی

پژوهشگران در بررسی یک رفتار تلاش می‌کنند به دو نوع پرسش پاسخ دهند. پرسش نوع اول اینکه جانور چگونه رفتاری را انجام می‌دهد؟ برای پاسخ به این پرسش پژوهشگران فرایندهای ژنی، رشد و نمو و عملکرد بدن جانور را بررسی می‌کنند. پرسش نوع دوم این است که چرا جانور رفتاری را انجام می‌دهد؟ پرسش دوم به دیدگاه انتخاب طبیعی مربوط است. مثال زیر را بخوانید.

پرنده کاکایی پس از آنکه جوجه‌هایش از تخم بیرون می‌آیند، پوسته‌های تخم را از لانه خارج می‌کند. جوجه‌ها و تخم‌های کاکایی در میان علف‌های اطراف آشیانه به خوبی استتار می‌شوند (شکل ۹). البته رنگ سفید داخل پوسته تخم‌های شکسته بسیار مشخص است.



شکل ۹- الف) جوجه‌های کاکایی
ب) تخم‌های کاکایی



الف)

ب)

چرا کاکایی پوسته‌های تخم را از لانه خارج می‌کند؟ برای یافتن پاسخ این پرسش، پژوهشگری آزمایشی را طراحی کرد. او تخم‌های مرغ خانگی را شبیه تخم‌های کاکایی رنگ آمیزی کرد و آنها را در محل آشیانه‌سازی کاکایی‌ها، قرار داد. پژوهشگر در کنار تعدادی از این تخم‌ها، پوسته تخم‌های شکسته کاکایی را نیز قرار داد. او مشاهده کرد کلاغ‌ها بیشتر تخم‌مرغ‌هایی را که کنار پوسته‌های تخم کاکایی قرار داشتند، پیدا کرده و آنها را خوردند. رنگ سفید داخل پوسته تخم‌های شکسته، راهنمای کلاغ‌ها بود. پژوهشگر نتیجه گرفت کاکایی‌ها رفتار دور انداختن پوسته تخم‌های شکسته از لانه را برای کاهش احتمال شکار شدن و افزایش احتمال بقای جوجه‌ها انجام می‌دهند. کاکایی‌ها زمان بسیار کوتاهی را برای بیرون بردن پوسته تخم‌ها صرف می‌کنند اما این رفتار در بقای زاده‌های آنها نقشی حیاتی دارد. این رفتار کاکایی‌ها سازگارکننده است زیرا احتمال دسترسی شکارچی به زاده‌ها کاهش و احتمال بقای آنها را افزایش می‌دهد و به سود پرنده و زاده‌های آن است. رفتارهای سازگارکننده با سازوکار انتخاب طبیعی، برگزیده می‌شوند.

در رفتارشناسی با دیدگاه انتخاب طبیعی، پژوهشگران برای پاسخ به پرسش چرایی رفتارها و اثر انتخاب طبیعی در شکل دادن به آنها پژوهش می‌کنند. آنها نقش سازگارکنندگی رفتارهای گوناگون و به عبارتی نقش رفتارها را در بقا و زادآوری بیشتر جانوران بررسی می‌کنند. این کار با بررسی سود و هزینه رفتار برای جانور، انجام می‌شود.

تألیفی: چرا پرنده کاکایی پس از آنکه جوجه‌هایش از تخم بیرون می‌آیند، پوسته‌های تخم را از لانه خارج می‌کنند؟
ازمایشی که منجر به کشف دلیل آن شد را توضیح دهید؟

علت خارج کردن پوسته‌های تخم از لانه توسط پرنده کاکایی چیست؟ (خرداد ۹۸)

سؤال انتخابی: (چرایی / چگونگی) (خرداد ۱۴۰۰)

در پژوهش درباره رفتار بیرون انداختن پوسته تخم در کاکایی‌ها:

الف) پژوهشگر چه فرضیه‌ای را دنبال می‌کرد؟

ب) چرا پژوهشگر فقط در کنار تعدادی از تخم مرغ‌های رنگ آمیزی شده، پوسته تخم کاکایی قرار داد؟

بیشتر بدانید

تاریخ علم

بررسی رفتار بیرون انداختن پوسته‌های تخم در کاکایی از پژوهش‌های نیکولاس تین برگن (۱۹۸۸-۱۹۰۷) است.



در گونه‌های مختلف، انتخاب جفت را فقط

جانوران ماده انجام می‌دهند (ص/غ)؟ (دی ۱۴۰۱)

شکل ۱۰- لکه‌های چشم مانند دم طاووس نر

زادآوری (تولیدمثل) جاخالی (خرداد ۱۴۰۱)

داشتن بیشترین تعداد زاده‌های سالم، معیاری برای موفقیت زادآوری در جانوران است. جانوران برای دستیابی به موفقیت در زادآوری (تولید مثل)، رفتارهای زادآوری انجام می‌دهند. انتخاب جفت یکی از این رفتارهاست. در رفتار انتخاب جفت، جانور ابتدا ویژگی‌های جفت را بررسی می‌کند و بعد تصمیم می‌گیرد با آن جفت گیری کند یا نه. برای مثال انتخاب جفت را در طاووس بررسی می‌کنیم. ویژگی‌های ظاهری طاووس‌های نر و ماده متفاوت است. در فصل زادآوری دم طاووس نر، پرهای پرنقش و نگاری پیدا می‌کند. طاووس نر برای جلب جفت، دم خود را مانند بادبزن می‌گستراند تا بهتر در معرض دید جانور ماده قرار گیرد. طاووس ماده دم طاووس‌های نر را بررسی می‌کند و نری را به عنوان جفت انتخاب می‌کند که رنگ درخشان و لکه‌های چشم مانند بیشتری روی پرهای دم خود داشته باشد (شکل ۱۰).
در طاووس‌ها، نرها جفت را انتخاب می‌کنند (ص/غ)؟ (شهریور ۹۹)



چرا در جانوران، ماده‌ها بیشتر از نرها

انتخاب جفت انجام می‌دهند؟ (دی ۱۴۰۰)

در جانوران، ماده‌ها بیشتر از نرها رفتار انتخاب جفت را انجام می‌دهند. چرا چنین است؟ در جانوران هر یک از والدین باید انرژی و مدت زمانی را برای زادآوری و پرورش زاده‌ها صرف کنند. جانوران ماده معمولاً زمان و انرژی بیشتری صرف می‌کنند. برای مثال نگهداری از تخم‌ها و جوجه‌ها در پرندگان و بارداری و شیردادن به نوزادان در پستانداران فعالیت‌های پرهزینه‌ای هستند که جانوران ماده آنها را انجام می‌دهند. بنابراین، تولیدمثل برای آنها هزینه بیشتری دارد. پس جانوران ماده باید جفت انتخاب کنند تا موفقیت تولیدمثلی آنها تضمین شود.

شاید برای شما این پرسش مطرح شده باشد که پرهای زینتی دم طاووس نر با موفقیت زادآوری جانور ماده چه ارتباطی دارد؟ پژوهش‌ها نشان داده‌اند، جانوران ماده در انتخاب جفت به ویژگی‌های ظاهری نرها توجه می‌کنند. درخشان بودن رنگ پرنده یکی از این ویژگی‌هایی است که نشانه سلامت و

درخشان بودن رنگ پرهای طاووس نر نشانه چیست؟ (شهریور ۹۸)

کیفیت رژیم غذایی آن است. جفت‌گیری با نری که این نشانه را دارد، سلامت جانور ماده و زاده‌هایش را تضمین می‌کند. ویژگی‌های ظاهری جانور نر نشانه‌ای از داشتن ژن‌های مربوط به صفات سازگارکننده نیز هستند؛ یعنی گرچه دم بلند و زینتی طاووس نر ممکن است حرکت جانور را دشوار و آن را در مقابل شکارچی‌ها آسیب‌پذیرتر کند و احتمال بقای آن را کاهش دهد، اما بقای جانوری با این ویژگی هنگام تولیدمثل، سازگارتر بودن آن را نشان می‌دهد. در نتیجه در صورت انتخاب آن، زاده‌ها علاوه بر ویژگی ظاهری، ژن‌های صفات سازگارتر را نیز به ارث می‌برند. ویژگی‌های ظاهری مانند دم زینتی طاووس نر یا شاخ گوزن نر از صفات ثانویه جنسی جانوران نر هستند که هنگام جفت‌یابی و رقابت با نرهای دیگر به کار می‌روند.

البته در گونه‌های مختلف جانوران، انتخاب جفت را فقط جانوران ماده انجام نمی‌دهند. در نوعی جیرجیرک، جانور نر هزینه بیشتری در تولیدمثل می‌پردازد و بنابراین جفت را انتخاب می‌کند. جیرجیرک نر زامه‌های خود را درون کیسه‌ای به همراه مقداری مواد مغذی به جانور ماده منتقل می‌کند. جانور ماده هنگام تشکیل تخم و برای رشدونمو جنین به مواد مغذی درون کیسه نیاز دارد (شکل ۱۱). این کیسه بخش قابل توجهی از وزن بدن جانور نر را تشکیل می‌دهد. جانور نر، جیرجیرک ماده‌ای را انتخاب می‌کند که بزرگ‌تر باشد، زیرا بزرگ‌تر بودن جیرجیرک ماده نشانه آن است که تخمک‌های بیشتری دارد و می‌تواند زاده‌های بیشتری تولید کند. در این جانوران جیرجیرک‌های ماده برای انتخاب شدن رقابت می‌کنند.

چرا در نوعی جیرجیرک، جانور نر جفت را انتخاب می‌کند؟ (خرداد ۹۸)

علت انتخاب جیرجیرک بزرگ‌تر ماده از سوی جانور نر چیست؟ (خرداد ۹۸)



شکل ۱۱- جیرجیرک ماده‌ای که کیسه دارای اسپرم و مواد مغذی (بخش سفیدرنگ) را دریافت کرده است.

رفتار تولیدمثلی دیگر در جانوران، نوع **نظام جفت‌گیری** آنهاست. طاووس نر نظام جفت‌گیری **چند همسری** دارد. در این نظام یکی از والدین پرورش و نگهداری زاده‌ها را انجام می‌دهد. طاووس نر در نگهداری زاده‌ها نقشی ندارد، البته می‌تواند با نگهداری از قلمرو، منابع غذایی، محل لانه و پناهگاه ایمن از شکارچی‌ها، به طور غیرمستقیم به ماده‌ها کمک کند. در نتیجه، موفقیت تولیدمثلی هر دو جانور

شکل از نظام جفت‌گیری اشاره دارد؟ (خرداد ۱۴۰۱)

نظام جفت‌گیری در بیشتر پستانداران چگونه است؟ (دی ۹۹)

نر و ماده افزایش می‌یابد. بیشتر پستانداران نظام چندهمسری دارند و بیشتر پرندگان مثل قمری خانگی

تک‌همسراند. در این نظام هر دو والد هزینه‌های پرورش زاده‌ها را می‌پردازند. همچنین، در این نظام

جانور نر و ماده در انتخاب جفت سهم مساوی دارند.

در کدام نظام جفت‌گیری، جانور نر و ماده

در انتخاب جفت سهم یکسان دارند؟ (دی ۹۸)

جاخالی (شهریور ۹۸)

غذایابی

جاخالی تألیفی

رفتار غذایابی مجموعه رفتارهای جانور برای جست‌وجو و به دست آوردن غذاست. غذاهایی که

جانوران می‌خورند معمولاً اندازه‌های متفاوتی دارند. غذاهای بزرگ‌تر انرژی بیشتری دارند اما ممکن

است فراوانی آنها کمتر و به دست آوردن آنها دشوارتر باشد. بنابراین، برای جانوران میزان سود یعنی میزان

انرژی موجود در غذا و هزینه به دست آوردن غذا و مصرف آن اهمیت دارد. موازنه بین محتوای انرژی غذا

و هزینه به دست آوردن آن، غذایابی بهینه نام دارد. براساس انتخاب طبیعی، رفتار غذایابی ای برگزیده

می‌شود که از نظر میزان انرژی دریافتی کارآمدتر باشد یعنی اینکه جانور در هر بار غذایابی، بیشترین انرژی

خالص را دریافت کند. برای مثال خرچنگ‌های ساحلی صدف‌های با اندازه متوسط را ترجیح می‌دهند زیرا

آنها بیشترین انرژی خالص را تأمین می‌کنند. صدف‌های بزرگ‌تر انرژی بیشتری دارند اما برای شکستن

آنها باید انرژی بیشتری صرف شود.

جاخالی (دی ۱۴۰۱)

هنگام غذایابی ممکن است جانور خود در خطر شکار شدن یا آسیب دیدن قرار گیرد. بنابراین رفتار

برگزیده باید موازنه‌ای بین کسب بیشترین انرژی و کمترین خطر را نیز نشان دهد. به همین علت است که

هنگام وجود شکارچی یا رقیب، جانوران رفتارهای غذایابی خود را تغییر می‌دهند و در حالتی آماده و گوش

به زنگ به غذایابی مشغول می‌شوند.

گاهی جانوران غذایی را مصرف می‌کنند که محتوای انرژی چندانی ندارد اما مورد نیاز آنها را

تأمین می‌کند. برای مثال طوطی‌هایی که در شکل ۱۲ می‌بینید خاک رس می‌خورند تا مواد سمی حاصل

بعضی طوطی‌ها برای خنثی‌شدن مواد سمی

حاصل از غذاهای گیاهی، چه چیزی مصرف می‌کنند؟ (خرداد ۹۹)

از غذاهای گیاهی را در لوله گوارش آنها خنثی کند.



شکل ۱۲- تغذیه طوطی‌ها از خاک رس

- ۱- Foraging
- ۲- Optimal Foraging

تألیفی: قلمروخواهی چیست و به چه شکل‌هایی قابل انجام است (۲ مورد)؟



شکل ۱۳- قلمروخواهی در قو، سرخورد
مازندران

قلمروخواهی: قلمرو یک جانور، بخشی از محدوده جغرافیایی

است که جانور در آن زندگی می‌کند. جانوران در برابر افراد هم‌گونه یا افراد گونه‌های دیگر از قلمرو خود دفاع می‌کنند. این رفتار **قلمروخواهی** نام دارد. جانور با رفتارهایی مانند اجرای نمایش و یا تهاجم به جانوران دیگر اعلام می‌کند که قلمرو متعلق به آن است. مثلاً یک پرندۀ با آواز خواندن سعی می‌کند از ورود پرندۀ مزاحم به قلمرو خود جلوگیری کند. اگر آواز مؤثر نباشد، ممکن است پرندۀ صاحب قلمرو برای بیرون راندن مزاحم به آن حمله کند (شکل ۱۳). این فعالیت‌ها نیازمند صرف زمان و مصرف انرژی است. تهاجم ممکن است به آسیب دیدن پرندۀ صاحب قلمرو هم بینجامد. آواز خواندن

ممکن است موقعیت پرندۀ را برای شکارچی آشکار کند. چرا پرندۀ هزینه‌های دفاع از قلمرو را می‌پذیرد؟ قلمروخواهی برای جانوران فایده‌هایی دارد: استفاده اختصاصی از منابع قلمرو می‌تواند غذا و انرژی دریافتی جانور را افزایش دهد. امکان جفت‌یابی جانور و دسترسی به پناهگاه برای در امان ماندن از شکارچی نیز افزایش می‌یابد.

دو مورد از فایده‌های قلمروخواهی در جانوران را بنویسید؟ (خرداد ۱۴۰۱)

مهاجرت: هر ساله با آغاز فصل پاییز پرندگان مهاجر از سیبری و اروپا به تالاب‌ها و آبگیرهای شمال

جاخالی (دی ۹۸)



شکل ۱۴- پرندگان مهاجر به پناهگاه جانوران مهاجر برای جهت‌یابی هنگام روز از

جابه‌جایی طولانی و رفت و برگشتی جانوران مهاجرت نام دارد

تغییر فصل و نامساعد شدن شرایط محیط و کاهش منابع مورد نیاز، جانوران را وامی‌دارد به سوی زیستگاه‌های مناسب‌تر برای تغذیه، بقا و زادآوری مهاجرت کنند. مهاجرت رفتاری غریزی است که یادگیری نیز در آن نقش دارد. بررسی مهاجرت سارها نشان داده است سارهایی که تجربه مهاجرت دارند بهتر از آنهایی که برای نخستین بار مهاجرت می‌کنند، مسیر مهاجرت را تشخیص می‌دهند.

در مسیر مهاجرت بسیاری از جانوران از جاهایی عبور می‌کنند که قبلاً در آنجاها نبوده‌اند. پس آنها چگونه در این محیط‌های نا آشنا،

راه خود را پیدا می‌کنند؟ جانوران برای جهت‌یابی از نشانه‌های محیطی استفاده می‌کنند. مثلاً جهت‌یابی هنگام روز با استفاده از موقعیت خورشید و در شب با استفاده از موقعیت ستاره‌ها در آسمان انجام می‌شود.

وقتی هوا ابری است جانوران چگونه مسیر حرکت را تشخیص می‌دهند؟ آیا میدان مغناطیسی زمین در جهت‌یابی جانوران نقش دارد؟ برای پاسخ به این پرسش، پژوهشگران در یک روز ابری آهنربای کوچکی را روی سر کبوتر خانگی قرار دادند. با وجود این آهنربا، پرندۀ نتوانست مسیر درست را بیابد و به لانه باز گردد. پژوهشگران نتیجه گرفتند کبوتر خانگی می‌تواند موقعیت خود را نسبت به میدان مغناطیسی زمین احساس و با استفاده از آن جهت‌یابی کند. پژوهشگران در سر بعضی از پرندۀ ذرات

تألیفی: کبوتر خانگی در روزهای ابری چگونه مسیر حرکت خود را می‌یابد؟

بیشتر بدانید

لاک پشت‌های دریایی منقار عقابی (*Eretmochelys imbricata*) به شدت در خطر انقراض قرار دارند. این جانوران در طول فصل زادآوری یعنی از اسفند تا تیرماه برای تخم‌گذاری به آب‌های منطقه خلیج فارس و دریای عمان مهاجرت می‌کنند. پناهگاه حیات وحش و تالاب بین‌المللی شیدور و جزیره هندورابی در استان هرمزگان و جزایر ام‌الکرم و نخیلو در استان بوشهر مهم‌ترین مناطق لانه‌سازی این جانور است. پروژه ردیابی ماهواره‌ای مهاجرت لاک پشت‌های دریایی در منطقه خلیج فارس و دریای عمان به پیشنهاد و حمایت مالی دفتر منطقه‌ای صندوق جهانی حیات وحش و بنیاد تحقیقات دریایی آژانس حفاظت محیط زیست ابوظبی و با مشارکت کشورهای ایران، قطر، امارات و عمان در فروردین سال ۱۳۸۹ بانصب پنج ردیاب روی لاک پشت‌های منقار عقابی در جزیره شیدور در ایران انجام شد.



تکس از انصر مبارکی

لاک پشت منقار عقابی با ردیاب رادیویی

آهن مغناطیسی شده نیز یافته‌اند. لاک پشت‌های دریایی ماده پس از طی مسافت‌های طولانی، برای تخم‌گذاری به ساحل دریا می‌آیند و پس از تخم‌گذاری دوباره به دریا باز می‌گردند. به نظر می‌رسد میدان مغناطیسی زمین در جهت‌یابی لاک پشت‌ها نیز نقش دارد.

خواب زمستانی و رکود تابستانی

چرا جانوران پیش از ورود به خواب زمستانی غذای زیادی مصرف می‌کنند؟ (دی ۹۹)

برخی جانوران برای بقاء، در زمستان، خواب زمستانی^۱ دارند. در این حالت جانور به خواب عمیقی فرو می‌رود و یک دوره کاهش فعالیت را طی می‌کند که در آن دمای بدن، مصرف اکسیژن، تعداد تنفس جانور و نیاز جانور به انرژی کاهش می‌یابد. پیش از ورود به خواب زمستانی، جانور مقدار زیادی غذا مصرف می‌کند و در بدن آن چربی لازم به مقدار کافی ذخیره می‌شود تا هنگام خواب به مصرف برسد. رکود تابستانی^۲ نیز یک دوره کاهش فعالیت است که در آن سوخت‌وساز جانور کاهش پیدا می‌کند. رکود تابستانی در جانورانی دیده می‌شود که در جاهای به شدت گرم مانند بیابان زندگی می‌کنند. این جانوران در پاسخ به نبود غذا یا دوره‌های خشک سالی، رکود تابستانی انجام می‌دهند.

مربوط به کدام رفتار؟ (خرداد ۱۴۰۱)

بیشتر بدانید

خرس قهوه‌ای (*Ursus arctos*) در ایران زندگی می‌کند. برخی از این جانوران حالتی شبیه خواب زمستانی دارند و گاهی وقتی هوا گرم‌تر است از خواب بیدار می‌شوند. این خرس‌ها معمولاً از انسان دوری می‌کنند ولی خرس‌هایی که از خواب بیدار شده‌اند، ممکن است رفتاری تهاجمی داشته باشند...



تکس از حسین خانی

خرس قهوه‌ای در پناهگاه حیات وحش دودانگه و چهاردانگه مازندران

جانورانی که رکود تابستانی دارند، در چه جاهایی زندگی می‌کنند؟ (شهریور ۹۸)

فعالیت ۵

لاک پشتی که در شکل روبه‌رو می‌بینید، حتی وقتی در آزمایشگاه قرار دارد و غذا و آب کافی دریافت می‌کند، رکود تابستانی را نشان می‌دهد. چرا رکود تابستانی را رفتاری ژنی می‌دانند؟



علائم دریافتی از ردیاب ماهواره‌ای ضمن کمک در شناسایی مسیرهای مهاجرت و مکان‌های تغذیه این جانوران، اطلاعات بسیار مهمی درباره رفتارهای تولیدمثلی و مهاجرتی آنها فراهم می‌سازد.



نمای کلی از مسیر حرکت لاک پشت‌های ایران و نقاط تجمع و تغذیه لاک پشت‌های ردیابی شده

۱- Hibernation
۲- Aestivation

برخی از جانوران زندگی گروهی دارند. برای زندگی در گروه، جانوران باید بتوانند با هم ارتباط برقرار کنند.

ارتباط بین جانوران

می‌دانید بعضی جانوران مانند زنبورها با استفاده از فرمون با یکدیگر ارتباط برقرار می‌کنند. جوجه کاکایی با لمس منقار والد با او ایجاد ارتباط و غذا درخواست می‌کند. جانوران از راه‌های گوناگون مانند تولید صدا، علامت‌های دیداری، بو و لمس کردن با یکدیگر ارتباط برقرار ساخته و اطلاعات مبادله می‌کنند. در نتیجه این ارتباط، رفتار آنها تغییر می‌کند. صدای جیرجیرک نر، اطلاعاتی مانند گونه و جنسیت را به اطلاع جیرجیرک ماده می‌رساند. برقراری ارتباط برای یافتن غذا را در زنبورهای عسل بررسی می‌کنیم.

ارتباط در زنبورهای عسل: زنبورهای کارگر شهد و گرده گل‌ها را جمع‌آوری کرده و به کندو می‌آورند. وقتی زنبور کارگر منبع غذایی جدیدی پیدا می‌کند و به کندو باز می‌گردد، خیلی طول نمی‌کشد که تعداد زیادی زنبور کارگر در محل آن منبع غذایی دیده می‌شوند. چرا چنین است؟ زنبور یابنده پس از بازگشت، اطلاعات خود درباره منبع غذایی را به زنبورهای دیگر ارائه می‌کند. این زنبور با انجام حرکات ویژه‌ای اطلاعات خود را به زنبورهای دیگر نشان می‌دهد. زنبورهای کارگر با مشاهده این حرکات، فاصله تقریبی کندو تا محل منبع غذا و جهتی را که باید پرواز کنند، درمی‌یابند. برای مثال هرچه صدای وز وز متفاوتی نیز دارد. زنبورهای کارگر با استفاده از اطلاعات کلی که از زنبور یابنده درباره منبع غذایی دریافت کرده‌اند، به سمت آن پرواز و به کمک بویایی خود، محل دقیق غذا را پیدا می‌کنند. این روش برقراری ارتباط چه مزیتی برای زنبورها دارد؟ وقتی زنبورهای کارگر قبل از جست‌وجو درباره محل منبع غذا اطلاعات داشته باشند، با صرف انرژی کمتر و در زمان کوتاه‌تری محل دقیق آن را پیدا می‌کنند.

جیرجیرک نر با صدای خود چه اطلاعاتی

را به جیرجیرک ماده می‌رساند؟ (دی ۱۴۰۰)

چگونه زنبورهای کارگر داخل کندو از

فاصله تقریبی منبع غذایی آگاه می‌شوند؟ (خرداد ۱۴۰۰)

علت دریافت اطلاعات از زنبور یابنده

توسط زنبورهای کارگر چیست؟ (خرداد ۹۸)

مزیت ارتباط زنبور یابنده و کارگر چیست؟ (شهریور ۱۴۰۰)

در زندگی گروهی، برقراری ارتباط زنبور یابنده غذا

چه مزیتی برای زنبورهای کارگر دارد؟ (خرداد ۱۴۰۱)

بیشتر بدانید

کشف روش ارتباط در زنبورهای عسل از پژوهش‌های کارل فون فریش (۱۹۸۲-۱۸۸۶) است.



بیشتر بدانید

زنبور یابنده با انجام حرکات در زاویه‌ای مشخص با خط عمود، زاویه بین منبع غذا، کندو و خورشید را نشان می‌دهد. مثلاً همان طور که در شکل زیر می‌بینید، منبع غذا در سمت راست خورشید با زاویه‌ای ۳۰ درجه قرار دارد.



زندگی گروهی

برخی جانوران مانند مورچه و گرگ به شکل گروهی زندگی می کنند و با هم همکاری دارند. زندگی گروهی برای این جانوران چه فایده ای دارد؟ جانوران از زندگی گروهی سود می برند. برای مثال احتمال شکار شدن جانور در گروه کمتر است زیرا نگهبان های گروه، محیط اطراف را زیر نظر می گیرند. دسترسی به منابع غذایی نیز ممکن است افزایش یابد زیرا همان طور که در زنبورهای عسل دیدید، جانور می تواند درباره محل منبع غذا از جانوران دیگر گروه اطلاعات کسب کند. شکار گروهی نیز موفقیت بیشتری دارد زیرا افراد یک گروه می توانند شکار بزرگ تری را به دام بیندازند.

تألیفی: چند نمونه از فایده های زندگی گروهی را بنویسید؟

اجتماع مورچه ها از گروه هایی تشکیل شده است که در اندازه، شکل و کارهایی که انجام می دهند تفاوت دارند. مثلاً در اجتماع مورچه های برگ بر، کارگرها اندازه های متفاوتی دارند. تعدادی از آنها برگ ها را برش می دهند و به لانه حمل می کنند و گروهی دیگر کار دفاع را انجام می دهند (شکل ۱۵). این مورچه ها قطعه های برگ را به عنوان کود برای پرورش نوعی قارچ که از آن تغذیه می کنند، به کار می برند.

تألیفی: چرا در اجتماع مورچه های برگ بر، کارگرها اندازه های متفاوتی دارند؟
وظیفه هر یک از آنها چیست؟

جاخالی تألیفی



در اجتماع مورچه های برگ بر، وظیفه مورچه های کوچک چیست؟ (خرداد ۹۹)

شکل ۱۵- مورچه بزرگ، کارگری است که برگ را به لانه حمل و مورچه های کوچک تر از آن دفاع می کنند.

رفتار دگرخواهی

در بین جانورانی که زندگی گروهی دارند، افراد نگهبانی هستند که با تولید صدا حضور شکارچی را به دیگران هشدار می دهند تا به موقع فرار کنند. البته آنها با این کار توجه شکارچی را به خود جلب کرده، احتمال بقای خود را کاهش می دهند (شکل ۱۶). زنبورهای عسل کارگر، نازا هستند و نگهداری و پرورش زاده های ملکه را انجام می دهند. جانوران نگهبان و زنبورهای عسل کارگر رفتار دگرخواهی دارند. دگرخواهی رفتاری است که در آن یک جانور بقا و موفقیت تولیدمثلی جانور دیگری را با هزینه کاسته شدن

وظیفه افراد نگهبان در گروه جانوران چیست؟ (دی ۹۹)

سؤال جاخالی (شهریور ۹۸)

۱- Altruism

نگهداری و پرورش زاده های ملکه که توسط زنبورهای عسل کارگر انجام می شود:

چه نوع رفتاری است؟ (خرداد ۹۹)

از احتمال بقا و تولیدمثل خود، افزایش می دهد. چرا جانوران رفتار دگرخواهی انجام می دهند؟ افراد نگهبان در گروه جانوران و یا زنبورهای عسل، رفتار دگرخواهی را نسبت به خویشاوندان خود انجام می دهند. آنها با خویشاوندانشان، ژن های مشترکی دارند. بنابراین اگرچه این جانوران خود زاده ای نخواهند داشت، ولی خویشاوندان آنها می توانند زادآوری کرده و ژن های مشترک را به نسل بعد منتقل کنند. به همین علت است که براساس انتخاب طبیعی، رفتار دگرخواهی برگزیده شده است.

در نمونه ای دیگر از دگرخواهی جانوران با یکدیگر گروه همکاری تشکیل می دهند. برای



شکل ۱۶- این دم عصایی (meerkat) درحال نگهبانی است. او در هنگام احساس وجود شکارچی دیگران را با فریاد آگاه می کند.

مثال خفاش های خون آشام به طور گروهی درون غارها یا سوراخ درختان زندگی می کنند. غذای آنها خون پستانداران بزرگ مثل دام هاست (شکل ۱۷). این خفاش ها خونی را که خورده اند با یکدیگر به اشتراک می گذارند. خفاشی که غذا خورده است کمی از خون خورده شده را برمی گرداند تا خفاش گرسنه آن را بخورد. در غیر این صورت خفاش گرسنه خواهد مرد. خفاشی که غذا دریافت کرده، کار خفاش دگرخواه را در آینده جبران می کند. اگر جبران انجام نشود، این خفاش از اشتراک غذا کنار گذاشته می شود.



شکل ۱۷- خفاش خون آشام از خون پستانداران تغذیه می کند.

سؤال شکل: نام این رفتار در زندگی گروهی چیست؟ (دی ۱۴۰۱)

تألیفی: رفتار دگرخواهی ممکن نیست که به سود خود فرد باشد (ص/غ)؟

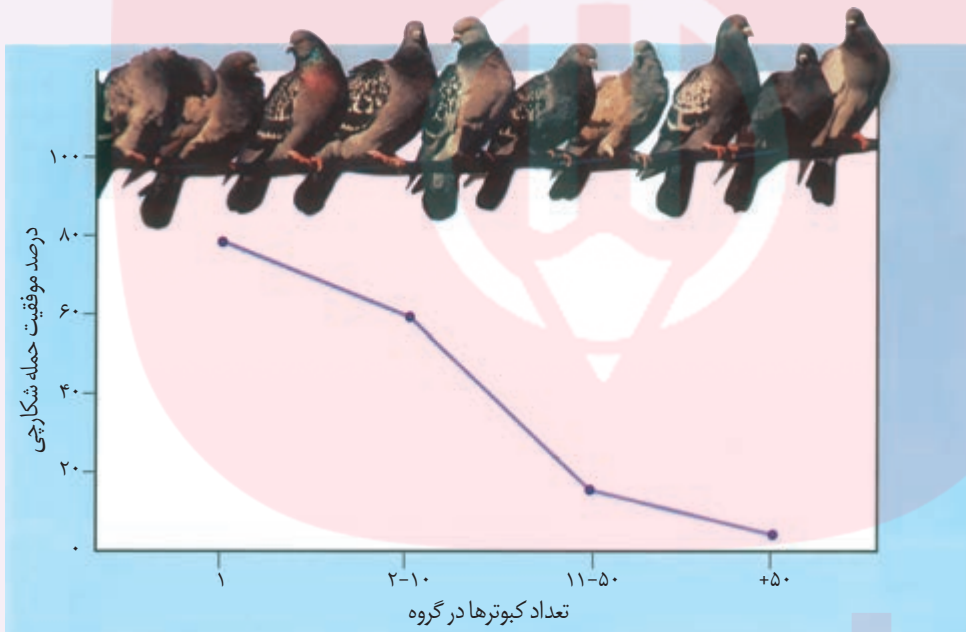
خفاش‌هایی که دگرخواهی انجام می‌دهند، لزوماً خوبشاوند نیستند. در واقع، رفتار دگرخواهی که در اثر انتخاب طبیعی برگزیده شده، به بقای آنها منجر می‌شود.

گاهی دگرخواهی، رفتاری به نفع خود فرد است. در میان پرندگان، افراد یاریگری هستند که در پرورش زاده‌ها به والدین آنها یاری می‌رسانند. مشخص شده است وجود این یاریگرها احتمال بقای زاده‌ها را افزایش می‌دهد. یاریگرها اغلب پرنده‌های جوانی‌اند که با کمک به والدین صاحب لانه، تجربه کسب می‌کنند و هنگام زادآوری می‌توانند از این تجربه‌ها برای پرورش زاده‌های خود استفاده کنند یا با مرگ احتمالی جفت‌های زادآور، قلمرو آنها را تصاحب و خود زادآوری کنند.

تألیفی: پرنده‌های یاریگر، چه سودی از دگرخواهی می‌برند؟

فعالیت ۶

نمودار زیر مزیت زندگی گروهی را نشان می‌دهد، آن را تفسیر کنید.



مای دارس

گروه آموزشی عصر

www.my-dars.ir