

نام و نام خانوادگی:

(۱) قبل و بعد اعداد زیر را بنویسید.

..... - ۶۰ - -

..... - ۷۸ - -

(۲) از علامت‌های مناسب استفاده کنید.

الف) ۲۰ ۳۴

ب) ۱۵ ۱۸

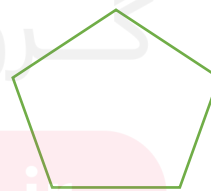
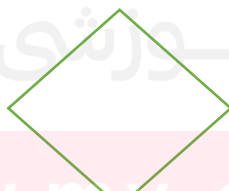
ج) ۲ ۵

(۳) رضا ۴ مداد آبی و ۷ مداد قرمز دارد. رضا چند مداد دارد؟

(۴) به دسته‌های دو تایی تقسیم کنید.



(۵) هر شکل چند گوشه دارد. عدد آن را بنویسید.





۶) از عدد ۴۷ تا ۶۹ را به ترتیب بنویسید.

۷) برای تفریق داده شده شکل بکشید و باقیمانده را به دست آورید.

$$۷ - ۵ = \dots$$

۸) شکل سمت چپ را رنگ کنید.



مای دررس

گروه آموزشی عصر
موفق باشین

www.my-dars.ir