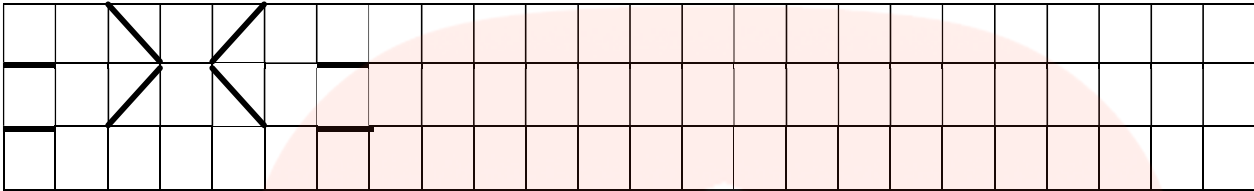



















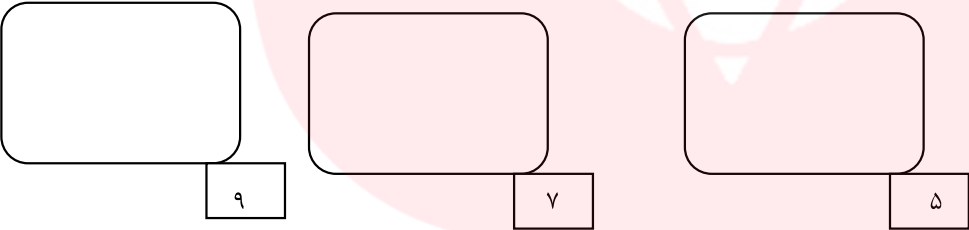
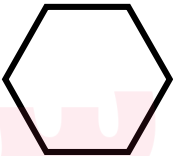



| | | | | | | | | | | | | | | | | | |
|---|---|---|---|---|---|---|---|---|---|---|---|---|---|---|--|--|---|
| | ردیف | | | | | | | | | | | | | | | | |
| <p>مانند نمونه ادامه بده .</p>  | ۱ | | | | | | | | | | | | | | | | |
| <p>برای شکل زیر یک عبارت تفریق بنویس .</p>  <p>..... - =</p> | ۲ | | | | | | | | | | | | | | | | |
| <p>جدول را با شکل مناسب کامل کن .</p> <table border="1" data-bbox="61 709 574 932"> <tr> <td></td> <td></td> <td></td> </tr> <tr> <td></td> <td></td> <td></td> </tr> <tr> <td></td> <td></td> <td></td> </tr> </table> |  |  |  |  | |  |  | | | ۳ | | | | | | | |
|  |  |  | | | | | | | | | | | | | | | |
|  | |  | | | | | | | | | | | | | | | |
|  | | | | | | | | | | | | | | | | | |
| <p>برای اعداد زیر شکل بکش .</p>  | ۴ | | | | | | | | | | | | | | | | |
| <p>تعداد گوشه های شکل روبرو را بشمارو بنویس .</p>  <p>..... گوشه</p> | ۵ | | | | | | | | | | | | | | | | |
| <p>مربع های شگفت انگیز را با عددهای مناسب کامل کن .</p> <table border="1" data-bbox="61 1497 781 1801"> <tr> <td>۳</td> <td>۴</td> <td>۱</td> <td>۲</td> </tr> <tr> <td>۱</td> <td>۲</td> <td>۴</td> <td>۳</td> </tr> <tr> <td>۴</td> <td></td> <td>۲</td> <td>۳</td> </tr> <tr> <td>۲</td> <td>۳</td> <td></td> <td></td> </tr> </table> | ۳ | ۴ | ۱ | ۲ | ۱ | ۲ | ۴ | ۳ | ۴ | | ۲ | ۳ | ۲ | ۳ | | | ۶ |
| ۳ | ۴ | ۱ | ۲ | | | | | | | | | | | | | | |
| ۱ | ۲ | ۴ | ۳ | | | | | | | | | | | | | | |
| ۴ | | ۲ | ۳ | | | | | | | | | | | | | | |
| ۲ | ۳ | | | | | | | | | | | | | | | | |
| <p>جمع و تفریق را انجام بده</p> <p> $۵ + ۲ = \text{----}$ $۵ - ۳ = \text{----}$ </p> <p> $۳ + ۴ = \text{.....}$ $۴ - ۱ = \text{.....}$ </p> | ۷ | | | | | | | | | | | | | | | | |

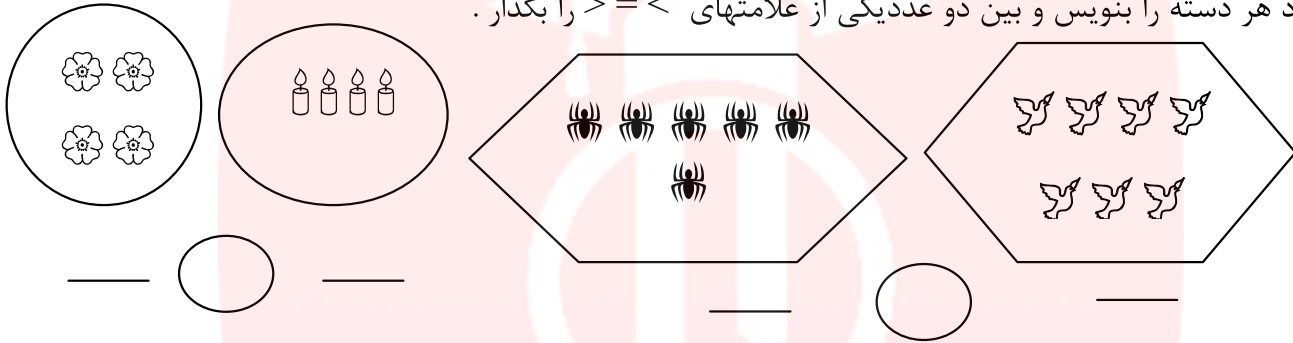
عدد مربوط به هر شکل را زیر آن بنویس .

۸



عدد هر دسته را بنویس و بین دو عددیکی از علامتهای $>$ $=$ $<$ را بگذار .

۹



به تعداد عددنوشته شده در ستون ها مربع رنگ کن و عدد ستون های رنگ شده را بنویس .

۱۰

| | | | | |
|---|---|--|---|--|
| | | | | |
| | | | | |
| | | | | |
| | | | | |
| | | | | |
| | | | | |
| | | | | |
| | | | | |
| ۲ | ۵ | | ۷ | |

عدد مربوط به هر شکل را بنویس با چوب خط حساب کن و حاصل جمع را بنویس

۱۱

