



تاریخ :

معلم :

بسمه تعالی
سوالات ریاضی
فصل هشتم

نام و نام خانوادگی :

پایه سوم دبستان

۱- جدول زیر را کامل کن.

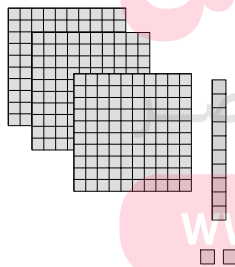
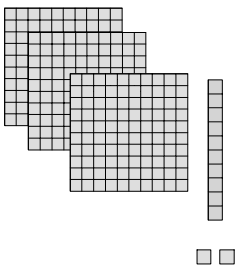
×	۱۰	۲۰	۳۰	۴۰	۵۰	۶۰
۳						
۳۰						
۳۰۰						

۲- قیمت ۱۰ مداد ۷۰۰ تومان است. قیمت ۱۹ مداد چند تومان است؟

.....

.....

۳- با توجه به شکل جاهای خالی را پر کن.



..... × =

..... × =

..... × =

۳۱۲ = + +

۲ × ۳۱۲ =

مای درس
گروه آموزشی عماد
www.my-dars.ir



نمونه سوال ریاضی

پایه سوم دبستان

فصل هشتم

۴- ساختمانی دارای ۱۲ طبقه است. هر طبقه ۳ واحد دارد. در هر واحد دو اتاق خواب وجود دارد. این ساختمان چند اتاق خواب دارد؟

.....
.....

۵- حاصل ضرب‌های زیر را بنویس.

$30 \times 60 = \dots\dots\dots$

$400 \times 80 = \dots\dots\dots$


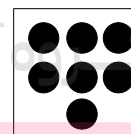




$20 \times 700 = \dots\dots\dots$

$200 \times 40 = \dots\dots\dots$

$90 \times 60 = \dots\dots\dots$

$200 \times 20 = \dots\dots\dots$

۶- برای هر شکل یک ضرب بنویس.



www.my-dars.ir

$\dots\dots\dots \times \dots\dots\dots = \dots\dots\dots$

$\dots\dots\dots \times \dots\dots\dots = \dots\dots\dots$



نمونه سوال ریاضی
پایه سوم دبستان
فصل هشتم

۷- کامل کن.

$$۲۰۰ \times \dots = ۲۰۰۰$$

$$۷۵ \times \dots = \dots$$

$$۲۰ \times \dots = ۶۰۰$$

$$\dots \times ۱۰ = ۶۰۰$$

$$۳۰۰۰ \times ۱ = \dots$$

$$\dots \times ۲۸ = ۲۸$$

$$\begin{array}{r} ۷۰ \quad | \quad ۸ \\ \hline \end{array}$$

$$\begin{array}{r} ۳۵ \quad | \quad ۳ \\ \hline \end{array}$$

$$\begin{array}{r} ۶۲ \quad | \quad ۹ \\ \hline \end{array}$$

۸- تقسیم‌های زیر را انجام بده.

$$\begin{array}{r} ۲۶۸ \quad | \quad ۸ \\ \hline \end{array}$$

$$\begin{array}{r} ۳۲ \quad | \quad ۴ \\ \hline \end{array}$$

$$\begin{array}{r} ۷۳ \quad | \quad ۹ \\ \hline \end{array}$$

۹- خارج قسمت و باقی‌مانده‌ی تقسیم‌های زیر را بنویس.

www.my-dars.ir

