

باسمه تعالی


نام و نام خانوادگی:

۱- حاصل ضرب های زیر را بدست آورید.

$200 \times 50 =$



$425 \times 100 =$




$80 \times 30 =$



۲- حاصل ضرب 4×195 را با استفاده از شکل بدست آورید.



۳- جاهای خالی را کامل کنید.



$\div 8$




$\times 5$




۴- حاصل ضرب های زیر را به صورت تقریبی حساب کن.

$53 \times 94 = \square \times \square = \square$



۵- ساعت ۲ و $\frac{25}{60}$ ساعت را روی شکل نشان دهید.



www.my-dars.ir



۶- احتمال اینکه عقربه ساعت شمار در ۱۲ ساعت روی عدد زوج قرار بگیرد چه کسری است؟



۷- نام شکل های زیر را بنویسید.



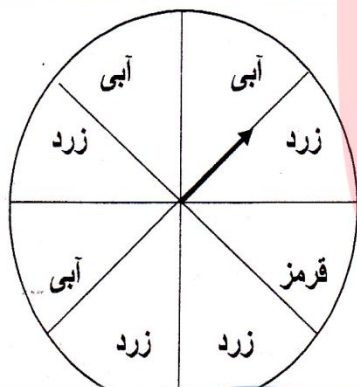
.....

.....

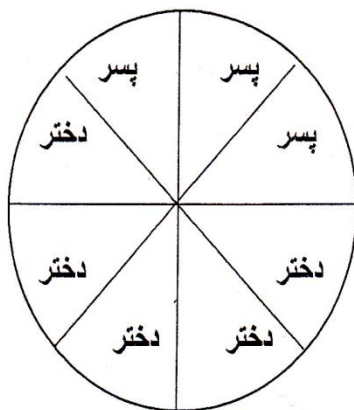
.....

.....

۸- در شکل زیر دایره به ۸ قسمت مساوی تقسیم شده است.
چرخنده می چرخد و عقربه روی یکی از رنگ ها می ایستد.
الف) احتمال ایستادن عقربه روی کدام رنگ بیشتر است؟ چرا؟
ب) احتمال ایستادن عقربه روی کدام رنگ کم تر است؟ چرا؟



۹- در مهد کودک ستاره شهر ۴۰ دختر و پسر در مسابقه نقاشی شرکت کردند. با توجه به نمودار چند دختر و پسر در مسابقه نقاشی شرکت کرده اند؟ (هر قسمت نشان دهنده ی ۵ نفر است)



شرکت کرده اند؟ (هر قسمت نشان دهنده ی ۵ نفر است)

