


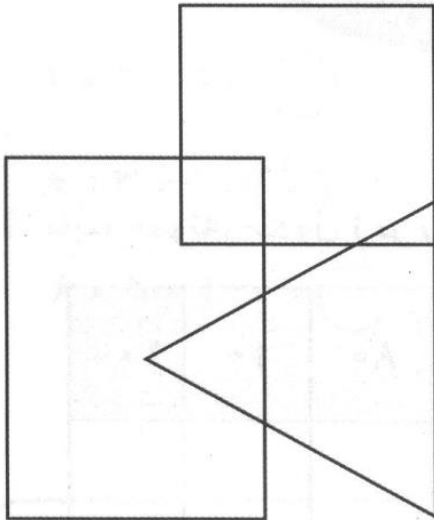
● بزرگ‌ترین عدد چهاررقمی فرد بدون تکرار ارقام



● کوچک‌ترین عدد چهاررقمی بدون تکرار ارقام



۳. عددهای ۰ تا ۹ در شکل زیر قرار دارند. با توجه به توضیحات داده شده آن‌ها را در جای خود قرار دهید.



● در مثلث فقط عددهای زوج است.

● عدد ۵ هم در مربع است هم در مستطیل.

● عدد ۱ و ۳ فقط در مستطیل است.

● عدد ۲ هم در مربع است و هم در مثلث.

● عدد ۴ هم در مستطیل است هم در مثلث.

● عدد ۷ فقط در مربع است.

۴. با چهار رقم ۵، ۰، ۲ و ۸ چند عدد چهاررقمی غیر تکراری، بزرگ‌تر از ۵۰۰۰ می‌توان نوشت؟

۵. با توجه به شکل زیر پاسخ دهید. www.my-dars.ir

عدد _____ و _____ بین دایره و مربع و مستطیل مشترک است.

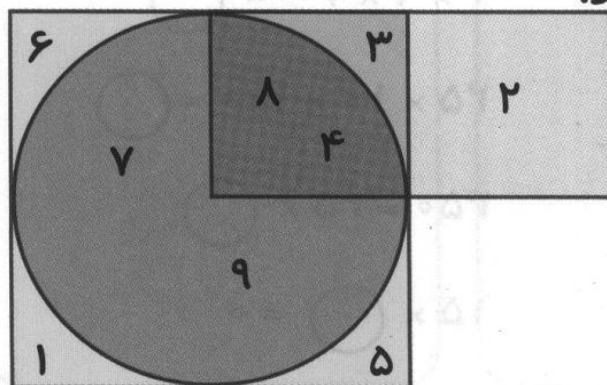
عدد _____ و _____ فقط در مربع قرار دارند.

عدد _____ و _____ هم در مربع و هم در دایره قرار

دارند.

عدد _____ هم در مربع و هم در مستطیل قرار دارد.

عدد _____ فقط در مستطیل قرار دارد.



۶. برای عبارتهای زیر، تساوی ضرب بنویسید.

$$\underline{\quad} \times \underline{\quad} = \underline{\quad}$$

۶ ده تایی می شود:

$$\underline{\quad} \times \underline{\quad} = \underline{\quad}$$

۹ ده تایی می شود:

$$\underline{\quad} \times \underline{\quad} = \underline{\quad}$$

۱۵ ده تایی می شود:

$$\underline{\quad} \times 100 = \underline{\quad}$$

۱۲۰ یعنی: تا ده تایی

$$3 \times \underline{\quad} = \underline{\quad}$$

۳۰۰ یعنی: ۳ تا

۷. پدر احمد روزی ۲۰ آیه از قرآن کریم را تلاوت می کند. او در سه ماه چند آیه تلاوت می کند؟ (اگر هر ماه را ۳۰ روز در نظر بگیریم)

۸. آپارتمان محمدتپه، ۵ طبقه دارد. هر طبقه ۲ واحد دارد و در هر واحد ۳ اتاق خواب وجود دارد. آپارتمان آنها چند اتاق خواب دارد؟

۹. اگر یک جعبه، ۱۷ کیلوگرم گوجه فرنگی داشته باشد. در ۱۰ جعبه، چند کیلوگرم گوجه فرنگی وجود دارد؟



۱۰. هر دست قاشق و چنگال، ۱۰۲ عدد است. ۱۰۰ دست قاشق و چنگال، چند عدد است؟