

نام و نام خانوادگی :

آزمون و تمرین ریاضی

تاریخ :

۱- هر دست قاشق ۶ قاشق است . سه دست قاشق چند قاشق است ؟

۲- روی میز ۴ بشقاب بود . در هر بشقاب ، ۵ گیلان و ۳ زردآلو گذاشتیم . روی میز چند میوه وجود دارد؟

۳- مسئله ی زیر را با توجه به راه حل ، کامل کن .

.....مسافر در راه ایستاده اند. اگر هر تاکسیمسافر سوار کند، این مسافرها با چند تاکسی می توانند به مقصد

برسند؟

$$۲۰ \div ۴ = \dots\dots\dots$$

۴- تقسیم های زیر را روی محور نشان بده.

$$۱۲ \div ۴ =$$

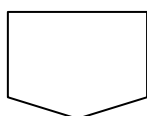
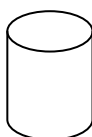
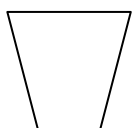
$$۱۴ \div ۲ =$$

۵- با توجه به پرانتزها ، جاهای خالی را پرکن .

$$(۲+۵) \times (۲+۱) = \dots\dots\dots \times \dots\dots\dots = \dots\dots\dots$$

$$(۳+۴) + (۲ \times ۳) = \dots\dots\dots + \dots\dots\dots = \dots\dots\dots$$

۶- در شکل های زیر خط های موازی را هم رنگ کن.



۷ - جدول زیر را کامل کن.

×	۵	۸	۴	۳
۶				

×	۵	۷	۶	۴
۹				

۸ - عددی را به اضافه ی ۱۰ کردیم ، حاصل ۱۷ شد . آن عدد چیست ؟

۹ - زهرا ۸ سال و مادرش ۳۲ سال دارد. سن مادر زهرا چند برابر سن اوست ؟

۱۰ - یک صندلی ۴ پایه دارد .

۲ صندلی چند پایه دارد ؟.....

۳ صندلی چند پایه دارد ؟.....

۱۱ - مسئله ای بنویسید که راه حل آن $۵=۹$ باشد.

مای درس

گروه آموزشی عصر

www.my-dars.ir

با مشاهده ، دیدن ، انتخاب کردن و با تمرین می توان دانش آموخت