

آزمون ریاضی کلاس سوم - فصل ۷

نام :

آموزشگاه : _____

نام خانوادگی :

تاریخ :

۱- مدیر دبستانی تعداد علاقه مندان به بازی های فوتبال ، والیبال و هندبال را در بین کلاس های سوم جمع آوری کرد و در جدول زیر نوشت با توجه به آن ، سوالات را پاسخ بده.

سوم ۱			سوم ۲			سوم ۳		
فوتبال	والیبال	هندبال	فوتبال	والیبال	هندبال	فوتبال	والیبال	هندبال
۱۱	۱۳	۲	۱۰	۸	۴	۱۵	۹	۷

الف - تعداد دانش آموزان علاقه مند به هر سه ورزش در کلاس سوم چند نفر است ؟

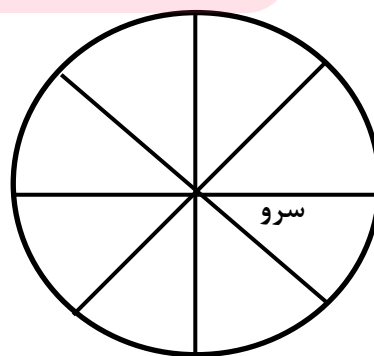
ب-تعداد علاقه مندان به والیبال در بین همه ی کلاس ها چند نفر هستند؟

پ - تعداد علاقه مندان به فوتبال در کدام کلاس بیشتر است؟

۲- جدول زیر تعداد چهار نوع درخت را در یک پارک نشان می دهد. نمودار دایره ای مربوط به اطلاعات جدول زیر را کامل کن.

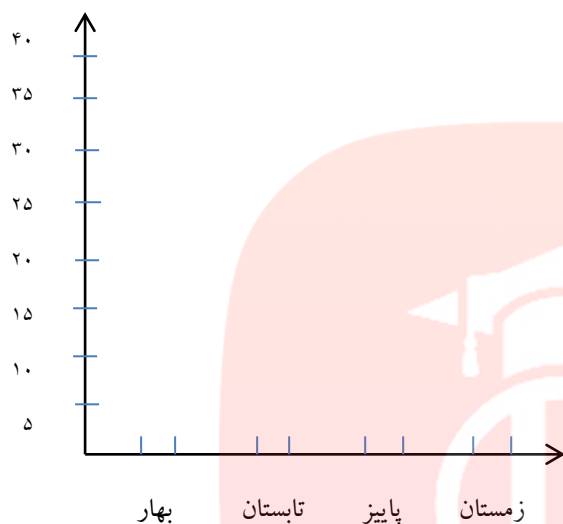
www.my-dars.ir

تعداد	نوع درخت
۱۰۰	کاج
۵۰	سرو
۱۵۰	بلوط
۱۰۰	توت

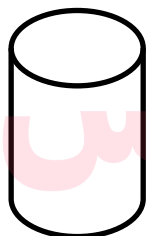


۳- در جدول زیر تعداد دانش آموزان کلاس سوم بر اساس فصل تولدشان نوشته شده است. نمودار ستونی مربوطه را رسم کن.

فصل	بهار	تابستان	پاییز	زمستان
تعداد	۲۰	۵	۵	۱۰



۴- نام شکل های زیر را بنویس.



.....

.....

۵- یک سکه را می اندازیم. چند حالت ممکن است اتفاق بیفتد؟ چرا؟

.....



موفق و سربلند باشی - رفیعی

