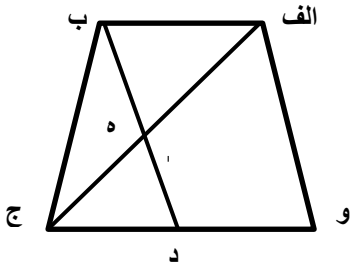


نام و نام خانوادگی :

بسمه تعالی

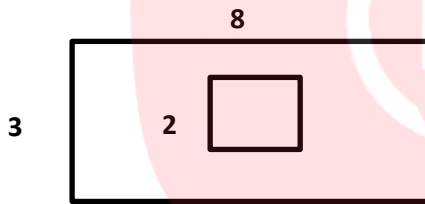
پایه سوم



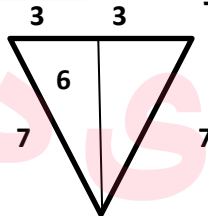
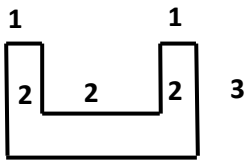
1) تعداد پاره خطهای شکل روبرو را بنویسید.

2) مجموع طول و عرض سفره ای مستطیل شکل 4 متر است. اگر طول این سفره 3 متر و قیمت هر متر مربع آن 2000 تومان باشد قیمت سفره چند تومان است؟

3) از وسط یک مقوای مستطیل شکل مربعی به ضلع 2 سانتی متر بریده ایم چند سانتی متر مربع از مقوا باقی مانده است.



4) محیط شکل های روبرو چند سانتی متر است.



5) هر ضلع مثلث متساوی الاضلاع 20 سانتی متر و طول مستطیل 60 سانتی متر است. محیط شکل زیر چند سانتی متر است.



6) محیط مربعی 24 سانتی متر است اندازه یک ضلع آن چند سانتی متر است.

7) مجموع طول و عرض مستطیل 50 متر است محیط مستطیل چند متر است؟

نام و نام خانوادگی :

بسمه تعالی

پایه سوم

9) دو برابر محیط یک مربع 16 سانتی متر اندازه هر ضلع آن چند سانتی متر است؟

10) محیط مربعی 28 سانتی متر است مساحت آن چند سانتی متر است؟

11) عرض مستطیلی نصف طول به اضافه 3 سانتی متر است اگر طول آن 18 سانتی متر باشد عرض آن چند سانتی متر است؟

12) تمام خطهای تقارن مربعی که اندازه ی هر ضلع آن 4 متر است را رسم نمودیم اندازه هر قسمت تشکیل شده چند متر مربع است؟

13) مستطیلی به طول 6 و عرض 2 متر داریم اگر خطهای تقارن آن را رسم کنیم ، مساحت هر قسمت چند متر مربع می شود؟

14) اگر ضلع مربعی را دو برابر کنیم اندازه ی محیط آن مربع چند برابر ضلع آن است؟

نام و نام خانوادگی :

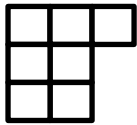
بسمه تعالی

پایه سوم

16) دور یک حوض مربع شکل به ضلع 2 متر را به فاصله ی 3 متر کاشی کاری نموده ایم چند متر کاشی کار شده است.



17) برای مقایسه دو عدد چه راههایی را باید طی کنیم (توضیح کامل)



18) تعداد مربع های شکل مقابل چند تا است؟

19) پانزده تا سیب روی میز است اگر علی دو تا بردارد او چند تا سیب دارد؟

20) در یک مسابقه دو پوریا از نفر سوم جلو زده است او اکنون نفر چندم است؟

21) دامداری 101 راس گوسفند داشت همه به جز 8 تای آنها مردند او حالا چند گوسفند دارد؟

22) خروس در روی بام خانه ای که شیب دو طرفه دارد تخم می گذارد این تخم در کدام طرف می افتد؟