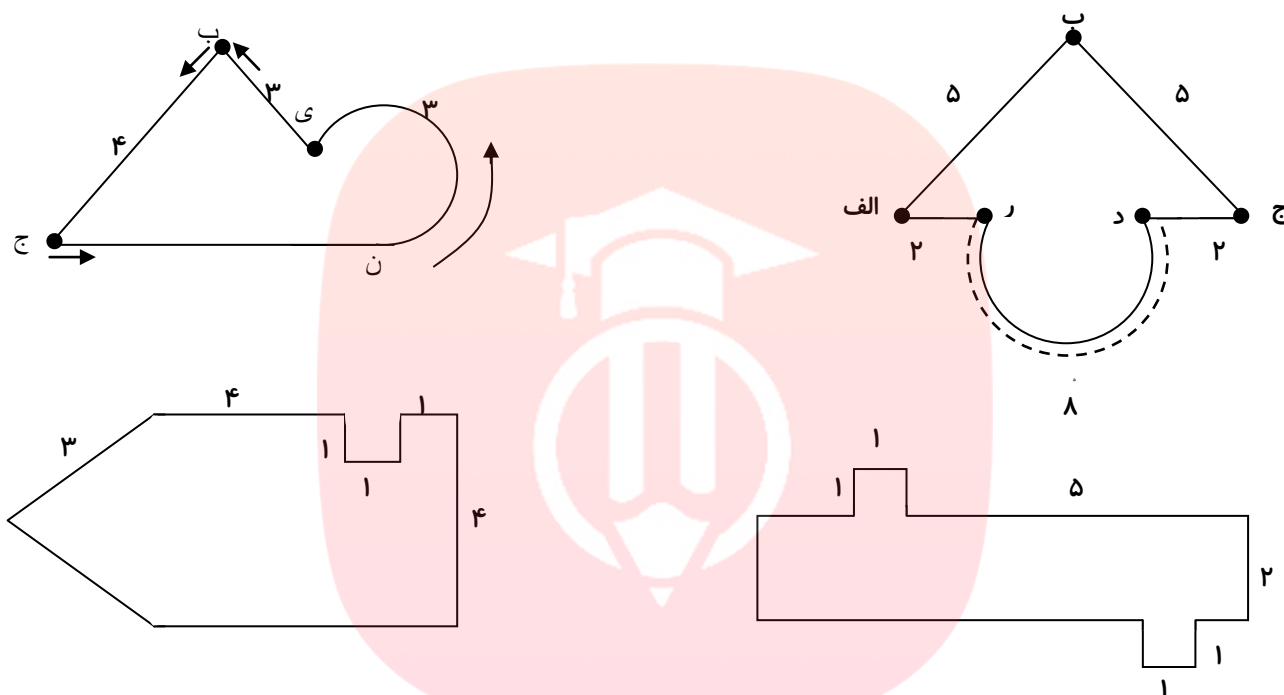
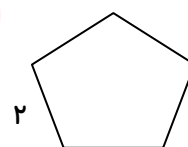


ریاضی

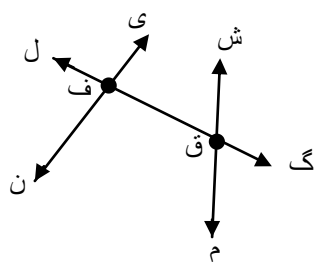
۱- محیط شکل های روبه رو را بدست آورید و نام پاره ها را بنویسید.



۲- در هر شکل، طول تمامی ضلع ها با هم برابر است. محیط آن ها را به کمک ضرب بدست آورید.



۳- مامان سحر می خواهد محیط جانماز سحر را که مستطیل شکل است به طول ۲۵ سانتی متر و عرض ۱۲ سانتی متر گل دوزی کند. چند سانتی متر باید بدوزد؟



۴- با توجه به شکل رو به رو جاهای خالی را کامل کنید.

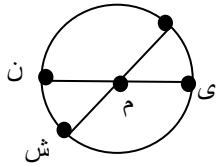
الف) (ف ق) یک ..... است.

ب) (ف ن) یک ..... است.

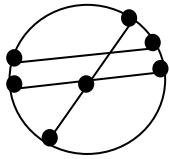
ج) طول خط (ش م) را ..... اندازه گرفت.

د) تنها طول ..... را می توان اندازه گرفت.

۵- عبارات درست و نادرست را مشخص کنید.



الف) در دایره ی روبرو ۶ پاره خط وجود دارد.  درست  نادرست



ب) در دایره ی رو به رو ۳ قطر وجود دارد.  درست  نادرست

ج) اندازه ی شعاع هر دایره ، دو برابر قطر آن است.  درست  نادرست

د) پاره خطی که یک سرش مرکز دایره و سر دیگرش روی دایره است، شعاع دایره نام دارد.  درست  نادرست

۶- می خواهیم ۶ خط راست رسم کنیم به طوری که هر خط با خط بعدی برخورد داشته باشد و از برخوردهای به دست آمده پاره خط های یکسان بوجود آید.

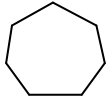

الف) شکل حاصل از برخوردهای خط چه شکلی است؟

ب) شکل را نام گذاری کنید.

ج) قطرهای آن را رسم کنید.

د) چند قطر دارد؟

۷- جدول زیر را کامل کنید.

شکل	تعداد ضلع	تعداد قطر
	۶	۵
		
		۰

گروه آموزشی عصر

www.my-dars.ir