


آزمون ریاضی پایه سوم ابتدایی

۱- در جاهای خالی عدد مناسب بنویسید.

..... یکی و ده تایی و صدتایی = ۹۷۸

۲- کتابخانه دبستان یادآوران ۴۲۳ کتاب داشت. دانش آموزان این دبستان ۷۳ کتاب را به دبستان دیگری هدیه کردند. حالا این کتابخانه چند کتاب دارد؟

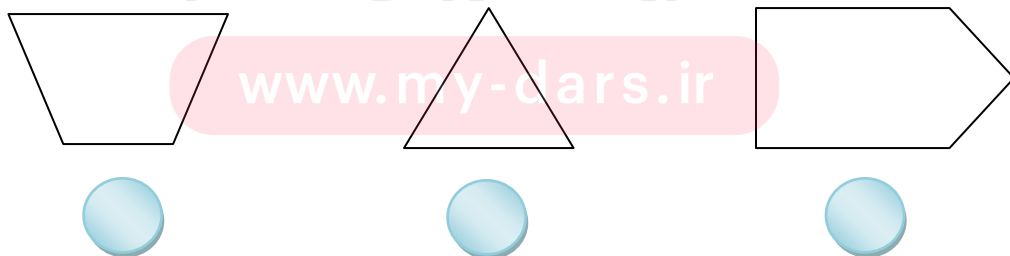
۳- با توجه به شکل مقدار هر کدام را در جدول ارزش مکانی نشان دهید.



۴- حاصل جمع و تفریق های زیر را بنویسید.

$+856$	-156	$+9874$	-1757	$+43087$
۱۲۳	۴۵۸	۳۴۳	۲۲۲	۴۳۲۴

۵- هر یک از شکلهای زیر چند ضلع دارد؟



۶- حامد روزی ۵۹ صفحه کتاب می خواند در ۷ روز او چند صفحه کتاب خواهد خواند؟

۷- در جاهای خالی عدد مناسب بنویسید.

$8 \times 7 = \square$

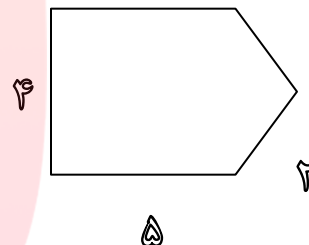
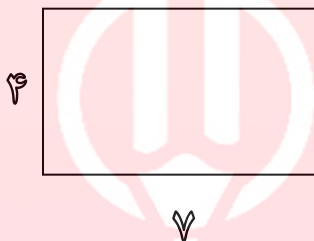
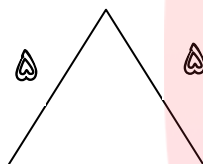
$9 \times 5 = \square$

$11 \times 4 = \square$

$7 \times 7 = \square$

۸- مادر علی خیاطی می کند. او به هر پیراهن ۵ دکمه می دوزد. ۳۰ دکمه را به چند پیراهن می تواند بدوزد؟

۹- محیط هر یک از شکل‌های زیر را حساب کنید.



۱۰- کلاسی ۳ ردیف میز و نیمکت دارد در هر ردیف ۴ میز و نیمکت چیده اند. اگر روی هر نیمکت ۳ دانش آموز بنشینند، این کلاس چند دانش آموز دارد؟

گروه آموزشی عصر

۱۱- تقسیم‌های زیر را انجام دهید.

$$\begin{array}{r} 16 \\ \hline 2 \end{array}$$

$$\begin{array}{r} 254 \\ \hline 4 \end{array}$$

$$\begin{array}{r} 30 \\ \hline 5 \end{array}$$

$$\begin{array}{r} 78 \\ \hline 4 \end{array}$$