

۱- الگوهای زیر را ادامه بده.

۱۹۹، ۲۰۲، ۲۰۵،،،،

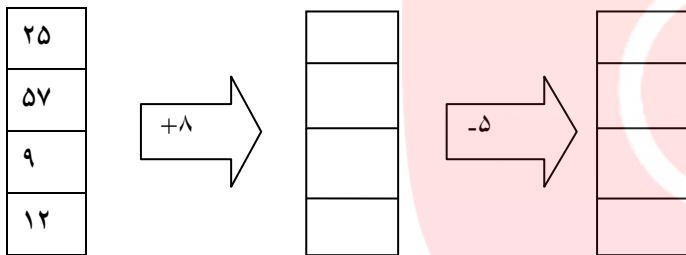
۱۰، ۱۳، ۱۵، ۱۸، ۲۰،،،،

۲- یک ساختمان ۴ طبقه دارد. هر طبقه ۳ واحد دارد. (با کشیدن شکل به سوال های زیر پاسخ بده)

۲ طبقه چند واحد دارد؟.....

۳ طبقه چند واحد دارد؟.....

۳- با توجه به کار این ماشین، اعدادی که از ماشین خارج می شود را بنویس.



۴- جاهای خالی را کامل کن.

ساعت ۲۱:۵۰ یعنی بعد از ظهر

ساعت ۱۸ یعنی بعد از ظهر

۱۰ دقیقه بعد از ساعت ۶:۳۰ می شود.....

۵ دقیقه قبل از ساعت ۴ می شود.....

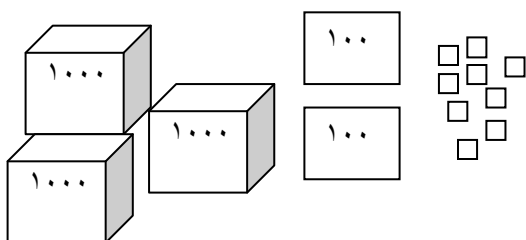
۵- اتومبیلی ساعت ۱۵ از تهران به سمت سمنان حرکت می کند و ساعت ۲۲ به مقصد می رسد. این اتومبیل چند ساعت در راه بوده است؟

www.my-dars.ir

۶- با توجه به شکل زیر عدد مربوط به شکل را به حروف و عدد بنویس و در جدول ارزش مکانی قرار بده.

حروف:.....

عدد:.....



۷- در جاهای خالی عدد مناسب بنویس .

۲۰۰۰ ریال یعنی تومان

۲۴۵۸ متر = کیلومتر و متر

۶ کیلومتر و ۱۰۵ متر یعنی متر

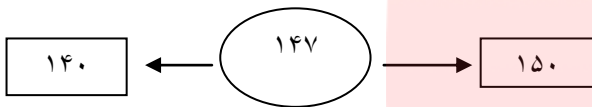
۴ کیلوگرم = گرم

۵۱ سانتی متر = میلی متر


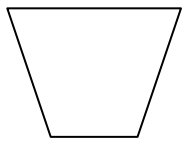
۳۹۰ میلی متر = سانتی متر

۸- احمد ۷۴۰ تومان و علی ۷۴۰۰ ریال پول دارند. کدام یک پول بیش تری دارند؟ چرا؟

۹- عدد داخل دایره به کدام عدد نزدیک تر است . آن را رنگ کن .



۱۰- خط تقارن شکل های زیر را بکش.



۱۱- باز شده ی هر عدد را بنویس .

۶۰۴۸ =

۳۱۵۸ =

www.my-dars.ir

۱۲- حسین یک سکه ۵ ریالی، ۳ سکه ۱۰ ریالی و ۲ سکه ۲۰ ریالی دارد. حسین چند ریال پول دارد؟

ارزشیابی معلم:

نیازم نداشتلاش بیشتر

قابل قبول

خوب

بسیار خوب