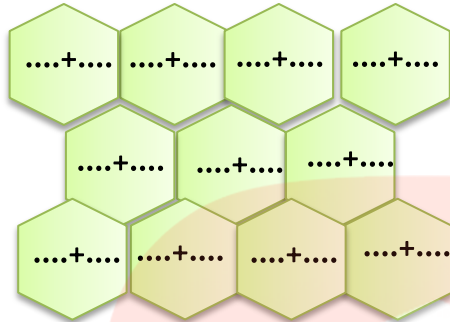


به نام خدا

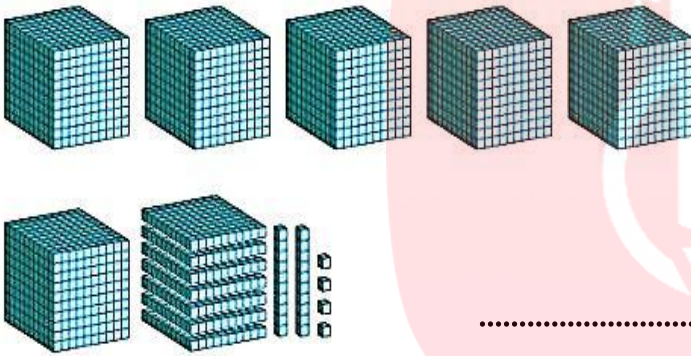
کلاس سوم ابتدایی

نام و نام خانوادگی:



۱. جمع های عدد ۱۰ را بنویسید.

۲. با توجه به شکل در جای خالی عدد و کلمه مناسب بنویس.



هزارگان	صدگان	دهگان	یکان
.....

به عدد

به حروف

۳. الگوهای زیر را ادامه دهید.

۲۶۰۰-۲۸۰۰-۳۰۰۰-.....-.....-.....

.....-.....-.....-۶۰۰۰-۶۵۰۰-۷۰۰۰

۲۵۰۰-۳۵۰۰-۴۵۰۰-.....-.....-.....

۴. اعداد داخل جدول را به عدد و حروف بنویس.

۵۰۰۱	www.my-dars.ir	۹۵۰۰
	دو هزار و سی و چهار	

۵. عدد های زیر را به صورت گسترده (باز شده) بنویس. $۴۵۰۷ = \dots\dots\dots$

$۹۶۸۳ = \dots\dots\dots$

۶. زهرا یک خط کش به قیمت ۲۲۰ تومان و یک پاکن به قیمت ۴۲۵ تومان خرید. او یک اسکناس ۱۰۰۰ تومانی به فروشنده داد. فروشنده چند ریال به زهرا پس داد؟

۷. حاصل جمع و تفریق های زیر را بدست آورید.

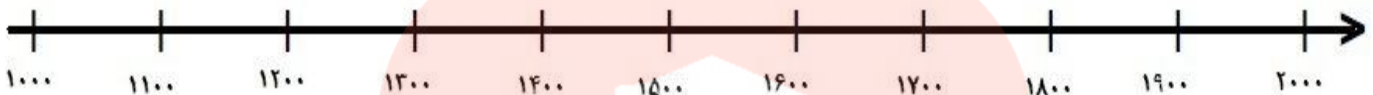
$$1000 + 1000 + 100 + 100 + 100 + 10 + 1 + 1 = \dots\dots\dots$$

$$3000 + 2000 + 100 + 300 + 50 = \dots\dots\dots$$

$$9000 - 2000 = \dots\dots\dots$$



۸. عدد های ۱۰۷۰، ۱۷۵۰، ۱۴۳۰، ۱۲۹۰ را به طور تقریبی بر روی محور نشان بده.



۹. در جای خالی علامت $<=>$ بگذار.

$$6000 - 3000 \quad \bigcirc \quad 2000 + 1000 + 800 + 700 \quad 5000 + 2000 + 400 + 900 \quad \bigcirc \quad 5400$$

۱۰. امید ورزشکار است. او هر روز فاصله ی خانه تا محل کار خور را پیاده می رود. فاصله خانه تا محل کارش ۲ کیلو متر است.

او در یک رفت و برگشت چند متر راه می رود؟

۱۱. در جای خالی عدد مناسب بنویسید.

۳۴۰۰ سانتی متر برابر است بامتر وسانتی متر.

۴۰۰۰ متر یعنیکیلو متر.

۳کیلو گرم و ۷۰۰گرم برابر است باگرم.

www.miy-dars.ir



ارزیابی معلم: