


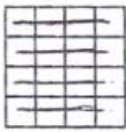
۱. الگوهای زیر را ادامه دهید .

----- و ----- و ----- و ۴۶۰ و ۳۶۰ و ۳۱۰ و ۲۱۰

----- و ----- و ----- و ۳۰۶ و ۳۰۳ و ۳۰۱ و ۳۰۰

----- و ----- و ----- و ۸۸۰ و ۸۹۰ و ۹۰۰

۲. برای شکل زیر یک عبارت جمع بنویسید ، سپس به دو روش دیگر دسته بندی کنید و حاصل جمع آن ها را بنویسید .



----- + ----- + ----- = -----

$$\square + 5 - 3 = 14$$

۳. با توجه به ماشین چه عددی وارد ماشین می شود تا عدد ۱۴ از آن خارج گردد؟

۴. نوید روزی ۵ صفحه از کتابش را می خواند ، بعد از ۷ روز هنوز ۱۹ صفحه ی کتابش باقی مانده است. کتاب نوید چند صفحه داشته است ؟

۵. اتوبوسی ساعت ۱۷ از تهران حرکت کرد و بعد از ۱۰ ساعت به مشهد رسید. این اتوبوس چه ساعتی به مشهد رسید ؟ زمان رسیدن را به دو صورت بیان کنید

www.my-dars.ir


۶. کیوان باید هر نیم ساعت یک قرص بخورد . اگر اولین قرص را ساعت ۸ صبح بخورد . سومین قرص را چه ساعتی باید بخورد ؟

۷. رضا ساعت ۷:۱۵ به طرف مدرسه حرکت کرد و ساعت هفت و نیم رسید ، علی چند دقیقه در راه بود ؟

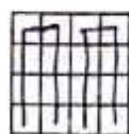
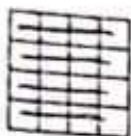
ساعت شروع تکلیف : ساعت پایان تکلیف : ساعت مطالعه : ساعت خواب : امضا ولی

نظریه آموزگار : سوالات مورد اشکال

۱. الگوهای زیر را ادامه دهید.



۲. برای شکل زیر یک عبارت جمع بنویسید، سپس به دو روش دیگر دسته بندی کنید و حاصل جمع آن ها را بنویسید.



$$4 + 4 + 4 + 4 = 16$$

$$2 + 2 + 2 + 2 + 2 + 2 + 2 + 2 = 16$$

$$8 + 8 = 16$$

$$\boxed{12} - 5 - 3 = 14$$

$$14 - 2 = 12$$

۳. با توجه به ماشین چه عددی وارد ماشین می شود تا عدد ۱۴ از آن خارج گردد؟

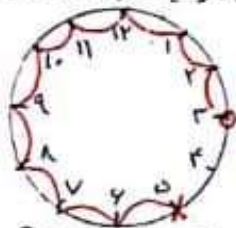
۴. نوید روزی ۵ صفحه از کتابش را می خواند. بعد از ۷ روز هنوز ۱۹ صفحه ی کتابش باقی مانده است. کتاب نوید چند صفحه داشته است؟

روز	۱	۲	۳	۴	۵	۶	۷
صفحه	۵	۱۰	۱۵	۲۰	۲۵	۳۰	۳۵

$$\begin{array}{r} 19 \\ + 19 \\ \hline 54 \end{array}$$

کتاب ۵۴ صفحه داشته است.

۵. اتوبوسی ساعت ۱۷ از تهران حرکت کرد و بعد از ۱۰ ساعت به مشهد رسید. این اتوبوس چه ساعتی به مشهد رسید؟ زمان رسیدن را به دو صورت بیان کنید ساعت ۳ با مدار به مشهد می رسد.

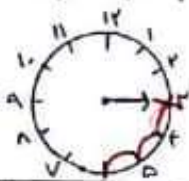


www.my-dars.ir

۶. کیوان باید هر نیم ساعت یک قرص بخورد. اگر اولین قرص را ساعت ۸ صبح بخورد. سومین قرص را ساعت ۹ صبح باید بخورد.

زمان	۸	۸:۳۰	۹
قرص	۱	۲	۳

۷. رضا ساعت ۷:۱۵ به طرف مدرسه حرکت کرد و ساعت هفت و نیم رسید. علی چند دقیقه در راه بود؟



$$\begin{array}{r} 7:15 \\ - 7:00 \\ \hline 0:15 \end{array}$$

۱۵ دقیقه در راه بوده است.

ساعت شروع تکلیف:	ساعت پایان تکلیف:	ساعت مطالعه:	ساعت خواب:
نظریه آموزگار:	سوالات مورد اشکال:		