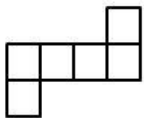
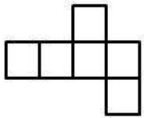
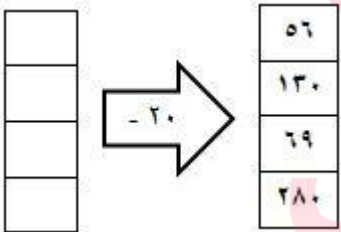
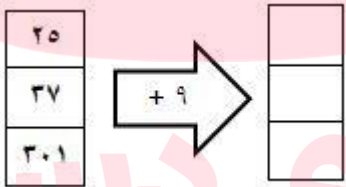
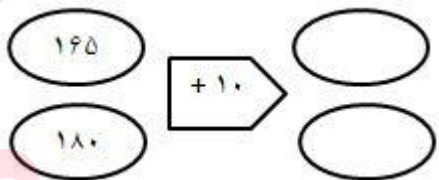
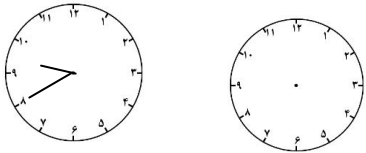
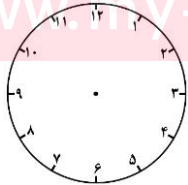
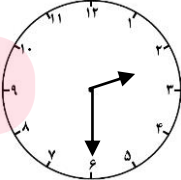
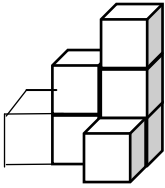
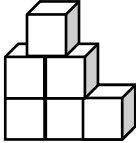
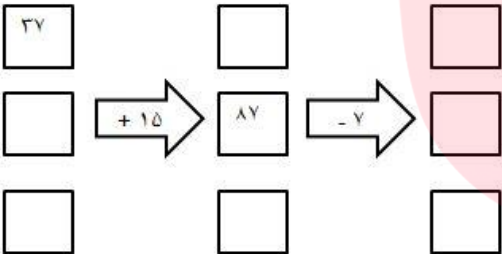
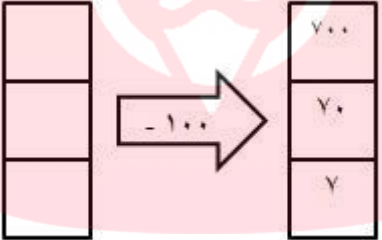

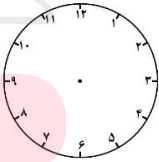

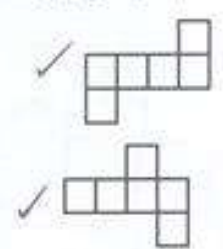

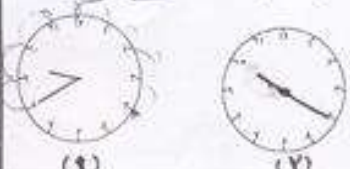






شنبه	جمعه	پنج شنبه												
<p>۳- در منزل ۳ وسیله را نام ببر که شکل مکعب دارند.</p>	<p>۲- برای ساخت مکعب از چند مربع استفاده می کنیم؟</p>	<p>۱- با کدام شکل می توان مکعب ساخت؟</p> <p>الف</p>  <p>ب</p> 												
<p>۳- مانی یک کتاب داستان را ۵ روزه تمام میکند روز اول ۲۵ صفحه و هرروز ۱۰ صفحه بیشتر از روز قبل می خواند. این کتاب چند صفحه دارد؟</p> <table border="1" data-bbox="92 936 550 1037"> <tr> <td>روز</td> <td>۱</td> <td>۲</td> <td>۳</td> <td>۴</td> <td>۵</td> </tr> <tr> <td>صفحه</td> <td></td> <td></td> <td></td> <td></td> <td></td> </tr> </table>	روز	۱	۲	۳	۴	۵	صفحه						<p>۲- یک خانه ۴ اتاق دارد و در هر اتاق ۳ لامپ آویزان است در این اتاق ها چند لامپ آویزان است؟</p>	<p>۱- الگو را کامل کن.</p> <p>○ - ○ - ۱۶۰ - ۱۵۸ - ۱۵۶</p>
روز	۱	۲	۳	۴	۵									
صفحه														
<p>۳- ماشین ورودی خروجی را کامل کن.</p> 	<p>۲- ماشین ورودی خروجی را کامل کن.</p> 	<p>۱- ماشین ورودی و خروجی را کامل کن.</p> 												
<p>۳- از ساعت ۱ به ساعت ۲ عقربه دقیقه شمار چه مقدار حرکت کرده است؟</p> 	<p>۲- علی ساعت ۷:۱۵ در مدرسه حاضر است . ساعت حضور او را روی ساعت نشان بده.</p> 	<p>۱- ساعت چند است؟</p> <p>ساعت ..... و ..... دقیقه</p> 												
<p>۳- سعید هر کیلو پرتقال را ۳۰۰ تومان می خرد و ۴۰۰ تومان می فروشد. چند کیلو پرتقال باید بفروشد تا بتواند با سود آن ۲ کیلو پرتقال بخرد؟</p>	<p>۲- یک کتابخانه ۵ قفسه دارد و هر قفسه ۹ جلد کتاب دارد این کتابخانه چند کتاب دارد؟</p>	<p>۱- ماهیگیری هرروز ۱۰ ماهی می گیرد تا روز هفتم مجموعا چند ماهی می گیرد؟</p>												

سه شنبه	دوشنبه	یکشنبه
<p>۶- با شابلون باز شده ی مکعب را بکش.</p>	<p>۵- شکل زیر چند مکعب دارد؟</p> 	<p>۴- در شکل زیر چند مکعب می بینید؟</p> 
<p>۶- در دبستانی برای هر کلاس ۳ پنجره قرار داده اند. با کشیدن جدول پیدا کن ۱۲ پنجره برای چند کلاس است؟</p>	<p>۵- فنادی یک کیک ۶ طبقه درست کرده. برای درست کردن بالاترین طبقه از ۲ تخم مرغ استفاده کرده و به هر طبقه که پایین آمده ۲ تخم مرغ اضافه کرده. برای درست کردن این کیک چند تخم مرغ مصرف کرده؟</p>	<p>۴- گل فروشی در هر گلدان ۵ شاخه گل دارد. در ۵ گلدان چند شاخه گل دارد؟</p>
<p>۶- کامل کن.</p> 	<p>۵- کامل کن.</p> 	<p>۴- جای خالی را کامل کن.</p> 
<p>۶- رضا ساعت ۶:۲۰ به سمت پارک حرکت می کند. یک ربع طول می شكد تا به پارک برسد. رضا چه ساعتی در پارک است؟</p>	<p>۵- ۴ ساعت بعد از ۲:۳۰ چه ساعتی است؟</p>	<p>۴- با توجه به ساعت خالی را پر کن. ..... دقیقه از ساعت ..... گذشته ساعت ..... مانده به ساعت .....</p> 
<p>۶- میوه فروشی هر سیب را ۳۰۰ تومان می خرد و ۳۵۰ تومان می فروشد. او بعد از فروش چند سیب می تواند با سود ان یک سیب بخرد؟</p>	<p>۵- یک کتابخانه ۶ طبقه دارد. در طبقه ی اول ۱۰۰ کتاب دارد هر طبقه بالا می رود ۵۰ کتاب اضافه می شود. در طبقه ششم چند کتاب داریم؟</p>	<p>۴- رضا هر جفت بند کفش را ۴۰۰ تومان می خرد و ۵۰۰ تومان می فروشد. او چند جفت بند کفش باید بفروشد تا بتواند یک جفت بخرد؟</p>

شنبه	جمعه	پنج شنبه																											
<p>۲- در منزل ۳ وسیله را نام ببر که شکل مکعب دارند.</p>	<p>۲- برای ساخت مکعب از چند مربع استفاده می کنیم؟</p> <p>۶ مربع</p> 	<p>۱- با کدام شکل می توان مکعب ساخت؟</p> 																											
<p>۳- مانی یک کتاب داستان را ۵ روزه تمام میکند روز اول ۲۵ صفحه و هرروز ۱۰ صفحه بیشتر از روز قبل می خواند. این کتاب چند صفحه دارد؟</p> <table border="1" data-bbox="119 884 542 974"> <tr> <td>روز</td> <td>۱</td> <td>۲</td> <td>۳</td> <td>۴</td> <td>۵</td> </tr> <tr> <td>صفحه</td> <td>۲۵</td> <td>۳۵</td> <td>۴۵</td> <td>۵۵</td> <td>۶۵</td> </tr> </table>	روز	۱	۲	۳	۴	۵	صفحه	۲۵	۳۵	۴۵	۵۵	۶۵	<p>۲- یک خانه ۴ اتاق دارد و در هر اتاق ۳ لامپ آویزان است در این اتاق ها چند لامپ آویزان است؟ ۱۲ لامپ</p>  <p>۱۲ و ۹ و ۶ و ۳</p>	<p>۱- الگو را کامل کن.</p> <p>۱۶۴ - ۱۶۲ - ۱۶۰ - ۱۵۸ - ۱۵۶</p>															
روز	۱	۲	۳	۴	۵																								
صفحه	۲۵	۳۵	۴۵	۵۵	۶۵																								
<p>۲- ماشین ورودی و خروجی را کامل کن.</p> <table border="1" data-bbox="215 1108 534 1332"> <tr> <td>۷۶</td> <td>→ -۲۰</td> <td>۵۶</td> </tr> <tr> <td>۱۵۵</td> <td></td> <td>۱۳۰</td> </tr> <tr> <td>۸۹</td> <td></td> <td>۶۹</td> </tr> <tr> <td>۲۰۰</td> <td></td> <td>۲۸۰</td> </tr> </table>	۷۶	→ -۲۰	۵۶	۱۵۵		۱۳۰	۸۹		۶۹	۲۰۰		۲۸۰	<p>۲- ماشین ورودی و خروجی را کامل کن.</p> <table border="1" data-bbox="582 1108 901 1288"> <tr> <td>۲۵</td> <td>→ +۶</td> <td>۳۱</td> </tr> <tr> <td>۲۷</td> <td></td> <td>۳۳</td> </tr> <tr> <td>۳۰۱</td> <td></td> <td>۳۰۷</td> </tr> </table>	۲۵	→ +۶	۳۱	۲۷		۳۳	۳۰۱		۳۰۷	<p>۱- ماشین ورودی و خروجی را کامل کن.</p> <table border="1" data-bbox="1021 1108 1428 1288"> <tr> <td>۱۶۵</td> <td>→ +۱۰</td> <td>۱۷۵</td> </tr> <tr> <td>۱۸۰</td> <td></td> <td>۱۹۰</td> </tr> </table>	۱۶۵	→ +۱۰	۱۷۵	۱۸۰		۱۹۰
۷۶	→ -۲۰	۵۶																											
۱۵۵		۱۳۰																											
۸۹		۶۹																											
۲۰۰		۲۸۰																											
۲۵	→ +۶	۳۱																											
۲۷		۳۳																											
۳۰۱		۳۰۷																											
۱۶۵	→ +۱۰	۱۷۵																											
۱۸۰		۱۹۰																											
<p>۲- از ساعت ۱ به ساعت ۲ عقربه دقیقه شمار چه مقدار حرکت کرده است؟ ۴۵ دقیقه</p> 	<p>۲- علی ساعت ۷:۱۵ در مدرسه حاضر است. ساعت حضور او را روی ساعت نشان بده.</p> 	<p>۱- ساعت چند است؟</p>  <p>ساعت ۳ و ۵ دقیقه</p>																											
<p>۲- سعید هر کیلو برتقال را ۳۰۰ تومان می خرد و ۴۰۰ تومان می فروشد. چند کیلو برتقال باید بفروشد تا بتواند با سود آن ۲ کیلو برتقال بخرد؟ ۶ کیلو</p> <table border="1" data-bbox="111 1881 550 2004"> <tr> <td>تعداد</td> <td>۱</td> <td>۲</td> <td>۳</td> <td>۴</td> <td>۵</td> <td>۶</td> </tr> <tr> <td>مرد</td> <td>۱۰۰</td> <td>۲۰۰</td> <td>۳۰۰</td> <td>۴۰۰</td> <td>۵۰۰</td> <td>۶۰۰</td> </tr> </table>	تعداد	۱	۲	۳	۴	۵	۶	مرد	۱۰۰	۲۰۰	۳۰۰	۴۰۰	۵۰۰	۶۰۰	<p>۲- یک کتابخانه ۵ قفسه دارد و هر قفسه ۹ جلد کتاب دارد این کتابخانه چند کتاب دارد؟ ۴۵ کتاب</p>  <p>۴۵ و ۳۶ و ۲۷ و ۱۸ و ۹</p>	<p>۱- ماهگیری هرروز ۱۰ ماهی می گیرد تا روز هفتم مجموعا چند ماهی می گیرد؟</p> <p>۷۰ و ۶۰ و ۵۰ و ۴۰ و ۳۰ و ۲۰ و ۱۰</p>													
تعداد	۱	۲	۳	۴	۵	۶																							
مرد	۱۰۰	۲۰۰	۳۰۰	۴۰۰	۵۰۰	۶۰۰																							

سه شنبه	دوشنبه	یکشنبه																																	
<p>۶- با شابلون باز شده ی مکعب را بکش.</p> 	<p>۵- شکل زیر چند مکعب دارد؟ ۷ ملوک</p> 	<p>۴- در شکل زیر چند مکعب می بینید؟</p> <p>۶ ملوک</p> 																																	
<p>۶- در دهستانی برای هر کلاس ۳ پنجره قرار داده اند. با کشیدن جدول پیدا کن ۱۲ پنجره برای چند کلاس است؟ ۴ کلاس</p> <table border="1" style="width: 100%; border-collapse: collapse; text-align: center;"> <tr> <td>تعداد</td> <td>۱</td> <td>۲</td> <td>۳</td> <td>۴</td> </tr> <tr> <td>پنجره</td> <td>۳</td> <td>۶</td> <td>۹</td> <td>۱۲</td> </tr> </table>	تعداد	۱	۲	۳	۴	پنجره	۳	۶	۹	۱۲	<p>۵- قنادی یک کیک ۶ طبقه درست کرده. برای درست کردن بالاترین طبقه از ۲ تخم مرغ استفاده کرده و به هر طبقه که پایین آمده ۲ تخم مرغ اضافه کرده. برای درست کردن این کیک چند تخم مرغ مصرف کرده؟ ۱۲</p> <p>۵۰۰ ۲ ۵۰۰ ۴ ۵۰۰ ۶ ۵۰۰ ۸ ۵۰۰ ۱۰ ۵۰۰ ۱۲</p>	<p>۴- گل فروشی در هر گلدان ۵ شاخه گل دارد. در ۵ گلدان چند شاخه گل دارد؟ ۲۵ گل</p>  <p>۵ ۱۰ ۱۵ ۲۰ ۲۵</p>																							
تعداد	۱	۲	۳	۴																															
پنجره	۳	۶	۹	۱۲																															
<p>۶- کامل کن.</p> <table style="width: 100%; text-align: center;"> <tr> <td>۲۷</td> <td>→ +۱۵</td> <td>۵۲</td> <td>→ -۷</td> <td>۴۵</td> </tr> <tr> <td>۷۲</td> <td></td> <td>۸۷</td> <td></td> <td>۸۰</td> </tr> <tr> <td>۱۵</td> <td></td> <td>۳۰</td> <td></td> <td>۲۳</td> </tr> </table>	۲۷	→ +۱۵	۵۲	→ -۷	۴۵	۷۲		۸۷		۸۰	۱۵		۳۰		۲۳	<p>۵- کامل کن.</p> <table style="width: 100%; text-align: center;"> <tr> <td>۸۰۰</td> <td>→ -۱۰۰</td> <td>۷۰۰</td> </tr> <tr> <td>۱۷۰</td> <td></td> <td>۷۰</td> </tr> <tr> <td>۱۰۷</td> <td></td> <td>۷</td> </tr> </table>	۸۰۰	→ -۱۰۰	۷۰۰	۱۷۰		۷۰	۱۰۷		۷	<p>۴- جای خالی را کامل کن.</p> <table style="width: 100%; text-align: center;"> <tr> <td>۲۵۰</td> <td>→ -۱۰</td> <td>۲۴۰</td> <td>→ +۵</td> <td>۲۴۵</td> </tr> </table>	۲۵۰	→ -۱۰	۲۴۰	→ +۵	۲۴۵				
۲۷	→ +۱۵	۵۲	→ -۷	۴۵																															
۷۲		۸۷		۸۰																															
۱۵		۳۰		۲۳																															
۸۰۰	→ -۱۰۰	۷۰۰																																	
۱۷۰		۷۰																																	
۱۰۷		۷																																	
۲۵۰	→ -۱۰	۲۴۰	→ +۵	۲۴۵																															
<p>۶- رضا ساعت ۶:۲۰ به سمت پارک حرکت می کند. یک ربع طول می کشد تا به پارک برسد. رضا چه ساعتی در پارک است؟ ۶:۳۵</p>	<p>۵- ۴ ساعت بعد از ۲:۳۰ چه ساعتی است؟ ۶:۳۰</p>	<p>۴- با توجه به ساعت جای خالی را پر کن.</p> <p>۴:۵ دقیقه از ساعت ۳ گذشته</p> <p>ساعت ۱:۵۵ مانده به ساعت ۴</p> 																																	
<p>۶- سیوه فروشی هر سبب را ۳۰۰ تومان می خرد و ۲۵۰ تومان می فروشد. او بعد از فروش چند سبب می تواند با سود ان یک سبب بخرد؟ ۶ سبب</p> <table border="1" style="width: 100%; border-collapse: collapse; text-align: center;"> <tr> <td>تعداد</td> <td>۱</td> <td>۲</td> <td>۳</td> <td>۴</td> <td>۵</td> </tr> <tr> <td>سود</td> <td>۵۰</td> <td>۱۰۰</td> <td>۱۵۰</td> <td>۲۰۰</td> <td>۲۵۰</td> </tr> </table> <table border="1" style="width: 100%; border-collapse: collapse; text-align: center; margin-top: 10px;"> <tr> <td>تعداد</td> <td>۶</td> </tr> <tr> <td>سود</td> <td>۳۰۰</td> </tr> </table>	تعداد	۱	۲	۳	۴	۵	سود	۵۰	۱۰۰	۱۵۰	۲۰۰	۲۵۰	تعداد	۶	سود	۳۰۰	<p>۵- یک کتابخانه ۶ طبقه دارد. در طبقه ی اول ۱۰۰ کتاب دارد هر طبقه بالا می رود ۵۰ کتاب اضافه می شود. در طبقه ششم چند کتاب داریم؟ ۳۵۰ کتاب</p> <table border="1" style="width: 100%; border-collapse: collapse; text-align: center;"> <tr> <td>۳۵۰</td> </tr> <tr> <td>۲۵۰</td> </tr> <tr> <td>۲۰۰</td> </tr> <tr> <td>۱۵۰</td> </tr> <tr> <td>۱۰۰</td> </tr> </table>	۳۵۰	۲۵۰	۲۰۰	۱۵۰	۱۰۰	<p>۴- رضا هر جفت بند کفش را ۴۰۰ تومان می خرد و ۵۰۰ تومان می فروشد. او چند جفت بند کفش باید بفروشد تا بتواند یک جفت بخرد؟ ۴ جفت</p> <table border="1" style="width: 100%; border-collapse: collapse; text-align: center;"> <tr> <td>تعداد</td> <td>۱</td> <td>۲</td> <td>۳</td> <td>۴</td> <td>۵</td> </tr> <tr> <td>سود</td> <td>۱۰۰</td> <td>۲۰۰</td> <td>۳۰۰</td> <td>۴۰۰</td> <td>۵۰۰</td> </tr> </table>	تعداد	۱	۲	۳	۴	۵	سود	۱۰۰	۲۰۰	۳۰۰	۴۰۰	۵۰۰
تعداد	۱	۲	۳	۴	۵																														
سود	۵۰	۱۰۰	۱۵۰	۲۰۰	۲۵۰																														
تعداد	۶																																		
سود	۳۰۰																																		
۳۵۰																																			
۲۵۰																																			
۲۰۰																																			
۱۵۰																																			
۱۰۰																																			
تعداد	۱	۲	۳	۴	۵																														
سود	۱۰۰	۲۰۰	۳۰۰	۴۰۰	۵۰۰																														