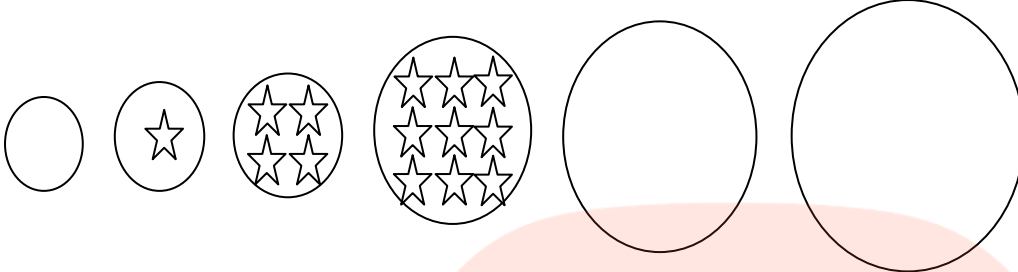




۱- الگوی زیر را ادامه بده و رابطه ی بین عددها و شکل ها را بنویسید.



۲- یک آپارتمان ۸ پله دارد. هر پله ۶ موزاییک دارد. هر موزاییک ۲ گل دارد.

الف) ۵ پله چند موزاییک دارد؟

ب) ۳ پله چند گل دارد؟

۳- شکل داده شده را به دو نوع دسته بندی کرده و به کمک شمارش چندتاچندتا حساب کنید.



نوع اول: -----

نوع دوم: -----

۴- اگر سومین روز بهمن ماه دوشنبه باشد، تا آخر بهمن ماه دوشنبه ها چه روزهایی هستند؟

$$\text{-----} \rightarrow \boxed{-۳۷} \rightarrow ۲۱۵$$

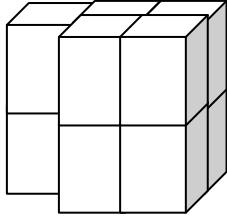
۵- در جای خالی عدد مناسب بنویسید.

$$۵۷ \rightarrow \boxed{+۱۰۲} \rightarrow \text{-----}$$

۶- خورشید ساعت ۵ صبح طلوع می کند و ساعت ۱۷ غروب می کند.

الف) خورشید ساعت----- بعد از ظهر غروب می کند.

ب) خورشید ----- ساعت در آسمان است و نورافشانی می کند.




۷- تعداد مکعب ها را حساب کنید.

-----

مکعب ---

۸- نیمه ی دیگر شکل را با توجه به خط تقارن رنگ آمیزی کنید و به شمارش چندتاچندتا تعداد مربع ها را به

دست آورید.



شمارش چندتاچندتا:-----

جمع:-----

## ملاک ارزشیابی

نیاز به تلاش بیشتر	قابل قبول	خوب	بسیار خوب	
				الگوهای عددی و شکلی را به خوبی انجام می دهد.
				مسائل مربوط به الگویابی را با دقت پاسخ می دهد.
				شمارش چندتاچندتا را با قدرت و دقت انجام می دهد.
				ماشین های ورودی خروجی را به راحتی حل می کند.
				ساعت در بعداز ظهر را به خوبی پاسخ می دهد.
				شکل را متقارن رنگ می کند و جمع و شمارش چندتایی می نویسد.

تاریخ

نظر معلم:

