



نام: _____
نام خانوادگی: _____

تاریخ: _____

حسین

آزمون ریاضی سوم ابتدایی (نوبت دوم)

کلاس: _____



نام آموزگار: _____

سعید ساجدی رنسی



درست یا نادرست بودن جمله های زیر را مشخص کنید.

<input type="checkbox"/> درست <input type="checkbox"/> نادرست	۱- در تقسیم $25 \div 4$ باقی مانده صفر است.
<input type="checkbox"/> درست <input type="checkbox"/> نادرست	۲- همیشه در پرتاب یک سکه همیشه دو احتمال ممکن است اتفاق بیفتد.
<input type="checkbox"/> درست <input type="checkbox"/> نادرست	۳- تعداد خط های تقارن مستطیل با تعداد قطر هایش برابر است.
<input type="checkbox"/> درست <input type="checkbox"/> نادرست	۴- ۱۸ تا صد گرم یعنی یک کیلو گرم و ۸۰۰ گرم.



- به اندازه ی دور هر شکل می گویند.
- به خطی که دو سر آن بسته باشد می گویند.
- مساحت مستطیل برابر است با =
- حاصلضرب دو عدد ۷ و ۹ برابر است با =
- طول کتاب نسترن ۱۳ است.
- هر دایره شعاع دارد.



خارج قسمت و باقی مانده ی کدام تقسیم به ترتیب ۹ و ۶ می باشد ؟

$78 \overline{) 8}$	$75 \overline{) 8}$	$75 \overline{) 9}$	$72 \overline{) 8}$
(د)	(ج)	(ب)	(الف)

- عدد ((چهار هزار و بیست و شش)) را در جدول ارزش مکانی قرار دهید و سپس به سوالات زیر پاسخ دهید.
- ✓ کدام رقم در بیشترین ارزش مکانی قرار دارد ؟
- ✓ کوچک ترین رقم در کدام ارزش مکانی قرار دارد ؟
- ✓ رقم ۶ در کدام ارزش مکانی قرار دارد ؟

- در شکل زیر دایره به ۸ قسمت مساوی تقسیم شده است. چرخنده می چرخد و عقربه روی یکی از رنگ ها می ایستد. الف) احتمال ایستادن عقربه روی کدام رنگ بیشتر است؟ چرا؟
- ب) احتمال ایستادن عقربه روی کدام رنگ کم تر است؟ چرا؟





نام: _____
نام خانوادگی: _____

تاریخ: _____

حسن حبیبی

آزمون ریاضی سوم ابتدایی (نوبت دوم)

کلاس: _____



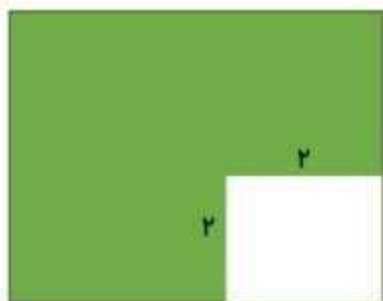
رئیس: سعید ساجدی

نام آموزگار: _____




مساحت قسمت های رنگی را به دست آورید.

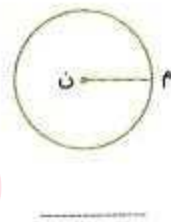
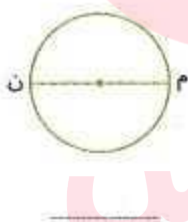
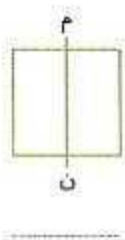
۵ سانتی متر



۷ سانتی متر




خط (م ن) در هر شکل چه نام دارد؟



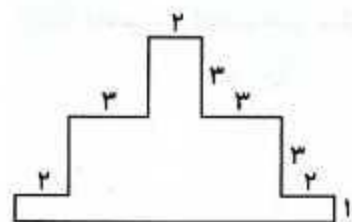
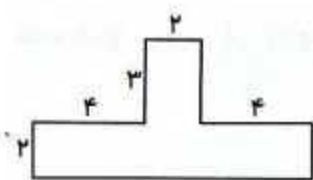
گروه آموزشی عصر

در شکل زیر یک خط راست و یک پاره خط و یک نیم خط نام ببر.

www.my-dars.ir



مساحت شکل های زیر را به دست بیاور. (همه ی واحدها به سانتی متر هستند)





• حاصل جمع و تفریق زیر را به صورت فرآیندی به دست بیاور.

$$\begin{array}{r} 6547 \\ - 3426 \\ \hline \end{array}$$

$$\begin{array}{r} 4352 \\ + 2541 \\ \hline \end{array}$$

• با حذف رقم یکان و دهگان، حاصل تفریق های زیر را به صورت تقریبی به دست بیاور.

$$\begin{array}{r} 9765 \\ - 4370 \\ \hline \end{array} \quad \begin{array}{r} 6963 \\ - 3471 \\ \hline \end{array}$$

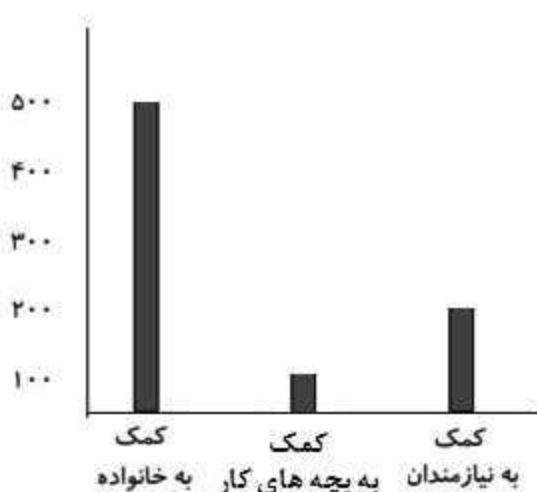
مای درس

گروه آموزشی عصر

www.my-dars.ir



• اطلاعات نمودار ستونی را در نمودار دایره ای نشان بده.





نام: _____
نام خانوادگی: _____

تاریخ: _____

حساب

آزمون ریاضی سوم ابتدایی (نوبت دوم)

نام آموزگار: _____

کلاس: _____



رئیس
سعید ساجدی



زمینی به شکل مربع داریم که هر ضلع آن ۲۰۳۲ متر است. می خواهیم دور تا دور این زمین را سیم خاردار بکشیم. به چند متر سیم نیاز داریم؟

مریم ۷ شکلات خرید دانه ای ۹۰ تومان و یک اسکناس ۱۰۰۰ تومانی به فروشنده داد. مریم چند تومان باید از فروشنده پس بگیرد؟

سحر در هفته ی اول ۶ صفحه از کتابش را خواند. او تصمیم گرفت هر هفته سه برابر هفته ی قبل کتاب بخواند. او هفته ی دوم چند صفحه کتاب می خواند؟
هفته ی سوم چند صفحه؟

هفته ی چهارم چند صفحه؟
کتاب سحر چند صفحه دارد؟

برای هر جمله ، یک حالت را انتخاب کن.

- به طور حتم اتفاق می افتد احتمال دارد اتفاق بیفتد به طور حتم اتفاق نمی افتد
- | | | | |
|-----------------------|-----------------------|-----------------------|-----------------------------|
| <input type="radio"/> | <input type="radio"/> | <input type="radio"/> | ✓ همه ی مردم معلم هستند. |
| <input type="radio"/> | <input type="radio"/> | <input type="radio"/> | ✓ در مدرسه درس می خوانیم. |
| <input type="radio"/> | <input type="radio"/> | <input type="radio"/> | ✓ امروز امتحان ریاضی داریم. |
| <input type="radio"/> | <input type="radio"/> | <input type="radio"/> | ✓ فردا هوا بارانی است. |

با کارت های ۵ و ۹ و ۰ و ۱ بزرگ ترین و کوچک ترین عدد چهار رقمی را بسازید و سپس اختلاف این دو عدد را پیدا کنید.

مای درس
گروه آموزشی عصر

www.my-dars.ir