

آزمون مداد کاغذی درس ریاضی تا صفحه ی ۶۶

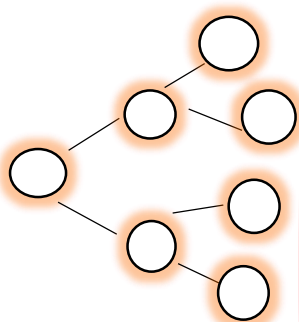
نام و نام خانوادگی :

کلاس : پنجم

آموزگار : غلامرضا رفیعیان

تاریخ : ۱۳۰۸


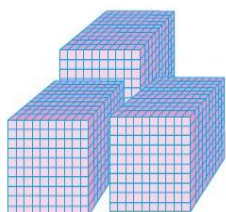
۱- تمام اعداد سه رقمی را بنویسید که رقم صدگان آن ها ۴، رقم دهگان آن ها ۴ یا ۸ و رقم یکان آن ها ۲ باشد



..... و و

۲- با توجه به شکل های روبرو به سوال های زیر پاسخ بدهید.

الف - جدول را کامل کنید.



یکان	دهگان	صدگان	هزارگان

ب- عدد به دست آمده را با حروف بنویسید.

www.my-dars.ir

۳- جدول های زیر را کامل کنید .

ریال	۱۵۰۰	
تومان		۴۰۰

زمان	۱۸	
بعد از ظهر		۱۱

گرم	۳۰۰۰	
کیلوگرم		۷

متر	۳۲۰۰	
کیلومتر		۹

۴ - کسرهای زیر را با یکدیگر مقایسه کنید.

$$\frac{9}{9} \bigcirc \frac{3}{3}$$

$$\frac{5}{6} \bigcirc \frac{4}{6}$$

$$\frac{3}{8} \bigcirc \frac{3}{5}$$

۵ - برای هر شکل یک تساوی ضرب بنویسید.



$$\dots \times \dots = \dots$$

$$\dots \times \dots = \dots$$

۶ - حاصل ضرب ها را با کمک جمع پیدا کنید.

$$4 \times 6 =$$

$$5 \times 4 =$$



۷ - پدر رضا و حسین به هر کدام مقدار مساوی پول داد. رضا $\frac{3}{4}$ پول و حسین $\frac{1}{2}$ پولش را صدقه داد. بارسم شکل نشان دهید کدام یک بیشتر صدقه داده اند.

۸ - با توجه به شکل های زیر:

www.my-dars.ir

الف - خط تقارن این شکل ها را رسم کنید.

ب - زاویه های موجود را مشخص کرده و نام هر زاویه را بنویسید.



موفق و سر بلند باشید