

صند ووجه آموزش (خلاصه ۱۶۳)

← جاذبه های گردشگری ایران نام نام خانوادگی:

نام دبیر: **ابوالحسن** تاریخ: ۱۰/۱۰

مطالعات اجتماعی پایه هفتم نام دبیرستان:

- در کشور ایران جاذبه های زیادی **در زمینه های طبیعی - تاریخی، فرهنگی** وجود دارد که هم مردم ایران و هم مردم سایر کشورها، از این جاذبه ها دیدن می کنند.
- بخش عمده ای از سفرها، در کشور ایران **جنبه زیارتی** دارد.
- سفرهای زیارتی در ایران به منظور **بازدید از مکان های مقدس** (۱) **زیارت مرقد پیامبر الهی** (۲) **امامان بزرگوار و امامزاده ها** انجام می گیرد.
- **سه زیارتگاه مهم کشور که مرقد سه امامزاده میباشد عبارتند از:**

- ۱- حرم حضرت عبدالعظیم در شهری
- ۲- حرم احمد بن موسی (پیرادر امام رضا) در شیراز
- ۳- حرم حضرت معصومه (س) و اهرام امام رضا (ع) در قم

اهمیت مساجد ایران:

۱- محل عبادت میباشد ← (۲) از نظر معماری زیبای اسلامی

- **چهار مسجد بزرگ ایران که از نظر معماری زیبای اسلامی که مورد توجه گردشگران قرار می گیرد عبارتند از:** ← ۱) مسجد امام در اصفهان ۲) مسجد شیخ لطف الله در اصفهان ۳) مسجد جامع نزد ۴) مسجد گوهرشاد در مشهد.

- **مهمترین قطب زیارتی ایران شهر مشهد مقدس میباشد.**
- سالانه حدود **۱۱ میلیون نفر** از رانران ایرانی و خارجی برای زیارت مرقد مطهر امام رضا به مشهد مقدس سفر می کنند.
- هر ساله تعداد زیادی از رانران کشور دوست و همسایه **عراق** وارد کشور ایران می شوند و از کشور ایران هم هر ساله چند میلیون زائر برای زیارت **عبات عالیات** (به مجموعه آن مگه های امامان شیعه در کشور عراق که در شهرهای نجف، کربلا، کاظمین، سامرا قرار دارند و مدفن این از امامان مادر آنجا است عبات عالیات گفته می شود) به کشور عراق می روند.

اهمیت حرم مطهر امام رضا و مجموعه آستان قدس رضوی:

۱- اهمیت زیارتی ۲) اهمیت معماری ۳) اهمیت تاریخی (در هر یک از صحن های امام رضا، شاهکارهایی از معماری ایرانی و اسلامی مشاهده می شود)
- در صحن های مطهر حرم امام رضا آرامگاه برخی از شخصیت های بزرگ علمی (مانند **شیخ بهایی**) و مذهبی کشور (مانند **علامه محمد تقی جعفری**) وجود دارد.

- مجموعه آستان قدس رضوی دارای **چند کتابخانه بزرگ** ۵) **مرکز دمانی** ۶) **مهمان سرا** **چند موزه** و **باشکوه** میباشد.

- انواع موزه هایی که در مجموعه آستان قدس رضوی وجود دارد عبارتند از **موزه قرآن** - **موزه سکه** - **موزه صدف** - **موزه سلاح** میباشد.

- **مهمترین اشیایی که در موزه آستان قدس رضوی نگهداری میشوند عبارتند از:** ۲۱) **مدال هایی که برخی از نخبگان علمی (مانند پرندگان اسپیدهای علمی) و هم چنین ورزشکاران**

اهد کرده اند نگهداری می شود (مدال های کشتی گیر محبوب ایران مرحوم تختی از قدیمی ترین این مدال هاست)

۲- از بهترین اشیای موجود در این موزه (اسواق قدس رضوی) می توان به قرآن ها نفیس و

گزارشها که با خط مبارک ائمه اطهار بر روی پوست آهو نوشته شده و همچنین: اولین سنگ مرقد مطهر امام رضا و سکه ها و کتیبه های نفیس، اشاره کرد.

کشور ایران به دلیل دارا بودن تاریخ طولانی آثار و بناهای زیادی دارد.

مهمترین آثار و بناهایی که در ایران وجود دارد عبارتند از: مساجد - کاروانسراها - کاخ ها -

حمام ها - بازارها - پل ها - آرامگاه های شاعران و دانشمندان - مانده های تاریخی - برج ها، میبایست

انواع میراث کشورها:

۱- میراث جهانی: برخی از بناهای تاریخی یا آثار بیار ارزشمند که بی همتا یا استثنایند

به عنوان میراث فرهنگی جهانی اعلام می شوند که باید از آنها محافظت

شود.

مردم ایران - بسیاری از مورخان - پژوهشگران کشورها جها ← علاقمند به بازدید از این آثار تاریخی هستند.

۲- میراث زیستی جهانی: یکی از انواع گردشگری، گردش و استراحت یا مطالعه و تحقیق در مکان ها

طبیعی مانند کوه ها - غارها - چشمه های آب معدنی - بیابان ها -

جنگل ها - پناهگاه های میات وحش - روستاها است.

علت اینکه در ایران زیستگاه های متنوع و گوناگونی وجود دارد:

۱- به دلیل داشتن ناهمواری های مختلف.

۲- به دلیل داشتن آب و هوای گوناگون.

مقایسه شکفتی های کشورمان با دیگر کشورها:

برخلاف برخی از کشورهای جهان که از دیدن زیبایی های فصلی فصل ها سال و برخی اقلیم ها

محروم هستند ولی در کشور ایران هر یک از چهار فصل سال زیبایی های خاص خود را نشان می د

در ایران علاوه بر زیبایی های طبیعی، بناها و معماری های به جا مانده از دوره های مختلف تاریخی

مخصوصاً پس از اسلام نیز، از شکفتی های ایران می باشد.

گردشگری در طبیعت باعث مشکلاتی می شود و برخی از مناطق در اثر انبوه مسافران آسیب می بینند

امروزه کشورها سعی و تلاش می کنند برای گردش و استراحت در طبیعت طوری برنامه ریزی

کنند که از آسیب رساندن به محیط زیست جلوگیری شود یکی از این برنامه ها، ایجاد پارک

های ملی است.

در پارک های ملی مانند مناطق حفاظت شده قوانین و مقرراتی حکم فرماست از جمله: بونه کنی

چرای دام ها - شکار و نظایر آنها ممنوع است و محیط های امن طبیعی برای جانوران است

باید آورده اند و بخشش از این پارک ها هم به گردشگاه مسافران اختصاص داده شده

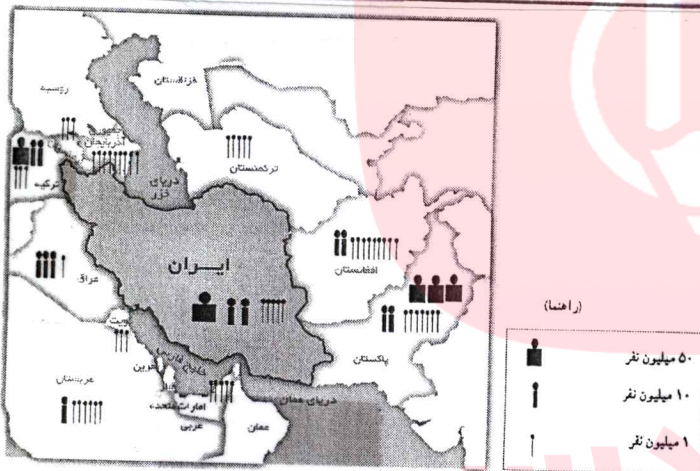
سؤال مفهومی:
 دو گروه گردشگر خارجی از کشور هلند وارد ایران می شوند، یک گروه قصد طبیعت گردی
 (میراث زیستی) دارند و گروه دیگر می خواهد از جاذبه های تاریخی و فرهنگی (میراث جهانی)
 ایران بازدید کنند، برای هر گروه چهار نوع جاذبه، و برای هر جاذبه چهار مکان پیشنهاد دهید:

پاسخ پیشنهادی:

برای گروه اول که قصد طبیعت گردی (میراث زیستی) ایران را دارند می توانیم:
 ۱- آب گرم محلات ۲- غار علی صدر، همدان ۳- جنگل خرداد، خلیج فارس یا
 جنگل در هزار، یاسه هزار، شمال کشور ۴- پیابان لوت یا کویر نمک.

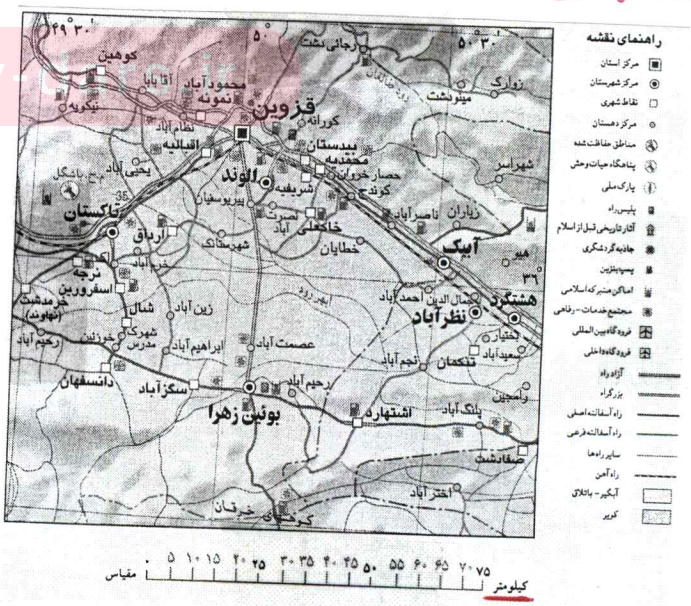
برای گروه دوم که قصد بازدید از جاذبه های فرهنگی و تاریخی (میراث جهانی) را دارند می توانیم:
 ۱- کاخ تخت جمشید، مرودشت شیراز یا کاخ گلستان، تهران ۲- مسجد شیخ لطف الله، یاسجد
 امام، اصفهان ۳- مام وکیل، شیراز یا مام باغ فین کاشان ۴- بازار تبریز یا بازار اصفهان یا بازار ار
 ۵- پل سی و سه پل یا پل خواجو، اصفهان

تمرین ۱: با توجه به راهنمای نقشه، جمعیت
 کشورهای همسایه ایران را بنویسید.



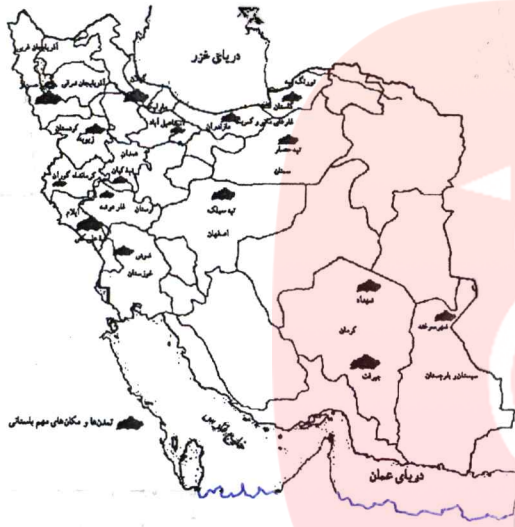
تمرین ۲: با توجه به نقشه و با استفاده از مقیاس قطی و یک خط فاصله مکان های زیر را
 گروه آموزشی عصر
 محاسبه کنید:

- قزوین تا تاکستان:
- محمدیه تا قزوین:
- قزوین تا بوئین زهرا:
- قزوین تا هشتگرد:

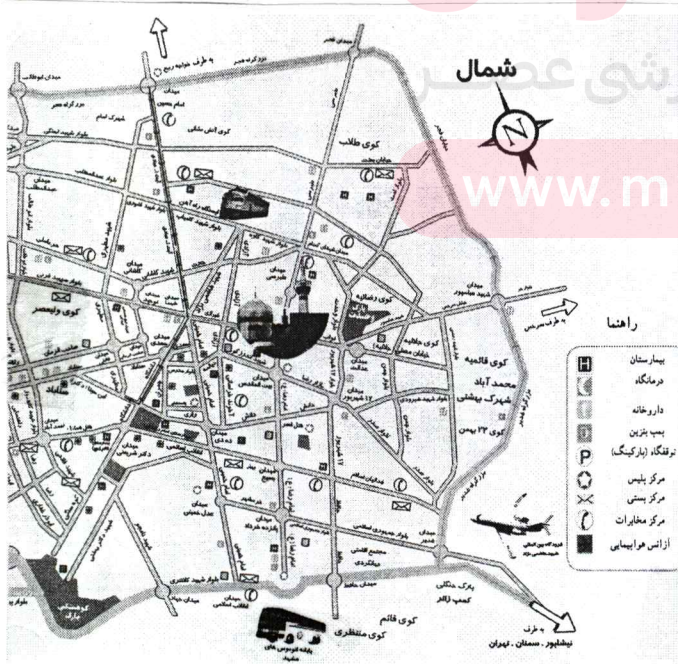


عوامل مؤثر در پراکنده‌گی جمعیت ایران در نواحی مختلف ایران

عوامل مؤثر در پراکنده‌گی جمعیت	ناحیه
خاک حاصلخیز - بارندگی کافی	کوهپایه‌های البرز و زاگرس
داشتن منابع نفت و گاز	ناحیه خوزستان
باران کافی - هوای معتدل - آب کافی - خاک حاصلخیز کشاورزی	جنگله‌های کناره دریا خزر
پایتخت بودن - وجود سازمان‌های مهم دولتی - وجود دانشگاه‌ها - بیمارستان - مراکز صنعتی	منطقه شهری تهران
کمبود بارندگی - آب و هوای گرم و خشک - خاک نامساعد (دشت لوت و کویر نمک خالی)	بعضی از نواحی داخلی ایران (کم جمعیت)



باتوجه به نقشه بالا می‌فهمیم که کشور ایران یک کشور تمدن خیز است و توزیع جغرافیایی مراکز تمدنی و سکونت‌گاه‌های آن از غرب به شرق کشور گسترده شده، بود و آب مهم‌ترین دلیل پیش‌تمدن‌هاست و ایران قبل از ورود آریایی‌ها به ایران دارای تمدن بوده است.



تمرین: باتوجه به نقشه روبه‌رو، به سؤال زیر پاسخ دهید:

- چند بیمارستان و درمانگاه نزدیک به حرم پیداکنید و نام آنها را بنویسید.
- آیا حرم به پایانه اتوبوس‌ها نزدیک است یا به ایستگاه راه آهن.
- خیابان‌ها اصلی در چهار جهت حرم مطهر را پیداکنید و نام آنها را بنویسید.
- دوبوستان (پارک) در شهر مشهد را روی نقشه پیداکنید و نام آنها را بنویسید.