

بارم ردیف  
 نمونه سوالات پیشنهادی پایه هفتم - فصل ۶

۰/۷۵ ۱  
**جای خالی را توسط کلمه های درون پرانتز، کامل کنید.**  
 الف- به مجموعه آب های موجود در هوا کره ، سطح و درون زمین که به صورت جامد، مایع و بخار می باشند، .....  
 گفته می شود. (رودخانه-آب کره)  
 ب-هرگاه در فرایند متراکم شدن ابرها، دمای هوا خیلی کم باشد، رطوبت هوا به شکل ..... به سطح زمین  
 می ریزد.(باران-برف)  
 پ- منطقه ای که آب های سطحی آن، توسط یک رود و انشعابات آن از نقاط مرتفع به سمت نواحی پست تر هدایت  
 می شود،.....نام دارد.(یخچال-حوضه آبریز)

۰/۷۵ ۲  
 در کدام منطقه، شکل رودخانه، مارپیچی است؟ چرا؟



منطقه ۱






منطقه ۲

۰/۵ ۳  
 جدول زیر، میانگین بارش در سه شهر اصفهان، بندر انزلی و تهران را نشان می دهد.

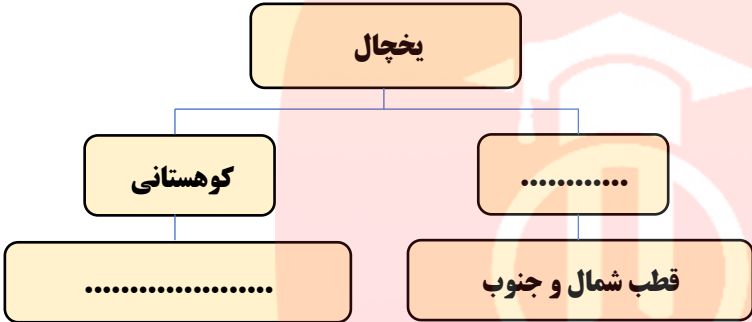
آبادان	بندر انزلی	اصفهان	نام شهر
۲۷۳	۱۶۷۵	۱۱۲	میانگین بارش (میلی متر)
%۸۰	%۸۷	%۳۳	رطوبت نسبی

علت اختلاف زیاد بارندگی در بندر انزلی با دو شهر آبادان و اصفهان چیست؟

۰/۵	<p>در کدام زمین، آبشار تشکیل می شود؟ چرا؟</p>  <p>سنگ مقاوم      سنگ نرم      الف</p> <p>سنگ مقاوم      سنگ نرم      ب</p>	۴
<p>۰/۵</p> <p>۰/۵</p> <p>۰/۵</p>	 <p>شکل روبرو، دریاچه خزر در کشور عزیزمان ایران را نشان می دهد. دریای خزر، بزرگ ترین دریاچه دنیا، بزرگ ترین پهنه آبی حصر شده در خشکی، یکی از شگفتی های منطقه خاورمیانه است. این دریاچه خودکفا به هیچ دریای آزادی راه ندارد و از طریق کانال به دریای سیاه متصل می شود.</p> <p>الف- چرا به خزر، دریاچه می گویند؟</p> <p>ب- اهمیت دریاچه ها در چیست؟</p> <p>پ- نام یک دریاچه مصنوعی و یکی از کاربرد های آن را بنویسید.</p>	۵
۰/۷۵	<p>در شکل مقابل، کدام پدیده ممکن است روی کره ی زمین روی دهد؟ برای انتخاب خود، دلیل بیاورید.</p>  <p>الف- آبشار</p> <p>ب- جزر و مد</p> <p>پ- یخچال</p> <p>ت- رودخانه</p>	۶

۰/۷۵	<p>کدام ظرف، می تواند پدیده ی تشکیل باران را به درستی نشان دهد؟ چرا؟</p> <div style="display: flex; justify-content: space-around; align-items: center;"> <div style="text-align: center;">  <p><b>الف</b></p> </div> <div style="text-align: center;">  <p><b>ب</b></p> </div> <div style="text-align: center;">  <p><b>پ</b></p> </div> </div>	۷						
۰/۲۵ ۰/۵	<p><b>به سوالات زیر، پاسخ کوتاه دهید؟</b></p> <p>الف) دریاچه ای که در اثر شکستگی های قسمتی از سنگ کره در ایران به وجود آمده، چه نام دارد؟</p> <p>ب) شکل سواحل در قسمت هایی که سنگ های ساحلی مقاومت بیشتری دارند، چگونه است؟</p>	۸						
۰/۷۵	<p><b>با توجه به مفاهیم داده شده، هر عبارت را به کلمه ی مناسب وصل کنید؟ (یک کلمه اضافه است)</b></p> <table style="width: 100%; border-collapse: collapse;"> <tr> <td style="width: 50%; text-align: center; border-bottom: 1px solid black;">کلمه</td> <td style="width: 50%; text-align: center; border-bottom: 1px solid black;">عبارت</td> </tr> <tr> <td style="vertical-align: top;"> <p>* ماریچ</p> <p>* حوضه ی آبریز</p> <p>* مستقیم</p> <p>* آبشار</p> </td> <td style="vertical-align: top;"> <p>الف- منطقه ای که آب های سطحی آن، توسط رود و انشعاباتش از نواحی مرتفع به نواحی پست هدایت شوند.</p> <p>ب- پدیده ای که بر اثر عبور آب از سنگ های سخت و سپس از سنگ های نرم و کم مقاوم ایجاد می شود.</p> <p>پ- مسیر رود خانه ای که در زمینی با شیب کم جریان دارد.</p> </td> </tr> </table>	کلمه	عبارت	<p>* ماریچ</p> <p>* حوضه ی آبریز</p> <p>* مستقیم</p> <p>* آبشار</p>	<p>الف- منطقه ای که آب های سطحی آن، توسط رود و انشعاباتش از نواحی مرتفع به نواحی پست هدایت شوند.</p> <p>ب- پدیده ای که بر اثر عبور آب از سنگ های سخت و سپس از سنگ های نرم و کم مقاوم ایجاد می شود.</p> <p>پ- مسیر رود خانه ای که در زمینی با شیب کم جریان دارد.</p>	۹		
کلمه	عبارت							
<p>* ماریچ</p> <p>* حوضه ی آبریز</p> <p>* مستقیم</p> <p>* آبشار</p>	<p>الف- منطقه ای که آب های سطحی آن، توسط رود و انشعاباتش از نواحی مرتفع به نواحی پست هدایت شوند.</p> <p>ب- پدیده ای که بر اثر عبور آب از سنگ های سخت و سپس از سنگ های نرم و کم مقاوم ایجاد می شود.</p> <p>پ- مسیر رود خانه ای که در زمینی با شیب کم جریان دارد.</p>							
۰/۵	<p>جدول زیر را کامل کنید</p> <table border="1" style="width: 100%; border-collapse: collapse; text-align: center;"> <thead> <tr> <th style="width: 50%;">نام دریاچه</th> <th style="width: 50%;">علت تشکیل</th> </tr> </thead> <tbody> <tr> <td>.....</td> <td>بالاتر بودن سطح آب های زیرزمینی از کف غار</td> </tr> <tr> <td>سبلان</td> <td>.....</td> </tr> </tbody> </table>	نام دریاچه	علت تشکیل	.....	بالاتر بودن سطح آب های زیرزمینی از کف غار	سبلان	.....	۱۰
نام دریاچه	علت تشکیل							
.....	بالاتر بودن سطح آب های زیرزمینی از کف غار							
سبلان	.....							

۰/۷۵	<p>با توجه به مفاهیم داده شده، هر عبارت را به کلمه ی مناسب وصل کنید؟ ( یک کلمه اضافه است)</p> <p>عبارت</p> <p>کلمه</p> <hr/> <p>الف) امواج بزرگی در دریا هنگام وقوع زمین لرزه و آتشفشان های زیر دریایی . * هموار</p> <p>ب) شکل سواحل در قسمت هایی که سنگ های ساحلی مقاومت کمتری دارند. * آبتاز</p> <p>پ) مجموعه آب های موجود در هواکره، سطح و درون زمین به صورت جامد، مایع و گاز * صخره ای</p> <p>* آب کره</p>	۱۱
۰/۷۵	<p>در هر کدام از گزینه های زیر، کدام شکل بارش به وجود می آید؟ از جعبه کلمات زیر استفاده کنید.</p> <div style="border: 1px solid black; padding: 5px; text-align: center; width: fit-content; margin: 10px auto;">       برف - باران - تگرگ     </div> <p>الف- هرگاه دمای هوا هنگام تراکم، بالاتر از صفر درجه ی سلسیوس باشد، رطوبت هوا به شکل ..... به سطح زمین می ریزد.</p> <p>ب- هرگاه در فرایند متراکم شدن ابرها، دمای هوا خیلی کم (زیر صفر) باشد، رطوبت هوا به شکل ..... به سطح زمین می ریزد.</p> <p>پ- اگر قطره های باران در مسیر پایین آمدن به سطح زمین از توده ی هوای سرد عبور کنند به ..... تبدیل می شوند.</p>	۱۲
۱	<p>با توجه به مفهوم هر عبارت ، کلمه مناسب را انتخاب کرده و در جای خالی بنویسید.</p> <p>الف- دریاچه ی ..... ، به علت شکستگی های قسمتی از سنگ کره ، ایجاد شده است. ( خزر- ارومیه - سبلان )</p> <p>ب - اگر شیب زمینی که رودخانه در آن جریان دارد، زیاد باشد؛ رودخانه مسیر ..... پیدا می کند. ( ماریچ - پُریچ - مستقیم )</p> <p>پ- اگر رودخانه در ادامه مسیر خود به محلی برسد که بستر آن به طور ناگهانی دچار اختلاف ارتفاع شود؛ ..... ایجاد می گردد. ( تند آب - آبتاز - یخچال )</p> <p>ت- در قسمت هایی که جنس سنگ های ساحلی در برابر فرسایش مقاوم اند؛ شکل ساحل به صورت ..... است. ( صخره ای - هموار - ماسه ای )</p>	۱۳

۰/۵	<p>مینا با خانواده اش از اهواز به سمت بندر دیلم حرکت کردند. مینا در راه، از پدرش پرسید: (( آیا می توانیم طی مسیر، به کنار دریا برویم؟ )) پدرش به او پاسخ داد: (( در قسمت هایی که سنگ های ساحلی مقاومت کمتری دارند، می توان به ساحل رفت. ))</p> <p>شکل ساحل در این مناطق چگونه است؟</p>	۱۴
۰/۵	<p>بیشتر مناطق کشورمان ایران، در منطقه نیمه بیابانی و بیابانی است و میزان بارش سالیانه کم است، با توجه به این مورد، شما چه راهکارهایی برای استفاده از بهینه آب پیشنهاد می کنید؟ ( دو راهکار)</p>	۱۵
۰/۵	<p>نمودار نقشه مفهومی زیر را کامل کنید.</p>  <pre> graph TD     A[یخچال] --&gt; B[کوهستانی]     A --&gt; C[.....]     B --&gt; D[.....]     C --&gt; E[قطب شمال و جنوب] </pre>	۱۶

# مای درس

گروه آموزشی عصر

[www.my-dars.ir](http://www.my-dars.ir)