

نام و نام خانوادگی:

پایه و رشته: دهم ریاضی

نام پدر:

شماره داوطلب:

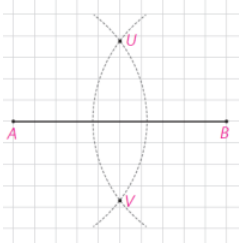
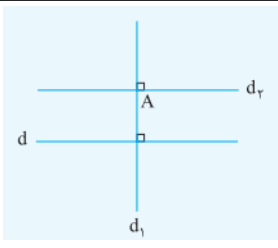
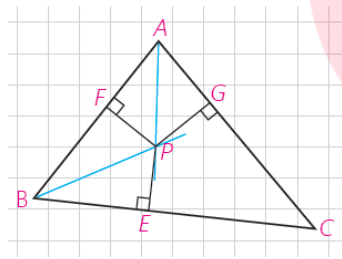

کلید امتحانات پایان ترم اول سال تحصیلی ۹۶-۱۳۹۵

نام درس: هندسه

تاریخ امتحان: ۱۳۹۵/۱۰/۶

ساعت امتحان: ۸ صبح

مدت امتحان:

ردیف	کلید سوالات	محل مهر و امضاء مدیر	بارم
۱	دهانه پرگار را به اندازه بیش از نصف پاره خط (بیش از ۵) باز کیده دو کمان یکی به مرکز A و دیگری به همان شعاع به مرکز B رسم میکنیم. محل برخورد این دو کمان را به هم وصل میکنیم. خط به وجود آمده پاسخ مساله است.		
۲	از نقطه A خطی عمود بر d رسم می کنیم (روش رسم را میدانیم) نقطه A روی خط جدید قرار دارد. از آن خط دیگری عمود بر خط جدید رسم میکنیم (روش رسم را میدانیم) این خط با خط d موازی است.		
۳	دایره ای به قطر ۸ سانتیمتر رسم میکنیم. (یا دایره ای به شعاع ۴) هر قطر دیگر از این دایره را رسم کرده و از آن به دو سر قطر اول وصل کنیم. شکل به وجود آمده همان مستطیل مدنظر است.		
۴	دو نیمساز داخلی را رسم میکنیم. محل برخورد آن ها را در نظر میگیریم. طبق ویژگی نیمساز این نقطه از دو ضلع هر دو این زاویه ها به یک فاصله است. $PG=PF$ $PG=PE$ میتوان نتیجه گرفت $PF=PE$ پس نقطه P رور نیمساز زاویه C نیز قرار دارد چون از دو ضلع آن به یک فاصله است.		
۵	یک چهارضلعی مانند ABCD در نظر گرفته و یک قطر آن را رسم میکنیم. دو مثلث به وجود می آید. مجموع زوایای داخلی هر مثلث ۱۸۰ درجه است. پس: $A+B+D=180$ $C+B+D=180$ $A+B+D+C=360 \Rightarrow A+B+C+D=360$		
۶	الف) هر متوازی الاضلاع یک لوزی است (درست نیست) ب) اگر در یک مثلث سه زاویه برابر باشند آنگاه سه ضلع نیز باهم برابرند. دوشروطی: در یک مثلث سه زاویه باهم برابرند اگر و تنها اگر سه ضلع با هم برابر باشند		
۷	الف) مجموع زاویه های داخلی یک مثلث ۱۸۰ درجه نیست. (کمتر و یا بیشتر است) ب) از هر نقطه خارج خط می توان بیش از یک عمود بر آن رسم کرد.		

نام و نام خانوادگی:

پایه و رشته: دهم ریاضی

نام پدر:

شماره داوطلب:

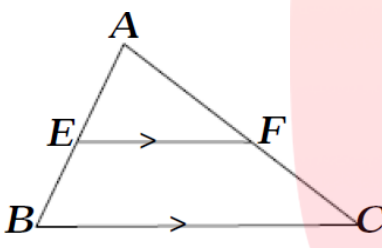
نام درس: هندسه

تاریخ امتحان: ۱۳۹۵/۱۰/۶

ساعت امتحان: ۸ صبح

مدت امتحان:

کلید امتحانات پایان ترم اول سال تحصیلی ۹۶-۱۳۹۵

	<p>فرض: $A > B$ حکم: $BC > AC$</p> <p>برهان خلف: فرض می‌کنیم $AC \geq BC$ (۰/۲۵) دو حالت زیر را در نظر می‌گیریم:</p> <p>الف) $AC = BC$ در این حالت مثلث متساوی الساقین است. پس $\hat{A} = \hat{B}$ که این خلاف فرض است.</p> <p>ب) $AC > BC$ در این حالت با توجه به قضیه لولا $\hat{A} < \hat{B}$ که این نیز خلاف فرض است.</p> <p>پس فرض خلف باطل است و حکم درست می‌باشد.</p>	۸
	<p>واسطه هندسی: $a \cdot b = c^2$</p> <p>$c = 6$ $۳۶ = ۹ \times ۴$</p>	۹
	<p>$\frac{۵x-۱}{۹x} = \frac{۲۵}{۵۰} = \frac{۴y-۵}{۶y}$</p> <p>$y = ۵, x = ۲$</p>	۱۰
	<p>FD را موازی BE رسم می‌کنیم. EFDB متوازی الاضلاع است پس: $EF = BD$</p> <p>$\frac{AE}{AB} = \frac{AF}{AC}$ $EF \parallel BD$</p> <p>$\frac{BD}{BC} = \frac{AF}{AC}$ $FD \parallel AB$</p> <p>بنابراین: چون $EF = BD$ میتوان گفت: $\frac{EF}{BC} = \frac{AE}{AB} = \frac{AF}{AC}$</p>	۱۱

مای درس

گروه آموزشی عصر

www.my-dars.ir

ASR_Group@outlook.com

@ASRschool2

نام و نام خانوادگی:

پایه و رشته: دهم ریاضی

نام پدر:

شماره داوطلب:

امتحانات پایان ترم اول سال تحصیلی ۹۶-۱۳۹۵

نام درس: هندسه

تاریخ امتحان: ۱۳۹۵/۱۰/۶

ساعت امتحان: ۸ صبح

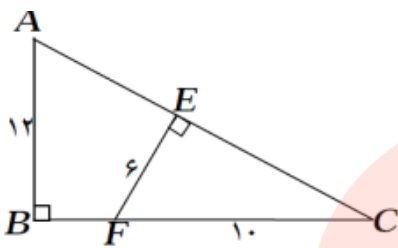
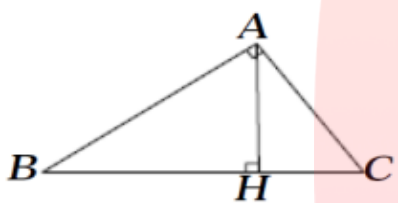
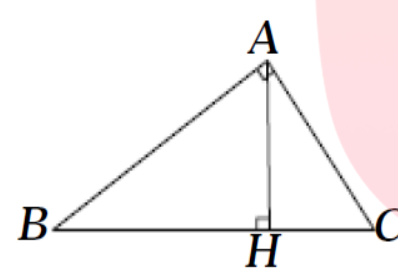
مدت امتحان: ۱۰۰ دقیقه

ردیف	سوالات	محل مهر و امضاء مدیر	بارم
۱	روش رسم عمودمنصف پاره خط AB به طول ۱۰ سانتیمتر را به کمک خط کش و پرگار توضیح دهید.		۱/۲۵
۲	از نقطه A خارج خط d به کمک خط کش و پرگار خطی موازی با d رسم کرده و روش رسم را توضیح دهید.		۱/۵
۳	می دانیم قطرهای مستطیل یکدیگر را نصف می کنند. مستطیلی رسم کنید که طول قطر آن ۸ سانتیمتر باشد.		۱/۵
۵	ثابت کنید سه نیمساز داخلی مثلث هم‌رسند.		۱/۵
۶	به کمک استدلال استنتاجی ثابت کنید مجموع زوایای داخلی n ضلعی محدب برابر است با: $(n-2) \times 180^\circ$		۱/۵
۷	عکس هریک از قضیه های زیر را نوشته و در صورت صحیح بودن آن را به صورت دو شرطی بیان کنید. الف) هر لوزی یک متوازی الاضلاع است. ب) در مثلث اگر سه ضلع برابر باشند آنگاه سه زاویه نیز با هم برابرند.		۱/۵
۸	نقیض گزاره های زیر را بیان کنید: الف) مجموع زوایای داخلی مثلث 180° درجه است. ب) از هر نقطه خارج خط فقط یک عمود میتوان بر آن رسم کرد.		۱
۹	به کمک برهان خلف ثابت کنید اگر در مثلثی دو زاویه نابرابر باشند آنگاه ضلع رو به رو به زاویه بزرگتر بزرگتر است از ضلع رو به رو به زاویه کوچکتر.		۱/۲۵
۱۰	طول پاره خطی را بدست آورید که واسطه هندسی بین ۴ و ۹ باشد.		۰/۷۵
۱۱	در شکل زیر مقادیر x و y را بیابید.		۱
۱۲	در مثلث ABC پاره خط EF با ضلع BC موازی است. ثابت کنید: (تعمیم قضیه تالس) $\frac{AE}{AB} = \frac{AF}{AC} = \frac{EF}{BC}$		۱/۵

نام درس: هندسه
 تاریخ امتحان: ۱۳۹۵/۱۰/۶
 ساعت امتحان: ۸ صبح
 مدت امتحان: ۱۰۰ دقیقه

امتحانات پایان ترم اول سال تحصیلی ۹۶-۱۳۹۵

نام و نام خانوادگی:
 پایه و رشته: دهم ریاضی
 نام پدر:
 شماره داوطلب:

۱/۵	ثابت کنید اگر دو زاویه از مثلثی با دو زاویه از مثلث دیگری باهم برابر باشند آن دو مثلث متشابهند.	۱۳
۱/۲۵	ابتدا ثابت کنید دو مثلث ABC و CEF متشابهند، سپس طول BC و CE را بدست آورید.	۱۴
		
۱	ثابت کنید اگر در مثلث قائم الزاویه ارتفاع وارد بر وتر را رسم کنیم دو مثلث به وجود آمده باهم متشابهند.	۱۵
		
۲	در مثلث قائم الزاویه ABC : الف) ثابت کنید: $AB^2 = BH \times BC$ ب) اگر $CH=4$ و $AH=6$ باشد اندازه اضلاع مثلث ABC را بدست آورید.	۱۶
		
۲۰	جمع نمره	موفق و پیروز باشید (آصفی)

مای درس
 گروه آموزشی عصر

