

نام و نام خانوادگی.....
سوالات پیک آدینه ریاضی پایه چهارم.....

آبان ۱۳۹۳

۵۳۲۷۰۹۱۴۶

۱- با توجه به عدد مقابل به سوالات زیر پاسخ دهید.

الف- این عدد را به حروف بنویسید.....

ب- ارزش مکانی بزرگ ترین رقم چیست؟.....

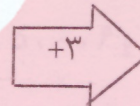
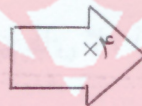
ج- کوچک ترین رقم در چه مرتبه ای است؟.....

د- رقم های مرتبه ی میلیون چیست؟.....

۷۶۸۵۹۳-۸۷۶۵۹۳-۷۸۶۵۹۳-۸۶۷۵۹۳

۲- عددهای زیر را از کوچک به بزرگ مرتب کنید.

شده حاصل ۳۵ شده است؛ آن عدد چیست؟



۳- عددی وارد ماشین ورودی- خروجی

۷۶۲۵۰۴۶۸

+۳۵۰۰۰۰۰

۴- حاصل جمع و تفریق های زیر را به دست آورید.

۷۴۶۰۰۹

-۲۳۵۰۰۰

مای درس

گروه آموزشی عصر

www.my-dars.ir

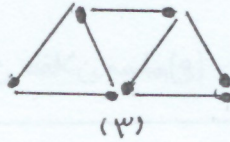
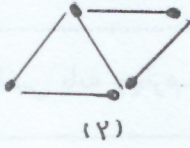
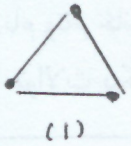
۴۹۷۰۰۸۵ ۴۷۹۰۰۸۵

۹۷۸۹۶۳۵ ۹۸۷۹۶۳۵ (\leq) کنید. را مقایسه کنید.

۱۰۰۰۰۰۵۰ ۱۰۰۰۰۰۰۵

۶۵۷۶۹۳۹۳ ۶۵۴۹۳۸۰۰

۶- الگویابی کنید.



الف- در شکل ۶ به چند چوب کبریت نیاز داریم؟
ب- در شکل ۵۰ به چند چوب کبریت نیاز داریم؟
ج- راه حل خود را توضیح دهید.

.....
.....

$$1450 + 1120 =$$

۷- برای جمع رو به رو، یک مسأله بسازید و حاصل را پیدا کنید.

.....
.....

۸- بزرگ ترین و کوچک ترین عدد شش رقمی زوج با رقم های ۳، ۱، ۵، ۰، ۹ و ۷ را بنویسید و اختلاف آن ها را به دست آورید.

اختلاف:

بزرگ ترین عدد.....

کوچک ترین عدد.....

مای درس

گروه آموزشی عصر

$$\frac{9}{15} - \frac{\quad}{\quad} = \frac{2}{15}$$

$$\frac{\quad}{\quad} + \frac{2}{8} = \frac{7}{8}$$

۹- در جاهای خالی کسرهای مناسب بنویسید.

www.my-dars.ir

$$\frac{5}{11} + \frac{\quad}{\quad} = \frac{9}{11}$$

$$\frac{10}{14} - \frac{4}{14} = \frac{\quad}{\quad}$$

نیاز به
تلاش

قابل قبول

فوب

فیلی فوب

اظهار نظر معلم: