

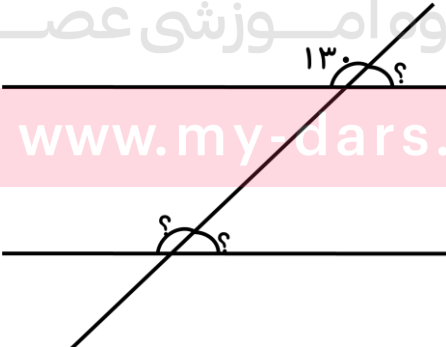
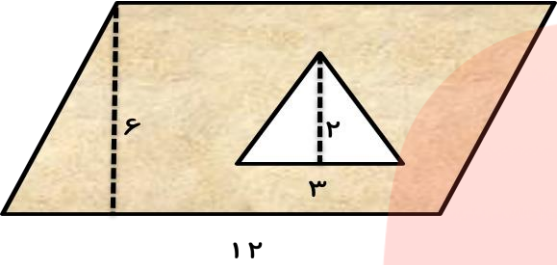


<p>۱ یک چهارضلعی رسم کن که قطرهایش بر هم عمود باشند ولی هم اندازه نباشند.</p>	<p>۱</p>
<p>۲ از یک نقطه خارج از این خط یک خط عمود بر آن رسم کن.</p> 	<p>۲</p>
<p>۳ دو ویژگی متوازی الاضلاع را بنویس.</p>	<p>۳</p>
<p>۴ مجموع زاویه های داخلی شکل های زیر را بنویس.</p> 	<p>۴</p>
<p>۵ به جای علامت های ؟ چه عدد هایی را بگذاریم.</p> 	<p>۵</p>
<p>۶ یک ذوزنقه با دو زاویه ی قائمه رسم کن.</p>	<p>۶</p>

۷	یک تفاوت مربع و متوازی الاضلاع را نام ببر.
۸	<p>مساحت قسمت رنگی را حساب کن.</p> 
۹	<p>یک باغچه مستطیل شکل به طول ۴ متر و عرض ۳ متر داریم. می خواهیم دور این باغچه را نرده بکشیم. چند متر نرده برای دور باغچه لازم است؟</p>
۱۰	<p>یک مثلث چند ارتفاع دارد؟ چرا؟</p>

موفقیت و سربلندی پسر خوبم آرزوی من است.

www.my-dars.ir

بازخورد آموزگار:

نیاز به تلاش

قابل قبول

خوب

بسیار خوب

