

به نام خدا


پایه چهارم ابتدایی

آزمون ریاضی

فصل ششم

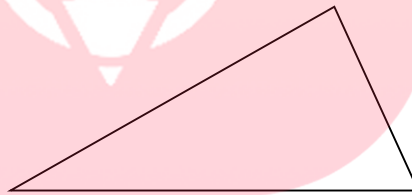
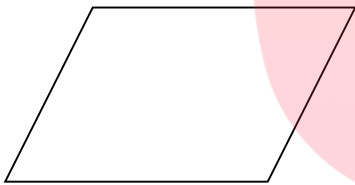
نام و نام خانوادگی:

۱- با استفاده از گونیا دو خط عمود بر خط مقابل بکشید.

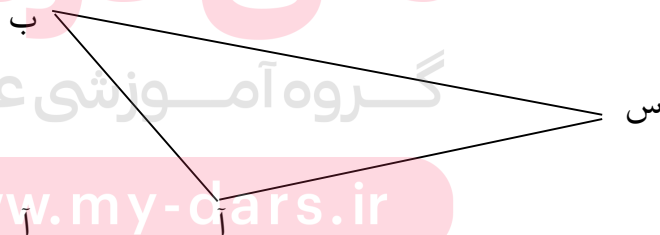
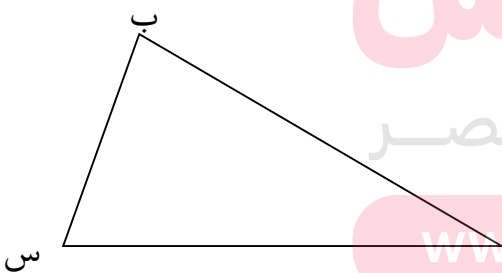


۲- دوزنقه را تعریف کنید.

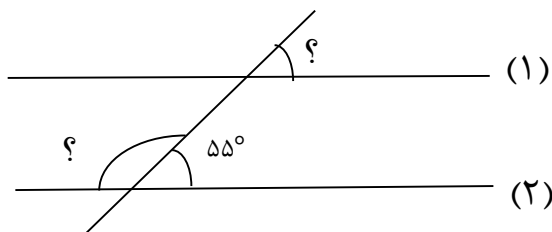
۳- با استفاده از نقاله، اندازه ی زاویه های شکل های زیر را پیدا کنید.



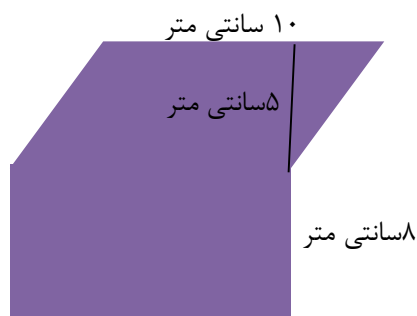
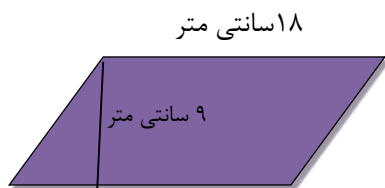
۴- در مثلث های زیر با استفاده از گونیا ارتفاع نظیر راس (س) را رسم کنید.



۵- در شکل رو به رو خط ها (۱) و (۲) موازی هستند. اندازه زاویه هایی را که با علامت سوال مشخص شده اند پیدا کنید و توضیح دهید چگونه به جواب رسیده اید.



۶) مساحت شکل های زیر را پیدا کنید.



۷) اتاق مهروی ۵ متر طول و ۳ متر عرض دارد. این اتاق چقدر موکت احتیاج دارد؟



مای درس

گروه آموزشی عصر

www.my-dars.ir