
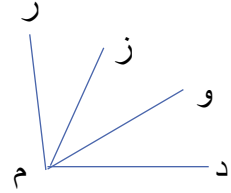





به نام خالق زیبایی

نام و نام خانوادگی دبستان زمان : ۴۵ دقیقه

<p>ردیف ۱</p>	<p>نام زاویه ها را بنویس و آنها را نام گذاری کن .</p>  <p>.....</p>
<p>۲</p>	<p>در شکل چند زاویه هست آنها را به ترتیب نام ببرید .</p>  <p>.....</p>
<p>۳</p>	<p>زاویه های زیر را با نقاله اندازه بگیرد و بنویس .</p>  <p>.....</p>
<p>۴</p>	<p>زاویه های زیر را دوبه دو مقایسه کنید و در دایره علامت مناسب بگذارید .</p>  <p>زاویه ((م)) <input type="radio"/> زاویه ((ن)) <input type="radio"/> زاویه ((د)) <input type="radio"/> زاویه ((ر)) <input type="radio"/></p>
<p>۵</p>	<p>مجموع زاویه های داخل مثلث و مستطیل چقدر است آنها را اندازه گیری کن و بنویس .</p>  <p>.....</p>
<p>۶</p>	<p>با نقاله یک زاویه ۸۵ درجه رسم کن و روش رسم کردن آن را توضیح بدهید .</p>
<p>۷</p>	<p>به سوالهای زیر پاسخ دهید .</p> <p>۷ ساعت چند دقیقه است ؟ دقیقه</p> <p>۲ شبانه روز چند ساعت است ؟ ساعت</p> <p>۶ هفته یعنی چند روز است ؟ روز</p>

نیاز به تلاش	قابل قبول	خوب	خیلی خوب	اهداف و معیار مورد نظر	ردیف
				زاویه را می شناسد نام گذاری می کند و می خواند	۱
				انواع زاویه ها را می شناسد و تشخیص می دهد	۲
				دو زاویه را با هم مقایسه می کند و یک عبارت می نویسد	۳
				با استفاده از نقاله زاویه ها را اندازه گیری و رسم می کند	۴
				واحد درجه را برای اندازه گیری زاویه می شناسد و به کار میبرد	۵
				واحدهای مختلف زمان (روز ، ساعت و دقیقه) را به یکدیگر تبدیل میکند	۶

مای درس

گروه آموزشی عصر

www.my-dars.ir