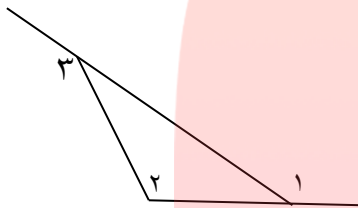


۱- یک زاویه ۶۵ درجه و یک زاویه ۱۴۰ درجه را با نقاله رسم کنید:

۲- در شکل زیر اندازه زاویه ی خواسته شده را به دست آورید:

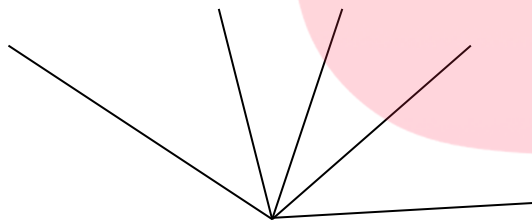


زاویه یک: ۳۷ درجه

زاویه دو: ۱۰ درجه

زاویه سه: ؟؟

۳- شکل زیر را نام گذاری کنید و تعداد زاویه های آن را بنویسید:

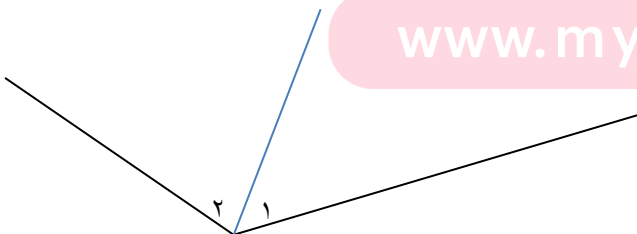


مای درس

گروه آموزشی عصر

۴- اندازه زاویه های خواسته شده را به دست آورید؟

[www.my-dars.ir](http://www.my-dars.ir)



زاویه یک: ۴۰ درجه

زاویه دو: ۶۰ درجه

زاویه کل: ؟؟؟