

نام و نام خانوادگی :

آزمون مداد- کاغذی

نام مدرسه :

نام آموزگار :

ریاضی پایه چهارم

تاریخ آزمون : /

مهم نیست اگر زمین بخوری ، مهم دوباره برخاستن است .

۱- جمله های زیر را با عدد مناسب کامل کنید .


الف) اندازه ی هر زاویه ی باز از درجه کمتر و از درجه بیشتر است .

ب) اندازه ی هر زاویه ی تند از درجه کمتر است .

۲- زاویه ی مقابل را به سه صورت بخوانید .

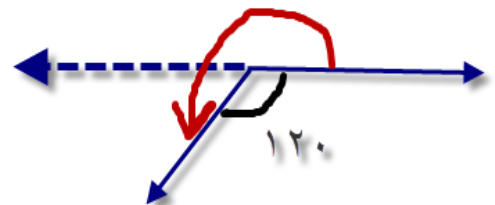



۳- طول پاره خطی را که با علامت ؟ مشخص شده را پیدا کنید . (مثلث متساوی الساقین است)



۴- اندازه ی زاویه های مورد نظر را به دست آورید .

www.my-dars.ir



نام و نام خانوادگی :

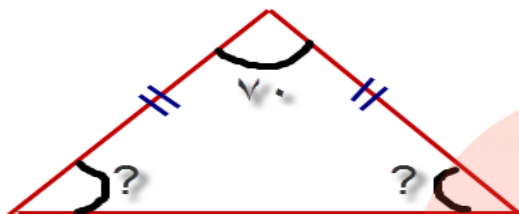
آزمون مداد- کاغذی

نام مدرسه :

نام آموزگار :

ریاضی پایه چهارم

۵- اندازه ی زاویه های خواسته شده را به دست آورید .



۶- اندازه زاویه های مورد نظر را پیدا کنید با توجه به داشتن دو کونیای ۳۰-۶۰-۴۵ و ۴۵-۴۵

