

نام:

بسمه تعالی

ارزشیابی درس ریاضی (کسرها)

نام خانوادگی:

تاریخ آزمون:

کلاس چهارم - آقای رئیسی

مدت پاسخگویی: ۴۵ دقیقه

دانش آموزان عزیز به سوالات زیر با دقت پاسخ دهید.

۱. پاسخ جمع و تفریق کسرهای زیر را بنویسید.

$$\frac{2}{3} + \frac{2}{9} =$$

$$\frac{3}{8} + \frac{2}{16} =$$

$$\frac{6}{6} - \frac{2}{6} =$$

$$\frac{1}{2} - \frac{2}{8} =$$

$$\frac{3}{4} - \frac{2}{12} =$$

$$\frac{5}{16} + \frac{11}{16} =$$

۲. به کسرهای زیر دقت کنید و حاصل ضرب عدد در کسر را بنویسید.

$$3 \times \frac{2}{8} =$$

$$2 \times \frac{2}{7} =$$

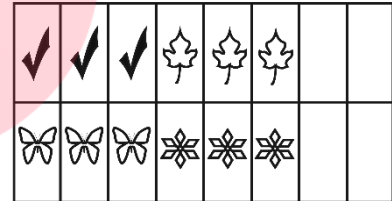


$$6 \times \frac{4}{25} =$$

$$3 \times \frac{1}{27} =$$

$$4 \times \frac{3}{15} =$$

$$7 \times \frac{5}{40} =$$

۳. برای هر شکل یک جمع و یک ضرب عدد در کسر بنویسید و آن را حل کنید.



۴. برای هر یک از کسرهای زیر یک شکل رسم کنید و حاصل آن را بنویسید.

$$3 \times \frac{3}{10} =$$

$$2 \times \frac{5}{12} =$$

$$2 \times \frac{7}{18} =$$

نظر والدین پس از بازدید

بازخورد آموزگار: