

نام و نام خانوادگی: .....

دبستان: .....

نام معلم: .....

تاریخ: .....

به نام خدا

ریاضی فصل ۲

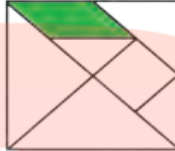
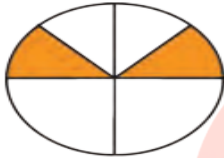


آبان ماه



چهارم ابتدایی

۱- کسر مربوط به هر شکل را بنویسید .



۲- شکل ها را با توجه به کسر داده شده رنگ کنید .





$\frac{7}{10}$



$\frac{4}{6}$

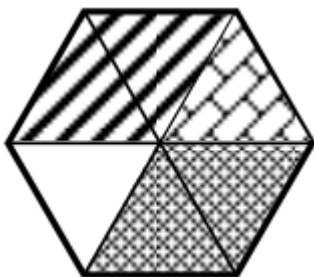
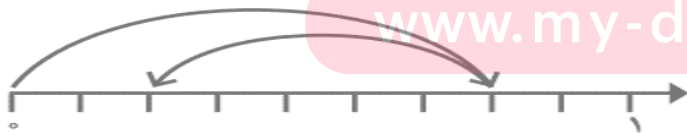
۳- با توجه به واحد داده شده، عدد مخلوط مربوط به هر شکل را بنویسید .



گروه آموزشی عصر

۴- برای هر شکل جمع یا تفریق بنویسید.

[www.my-dars.ir](http://www.my-dars.ir)



۵- در جاهای خالی عدد مناسب بنویسید.

$$\frac{8}{15} - \frac{\quad}{\quad} = \frac{1}{15}$$

$$\frac{4}{11} + \frac{\quad}{\quad} = \frac{9}{11}$$

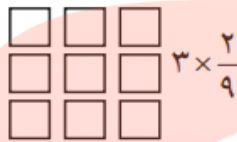
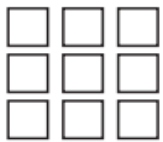
$$\frac{\quad}{8} + \frac{3}{8} = \frac{7}{8}$$

$$\frac{10}{13} - \frac{\quad}{\quad} = \frac{8}{13}$$

$$\frac{\quad}{12} + \frac{5}{12} = \frac{7}{12}$$

$$\frac{7}{8} - \frac{\quad}{\quad} = \frac{5}{8}$$

۶- با توجه به واحد نشان داده شده، ضرب های مورد نظر را بر روی شکل نشان دهید.



۷- کسر های زیر را ساده کنید.

$$\frac{14}{21} =$$

$$\frac{18}{30} =$$

۸- مقایسه کنید.

$$\frac{1}{2} \bigcirc \frac{8}{14}$$

$$\frac{1}{100} \bigcirc \frac{1}{110}$$

$$1 \bigcirc \frac{3}{4}$$

# مای درس

گروه آموزشی عصر

[www.my-dars.ir](http://www.my-dars.ir)

باز خورد معلم: