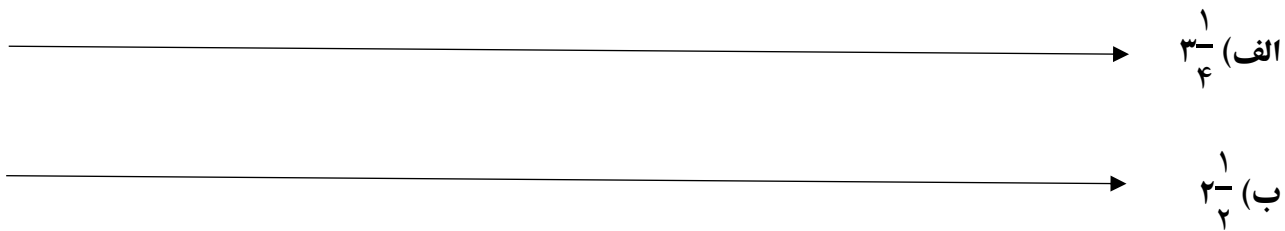


تاریخ / /  
آموزگار: رضا فیضی

باسمه تعالی  
ارزشیابی آذر ماه / ریاضی پایه چهارم / فصل دو (کسر)

نام و نام خانوادگی دانش آموز:

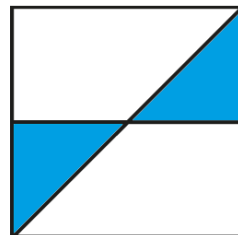
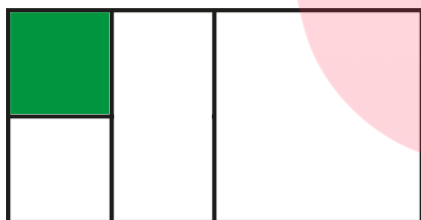
اعداد زیر را روی محور نشان بده.



برای اعداد زیر شکل بکش.

	$\frac{1}{3}$
	$\frac{2}{5}$

چه کسری از شکل ها رنگ شده است؟



ساعت زیر ۱۰:۱۰ را نشان می دهد. آن را به صورت یک عدد مخلوط بنویس.

گروه آموزشی عصر

[www.my-dars.ir](http://www.my-dars.ir)



برای جمع و تفریق های زیر شکل بکش و پاسخ آن را بدست آور.

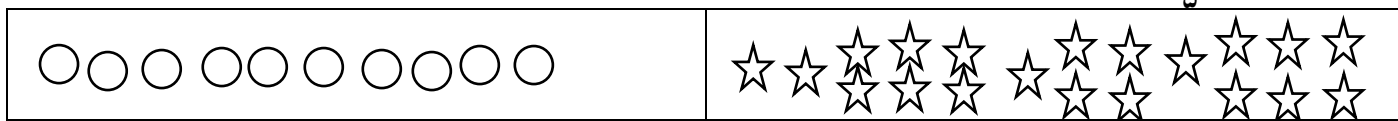
$$\frac{2}{5} + \frac{1}{5} =$$

$$\frac{5}{7} - \frac{2}{7} =$$

حسن  $\frac{3}{7}$  و حسین  $\frac{2}{5}$  از یک دیوار را رنگ آمیزی کرده اند. این دو نفر با چه مقدار از دیوار را رنگ آمیزی کرده اند؟ چه مقدار از دیوار بدون رنگ است؟

۶

از شکل های زیر  $\frac{2}{5}$  آن را رنگ کن.



۷

کسرهای برابر با هر ردیف را پیدا کن و مقابل آن بنویس.

۱-۱۲	
۲-۱۴	
۳-۱۵	

۸

$$\frac{14}{35} \cdot \frac{7}{14} \cdot \frac{12}{18} \cdot \frac{6}{15} \cdot \frac{8}{12} \cdot \frac{3}{6} \cdot \frac{5}{10} \cdot \frac{6}{9} \cdot \frac{4}{10}$$

جمع و تفریق های زیر را انجام بده.

$\frac{4}{5} + \frac{1}{15} =$	$\frac{10}{100} - \frac{1}{1000} =$
$\frac{1}{8} + \frac{2}{3} =$	$\frac{10}{24} - \frac{1}{8} =$

۹

مقایسه کن.  $< = >$


$\frac{1}{2} \bigcirc \frac{3}{4}$	$\frac{1}{7} \bigcirc \frac{2}{8}$	$\frac{1}{100} \bigcirc \frac{2}{1000}$
$\frac{8}{9} \bigcirc \frac{7}{8}$	$\frac{3}{9} \bigcirc \frac{1}{3}$	$\frac{8}{56} \bigcirc \frac{1}{7}$

۱۰

## جدول ارزشیابی

ن ت	ق ق	خ	خ خ	ملاک
				اعداد مخلوط را روی محور نشان می دهد.
				برای اعداد مخلوط شکل رسم می کند.
				برای بیان کسر هر شکل ، ابتدا آن را به قسمت های مساوی تقسیم می کند.
				برای جمع و تفریق کسرهایی با مخرج برابر ، شکل رسم می کند.
				کسرهایی برابر را می شناسد.
				جمع و تفریق کسرها، با مخرج نابرابر را حل می کند.
				کسرها را مقایسه می کند.

نظر ولی دانش آموز:



# مای درس

گروه آموزشی عصر

[www.my-dars.ir](http://www.my-dars.ir)