

۱ عددی را که هر عبارت نشان می دهد، در مقابل آن با رقم بنویسید.

الف) $۶۰۰۰۰۰ + ۴۰۰۰۰ + ۷۰۰۰ + ۹۰۰ + ۲۰ + ۵ =$

ب) $۷ =$ تا صد هزار تایی + $۵ =$ تا صد تایی + $۸ =$ تا هزار تایی + $۹ =$ تا ده تایی + $۳ =$ تا ده هزار تایی (ب)

ج) $۳۰۰۰۰۰ + ۳۰ + ۴۰۰۰۰۰ + ۸۰۰ + ۲۰۰۰۰ + ۷۰۰ + ۳۰۰۰ + ۲ =$

۲ عبارات های زیر را کامل کنید.

- الف) ۲۵ تا هزار تایی می شود :
- ب) کوچکترین عدد چهار رقمی با رقم های ۵، ۰، ۹، ۷ :
- ج) ۷ تا صد هزار تایی :
- د) ۴۵۰۰۰ می شود : تا هزار تایی.
- س) ۶۰۰۰ تا می شود : تا هزار تایی.
- ش) بزرگترین عدد ۵ رقمی بدون تکرار :

۳ عدد هایی که با هم هستند به هم وصل کنید .

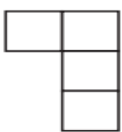
- ۵۰۰۸۰ صد هزار و دویست و چهل و نه
- ۷۶۸۰۹ چهار صد و دو هزار و نه صد و شصت و هشت
- ۱۰۰۲۴۹ ۵ تا ده هزار تایی و ۸ تا ده تایی
- ۴۰۲۹۶۸ ۹ تا یکی و ۷ تا ده هزار تایی ۶ تا هزار تایی و ۸ تا صد تایی

۴ رابطه ی بین عدد ها را پیدا کرده و الگو را ادامه دهید .

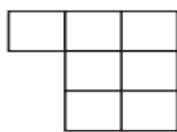
الف) $۱۵۰۰ - ۱۰۰۰ - ۵۰۰ =$

ب) $۲ - ۴ - ۸ - \dots =$

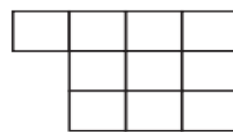
۵ شکل چهارم در الگوی زیر از چند مربع تشکیل شده است ؟



(۱)



(۲)



(۳)

؟

(۴)

$۵۰۰۰۰۰۱ \bigcirc ۱۹۹۹۰۰۰$

$۵۰۵۷۸۹ \bigcirc ۵۰۵۹۸۷$ عددهای زیر را مقایسه کنید.

$۷۴۳۱۲۳۶۹۰ \bigcirc ۷۴۳۱۲۳۶۸۹$

$۹۹۹۹ \bigcirc ۱۰۰۰۰$

۷ عددهای زیر را از بزرگ به کوچک مرتب کنید.
۷۶۸۵۹۳۴_۸۷۶۵۹۳۴_۷۸۶۵۹۳۴_۸۶۷۵۹۳۴

۸ تعداد فندق های مجید ۱۵ تا، فندق های برادرش ۲۳ تا و گردو های خواهرش ۳۱ تا است، رابطه بین عدد های این الگو چیست؟

۹ با توجه به عدد مقابل پاسخ دهید.
۲۶۹۳۱۵۸۷۴
الف) عدد ۹ در چه مرتبه ای قرار دارد؟
ب) مجموع رقم های طبقه هزار را بنویسید.
ج) اگر به مرتبه دهگان میلیون یک واحد اضافه کنیم، عدد بالا چه مقدار بیشتر می شود؟

باز خورد اولیا:

باز خورد آموزگار:

مای دارس

گروه آموزشی عصر

www.my-dars.ir