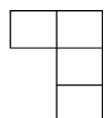
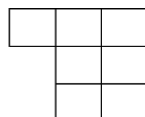


نام و نام خانوادگی: آزمون عملکردی ریاضی فصل اول

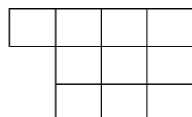
۱ به الگوی زیر توجه کنید تعداد مربع‌های پنجم را پیدا کنید. (رابطه و رسم شکل)



(۱)



(۲)



(۳)

؟

(۴)

۲ باز شده عدد مقابل را بنویسید

۶۵۴۳۲۱۹۰۸ -

۳ ماشین ورودی و خروجی زیر را کامل کنید

5

$\times 3$

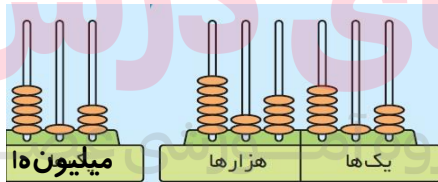
2

9

$+ 4$

28

۴ عدد چرتکه مقابل را به عدد و حروف بنویسید.



عدد:

حروف: www.mydars.ir

۵ عددهای زیر را از بزرگ به کوچک مرتب کنید.

۷۶۸۵۹۳۴_۸۷۶۵۹۳۴_۷۸۶۵۹۳۴_۸۶۷۵۹۳۴

.....

هنوز یاد نگرفته	در سطح متوسط یاد گرفته	در حال پیشرفت	کاملاً یاد گرفته	سنجه‌ها
				به راحتی می‌تواند به الگوها جواب دهد
				عددها را می‌خواند و می‌نویسد
				ماشین‌ها را به خوبی می‌داند