

با توجه به عدد مقابل به سؤال‌های زیر پاسخ دهید. ۱۶۵۹۰۱

به حروف بنویسید. -----

- این عدد چند رقمی است؟ -----

- بزرگ‌ترین رقم در چه مرتبه‌ای قرار دارد؟ -----

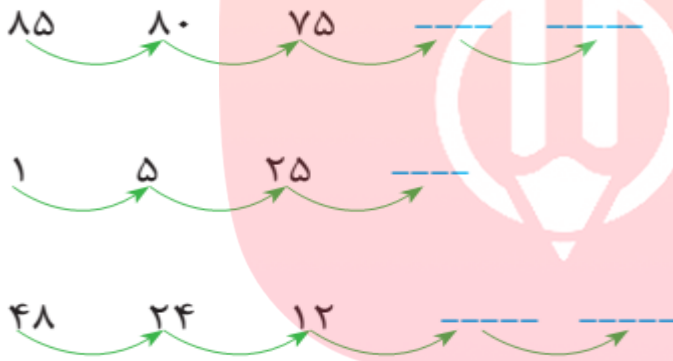
- در بیش‌ترین مرتبه چه رقمی دارد؟ -----

- ارزش مکانی عدد ۵ را بنویسید. -----

- رقم دهگان هزار آن چند است؟ -----

- در کمترین مرتبه چه رقمی قرار دارد؟ -----

۲- الگوها را ادامه دهید.

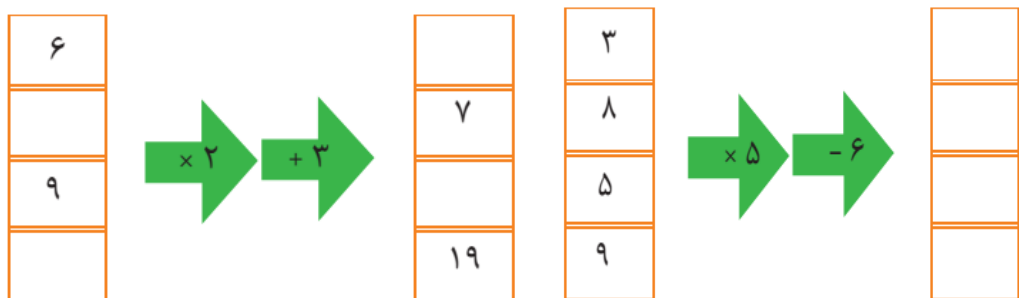


۳- ضرب‌های زیر را ذهنی حساب کنید.

$500 \times 30 =$ ----- $100 \times 40 =$ -----

$200 \times 400 =$ ----- $600 \times 500 =$ -----

۴- ماشین ورودی-خروجی زیر را کامل کن. www.mydar.ir



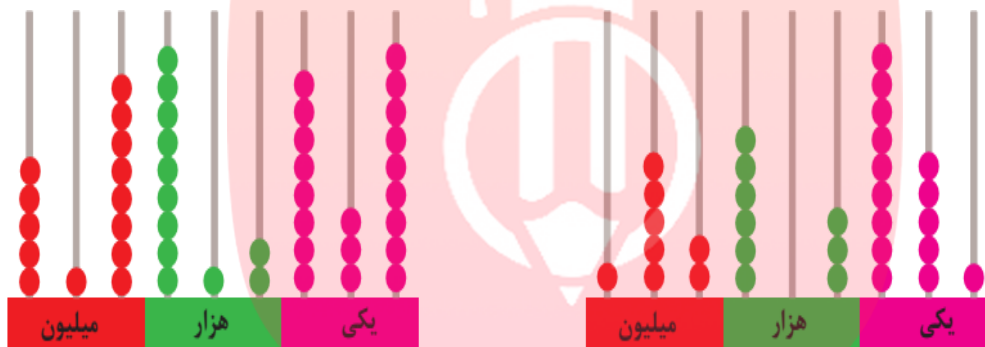
۵- تساوی های زیر را کامل کن.

۲۵۴۸۷۱۴۱ →

$$۲۰۰۰۰۰۰ + ۵۰۰۰۰۰۰ + ۱۰۰۰۰۰۰ + ۹۰۰۰۰ + ۲۰۰۰ + ۴۰ + ۵ =$$

$$۸۰۰۰۰۰۰ + ۹۰۰۰۰۰۰ + ۸۰۰۰۰۰ + ۲۰۰۰۰ + ۱۰۰۰ + ۹۰ + ۱ =$$

۶- با توجه به هر چرتکه عدد مربوطه را به رقم و به حروف بنویس.



رقم: _____
حروف: _____

رقم: _____
حروف: _____

۷- عددهای زیر را باهم مقایسه کنید.

۳۷۵۸۱۹ ○ ۳۷۵۸۹۱

۷۵۱۳۸۱۲ ○ ۷۵۳۰۰۰

۱۳۵۲۹۱۶ ○ ۱۳۵۳۰۰۰

۱۳۵۵۱۳۵۹ ○ ۱۳۸۵۱۳۹۴

بازخورد آموزگار: