

ردیف	سوالات	صفحه ۱													
۱	<p>۱- عدد ۵۳۷۵۶ چند رقمی است؟</p> <p>آن رادر جدول ارزش مکانی قرار دهید.</p> <p>رقم یکان هزار آن چند است.</p> <p>رقم ۵ این عدد چه ارزش دارد؟</p> <p>ارزش بزرگترین رقم این چیست؟</p>														
۲	<p>۲- به اعداد توجه کن و مقایسه کن.</p> <p>۶۷۳۰۰۴۲ <input type="radio"/> ۶۹۸۷۵۳۸</p> <p>۷۹۶۳ <input type="radio"/> ۶۹۸۹</p> <p>۷۸۴ <input type="radio"/> ۷۸۹</p> <p>۴۳۱۲ <input type="radio"/> ۴۵۲</p>														
۳	<p>۳- جاهای خالی را پر کنید.</p> <p>www.my-dars.ir</p> <div style="display: flex; justify-content: space-around; align-items: center;"> <div style="text-align: center;"> <table border="1" style="border-collapse: collapse;"> <tr><td>۱</td></tr> <tr><td>۲</td></tr> <tr><td>۳</td></tr> </table> <p>→ $\times 2$ →</p> <p>→ $- 2$ →</p> <table border="1" style="border-collapse: collapse; width: 40px; height: 40px;"> <tr><td> </td></tr> <tr><td> </td></tr> <tr><td> </td></tr> </table> </div> <div style="text-align: center;"> <table border="1" style="border-collapse: collapse;"> <tr><td>۲</td></tr> <tr><td>۳</td></tr> <tr><td>۷</td></tr> <tr><td>۶</td></tr> </table> <p>→ $\times 5$ →</p> <p>→ $+ 2$ →</p> <table border="1" style="border-collapse: collapse; width: 40px; height: 40px;"> <tr><td> </td></tr> <tr><td> </td></tr> <tr><td> </td></tr> </table> </div> </div>	۱	۲	۳				۲	۳	۷	۶				
۱															
۲															
۳															
۲															
۳															
۷															
۶															
	<p>بقیه سوالات در صفحه بعد</p>														

۴- عدد ۲۲۵۷۶۱۴۲ را در جدول ارزش مکانی قرار بده و با حروف بنویس .

۴

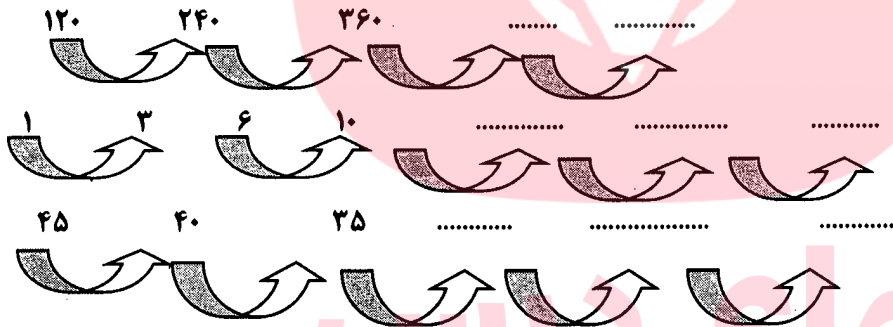
۵- جدول زیر را کامل کن.

۵

ط ^{????} ول ضلع	۳	۷	۱۰	۲		۵
محیط مربع	۱۲	۲۸				۱۶

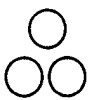
۶- الگوهای زیر را ادامه دهید.

۶

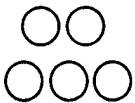


۷- با توجه به شکل ستاره ها شکل هفتم را بنویس.

۷



شکل اول



شکل دوم



شکل سوم

موفق باشید عزیزانم