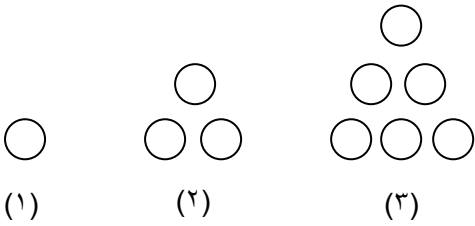


آزمون تستی _ فصل اول (اعداد و الگوها)

۱	عدد ششصد میلیون و شصت هزار و شش کدام گزینه است؟	(۱) ۶۰۰۶۰۰۰۰۶	(۲) ۶۰۰۰۰۶۰۰۰۶	(۳) ۶۰۰۰۰۶۰۰۰۶	(۴) ۶۰۰۶۰۰۰۰۶
۲	عدد سیصد و بیست و یک میلیون و یازده هزار کدام گزینه است؟	(۱) ۳۲۱۰۱۱۰۰۰	(۲) ۳۲۱۱۱۰۰۰۰	(۳) ۳۲۱۰۱۱۰۰۰	(۴) ۳۲۱۰۰۱۱۰۰۰
۳	عدد ۵۰۴۸۹۱۰۷ کدام گزینه است؟	(۱) پانصد و چهار میلیون و هشتاد و نه هزار و صد و هفت	(۲) پنجاه میلیون و چهارصد و هشت هزار و صد و هفت	(۳) پانصد و چهار میلیون و هشت صد و نود و یک هزار و هفت	(۴) پنجاه میلیون و چهارصد و هشتاد و نه هزار و صد و هفت
۴	عدد ۱۰۱۱۱۰۰۱۱ کدام گزینه است؟	(۱) صد و یک میلیون و صد و ده هزار و یازده	(۲) صد و یک میلیون و صد و یازده هزار و یازده	(۳) ده میلیون و صد و ده هزار و یازده	(۴) ده میلیون و صد و یازده هزار و یازده
۵	کوچک ترین عدد ۷ رقمی بدون تکرار ارقام، کدام یک از گزینه های زیر است؟	(۱) ۱۲۳۴۵۶۸	(۲) ۱۰۲۳۴۵۷	(۳) ۱۲۳۴۵۶۷	(۴) ۱۰۲۳۴۵۶
۶	بزرگ ترین عدد ۹ رقمی زوج بدون تکرار ارقام، کدام یک از گزینه های زیر است؟	(۱) ۹۸۷۶۵۴۳۲۱	(۲) ۹۸۷۶۵۴۳۲۰	(۳) ۹۰۸۷۶۵۴۳۲	(۴) ۹۸۷۶۵۴۳۰۲
۷	کوچک ترین عدد ۶ رقمی ، کدام یک از گزینه های زیر است؟	(۱) ۱۰۰۰۰۰	(۲) ۱۱۱۱۱۱	(۳) ۱۲۳۴۵۶	(۴) ۱۰۲۳۴۵
۸	بزرگ ترین عدد ۵ رقمی زوج ، کدام یک از گزینه های زیر است؟	(۱) ۹۹۹۹۹	(۲) ۹۸۷۶۴	(۳) ۹۹۹۹۸	(۴) ۹۸۷۶۵

با توجه به الگوی مقابل شکل ششم از چند دایره تشکیل شده است؟



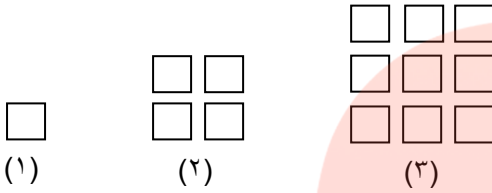
۱۵ (۲)

۱۰ (۱)

۲۸ (۴)

۲۱ (۳)

با توجه به الگوی مقابل شکل هفتم با شکل پنجم کدام گزینه است؟



۲۴ (۲)

۱۳ (۱)

۴۹ (۴)

۳۶ (۳)

۱ و ۲ و ۴ و ۷ و ؟

در الگوی مقابل، علامت ؟ برابر کدام گزینه است؟

۱۴ (۴)

۱۱ (۳)

۱۰ (۲)

۹ (۱)

۶ و ۱۲ و ۲۴ و ۴۸ و ؟

در الگوی مقابل، علامت ؟ برابر کدام گزینه است؟

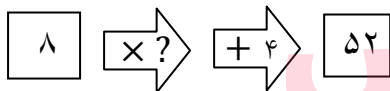
۱ (۴)

۲ (۳)

۳ (۲)

۴ (۱)

در ماشین ورودی_خروجی مقابل به جای علامت ؟ چه عددی قرار می‌گیرد؟



۶ (۲)

۵ (۱)

۸ (۴)

۷ (۳)

عدد ۴۰۰۰۷۰۰۰۳ برابر است با:

(۲) ۴ صد میلیون تایی، ۷۰ ده هزار تایی، ۳ یکی

(۱) ۴ ده میلیون تایی، ۷ ده هزار تایی، ۳ یکی

(۴) ۴ صد میلیون تایی، ۷ ده هزار تایی، ۳ یکی

(۳) ۴ ده میلیون تایی، ۷۰ هزار تایی، ۳ یکی

۷ ده میلیون تایی، ۹ ده هزار تایی، ۵ ده تایی برابر است با:

۷۰۰۰۹۰۰۵ (۴)

۷۰۰۹۰۰۵۰ (۳)

۷۰۰۰۹۰۵۰ (۲)

۷۰۰۹۰۰۰۵ (۱)

موفق و پیروز باشید.

لامعی