

نوبت دوم

امتیاز

۲



گزینه‌ی صحیح را با علامت (✓) مشخص کنید.

- الف) انسان‌های نخستین از ابزار سنگی مقابل، برای چه کاری استفاده می‌کردند؟
- (۱) دوخت و دوز (۲) آرد کردن گندم و جو
- (۳) شکار (۴) جنگ با دشمن

ب) تپه‌ی هگمتانه از کدام دوران به‌جا مانده است؟

- (۱) مادها (۲) پارت‌ها (۳) پارس‌ها (۴) آشوری‌ها

ج) زرتشتیان چه چیزی را مقدّس می‌شمردند؟

- (۱) خورشید (۲) خاک (۳) آتش (۴) خدا

د) رنگ آبی در نقشه‌ی نشانه‌ی چیست؟

- (۱) کوه (۲) آب‌ها (۳) جنگل (۴) صحرا

۱

۲/۵

در جاهای خالی کلمه‌های مناسب بنویسید.

الف) به شن و ماسه و گل‌ولایی که رودها با خود می‌آورند، می‌گویند.

ب) ایران، یعنی سرزمین یا محلّ

ج) پارت‌ها در فنون جنگی، و بسیار ماهر بودند.

د) عضوی در شتر است که در آن غذا و آب را ذخیره می‌کند.

۲

۲

گزینه‌ی صحیح و غلط را با علامت (✓) مشخص کنید.

غلط	صحیح
<input type="checkbox"/>	<input type="checkbox"/>
<input type="checkbox"/>	<input type="checkbox"/>
<input type="checkbox"/>	<input type="checkbox"/>
<input type="checkbox"/>	<input type="checkbox"/>

الف) ساسانیان پس از اشکانیان به قدرت رسیدند.

ب) بالاترین نقطه‌ی کره‌ی زمین، قطب شمال می‌باشد.

ج) در ناحیه‌ی معتدل و مرطوب خزری، گرما و سرمای شدید وجود دارد.

د) موزه‌ی ایران باستان در استان همدان قرار دارد.

۳

۲

www.my-dars.ir

مفاهیم زیر را تعریف کنید.

الف) قانون اساسی:

ب) جهت فرعی:

۴

۱/۵

برای پرسش‌های زیر پاسخ کامل بنویسید.


الف) به‌جز ایران در چه کشورهایی مراسمی و جشن نوروزی برپا می‌شود؟ (سه مورد)

۵

ب) جدول روبه‌رو را کامل کنید.

۱/۵

معنی علامت



الف

ب

ج

ج) آبرفت و جویبار را تعریف کنید.

۱/۵

د) به چه مکان‌هایی چاپارخانه می‌گفتند؟

۱/۵

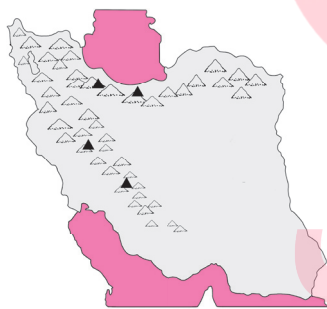
ه) «سورنا» که بود و چه کار ارزشمندی انجام داد؟

۱/۵

و) در نقشه‌ی روبه‌رو:

۱) محلّ سکونت سه گروه آریایی را مشخص کنید.

۰/۷۵



۲) نام رشته‌کوه البرز و زاگرس و قلّه‌های دماوند، دنا، زردکوه و علم‌کوه را بنویسید.

۱/۵

ز) مردم ایران چه چیزهای مشترکی دارند؟

۱

ح) کشف آتش در هر یک از موارد زیر چه تأثیری داشت؟

۰/۷۵

www.my-dars.ir

۱) غذا:

۲) مسکن:

۳) امنیت:

ه) در آن زمان، امپراتوری ایران با کشور روم همسایه بود و پادشاهان رومی قصد داشتند ایران را تصرف کنند. به همین دلیل، بین آن‌ها و اشکانیان جنگ‌های زیادی درمی‌گرفت. (۱)

و) طاق‌بستان و بیستون (هر مورد ۰/۵)

ز) آلودگی هوا - ترافیک اتومبیل‌ها (۰/۵)

برای حلّ این مشکلات می‌توانیم برای جلوگیری از به‌وجود آمدن ترافیک سنگین و کم‌تر شدن آلودگی هوا، از وسایل نقلیه‌ی عمومی برای رفت‌وآمد استفاده کنیم و همچنین از ماسک استفاده نماییم. (۱)

ح) اگر در یک زیستگاه، غذای یک گیاه یا جانور کم یا تمام شود، آن ناحیه در معرض خطر قرار می‌گیرد. برای مثال، در زیستگاهی، موش‌ها، دانه‌های بلوط را می‌خورند. موش نیز غذای جغد است. حال اگر در این ناحیه، گیاه بلوط از بین برود، موش‌ها از بین می‌روند و در نتیجه جغدها نیز از بین رفته و منقرض می‌شوند. (۲)

آزمون شماره‌ی (۹)

الف) گزینه‌ی «۲»	ب) گزینه‌ی «۱»	۱
ج) گزینه‌ی «۳»	د) گزینه‌ی «۲»	(هر مورد ۰/۵)
الف) آبرفت	ب) آریایان	۲
ج) اسب‌سواری - تیراندازی	د) کوهان	(هر مورد ۰/۵)
الف) صحیح	ب) صحیح	۳
ج) غلط	د) غلط	(هر مورد ۰/۵)
الف) قوانین مهمّ کشور ما در کتابی به‌نام «قانون اساسی» نوشته شده‌اند. (۱)	۴	
ب) همه‌ی مکان‌ها به‌طور دقیق در جهت‌های اصلی قرار نگرفته‌اند، به این جهت‌ها که جهت اصلی نیستند. «جهت فرعی» می‌گویند. (۱)		
الف) تاجیکستان، افغانستان و جمهوری آذربایجان	۵	
ب) ۱) زمین فوتبال ۲) مسجد ۳) رود	(هر مورد ۰/۵)	
ج) آبرفت: به شن و ماسه و گل‌ولایی که رودها همراه خود می‌برند، «آبرفت» می‌گوییم. جویبار: در کوهستان‌ها برف فراوان می‌بارد. با گرم شدن هوا، برف کوه‌ها به‌تدریج آب می‌شود و از جاری شدن آن در روی زمین، «جویبار» پدید می‌آید. (۱/۵)		
د) چاپارخانه محل‌هایی در کنار جاده‌های اصلی بودند که در آن‌ها همیشه اسب‌های تازه‌نفس آماده‌ی حرکت بودند. پیک‌ها (نامه‌رسان‌ها) در آن‌جا اسب خود را عوض می‌کردند و سوار بر اسب‌های تازه‌نفس، نامه‌ها را به دورترین نقاط کشور می‌رساندند. (۱/۵)		
ه) در آن زمان، امپراتوری ایران با کشور روم همسایه بود و پادشاهان رومی قصد داشتند ایران را تصرف کنند. به همین دلیل، بین آن‌ها و اشکانیان جنگ‌های زیادی درمی‌گرفت. در یکی از جنگ‌ها سورنا، سردار اشکانی، کراسوس، سردار رومی را شکست داد و کراسوس کشته شد. (۱/۵)		



(هر مورد ۰/۲۵)

ز) تقویم - سرود ملی - پرچم - قانون اساسی

ح) ۱) برای پختن غذا استفاده می‌شد.

۲) انسان‌ها می‌توانستند مسکن خود را گرم کنند.

۳) برای حفظ امنیت و دور کردن حیوانات وحشی استفاده می‌شد.

(هر مورد ۰/۲۵)

آزمون شماره‌ی (۱۰)

۱

الف) گزینه‌ی «۲»

ب) گزینه‌ی «۱»

(هر مورد ۰/۵)

ج) گزینه‌ی «۴»

د) گزینه‌ی «۴»

۲

الف) پیروزی انقلاب اسلامی

ب) سنج - شهر کرد

(هر مورد ۰/۵)

ب) درجه‌بندی شده

د) تخت جمشید

۳

الف) صحیح

ب) غلط

ج) صحیح

د) صحیح

(هر مورد ۰/۵)

۴

الف) به زمین‌های پایین کوه «کوهپایه» می‌گویند. (۱)

ب) وسیله‌ای است که با آن، دما را اندازه‌گیری می‌کنیم. (۱)

۵

الف) نقشه، شکلی است که زمین یا قسمتی از آن را نشان می‌دهد. (۱) راهنمای نقشه (۰/۵)

(هر مورد ۰/۲۵)

ب) کارون - دجله - فرات - نیل


ج) ۱) رشته کوه البرز مانند دیواری در شمال ایران قرار گرفته و زاگرس در شمال غربی و غرب ایران قرار گرفته است.

۲) دو قله‌ی بلند رشته کوه زاگرس دنا و زرد کوه می‌باشند و دو قله‌ی بلند البرز، دماوند و علم کوه می‌باشند. (۲)

(هر مورد ۰/۵)

د) ساخت سکه‌ی طلا - ساختن راه‌ها - ایجاد سپاه ده هزار نفری از سربازان ورزیده

(هر مورد ۰/۵)



گروه آموزشی عصر

ASR_Group@outlook.com

@ASRschool2