

نام :

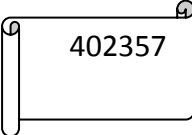
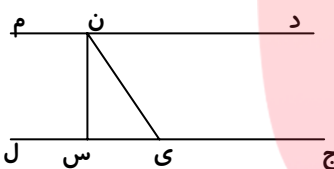
بسمه تعالی





کلاس : چهارم 1

نام خانوادگی :

ماده درسی : ریاضی

تاریخ امتحان : مدّت امتحان : 45 دقیقه تعداد سؤال : 19 تعداد صفحه : 2 صفحه : 1

ردیف	شرح سؤالات	بارم
1	با توجه به عدد مقابل به سؤال ها پاسخ دهید . الف) این عدد دارای چند طبقه است ؟ نام ببرید . ب) عدد را با حروف بنویسید . ج) کدام رقم ارزش مکانی کم تری دارد ؟	
2	در جای خالی عدد مناسب بگذارید . $236 + (58 + 120) = 236 + \dots = \dots$ $745239 = 700000 + \dots + 5000 + 200 + \dots + 9$	
3	با توجه به شکل به پرسش ها جواب دهید . الف) زاویه ی (ج ی ن) چه نوع زاویه ای است ؟ ب) کدام پاره خط بر خط (ج ل) عمود است ؟ ج) یک زاویه ی راست نام ببرید . د) در شکل چند نیم خط وجود دارد ؟	
4	پاره خطی به طول 4 س رسم کرده و عمود منصف آن را بکشید .	
5	یک کارخانه ی ماشین سازی 700 دستگاه اتومبیل به اراک و 275 دستگاه اتومبیل به کرج فرستاد . اگر تولید این کارخانه 1267 اتومبیل باشد ، چند اتومبیل در کارخانه مانده است ؟	
6	عدد « نه صد و نه هزار و نه » را با رقم بنویسید .	
7	درباره ی عبارت زیر مسئله بنویسید و حاصل آن را حساب کنید . $8 \times (20 + 12) =$	

	<p>برای هر زاویه اندازه ی مناسب بنویسید .</p> <p>الف) زاویه ی تند درجه</p> <p>ب) زاویه ی نیم صفحه درجه</p> <p>ج) زاویه ی قائمه درجه</p> <p>د) زاویه ی باز درجه</p>	8
	در ضرب $20 = 4 \times 5$ به عدد 20 می گوئیم .	9
	یک 6 ضلعی از پاره خط درست شده است .	10
	واحد اندازه گیری مایعات است .	11
	بر روی یک خط راست پاره خط می توان یافت .	12
	قیمت 7 مداد 210 تومان است . قیمت 4 مداد چند ریال است ؟	13
	<p>خارج قسمت تقسیم روبرو کدام است ؟</p> <p>الف) 2114 () ب) 20114 () ج) 21014 () د) 21140 ()</p> <p>$80456 \div 4 =$ <input type="text"/></p>	14
	<p>تعداد خطّ تقارن هر شکل را زیر آن بنویسید .</p> <p> ()  ()  ()  ()</p>	15
	متوازی الاضلاعی رسم کنید که اندازه ی ضلع های متوالی آن به ترتیب 3 و 5 س و زاویه های آن قائمه باشد . نام دیگر آن چیست ؟	16
	<p>اگر در یک تقسیم مقسوم علیه 9 و خارج قسمت 38 و باقی مانده 7 باشد ، مقسوم چند است ؟</p> <p>www.my-dars.ir</p>	17
	در <input type="radio"/> چه رقمی قرار دهیم تا عدد حاصل هم بر 2 وهم بر 5 و هم بر 3 بخش پذیر باشد ؟ <input type="radio"/> 8406	18
	کسر مقابل را با رسم شکل نشان دهید . $\frac{3}{9}$	19

موفق باشید؛ علیزاده

