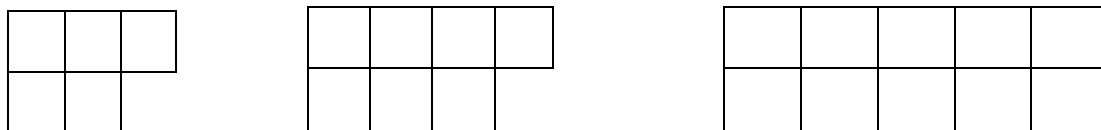


نام و نام خانوادگی:.....

۱ با توجه به الگویی که در اشکال زیر میبینید، تعداد مربع های شکل ششم را بست آورید.



۲ قطار مسافری اهواز-مشهد ۵ واگن دارد، اگر هر واگن ۱۰ کوپه داشته باشد:

الف) دو واگن چند کوپه دارد؟

ب) چهار واگن چند کوپه دارد؟

پ) بین تعداد کوپه ها و تعداد واگن ها چه رابطه ای وجود دارند؟

۳ عددی را که هر جدول نشان میدهد بنویس

هزارها

یکان	دهگان	صدهگان
۵	۷	۳

حروف:.....

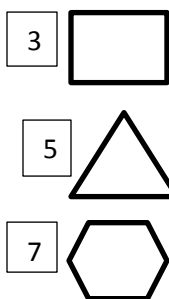
رقم:.....

یکان	دهگان	صدهگان
۴	۳	۱

حروف:.....

رقم:.....

۴ ماشین زیر محیط یاب است. با توجه به شکل، فروبی را بنویس.



.....
.....
.....

۵ ماشین زیر برای این طراحی شده که هر عدد را ۱۰۰۰ برابر کند. حالا جاهای خالی را پر کن.

الف) عدد ۱ وارد این ماشین شده و عدد خارج میشود.

ب) عدد ۱۰۰ وارد این ماشین شده و عدد خارج میشود.

پ) عدد ۳۴ وارد این ماشین شده و عدد خارج میشود.

ت) عدد ۱۰۰۰ وارد این ماشین شده و عدد خارج میشود.

86321902

۶ عدد روی تابلو را بنفوان و بنویس.



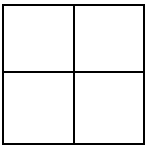
به صروف :

اگر جای طبقه یکی ها و هزارها را عوض کنیم، چه عددی بدست می آید؟ بنویس

به رقم : به صروف :

۷ مریم برای خریدن یک لباس زمستانی به ۵۰۰۰۰ ریال نیاز دارد. او در کیفش ۳ اسکناس ۱۰۰۰۰ ریالی و ۲ اسکناس ۵۰۰۰ ریالی دارد. آیا پول مریم برای خرید لباس کافیست؟ با دلیل ثابت کن.

۸ باتوجه به هر واحد، هر شکل چه کسر یا عدد مخلوطی را نشان میدهد؟



۹ برای کسر و عدد مخلوط زیر، شکل مناسب بکش.

گروه آموزشی عصر

$\frac{3}{8}$

www.my-dars.ir

$\frac{1}{4}$

"عابدی"

😊 موفق باشید 😊

گروه آموزشی عصر

ASR_Group@outlook.com

@ASRschool2