





بارم	شرح سوال
۲	<p>گزینه صحیح را انتخاب کنید:</p> <p>الف) نصف هشتاد تا ده هزار تا برابر است با <input type="checkbox"/> (۱) چهار هزار تا <input type="checkbox"/> (۲) چهارصد هزار تا <input type="checkbox"/> (۳) چهل میلیون تا <input type="checkbox"/> (۴) چهار میلیون تا</p> <p>ب) ربع ۴ تا اسکناس ۵۰۰۰۰ ریالی، چند تومان است. <input type="checkbox"/> (۱) ۵ هزار <input type="checkbox"/> (۲) چهل هزار <input type="checkbox"/> (۳) ۵۰۰۰۰ هزار <input type="checkbox"/> (۴) ۴۰۰۰</p> <p>ج) عدد بیستم الگوی روبرو چند است؟ <input type="checkbox"/> (۱) ۴۰ <input type="checkbox"/> (۲) ۴۰۰ <input type="checkbox"/> (۳) ۲۰۰ <input type="checkbox"/> (۴) ۲۰ و ۲۵ و ۱۶ و ۹ و ۴ و ۱</p> <p>د) کسر مساوی $\frac{1}{25}$ چند است؟ <input type="checkbox"/> (۱) $\frac{126}{25}$ <input type="checkbox"/> (۲) $\frac{626}{25}$ <input type="checkbox"/> (۳) $\frac{625}{25}$ <input type="checkbox"/> (۴) $\frac{125}{25}$</p>
۲	<p>درست یا نادرست بودن هر عبارت را مشخص کنید.</p> <p>الف) ۲ ساعت و ۵ دقیقه می شود، ۷۵۰۰ ثانیه <input type="checkbox"/> درست <input type="checkbox"/> نادرست</p> <p>ب) ۲۵ تا صد میلیون می شود ۲ میلیارد و پانصد میلیون <input type="checkbox"/> درست <input type="checkbox"/> نادرست</p> <p>ج) عدد هفتم الگوی مثلثی ۲۱ است. <input type="checkbox"/> درست <input type="checkbox"/> نادرست</p> <p>د) کسر $\frac{25}{4}$ عدد مخلوط $4\frac{1}{4}$ است. <input type="checkbox"/> درست <input type="checkbox"/> نادرست</p>
۲	<p>جاهای خالی را با واژه یا عدد مناسب پر کنید:</p> <p>الف) ۱۴۲۵ میلی متر = سانتی متر میلی متر است.</p> <p>ب) عدد از ۵ تا یک میلیارد و ۷ تا ده میلیون و ۶ تا صد هزار تا تشکیل شده است.</p>
۱	<p>گزینه ی مساوی در قسمت « الف » را به قسمت « ب » وصل کنید.</p> <p>(الف) ۶ ساعت و ۲۰ دقیقه ● بزرگترین عدد سه رقمی غیر تکراری ● کوچکترین عدد سه رقمی غیر تکراری ● ۷ ساعت ●</p> <p>(ب) ۴۲۰ دقیقه ● ۹۸۷ ● ۳۸۰ ● ۱۰۲ ●</p>

۲	<p>۵ عدد « دو میلیارد و سیصد میلیون و چهل هزار و پانزده » را به رقم بنویسید.</p> <p>به رقم :</p> <p>الف) عدد ۵ در چه مرتبه ای است؟</p> <p>ب) رقم یکان میلیارد چند است؟</p> <p>ج) طبقه میلیون را بنویسید.</p>	۵
۲	<p>۶ عملیات زیر را انجام دهید.</p> <div style="display: flex; justify-content: space-around;"> <div style="text-align: center;"> $\begin{array}{r} 12 \quad 18' \quad 42'' \\ + \quad 5 \quad 45' \quad 30'' \\ \hline \end{array}$ </div> <div style="text-align: center;"> $\begin{array}{r} 1 \text{ میلیارد} \\ - \quad 360 \text{ میلیون} \\ \hline \end{array}$ </div> </div> <div style="display: flex; justify-content: space-around; margin-top: 20px;"> <div style="text-align: center;"> $450 \times 70 =$ </div> <div style="text-align: center;"> $3600 \div 90 =$ </div> </div>	۶
۲	<p>۷ در الگوی زیر شکل چهارم را بکشید و سپس رابطه را نوشته و بنویسید که شکل چهارم از چند دایره تشکیل شده است؟ در این الگو چندمین شکل دارای ۷۱ دایره است؟</p> <div style="display: flex; justify-content: space-around; align-items: center; margin-top: 20px;"> <div style="text-align: center;">  <p>(۱)</p> </div> <div style="text-align: center;">  <p>(۲)</p> </div> <div style="text-align: center;">  <p>(۳)</p> </div> <div style="text-align: center;">  <p>(۴)</p> </div> </div>	۷
۱	<p>۸ هواپیمای تهران - مشهد در ساعت $11 \quad 15' \quad 30''$ از تهران به سمت مشهد پرواز کرد و ساعت $1 \quad 20' \quad 45''$ بعد از ظهر به مشهد رسید. مدت پرواز را محاسبه کنید.</p>	۸

۲	<p>۹. عدد مخلوط را به کسر و کسر را به عدد مخلوط تبدیل کنید.</p> $\frac{۵}{۳} =$ $\frac{۱۲۹}{۴} =$ $۹\frac{۷}{۸} =$ $۵\frac{۳}{۷} =$	۹.
۱	<p>۱۰. ضرب زیر را با شکل نشان دهید.</p> $\frac{۲}{۳} \times \frac{۱}{۵} =$	۱۰.
۱	<p>۱۱. یک آهن فروش از لوله ی آهنی به طول ۵ متر $۱\frac{۳}{۷}$ برید و فروخت ، چه مقدار از لوله ی آهنی باقی مانده است؟</p>	۱۱.
۱	<p>۱۲. هنگامی که سارا بدنیا آمد مادرش ۲۶ سال داشت. اکنون مجموع سن آنها ۴۰ سال است. سن هر کدام را حساب کنید.</p>	۱۲.
۱	<p>۱۳. مقایسه کنید.</p> $\frac{۲}{۳} \square \frac{۴}{۵}$ $۶۰' \square ۳۶''$ $\frac{۱۵}{۴} \square ۳\frac{۳}{۴}$ $۵\frac{۱}{۳} \square ۴\frac{۴}{۲}$	۱۳.

مای درس

گروه آموزشی عصر

www.my-dars.ir