
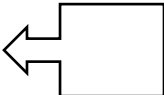

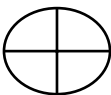


نام و نام خانوادگی:

طراح: سریری

۱	عدد زیر را به حروف بنویسید و به سوالات زیر جواب دهید. ۳۴۸۹۰۷۱۲۵۷۶۱	۳
۲	الف) بیشترین رقم در کدام طبقه و مرتبه قرار دارد؟ ب) بزرگ ترین ارزش مکانی برای کدام رقم می باشد؟ در چه مرتبه و طبقه ای؟ الگوهای زیر را ادامه دهید. ۱-۳-۶-۱۰- ۱-۴-۹-۱۶-.....	۲
۳	جمع و تفریق کنید. $\begin{array}{r} 5 \quad 15 \quad 35 \\ + 6 \quad 55 \quad 40 \\ \hline \end{array}$ $\begin{array}{r} 19 \quad 20 \quad 30 \\ - 6 \quad 35 \quad 40 \\ \hline \end{array}$	۳
۴	جمع و تفریق و ضرب و تقسیم های زیر را انجام دهید و برای هر کدام روش خواسته شده را بنویسید. (محور) $3\frac{1}{4} + 1\frac{1}{3} =$ (شکل) $2\frac{1}{3} - 1\frac{2}{4} =$ (روش مساحتی) $2\frac{3}{4} \times 1\frac{1}{3} =$ (روش محاسباتی) $\frac{4}{5} \div \frac{2}{3} =$	۴
۵	نسبت سن پدری به فرزندش ۱۲ به ۲ است. اگر دختر ۶ ساله باشد، اختلاف سن این پدر و دختر چند سال است؟	۵
۶	کتابی را با ۲۰ درصد تخفیف به مبلغ ۴۶۰۰۰ تومان خریدیم. قیمت اولیه کتاب چند بوده است؟	۶
۷	تقارن شکل های زیر را رسم کنید.    	۷