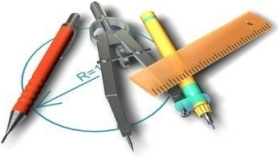










بارم	عنوان سوال	ردیف
2	 <p>عبارات صحیح را با (ص) و عبارات های غلط را با (غ) مشخص کنید . الف) 50 میلیمتر برابر است با 5 سانتیمتر () ب) مثلث تساوی الساقین 3 خط قرینه دارد () ج) حاصل ضرب $\frac{3}{5} \times 7$ برابر است با $\frac{21}{5}$ () د) خمس عدد 35 برابر با 8 است . ()</p>	1
2.5	<p>گزینه ی صحیح را انتخاب کنید .</p> <p>1) با توجه به عدد 15790462 کدام رقم در بالاترین مرتبه قرار دارد ؟ الف) 2 () ب) 9 () ج) 1 () د) 0 ()</p> <p>2) باقیمانده تقسیم عدد 5625 بر عدد 3 کدام یک از موارد زیر است ؟ الف) 0 () ب) 2 () ج) 1 () د) 3 ()</p> <p>3) عدد اعشاری مربوطه به کسر $\frac{3}{100}$ کدام یک از اعداد زیر است ؟ الف) 0/5 () ب) 0/005 () ج) 0/05 () د) 1/05 ()</p> <p>4) کدام یک از کسره های زیر از کسر $\frac{1}{4}$ بزرگتر است ؟ الف) $\frac{3}{4}$ () ب) $\frac{1}{2}$ () ج) $\frac{1}{8}$ () د) $\frac{5}{8}$ ()</p> <p>5) جواب ضرب 32×87 به کدام عدد نزدیکتر است ؟ الف) 2700 () ب) 3200 () ج) 3600 () د) 2500 ()</p>	2
2.5	<p>هر سوال را به پاسخ مناسب وصل کنید . (یکی از پاسخ ها اضافی است)</p> <div style="display: flex; justify-content: space-between;"> <div style="border: 1px solid black; border-radius: 15px; padding: 10px; background-color: #e0e0e0;"> <p>الف) هکتار ب) کیلومتر مربع ج) کیلومتر د) میلیمتر ه) سانتیمتر و) متر مربع</p> </div> <div style="width: 80%;"> <p>1- مساحت کشورها را با آن بیان می کنیم 2- عرض کتاب ریاضی را با آن بیان می کنیم 3- مساحت زمین های کشاورزی را با آن بیان می کنیم 4- فاصله ی بین شهرها را با آن بیان می کنیم 5- مساحت کلاس را با آن بیان می کنیم</p> </div> </div>	3
1/5	<p>جا های خالی را با عبارت های مناسب پر کنید .</p> <p>الف) 16 سانتی متر یعنیمتر. ب) 12 دقیقه یعنیساعت . ج) 4 سانتی متر یعنیمیلیمتر.</p>  	4
2	<p>مقایسه کنید .</p>   <p>1582 ○ 15820 $\frac{1}{28}$ ○ $\frac{1}{9}$ $\frac{3}{8}$ ○ $\frac{7}{7}$ $\frac{1}{4}$ ○ $\frac{5}{8}$</p>	5
1	<p>مساحت قسمت سفید رنگ را بدست آورید .</p>  <p>2 سانتی متر 4 سانتی متر</p>	6

نام آموزشگاه :		ساعت شروع آزمون :		طراح : گروههای آموزشی									
ردیف	عنوان سوال	بارم											
8	جدول های تناسب زیر را حل کنید .  <table border="1" data-bbox="446 409 706 556"> <tr> <td>18</td> <td>12</td> </tr> <tr> <td>27</td> <td></td> </tr> </table> <table border="1" data-bbox="836 409 1096 556"> <tr> <td>15</td> <td></td> </tr> <tr> <td>35</td> <td>21</td> </tr> </table>	18	12	27		15		35	21	1			
18	12												
27													
15													
35	21												
9	هر انسان $\frac{1}{3}$ عمر خود را در خواب بوده است یک بچه ی 12 ساله چقدر از عمر خود را در خواب بوده است ؟ 	1											
10	در یک کلاس 25 نفری 18 نفر در درس ریاضی نمره ی بالاتر از 15 گرفته اند چند درصد دانش آموزان این کلاس نمره ی بالاتر از 15 گرفته اند ؟ 	1											
11	عملیات زیر را انجام دهید . $\begin{array}{r} 1 \ 25 \ 36 \\ + \ 45 \ 20 \\ \hline \end{array}$	2	$0/27 + 0/45 =$ $15/2 \times 4/3 =$ $12/3 - 1/7 =$										
12	در جاهای خالی عدد مناسب قرار دهید ؟ الف) $\frac{3}{6} = \frac{\square}{24}$ ب) $\frac{45}{9} = \frac{\square}{1}$ ج) $\frac{16}{4} = \frac{12}{\square}$	1.5											
13	عملیات زیر را انجام دهید ؟ $\frac{5}{6} - \frac{2}{3} =$ $\frac{3}{5} \times \frac{4}{7} =$	2											



دانشتن بدون خواستن، هرگز توانستن به بار نمی آورد.

گوستاولوبرن