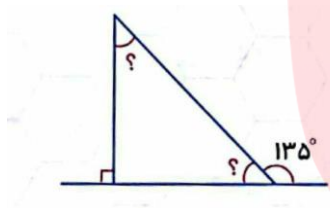
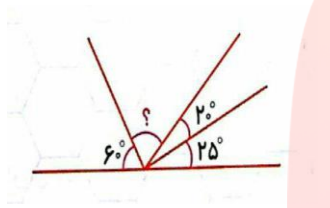
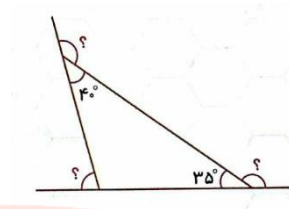
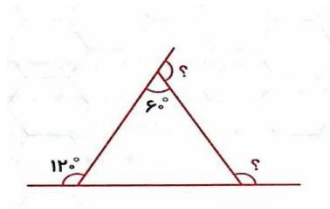


۱- زاویه (?) را در شکل ها و مثلث های زیر پیدا کنید.



۲- مواردی که زوایای یک مثلث را نشان می دهد با دلیل بیان کنید.

الف  $60^\circ, 30^\circ, 90^\circ$

ب  $95^\circ, 45^\circ, 45^\circ$

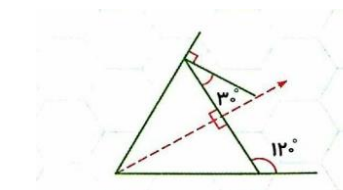
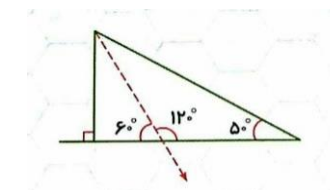
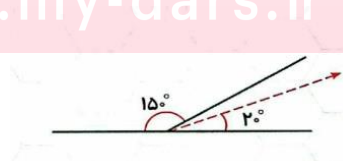
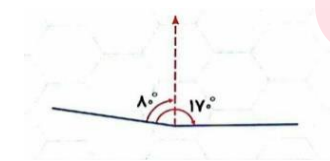
ت  $60\frac{1}{4}^\circ, 45\frac{1}{4}^\circ, 45\frac{1}{2}^\circ$

مای درس

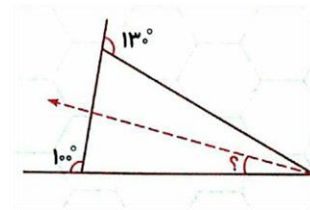
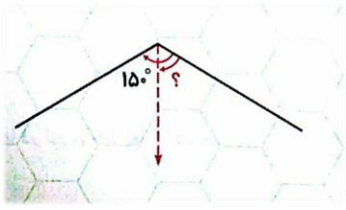
گروه آموزشی عصر

۳- در کدام شکل خط چین نیمساز است؟

[www.my-dars.ir](http://www.my-dars.ir)



۴- اگر خط چین نیمساز باشد اندازه زاویه (؟) را پیدا کنید.



# مای درس

گروه آموزشی عصر

[www.my-dars.ir](http://www.my-dars.ir)