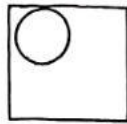
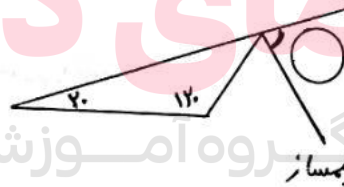


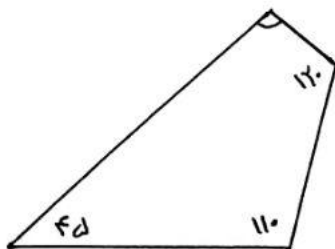
۱ هر یک از شکل های زیر چند خط تقارن دارد؟


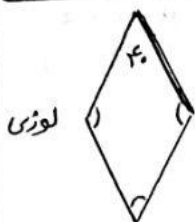


۲ اندازه ی زاویه های فرایسته شده را بدست آورید. (بازراه حل)

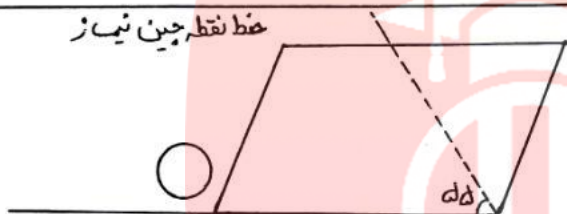


www.my-dars.ir





خط نقطه چین نیاز



۳ مجموع سه زاویه بیرون یک چهارضلعی ۳۱۰ درجه است. اندازه زاویه بیرون چهارم چند درجه است؟

۴ مجموع دو زاویه بیرون یک مثلث ۱۵۵ درجه است. زاویه بیرون سوم چند درجه است؟

۵ مجموع زاویه های داخلی یک هفت ضلعی چند درجه است؟

گروه آموزشی عصر

www.my-dars.ir