

نام و نام خانوادگی : آزمونک شماره ۹، نسبت های مساوی      طراح: بیات


۱- جدول مقابل را کامل کنید.

اندازه ضلع مربع	۳	۵	۶	
اندازه محیط مربع	۱۲			۴۰

- الف) آیا نسبت اندازه ضلع مربع به محیط مربع در همه ستون ها با هم برابر است یا خیر؟



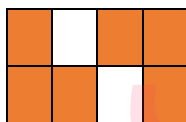
-

۲- برای شکل مقابل ۴ نسبت مساوی بنویسید.



$$\frac{\text{رنگی}}{\text{کل}} = \frac{\quad}{\quad} = \frac{\quad}{\quad} = \frac{\quad}{\quad} = \frac{\quad}{\quad}$$

۳- نسبت خانه های رنگی به کل خانه ها را در هر شکل بنویسید و مشخص کنید کدام دو شکل دارای نسبت های مساوی هستند.



گروه آموزشی عصر