

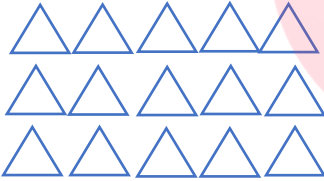


	شرح سوالات	ردیف
	<p>عزیزانم!!!! عددهای مخلوط زیر را روی محور نشان دهید.</p> <p>الف) $3\frac{3}{4}$</p> <p>ب) $7\frac{1}{3}$</p> 	۱
	<p>فرزندم!!! حاصل عبارات زیر را به دست آورید و در صورت امکان ساده کنید.</p> <p>الف) $4\frac{1}{3} + 2\frac{2}{3} =$</p> <p>ب) $6 - 2\frac{3}{4} =$</p> <p>ج) $2 \div \frac{20}{8} =$</p> <p>د) $\frac{5}{2} \times \frac{2}{8} =$</p>	۲
	<p>برای ضرب زیر:</p> <p>الف) با توجه به واحد شکل مناسب رسم کنید و جواب را به صورت عدد مخلوط بنویسید.</p> <p>ب) با استفاده از محور، جواب را به دست آورید و آن را به صورت عدد مخلوط بنویسید.</p> <p>$6 \times \frac{2}{4} =$</p> 	۳
	<p>پاسخ تقسیم $3 \div \frac{1}{3}$ را با رسم کردن شکل بنویسید.</p>	۴

	<p>عزیزانم!!!! کسرها را به عدد مخلوط و اعداد مخلوط را به کسر تبدیل کنید.</p> <p>الف) $\frac{82}{15} =$ ب) $\frac{125}{12} =$</p> <p>د) $9\frac{3}{10} =$ د) $\frac{64}{150} =$</p>	۵
	<p>فرزندم!!! در جای خالی عدد مناسب بنویس.</p> <p>$\frac{30}{7} = \frac{\quad}{7} = ۳$ ، $\frac{39}{5} = ۵\frac{4}{5}$ ، $\frac{3+1}{8} = \frac{12}{16} = \frac{\quad}{16}$ ، $۵ \square ۲\frac{1}{8}$</p>	۶
	<p>مجموع دو عدد $\frac{5}{12}$ و یکی از آن ها $۱\frac{2}{3}$ می باشد، عدد دیگر را بیابید.</p>	۷
	<p>مقدار $\frac{4}{5}$ از ۱۵ را با تقسیم بندی مناسب شکل ها و نوشتن ضرب مربوطه محاسبه کنید.</p> 	۸
	<p>میله ای به طول $\frac{5}{10}$ متر را به ۵ قسمت مساوی تقسیم کرده ایم، طول هر قسمت چه قدر شده است؟</p>	۹
	<p>$\frac{3}{5}$ دانش آموزان مدرسه ی ۴۵۰ نفری به اردو رفته اند. چند نفر به اردو رفته اند؟ چند نفر به اردو نرفته اند؟</p>	۱۰

ساولر بائیر.

تھا آئبانہ کی غمرو، راسنی و ورسنی راسن.

بازخورد والدین:

بازخورد آموزگار: