

نام و نام خانوادگی : ..... آزمون عملکردی ریاضی پنجم

\*\*\*\*\*

(۱) کتاب ریاضی شما چند صفحه دارد؟

(۲) اگر تا پایان آذرماه قرار باشد،  $\frac{2}{5}$  کتاب را خوانده باشید، حساب کنید چند صفحه

باید بخوانید؟

(۳) وقتی  $\frac{2}{5}$  کتاب را حساب کردی، به چه صفحه ی چند رسیدی ؟ .....

(۴) عنوان این درس چیست ؟ .....

(۵) چه کسری از کتاب ، باید بعد از آذرماه خوانده شود؟

(۶) چند صفحه ی دیگر از کتاب باقی می ماند؟





مای درس

( چند صفحه )

(۷) از مقداری که باید تا پایان آذر ، خوانده باشید ، عقب تر هستید یا جلو تر؟

[www.my-dars.ir](http://www.my-dars.ir)

(۸) روی شکل های زیر  $\frac{2}{5}$  را مشخص کن.



انتظارات	خ خ	خ	ق ق	ن ت
می تواند از راه حل مناسبی برای یافتن دوپنجم کتاب استفاده کند.				
تعداد صفحات باقی مانده را به درستی محاسبه می کند.				
کسر باقی مانده ی کتاب را به درستی مشخص می کند.				
می تواند روی شکل های هندسی کسردو پنجم را مشخص کند.				

مخصوص دانش آموز:

۱- کدام قسمت این تمرین را توانستی به خوبی پاسخ دهی؟

۲- کدام قسمت این تمرین مشکل داشتی؟

۳- برای برطرف شدن مشکل خود ، باید چه کار کنی؟

مای درس

گروه آموزشی عصر

[www.my-dars.ir](http://www.my-dars.ir)