

| ردیف | صفحه ۱ | بارم |
|------|---|------|
| | «مناسبترین گزینه را مشخص کنید» | |
| ۱ | جنبش مولکولی کدام یک از مواد زیر بیشتر است؟ الف) کاغذ <input type="checkbox"/> ب) ئیدروژن <input type="checkbox"/> ج) نفت <input type="checkbox"/> د) آهن <input type="checkbox"/> | ۰/۵ |
| ۲ | آهن در چه جایی زودتر به اکسید آهن تبدیل می‌شود؟ الف) در جای گرم <input type="checkbox"/> ب) در جای خشک <input type="checkbox"/> ج) در جای سرد <input type="checkbox"/> د) در جای مرطوب <input type="checkbox"/> | ۰/۵ |
| ۳ | کدام گروه از اندام‌های حسی، شبیه به هم عمل می‌کنند؟ الف) زبان و بینی <input type="checkbox"/> ب) چشم و گوش <input type="checkbox"/> ج) زبان و گوش <input type="checkbox"/> د) بینی و گوش <input type="checkbox"/> | ۰/۵ |
| ۴ | ویروس فلج اطفال به کدام دستگاه بدن می‌رود؟ الف) تنفسی <input type="checkbox"/> ب) عصبی <input type="checkbox"/> ج) ماهیچه‌ای <input type="checkbox"/> د) گوارشی <input type="checkbox"/> | ۰/۵ |
| ۵ | کدام نوع خاک، آب را بیشتر در خود نگه می‌دارد؟ الف) ماسه‌ای <input type="checkbox"/> ب) گیاه‌خاک <input type="checkbox"/> ج) رسی <input type="checkbox"/> د) شنی <input type="checkbox"/> | ۰/۵ |
| ۶ | کدام تصویر اولین مهره‌دارانی که به وجود آمدند را نشان می‌دهد؟ الف) <input type="checkbox"/>  ب) <input type="checkbox"/>  ج) <input type="checkbox"/>  د) <input type="checkbox"/>  | ۰/۵ |
| ۷ | کدام یک از موارد زیر چشمه‌ی طبیعی نور است؟ الف) ماه <input type="checkbox"/> ب) ستاره‌ی قطبی <input type="checkbox"/> ج) لامپ <input type="checkbox"/> د) آینه <input type="checkbox"/> | ۰/۵ |
| ۸ | کدام یک از ماشین‌های زیر نوعی سطح شیب‌دار است؟ الف) آرمیچر <input type="checkbox"/> ب) قرقره <input type="checkbox"/> ج) سُرُسره <input type="checkbox"/> د) ترازو <input type="checkbox"/> | ۰/۵ |

| بارم | | شماره |
|------|--|-------|
| | <p style="text-align: center;">«صحيح يا غلط بودن جملات را مشخص كنيد»</p> <p style="text-align: right;">غلط ۱</p> <p>۱ نور را با کمک کانون تجزیه می کنیم. <input type="checkbox"/></p> <p>۲ هر چه ذرات خاک درشت تر باشد، سرعت نفوذ آب در آن بیشتر است. <input type="checkbox"/></p> <p>۳ مواد مذابی که از آتشفشان خارج می شوند، خاکستر نام دارند. <input type="checkbox"/></p> <p>۴ پنی سیلین نوعی قارچ است که باکتری ها را می کشد. <input type="checkbox"/></p> | |
| ۰/۷۵ | <p style="text-align: center;">جمله های سمت راست را به کلمه های مناسب در سمت چپ وصل کنید. (یک کلمه اضافی است)</p> <p>۱ میکروب ها را در داخل بدن از بین می برد. ☀</p> <p>۲ مانند دیوار، از بدن محافظت می کند. ☀</p> <p>۳ سطح داخلی دهان و بینی با این ماده ی چسبناک پوشانده شده است. ☀</p> <p>☀ مخاط</p> <p>☀ گلبول سفید</p> <p>☀ پوست</p> <p>☀ ضد عفونی کننده</p> | |
| ۱ | <p style="text-align: center;">جاهای خالی را با کلمات مناسب پر کنید.</p> <p>۱ مولکول های مواد مانند دانه های زنجیر به هم متصل هستند.</p> <p>۲ روابط غذایی بین موجودات زنده را می گویند.</p> <p>۳ مردمک چشم در روشنایی و در تاریکی می شود.</p> | |
| ۱ | <p style="text-align: center;">«جواب سوال ها را بنویسید»</p> <p>۱ آیا دو چرخه یک ماشین پیچیده است؟ <input type="checkbox"/> بله <input type="checkbox"/> خیر</p> <p>..... دلیل:</p> | |
| ۱ | <p>۳ آیا هنگام خوردن غذا با قاشق، مزه ی قاشق را می فهمیم؟ <input type="checkbox"/> بله <input type="checkbox"/> خیر</p> <p>..... دلیل:</p> | |

سوالات امتحان درس : علوم
کلاس : پنجم

نام و نام خانوادگی :

نام واحد آموزشی :

| ردیف | بارم |
|------|------|
| ۴ | ۱ |

آیا جلبک‌ها می‌توانند غذاسازی کنند؟ بله خیر

دلیل:

صفحه ۲



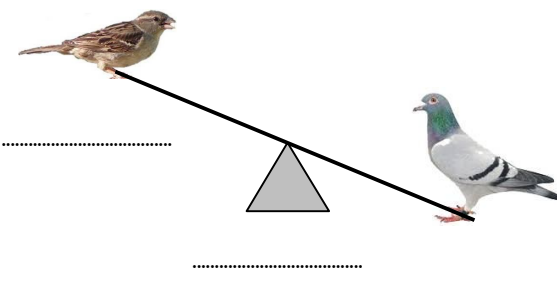
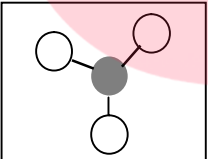

مای درس

گروه آموزشی عصر

www.my-dars.ir



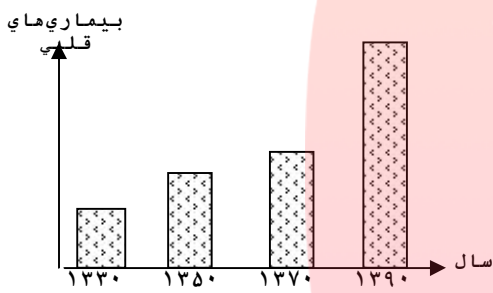
گروه آموزشی عصر
ASR_Group@outlook.com
@ASRschool2

| بارم | | شماره | | | | | | |
|-----------------|--|-----------------|----------------|----|----|----|----|---|
| ۰/۷۵ |  <p>با توجه به تصویر، نام قسمت‌های اصلی اهرم را بنویسید.</p> <p>.....</p> <p>.....</p> | ۵ | | | | | | |
| ۱/۵ | <p>رنگین کمان، چگونه تشکیل می‌شود؟</p> <p>.....</p> <p>.....</p> | ۶ | | | | | | |
| ۱ | <p>با توجه به کلمات داخل کمانک جدول را کامل کنید.</p> <p>(شکستن شیشه - سوختن چوب - بارش برف - درست شدن ماست)</p> <table border="1" data-bbox="188 869 762 1077"> <thead> <tr> <th>تغییرات شیمیایی</th> <th>تغییرات فیزیکی</th> </tr> </thead> <tbody> <tr> <td>-۱</td> <td>-۱</td> </tr> <tr> <td>-۲</td> <td>-۲</td> </tr> </tbody> </table> | تغییرات شیمیایی | تغییرات فیزیکی | -۱ | -۱ | -۲ | -۲ | ۷ |
| تغییرات شیمیایی | تغییرات فیزیکی | | | | | | | |
| -۱ | -۱ | | | | | | | |
| -۲ | -۲ | | | | | | | |
| ۰/۵ | <p>در مدل‌های مولکولی زیر عنصر و ترکیب را مشخص کنید.</p> <div style="display: flex; justify-content: space-around; align-items: center;"> <div style="text-align: center;">  <p>.....</p> </div> <div style="text-align: center;">  <p>.....</p> </div> </div> | ۸ | | | | | | |
| ۱ | <p>دو فایده‌ی باکتری‌ها را بنویسید.</p> <p>.....-۱</p> <p>.....-۲</p> | ۹ | | | | | | |
| ۰/۵ | <p>از بین مکان‌های زیر، دو مکان را که <u>نباید</u> در هنگام زلزله به آنجا برویم را مشخص کنید و بنویسید.</p> <p>نزدیک کمد کتابخانه - آشپزخانه - زیر میز محکم - داخل چارچوب در - کنار پنجره</p> <div style="display: flex; justify-content: space-around; margin-top: 20px;"> <div style="border: 1px solid black; width: 150px; height: 25px;"></div> <div style="border: 1px solid black; width: 150px; height: 25px;"></div> </div> | ۱۰ | | | | | | |
| ۱ | <p>صفحه ۳</p> <p>به چه افرادی نزدیک بین می‌گویند؟</p> <p>.....</p> | ۱۱ | | | | | | |

سوالات امتحان درس : علوم
کلاس : پنجم

نام و نام خانوادگی :

نام واحد آموزشی :

| بارم | ردیف |
|--|-------|
| ۱ | ۱۲ |
| منابع جبران شدنی به چه منابعی گفته می‌شود؟ | |
| | |
| ۱ | ۱۳ |
| از نمودار زیر چه می‌فهمید؟ بنویسید. | |
|  | |
| ۱ | ۱۴ |
| طرز تشکیل فسیل را بنویسید. | |
| | |
| ۱ | ۱۵ |
| مهدی می‌گوید در محیط زیست ما «آلودگی صوتی» وجود دارد. منظور او چیست؟ | |
| | |

www.my-dars.ir

| دانش آموز عزیز لطفاً در این قسمت چیزی بنویسید | | | |
|---|-----------------|----------------------------|------|
| نمره با عدد | نمره با حروف | نام و نام خانوادگی مصحح | امضا |
| نمره تجدیدنظر | تجدیدنظرکننده : | | |

ASR_Group@outlook.com

@ASRschool2