

باسمه تعالی






نام واحد آموزشی :

نام و نام خانوادگی :

سوالات امتحان درس : علوم

سوالات هماهنگ خردادماه

کلاس : پنجم

بارم	صفحه ۱	ردیف
۰/۵	<p>«مناسب‌ترین گزینه را مشخص کنید»</p> <p>کدام قسمت بدن جانور، امکان فسیل شدنش کم‌تر است؟</p> <p>الف) دندان <input type="checkbox"/> ب) استخوان <input type="checkbox"/> ج) گوشت <input type="checkbox"/> د) صدف <input type="checkbox"/></p>	۱
۰/۵	<p>در کدام اهرم، جای تکیه‌گاه با بقیه متفاوت است؟</p> <p>الف)  <input type="checkbox"/> ب)  <input type="checkbox"/> ج)  <input type="checkbox"/> د)  <input type="checkbox"/></p>	۲
۰/۵	<p>کدام مورد شباهت ذره‌بین و کوره‌ی آفتابی است؟</p> <p>الف) بازتابش نور <input type="checkbox"/> ب) شکست نور <input type="checkbox"/> ج) طرز ساخت <input type="checkbox"/> د) تشکیل کانون <input type="checkbox"/></p>	۳
۰/۵	<p>صالح در گردش علمی، خاک قرمز رنگی را مشاهده کرد. به نظر شما رنگ خاک به علت ترکیب اکسیژن با کدام ماده است؟</p> <p>الف) آهن <input type="checkbox"/> ب) اکسیژن <input type="checkbox"/> ج) نئودرون <input type="checkbox"/> د) نمک <input type="checkbox"/></p>	۴
۰/۵	<p>قارچ‌ها عامل کدام مورد زیر نمی‌باشند؟</p> <p>الف) انگل گندم <input type="checkbox"/> ب) بیماری پوستی <input type="checkbox"/> ج) تجزیه‌ی گیاهان مرده <input type="checkbox"/> د) سرماخوردگی <input type="checkbox"/></p>	۵
۰/۵	<p>تصویر روبرو روش تولید مثل کدام جاندار را نشان می‌دهد؟</p> <p>الف) باکتری <input type="checkbox"/> ب) مخمر <input type="checkbox"/> ج) ویروس <input type="checkbox"/> د) جلبک <input type="checkbox"/></p> <p></p>	۶
۰/۵	<p>کار مبارزه با میکروب‌ها در همه جای داخل بدن وظیفه‌ی اصلی کدام مورد است؟</p> <p>الف) اسید معده <input type="checkbox"/> ب) گلبول سفید <input type="checkbox"/> ج) مخاط <input type="checkbox"/> د) بزاق دهان <input type="checkbox"/></p>	۷
۰/۵	<p>سنگ‌های نرم و خمیری در کدام قسمت زمین یافت می‌شوند؟</p> <p>الف) پوسته <input type="checkbox"/> ب) قسمت بیرونی هسته <input type="checkbox"/> ج) گوشته <input type="checkbox"/> د) قسمت درونی هسته <input type="checkbox"/></p>	۸
غلط	<p>«صحیح یا غلط بودن جملات را مشخص کنید»</p> <p>۱</p> <p>یکی از شرایط دیدن جسم این است که نور بازتابش شده از آن به چشم ما برسد.</p> <p>هر چه ذرات خاک ریزتر باشد، سرعت نفوذ آب در آن بیشتر است.</p> <p>مواد مذابی که از آتشفشان خارج می‌شوند، مخروط آتش‌فشان را به وجود می‌آورند.</p>	۱ ۲ ۳

۴ پنی سیلین نوعی جلبک است که باکتری‌ها را می‌کشد.

صفحه ۱



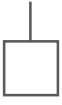
مای درس

گروه آموزشی عصر

www.my-dars.ir



بارم	ردیف
۰/۷۵	<p>جمله های سمت راست را به کلمه های مناسب در سمت چپ وصل کنید. (یک کلمه اضافی است)</p> <p>۱ ماده ای که میکروب ها را در بیرون از بدن می کشد. ☼ مخاط</p> <p>۲ گلبول های سفید را به پادتن سازی وادار می کند. ☼ گلبول قرمز</p> <p>۳ سطح داخلی دهان و بینی با این ماده ی چسبناک پوشانده شده است. ☼ واکسن</p> <p>☼ ضد عفونی کننده</p>
۰/۷۵	<p>جاهای خالی را با کلمات مناسب پر کنید.</p> <p>۱ به مجموعه ی چند زنجیره ی غذایی که با یکدیگر مرتبط هستند، می گویند.</p> <p>۲ قسمت های اصلی دستگاه عصبی و می باشد.</p>
۱	<p>«جواب سوال ها را بنویسید»</p> <p>۱ برای اینکه ماشین اسباب بازی شما راحت تر به بالای بلندی برسد، کدام مسیر را انتخاب می کنید؟ (الف) <input type="checkbox"/> (ب) <input type="checkbox"/></p> <p>دلیل:</p> 
۱	<p>۲ آیا برای انجام دادن همه ی کارها می توانیم از نیروی ماهیچه استفاده کنیم؟ <input type="checkbox"/> بله <input type="checkbox"/> خیر</p> <p>دلیل:</p>
۱	<p>۳ آیا هنگام خوردن سالاد با چنگال، مزه ی چنگال را می فهمیم؟ <input type="checkbox"/> بله <input type="checkbox"/> خیر</p> <p>دلیل:</p> <p>www.my-dars.ir</p>
۱	<p>۴ آیا قارچ ها می توانند غذاسازی کنند؟ <input type="checkbox"/> بله <input type="checkbox"/> خیر</p> <p>دلیل:</p>
۰/۷۵	<p>۵ تصاویر جانداران زیر را به ترتیب پیدایش در کره ی زمین شماره گذاری کنید.</p> 



صفحه ۲



مای درس

گروه آموزشی عصر

www.my-dars.ir







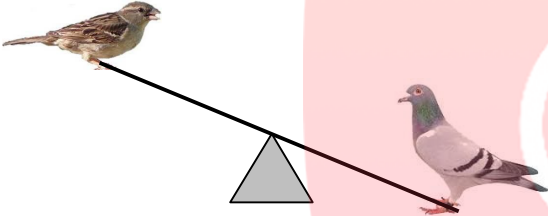
نام واحد آموزشی :



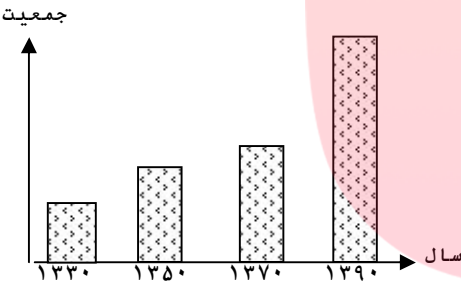

نام و نام خانوادگی :

سوالات امتحان درس : علوم

کلاس : پنجم

سوالات هماهنگ خردادماه

بارم	ردیف						
۰/۷۵	۶						
 <input type="checkbox"/>	<p>به گونه‌ای شماره‌گذاری کنید که یک زنجیره‌ی غذایی مرتب شود.</p>  <input type="checkbox"/>	 <input type="checkbox"/>	 <input type="checkbox"/>				
۱	۷						
	<p>کبوتر و گنجشک را راهنمایی کنید تا الاکلنگ بازی کنند؟</p> <p>.....</p>						
۰/۵	۸						
<p>.....</p>	<p>در تشکیل رنگین کمان، چه چیزی مثل منشور عمل می‌کند؟</p> <p>.....</p>						
۱	۹						
<table border="1"> <thead> <tr> <th>تغییرات شیمیایی</th> <th>تغییرات فیزیکی</th> </tr> </thead> <tbody> <tr> <td>۱-</td> <td>۱-</td> </tr> <tr> <td>۲-</td> <td>۲-</td> </tr> </tbody> </table>	تغییرات شیمیایی	تغییرات فیزیکی	۱-	۱-	۲-	۲-	<p>با توجه به کلمات داخل کمانک جدول را کامل کنید. (تبخیر آب، پختن غذا، پاره کردن کاغذ، کپک زدن نان)</p>
تغییرات شیمیایی	تغییرات فیزیکی						
۱-	۱-						
۲-	۲-						
۰/۵	۱۰						
<p>.....</p>	<p>با دو نوع اتم \bigcirc و \bullet مدل مولکولی مربوط به عنصر و ترکیب را رسم کنید.</p> <p>عنصر <input type="text"/></p> <p>ترکیب <input type="text"/></p>						
۱	۱۱						
<p>.....</p>	<p>دو فایده‌ی جلبک‌ها را بنویسید.</p> <p>۱-</p> <p>۲-</p>						
۰/۵	۱۲						
<p>.....</p>	<p>از بین مکان‌های نوشته شده، جاهای امن (محل‌هایی که می‌توانیم به آنجا برویم) را در هنگام زلزله مشخص کنید و در جدول بنویسید.</p> <p>نزدیک کمد کتابخانه - آشپزخانه - زیر میز محکم - داخل چارچوب در - کنار پنجره</p> <p><input type="text"/> <input type="text"/></p>						

بارم		شماره
۱	<p style="text-align: right;">جاهای امن:</p> <p>برای هر کدام (چشم و گوش) دو راه مراقبت بنویسید.</p> <p>صفحه ۳</p> <div style="display: flex; justify-content: space-around;"> <div style="text-align: center;">  </div> <div style="text-align: center;">  </div> </div>	۱۳
۰/۵	<p>یکی از کارهای پوست را بنویسید.</p>	۱۴
۰/۵	<p>در چه صورتی گیاهان و جانوران، منابع جبران شدنی محسوب می‌شوند؟</p>	۱۵
۰/۵	<p>نمودار روبرو را تفسیر کنید.</p> 	۱۶
۰/۵	<p>زهر می‌خواهد با توجه به شکل اطلاعاتی درباره‌ی گذشته‌ی این مناطق به دست آورد. با نوشتن یک جمله یا طرح یک سوال در جمع‌آوری اطلاعات به او کمک کنید.</p> 	۱۷
۰/۵	<p>مهدی می‌گوید در محیط زیست ما «آلودگی صوتی» وجود دارد به نظر شما چه عواملی ممکن است باعث آلودگی صوتی شده باشد؟ (دو مورد)</p>	۱۸

نام واحد آموزشی :

نام و نام خانوادگی :

سوالات امتحان درس : علوم

کلاس : پنجم

سوالات هماهنگ خردادماه

بارم

ردیف

دانش آموز عزیز لطفاً در این قسمت چیزی ننویسید			
امضا	نام و نام خانوادگی مصحح	نمره با حروف	نمره با عدد
نام وامضای تجدیدنظرکننده :		نمره تجدیدنظر	

صفحه ۴

مای درس

گروه آموزشی عصر

www.my-dars.ir

