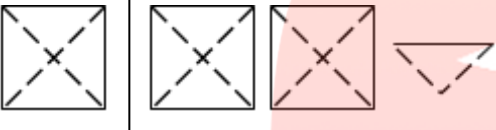

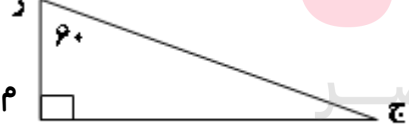


این آزمون مشتمل بر ۱۵ سؤال و در ۲ صفحه می‌باشد.	ردیف
شرح سئوالات	
<p>۱- عدد ۷۷۹۰۴۵۶ را با حروف بنویسید. رقم دهگان هزار در این عدد ، کدام عدد است؟</p>	-۱
<p>۲- با توجه به واحد سمت چپ، برای شکل یک عدد مخلوط و یک کسر بزرگ‌تر از واحد بنویسید.  عدد مخلوط = کسر بزرگ‌تر از واحد =</p>	-۲
<p>۳- کدام یک از شکل‌های زیر خط تقارن ندارد؟ <input type="checkbox"/> مربع <input type="checkbox"/> مستطیل <input type="checkbox"/> متوازی‌الاضلاع <input type="checkbox"/> لوزی</p>	-۳
<p>۴- دو پنجم ۱۰ تا برابر است با تا. (روی شکل نشان دهید). </p>	-۴
<p>۵- واحد اندازه‌گیری زاویه نام دارد که اندازه‌ی آن زاویه‌ی قائمه است.</p>	-۵
<p>۶- کسرهای زیر تا جایی که امکان دارد ساده کنید. $\frac{۲۵}{۱۰۰} =$ $\frac{۹۶}{۱۶} =$ $\frac{۲۴}{۴۲} =$</p>	-۶
<p>۷- با توجه به شکل ، اندازه‌ی زاویه‌ی ج را حساب کنید. (با راه حل) </p>	-۷
<p>۸- در جای خالی علامت < = > بگذارید. $\frac{۲}{۰۶} \square \frac{۲}{۶}$ $۱ \square \frac{۳}{۴}$ $\frac{۱}{۵} \square ۰/۲$ $\frac{۶}{۱۰} \square \frac{۳}{۵}$</p>	-۸
« ادامه ی سئوالات در صفحه ی دوم »	

این آزمون مشتمل بر ۱۵ سؤال و در ۲ صفحه می باشد.	ردیف
شرح سئوالات	
<p>کسر مساوی با هر یک از عددهای اعشاری زیر را بنویسید.</p> $\frac{5}{6} =$ $\frac{4}{275} =$ $\frac{0}{23} =$	-۹
<p>در هر یک از عبارت های زیر در جای خالی عدد مناسب بنویسید. یکان اعدادی که هم بر ۲ و هم بر ۵ بخش پذیرند است. ۵۰۰۵ کیلوگرم ، یعنی گرم. ۸۰ سانتیمتر ، یعنی متر.</p>	-۱۰
<p>حجم منبع آبی که طول و عرض و ارتفاع آن به ترتیب ۵ ، ۴ و ۳ متر است چند متر مکعب است؟</p>	-۱۱
<p>نسبت وزن مریم به مادرش مثل ۲ به ۷ است. اگر هر دو روی هم ۶۳ کیلوگرم وزن داشته باشند ، وزن هر یک چند کیلوگرم است؟</p>	-۱۲
<p>عملیات زیر را انجام دهید.</p> $7 - \frac{2}{15} =$ $\frac{7}{25} \times \frac{3}{2} =$ $\frac{16}{7} \div \frac{8}{7} =$ $\frac{6}{8} - \frac{8}{3} =$	-۱۳
<p>مساحت شکل زیر را حساب کنید.</p>  <p style="text-align: center;">www.my-dars.ir</p>	-۱۴
<p>کتابی ۵۰ صفحه دارد. علی ۲۰ صفحه از آن را خوانده است. حساب کنید علی چند درصد کتابش را خوانده است؟</p>	-۱۵
<p style="text-align: center;"> <input type="checkbox"/> خیلی خوب <input type="checkbox"/> خوب <input type="checkbox"/> قابل قبول <input type="checkbox"/> نیاز به تلاش بیشتر </p> <p style="text-align: right;">تاریخ و امضاء</p>	