

کاربرگ ریاضیات - پایه ی ششم ابتدایی

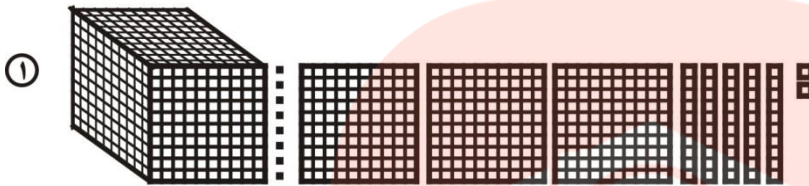


کلاس : ششم

نام و نام خانوادگی :


نمایش اعشاری عددها

۱- با توجه به واحد (عدد یک) معرفی شده، عددی را که هر شکل نشان می دهد به صورت کسری و اعشاری نشان دهید.



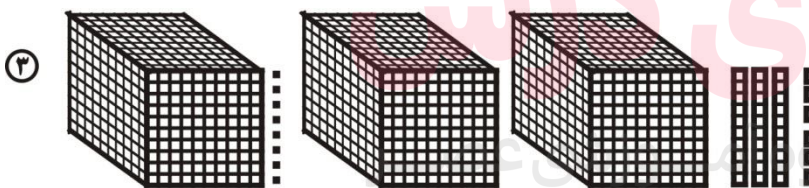
کسری :

اعشاری :




کسری :

اعشاری :



کسری :


اعشاری :



کسری :

اعشاری :


۵



کسری :

اعشاری :

۶



کسری :

اعشاری :

۲- عددهای اعشاری زیر را به صورت گسترده بنویسید.

- $5/0.68 =$
- $3/14 =$
- $2/256 =$
- $6/7 =$

۳- عددهای اعشاری را به صورت کسر بنویسید و تا جایی که ممکن است ساده کنید.

- $0/2 =$
- $0/75 =$
- $12/50 =$
- $2/35 =$
- $0/25 =$
- $0/5 =$
- $4/1 =$
- $12/10 =$

مای درس

گروه آموزشی عصر

www.my-dars.ir

پیروز و سربلند باشید - شهریار

نظریه ی ولی دانش آموز :

